



# おうちで、やろう。

Study at home. 小学校受験の家庭学習教材

## 言語：音の理解 33

太い四角の中の絵の真ん中の音を使ってできるものを、右の四角の中から見つけて○をつけます。


※1. このプリントは、しながわ・目黒こどもスクールのウェブサイトからダウンロードできます。無断複写・引用はご遠慮ください。

※2. このプリントを活用したオンライン授業のスケジュールは、しながわ・目黒こどもスクールのウェブサイトでご確認ください。



# おうちで、やろう。

Study at home. 小学校受験の家庭学習教材

言語：音の数 40

太線の四角の中にある物の音の数と同じ数を見つけ、絵の横に描かれているマークと同じマークで印をつけましょう。

※1. このプリントは、しながわ・目黒こどもスクールのウェブサイトでダウンロードができます。無断複写・引用はご遠慮ください。  
 ※2. このプリントを活用したオンライン授業のスケジュールは、しながわ・目黒こどもスクールのウェブサイトでご確認ください。










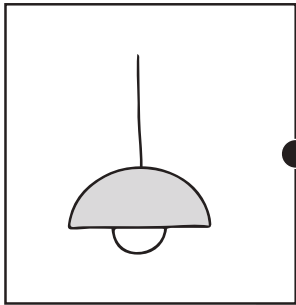


# おうちで、やろう。

Study at home. 小学校受験の家庭学習教材

常識：生活 13

左と右の絵で関係のある絵を線で結びます。



※1. このプリントは、しながわ・目黒こどもスクールのウェブサイトでダウンロードができます。無断複写・引用はご遠慮ください。  
※2. このプリントを活用したオンライン授業のスケジュールは、しながわ・目黒こどもスクールのウェブサイトでご確認ください。





# おうちで、やろう。

Study at home. 小学校受験の家庭学習教材

## 推理：系列完成 26

上の約束どおりに左上の太い四角から順番に右下の太い四角まで進み、進んだ道に線をかきます。  
進む道は縦と横には進めますが、斜めに進むことはできません。また、同じ道を通ることもできません。

○ → △ → □

○	△	○	△	□	○	△	□	○	○	△	△
△	△	○	△	□	△	○	□	△	△	□	○
□	○	△	□	○	△	□	△	□	□	○	△
□	○	△	△	□	○	△	□	○	△	○	□

⬡ → □ → ⊙

⬡	□	☆	⊙	⊙	□	⬡	□	☆	⊙	□	□
□	⊙	☆	⬡	□	⊙	□	⬡	☆	⬡	⊙	☆
⊙	⬡	□	⊙	□	⬡	□	⊙	⬡	□	⊙	⊙
□	☆	□	⊙	⬡	⬡	□	⊙	⬡	☆	⬡	□

○ → ⊙ → ☆

○	⊙	☆	⊙	△	□	☆	□	□	△	□	△
⊙	○	○	⊙	☆	○	⊙	☆	△	☆	□	○
△	☆	☆	⊙	☆	△	△	○	⊙	○	△	⊙
□	⊙	○	⊙	△	□	☆	□	☆	○	⊙	☆

※1. このプリントは、しながわ・目黒こどもスクールのウェブサイトでダウンロードができます。無断複写・引用はご遠慮ください。  
※2. このプリントを活用したオンライン授業のスケジュールは、しながわ・目黒こどもスクールのウェブサイトでご確認ください。



# おうちで、やろう。

Study at home. 小学校受験の家庭学習教材

## 推理：系列完成 27

上の約束どおりに左上の太い四角から順番に右下の太い四角まで進み、進んだ道に線をかきます。  
進む道は縦と横には進めますが、斜めに進むことはできません。また、同じ道を通ることもできません。

○ → △ → □ → ☆

○	□	□	△	□	○	△	☆	○	○	△	△
△	△	△	☆	□	☆	○	□	△	△	□	○
□	☆	○	△	○	△	□	☆	□	□	○	△
□	△	○	□	☆	△	□	○	△	□	☆	○

⬡ → ⊙ → ☆ → □

⬡	⊙	☆	⊙	⊙	☆	⬡	□	☆	⊙	□	□
⊙	⊙	□	⬡	⬡	⬡	⊙	☆	⬡	⬡	⊙	☆
⊙	⬡	□	⊙	☆	□	□	□	⬡	⊙	⊙	⊙
□	☆	□	⊙	⬡	⬡	□	⊙	⬡	☆	□	⬡

○ → ⊙ → ☆ → △ → □

○	⊙	☆	△	□	○	□	□	□	△	□	○
⊙	○	○	⊙	☆	⊙	☆	☆	⊙	☆	□	⊙
△	☆	☆	⊙	☆	△	△	□	○	△	△	☆
□	⊙	○	⊙	△	□	☆	□	☆	○	⊙	△

※1. このプリントは、しながわ・目黒こどもスクールのウェブサイトでダウンロードができます。無断複写・引用はご遠慮ください。  
※2. このプリントを活用したオンライン授業のスケジュールは、しながわ・目黒こどもスクールのウェブサイトでご確認ください。













# おうちで、やろう。

Study at home. 小学校受験の家庭学習教材

数量：加減 39

2つの四角の中に灰色のマスの数の違いはいくつですか。  
違う数だけ右の四角に○をかきます。



※1. このプリントは、しながわ・目黒こどもスクールのウェブサイトからダウンロードできます。無断複写・引用はご遠慮ください。  
 ※2. このプリントを活用したオンライン授業のスケジュールは、しながわ・目黒こどもスクールのウェブサイトでご確認ください。













# おうちで、やろう。

Study at home. 小学校受験の家庭学習教材

数量：加減 40

2つの四角の中の灰色のマス目の数の違いはいくつですか。  
違いの数だけ右の四角に○をかきます。



※1. このプリントは、しながわ・目黒こどもスクールのウェブサイトでダウンロードができます。無断複写・引用はご遠慮ください。  
※2. このプリントを活用したオンライン授業のスケジュールは、しながわ・目黒こどもスクールのウェブサイトでご確認ください。



# おうちで、やろう。

Study at home. 小学校受験の家庭学習教材

数量：計数3

太い四角がお手本です。お手本より数が2つ多い四角には○を、数が同じ四角には△をつけます。


※1. このプリントは、しながわ・目黒こどもスクールのウェブサイトからダウンロードできます。無断複写・引用はご遠慮ください。

※2. このプリントを活用したオンライン授業のスケジュールは、しながわ・目黒こどもスクールのウェブサイトでご確認ください。





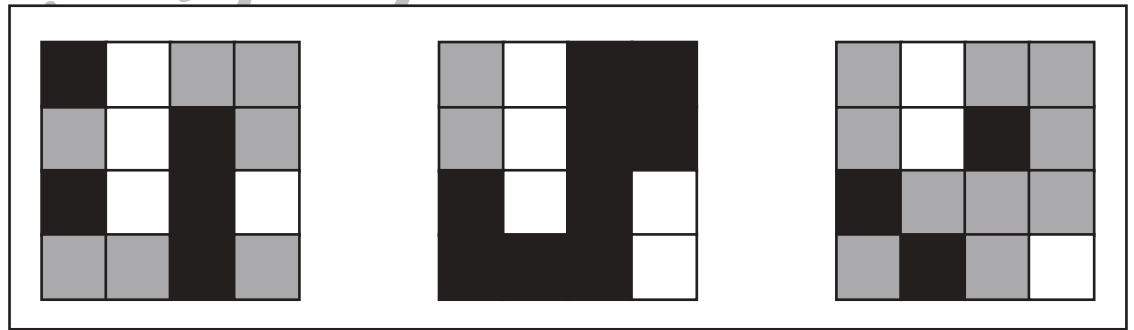

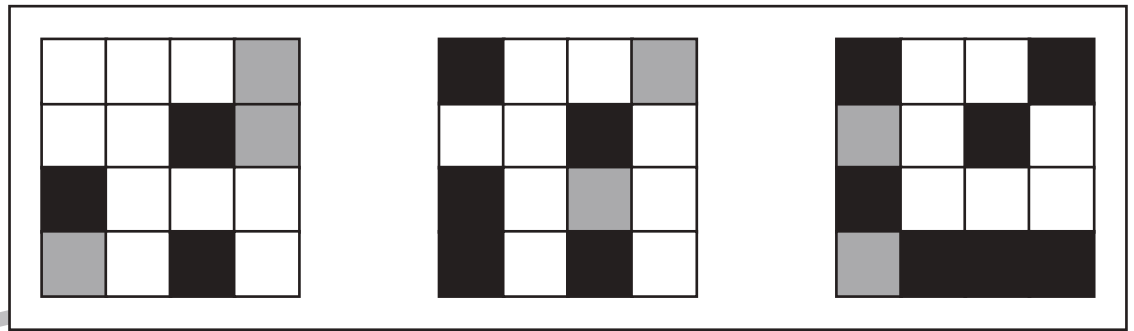

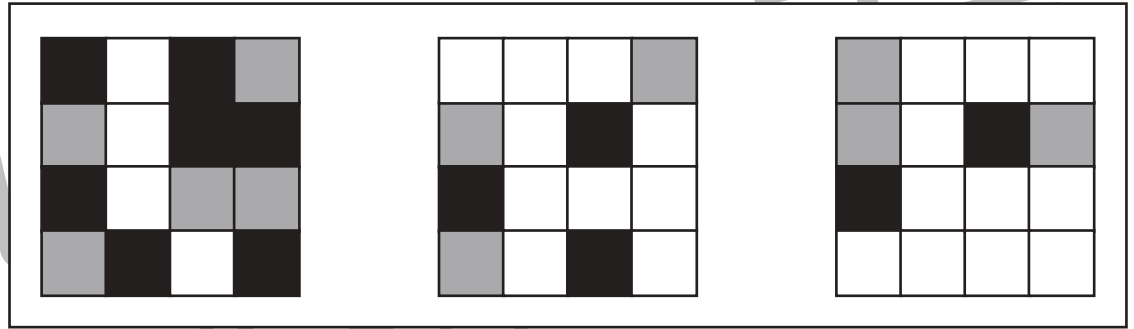



# おうちで、やろう。

Study at home. 小学校受験の家庭学習教材

推理：広さ 12

左の四角の中の黒の数より多い右の四角の中の図形に○をつけます。



※1. このプリントは、しながわ・目黒こどもスクールのウェブサイトでダウンロードができます。無断複写・引用はご遠慮ください。  
※2. このプリントを活用したオンライン授業のスケジュールは、しながわ・目黒こどもスクールのウェブサイトでご確認ください。


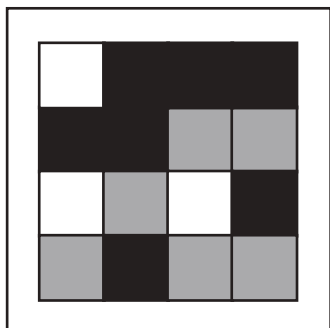




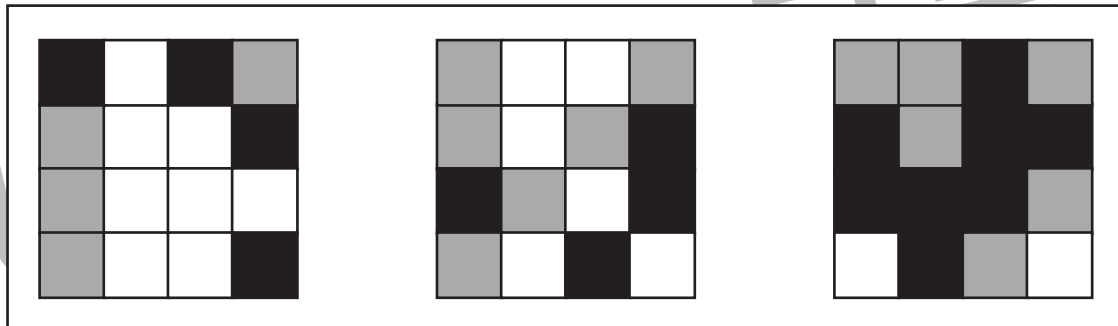



# おうちで、よろう。

Study at home. 小学校受験の家庭学習教材

推理：広さ 13

左の図形の中の黒と灰色の四角の数より黒と灰色の四角の数が多い図形を右から選び○をつけます。



※1. このプリントは、しながわ・目黒こどもスクールのウェブサイトでダウンロードができます。無断複写・引用はご遠慮ください。  
※2. このプリントを活用したオンライン授業のスケジュールは、しながわ・目黒こどもスクールのウェブサイトでご確認ください。

