



おうちで、やろう。

Study at home. 小学校受験の家庭学習教材


指示の聞き取り 32


下の太い四角が約束です。レモンと言ったら3マス、パイナップルと言ったら5マス、イチゴと言ったら2マス進めます。この約束で☆から進み、①～③の問題に答えましょう。


①レモン、パイナップル、レモン、イチゴ、ついた場所に○をつけます。


②パイナップル、レモン、イチゴ、イチゴ、パイナップル、イチゴ、ついた場所に×をつけます。

③イチゴ、パイナップル、パイナップル、イチゴ、レモン、イチゴ、パイナップル、ついた場所に◎をつけます。

	→	→	→
---	---	---	---

	→	→	→	→	→
---	---	---	---	---	---

	→	→
---	---	---

※1. このプリントは、しながわ・目黒こどもスクールのウェブサイトでダウンロードができます。無断複写・引用はご遠慮ください。
 ※2. このプリントを活用したオンライン授業のスケジュールは、しながわ・目黒こどもスクールのウェブサイトでご確認ください。



おうちで、やろう。

Study at home. 小学校受験の家庭学習教材

数量：加減 42

別紙『数量：加減 42（問題文）』を使用し組みます。



※1. このプリントは、しながわ・目黒こどもスクールのウェブサイトからダウンロードできます。無断複写・引用はご遠慮ください。
※2. このプリントを活用したオンライン授業のスケジュールは、しながわ・目黒こどもスクールのウェブサイトでご確認ください。



おうちで、やろう。

Study at home. 小学校受験の家庭学習教材

数量：加減 43

別紙『数量：加減 43（問題文）』を使用し組みます。



※1. このプリントは、しながわ・目黒こどもスクールのウェブサイトからダウンロードできます。無断複写・引用はご遠慮ください。
※2. このプリントを活用したオンライン授業のスケジュールは、しながわ・目黒こどもスクールのウェブサイトでご確認ください。


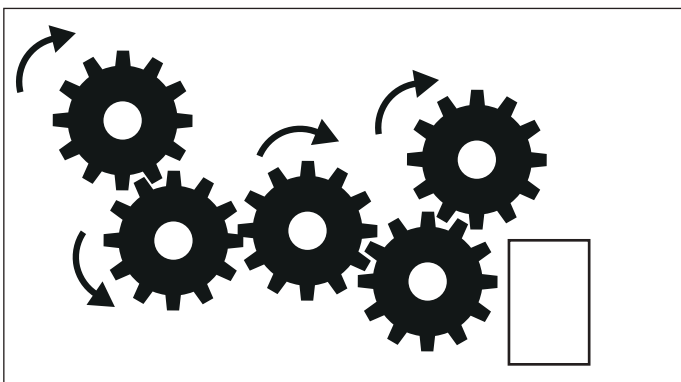
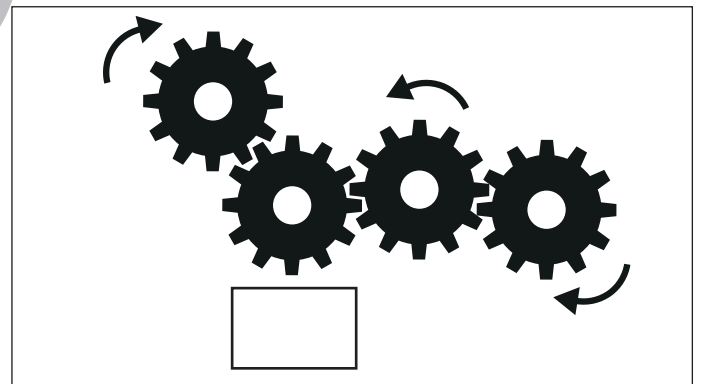
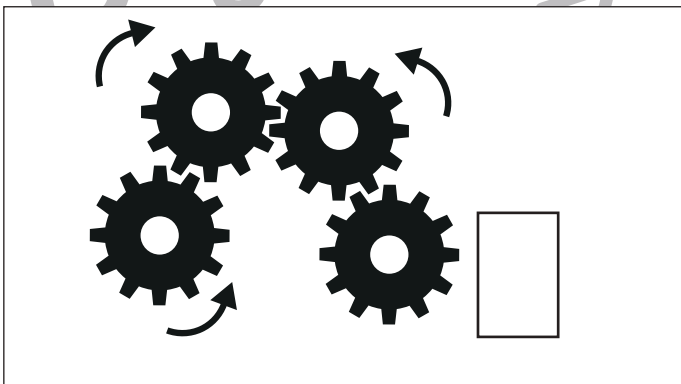

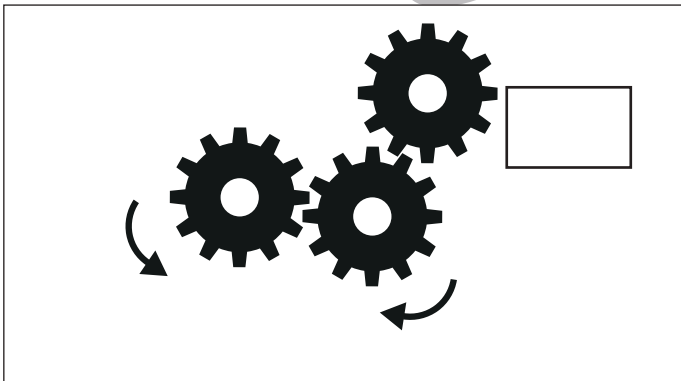
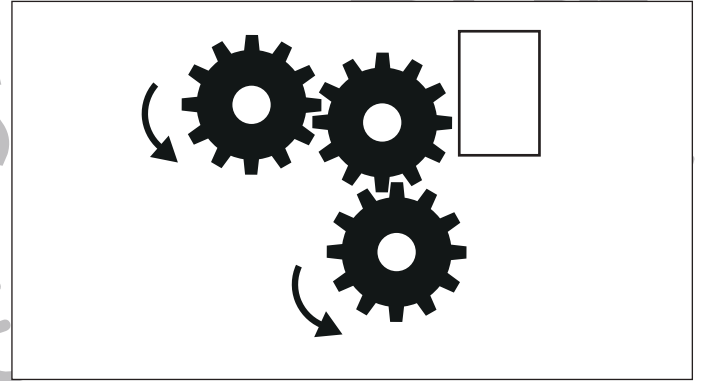
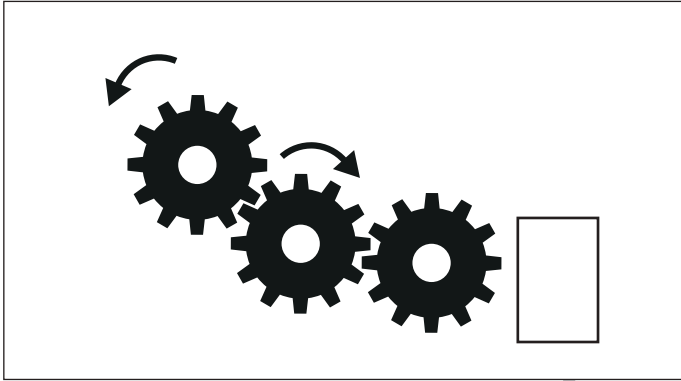


おうちで、やろう。

Study at home. 小学校受験の家庭学習教材

推理：歯車 8

歯車がいくつか並んでいます。その中の1つが矢印の方向に進んだ時、四角の近くにある歯車は右回り、左回りどちらに動きますか。動く向きに矢印をかきます。



※1. このプリントは、しながわ・目黒こどもスクールのウェブサイトからダウンロードできます。無断複写・引用はご遠慮ください。

※2. このプリントを活用したオンライン授業のスケジュールは、しながわ・目黒こどもスクールのウェブサイトでご確認ください。



おうちで、やろう。

Study at home. 小学校受験の家庭学習教材

数量：余る数 11

左の四角の中の人で真ん中の四角の中の果物を同じ数だけ分けます。余った果物の数だけを右の四角に○を描きます。

※1. このプリントは、しながわ・目黒こどもスクールのウェブサイトからダウンロードできます。無断複写・引用はご遠慮ください。

※2. このプリントを活用したオンライン授業のスケジュールは、しながわ・目黒こどもスクールのウェブサイトでご確認ください。












おうちで、やろう。

Study at home. 小学校受験の家庭学習教材

数量：置き換え 20

上の四角がお約束です。このお約束で左の四角の中の動物を○にかえると合わせていくつになりますか。その数だけ右の四角に○を描きます。

 → ○ ○ ○ ○ ○ ○	 → ○ ○ ○ ○ ○
 → ○ ○ ○	 → ○ ○
 → ○	



※1. このプリントは、しながわ・目黒こどもスクールのウェブサイトでダウンロードができます。無断複写・引用はご遠慮ください。
※2. このプリントを活用したオンライン授業のスケジュールは、しながわ・目黒こどもスクールのウェブサイトでご確認ください。

















おうちで、やろう。

Study at home. 小学校受験の家庭学習教材

数量：置き換え 21

上の四角がお約束です。このお約束で動物を○にかえて左の四角の○を12にしますが1匹足りません。右の四角の中から12になるための動物を1つ見つけて○をつけます。

 → ○ ○	 → ○ ○ ○ ○ ○
 → ○ ○ ○ ○	 → ○ ○ ○
 → ○ ○	 → ○ ○ ○ ○
 → ○ ○ ○	 → ○



※1. このプリントは、しながわ・目黒こどもスクールのウェブサイトでダウンロードができます。無断複写・引用はご遠慮ください。

※2. このプリントを活用したオンライン授業のスケジュールは、しながわ・目黒こどもスクールのウェブサイトでご確認ください。



おうちで、やろう。

Study at home. 小学校受験の家庭学習教材

数量：分割 21

一番左の箱の中に入っているみかんを点線でつながれているマスに分けていきます。このとき、太いマスに分けるみかんはいくつですか。その数だけマスの中に○をかきます。

	<table border="1" style="width: 100%; border-collapse: collapse;"> <tr><td> </td><td> </td><td> </td><td> </td></tr> <tr><td> </td><td> </td><td> </td><td> </td></tr> </table>									<table border="1" style="width: 100%; border-collapse: collapse;"> <tr><td> </td><td> </td><td> </td></tr> <tr><td> </td><td> </td><td> </td></tr> </table>						
	<table border="1" style="width: 100%; border-collapse: collapse;"> <tr><td>○</td><td>○</td><td>○</td><td>○</td></tr> <tr><td>○</td><td>○</td><td> </td><td> </td></tr> </table>	○	○	○	○	○	○			<table border="1" style="width: 100%; border-collapse: collapse;"> <tr><td>○</td><td>○</td><td>○</td></tr> <tr><td> </td><td> </td><td> </td></tr> </table>	○	○	○			
○	○	○	○													
○	○															
○	○	○														
	<table border="1" style="width: 100%; border-collapse: collapse;"> <tr><td>○</td><td>○</td><td>○</td><td>○</td></tr> <tr><td>○</td><td>○</td><td> </td><td> </td></tr> </table>	○	○	○	○	○	○			<table border="1" style="width: 100%; border-collapse: collapse;"> <tr><td> </td><td> </td><td> </td></tr> <tr><td> </td><td> </td><td> </td></tr> </table>						
○	○	○	○													
○	○															

	<table border="1" style="width: 100%; border-collapse: collapse;"> <tr><td> </td><td> </td><td> </td><td> </td></tr> <tr><td> </td><td> </td><td> </td><td> </td></tr> </table>									<table border="1" style="width: 100%; border-collapse: collapse;"> <tr><td> </td><td> </td><td> </td></tr> <tr><td> </td><td> </td><td> </td></tr> </table>						
	<table border="1" style="width: 100%; border-collapse: collapse;"> <tr><td>○</td><td>○</td><td>○</td><td>○</td></tr> <tr><td>○</td><td>○</td><td> </td><td> </td></tr> </table>	○	○	○	○	○	○			<table border="1" style="width: 100%; border-collapse: collapse;"> <tr><td>○</td><td>○</td><td>○</td></tr> <tr><td>○</td><td> </td><td> </td></tr> </table>	○	○	○	○		
○	○	○	○													
○	○															
○	○	○														
○																
	<table border="1" style="width: 100%; border-collapse: collapse;"> <tr><td>○</td><td>○</td><td>○</td><td>○</td></tr> <tr><td> </td><td> </td><td> </td><td> </td></tr> </table>	○	○	○	○					<table border="1" style="width: 100%; border-collapse: collapse;"> <tr><td>○</td><td>○</td><td>○</td></tr> <tr><td> </td><td> </td><td> </td></tr> </table>	○	○	○			
○	○	○	○													
○	○	○														

	<table border="1" style="width: 100%; border-collapse: collapse;"> <tr><td> </td><td> </td><td> </td><td> </td></tr> <tr><td> </td><td> </td><td> </td><td> </td></tr> </table>									<table border="1" style="width: 100%; border-collapse: collapse;"> <tr><td> </td><td> </td><td> </td></tr> <tr><td> </td><td> </td><td> </td></tr> </table>						
	<table border="1" style="width: 100%; border-collapse: collapse;"> <tr><td>○</td><td>○</td><td>○</td><td>○</td></tr> <tr><td>○</td><td>○</td><td> </td><td> </td></tr> </table>	○	○	○	○	○	○			<table border="1" style="width: 100%; border-collapse: collapse;"> <tr><td>○</td><td> </td><td> </td></tr> <tr><td> </td><td> </td><td> </td></tr> </table>	○					
○	○	○	○													
○	○															
○																
	<table border="1" style="width: 100%; border-collapse: collapse;"> <tr><td>○</td><td>○</td><td>○</td><td>○</td></tr> <tr><td>○</td><td>○</td><td> </td><td> </td></tr> </table>	○	○	○	○	○	○			<table border="1" style="width: 100%; border-collapse: collapse;"> <tr><td>○</td><td>○</td><td>○</td></tr> <tr><td> </td><td> </td><td> </td></tr> </table>	○	○	○			
○	○	○	○													
○	○															
○	○	○														

※ 1. このプリントは、しながわ・目黒こどもスクールのウェブサイトでダウンロードができます。無断複写・引用はご遠慮ください。
 ※ 2. このプリントを活用したオンライン授業のスケジュールは、しながわ・目黒こどもスクールのウェブサイトでご確認ください。



おうちで、やろう。

Study at home. 小学校受験の家庭学習教材

数量：分割 22

一番左の箱の中に入っているみかんとりんごを点線でつながれているマスに分けていきます。このとき、太いマスに分けるみかんとりんごはいくつですか。その数だけマスの中にみかんは○、りんごは×をかきます。

	<table border="1" style="width: 100%; height: 100%; border-collapse: collapse;"> <tr><td style="width: 25%; height: 25%;"></td><td style="width: 25%; height: 25%;"></td><td style="width: 25%; height: 25%;"></td><td style="width: 25%; height: 25%;"></td></tr> <tr><td style="width: 25%; height: 25%;"></td><td style="width: 25%; height: 25%;"></td><td style="width: 25%; height: 25%;"></td><td style="width: 25%; height: 25%;"></td></tr> </table>									<table border="1" style="width: 100%; height: 100%; border-collapse: collapse;"> <tr><td style="width: 33%; height: 33%;"></td><td style="width: 33%; height: 33%;"></td><td style="width: 33%; height: 33%;"></td></tr> <tr><td style="width: 33%; height: 33%;"></td><td style="width: 33%; height: 33%;"></td><td style="width: 33%; height: 33%;"></td></tr> <tr><td style="width: 33%; height: 33%;"></td><td style="width: 33%; height: 33%;"></td><td style="width: 33%; height: 33%;"></td></tr> <tr><td style="width: 33%; height: 33%;"></td><td style="width: 33%; height: 33%;"></td><td style="width: 33%; height: 33%;"></td></tr> </table>												

	<table border="1" style="width: 100%; height: 100%; border-collapse: collapse;"> <tr><td style="width: 25%; height: 25%;"></td><td style="width: 25%; height: 25%;"></td><td style="width: 25%; height: 25%;"></td><td style="width: 25%; height: 25%;"></td></tr> <tr><td style="width: 25%; height: 25%;"></td><td style="width: 25%; height: 25%;"></td><td style="width: 25%; height: 25%;"></td><td style="width: 25%; height: 25%;"></td></tr> </table>									<table border="1" style="width: 100%; height: 100%; border-collapse: collapse;"> <tr><td style="width: 33%; height: 33%;"></td><td style="width: 33%; height: 33%;"></td><td style="width: 33%; height: 33%;"></td></tr> <tr><td style="width: 33%; height: 33%;"></td><td style="width: 33%; height: 33%;"></td><td style="width: 33%; height: 33%;"></td></tr> <tr><td style="width: 33%; height: 33%;"></td><td style="width: 33%; height: 33%;"></td><td style="width: 33%; height: 33%;"></td></tr> <tr><td style="width: 33%; height: 33%;"></td><td style="width: 33%; height: 33%;"></td><td style="width: 33%; height: 33%;"></td></tr> </table>												

	<table border="1" style="width: 100%; height: 100%; border-collapse: collapse;"> <tr><td style="width: 25%; height: 25%;"></td><td style="width: 25%; height: 25%;"></td><td style="width: 25%; height: 25%;"></td><td style="width: 25%; height: 25%;"></td></tr> <tr><td style="width: 25%; height: 25%;"></td><td style="width: 25%; height: 25%;"></td><td style="width: 25%; height: 25%;"></td><td style="width: 25%; height: 25%;"></td></tr> </table>									<table border="1" style="width: 100%; height: 100%; border-collapse: collapse;"> <tr><td style="width: 33%; height: 33%;"></td><td style="width: 33%; height: 33%;"></td><td style="width: 33%; height: 33%;"></td></tr> <tr><td style="width: 33%; height: 33%;"></td><td style="width: 33%; height: 33%;"></td><td style="width: 33%; height: 33%;"></td></tr> <tr><td style="width: 33%; height: 33%;"></td><td style="width: 33%; height: 33%;"></td><td style="width: 33%; height: 33%;"></td></tr> <tr><td style="width: 33%; height: 33%;"></td><td style="width: 33%; height: 33%;"></td><td style="width: 33%; height: 33%;"></td></tr> </table>												

※1. このプリントは、しながわ・目黒こどもスクールのウェブサイトでダウンロードができます。無断複写・引用はご遠慮ください。

※2. このプリントを活用したオンライン授業のスケジュールは、しながわ・目黒こどもスクールのウェブサイトでご確認ください。



おうちで、やろう。

Study at home. 小学校受験の家庭学習教材

図形：重ね点図形 24

右と左の2つの四角をぴったり重ねた時の見え方を考えて、矢印の右の四角に線をかきます。

		▶	
		▶	
		▶	
		▶	
		▶	

※1. このプリントは、しながわ・目黒こどもスクールのウェブサイトでダウンロードができます。無断複写・引用はご遠慮ください。
 ※2. このプリントを活用したオンライン授業のスケジュールは、しながわ・目黒こどもスクールのウェブサイトでご確認ください。