



おうちで、やろう。 年中児版

Study at home. 小学校受験の家庭学習教材

記憶：絵の記憶9

記憶用紙

別紙『記憶 - 絵の記憶9』を行う際に使用します。記憶用紙は点線で折って(切って)、①、②、③の問題の際にそれぞれ 20 秒間ずつ記憶させてください。記憶する際は問題用紙は裏返しにします。記憶後①、②、③それぞれの問題に答えましょう。


①動物はどこにいましたか。動物がいた四角に○をかきましょう。

②果物はどこにありましたか。果物があった四角に△をかきましょう。


③楽器はどこにありましたか。楽器があった四角を青のクーピーで塗りましょう。

目黒

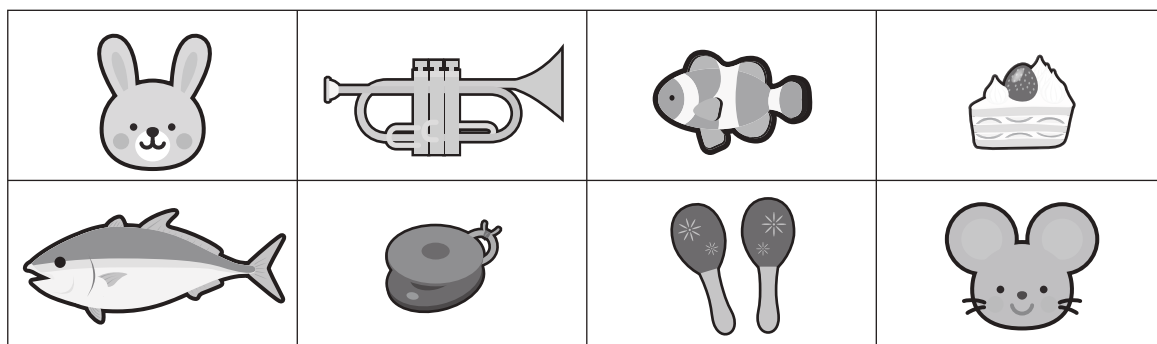
1



2



3



※1. このプリントは、しながわ・目黒こどもスクールのウェブサイトダウンロードができます。無断複写・引用はご遠慮ください。

※2. このプリントを活用したオンライン授業のスケジュールは、しながわ・目黒こどもスクールのウェブサイトでご確認ください。





おうちで、やろう。 年中児版

Study at home. 小学校受験の家庭学習教材

記憶：絵の記憶 9

別紙『記憶 - 絵の記憶 9 記憶用紙』を使用します。記憶用紙の形を見た後に①、②、③の問題に取り組みましょう。
※このプリントの解答は記憶用紙で確認してください。

①

--	--	--	--

②

③

※1. このプリントは、しながわ・目黒こどもスクールのウェブサイトでダウンロードができます。無断複写・引用はご遠慮ください。
※2. このプリントを活用したオンライン授業のスケジュールは、しながわ・目黒こどもスクールのウェブサイトでご確認ください。








おうちで、やろう。 年中児版

Study at home. 小学校受験の家庭学習教材

言語：しりとり 15

左の絵から始めて順番にしりとりをします。四角に入る絵を下の四角の中から選んで、その四角の中の記号をつけましょう。



※1. このプリントは、しながわ・目黒こどもスクールのウェブサイトからダウンロードできます。無断複写・引用はご遠慮ください。

※2. このプリントを活用したオンライン授業のスケジュールは、しながわ・目黒こどもスクールのウェブサイトでご確認ください。




おうちで、やろう。 年中児版

Study at home. 小学校受験の家庭学習教材

常識：季節 16

下の大きな四角の中の秋のものには○、冬の物には×をつけましょう。



※1. このプリントは、しながわ・目黒こどもスクールのウェブサイトからダウンロードできます。無断複写・引用はご遠慮ください。

※2. このプリントを活用したオンライン授業のスケジュールは、しながわ・目黒こどもスクールのウェブサイトでご確認ください。





左の太い四角が矢印の方向に一度倒れたときの見え方で、正しいものを右の四角の中を見つけて○をつけましょう。

--	--	--	--

--	--	--	--

--	--	--	--

--	--	--	--

※1. このプリントは、しながわ・目黒こどもスクールのウェブサイトからダウンロードできます。無断複写・引用はご遠慮ください。
 ※2. このプリントを活用したオンライン授業のスケジュールは、しながわ・目黒こどもスクールのウェブサイトでご確認ください。

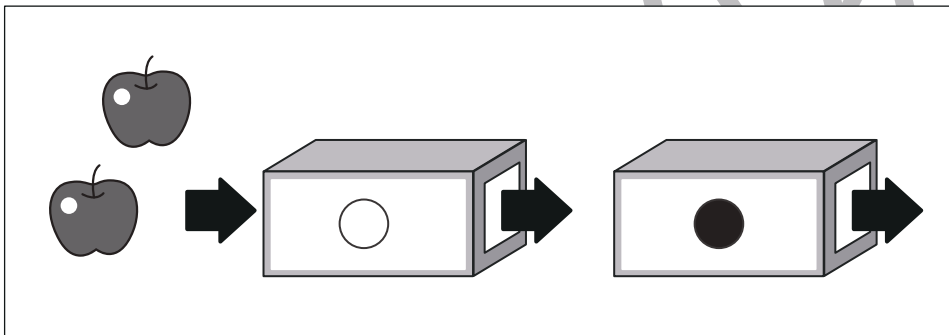
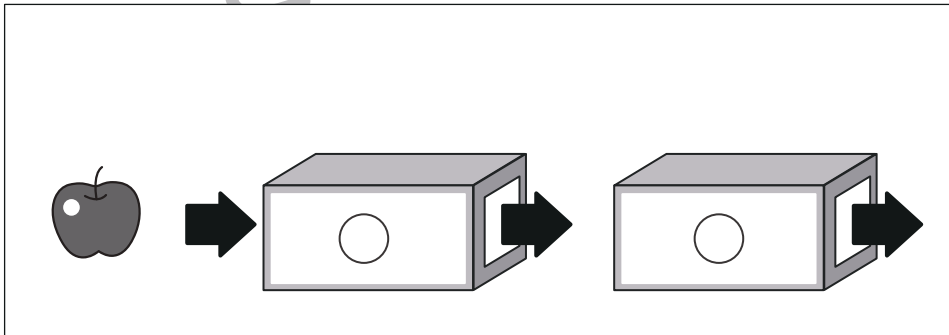
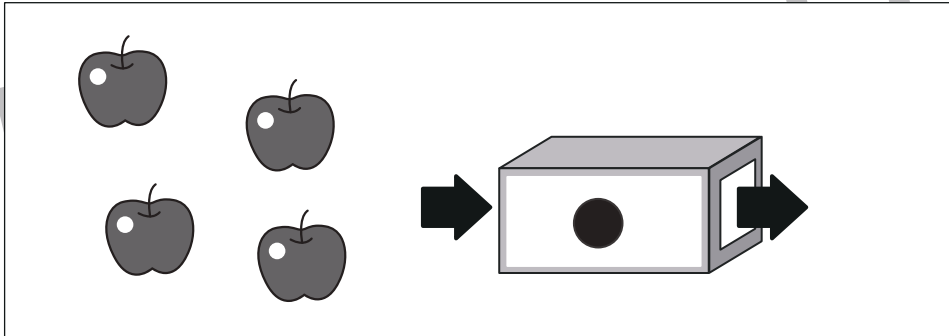
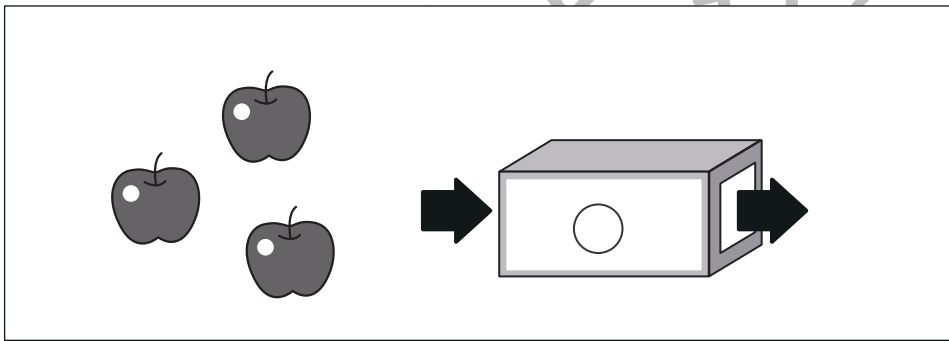
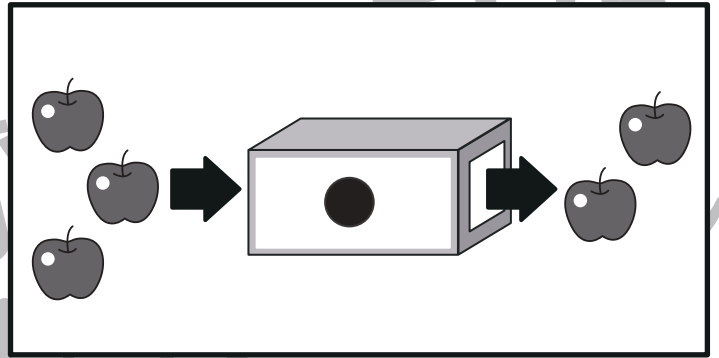
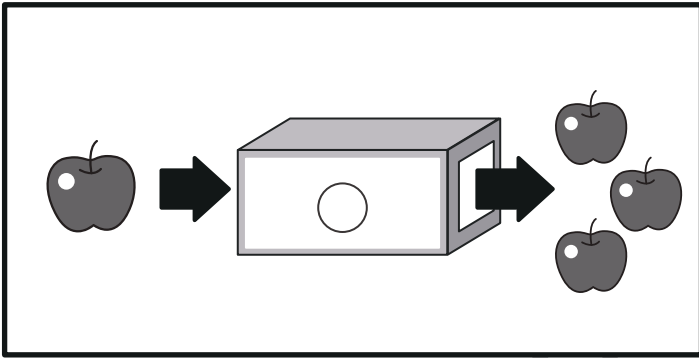


おうちで、やろう。年中児版

Study at home. 小学校受験の家庭学習教材

推理：ブラックボックス5

一番上の四角の中が約束です。○の箱を通ると数が2つ増え、●の箱を通ると数が1つ減ります。箱から出たとき、いくつになるのかを考えて、その数だけ右の四角の中に○をかきましょう。



※1. このプリントは、しながわ・目黒こどもスクールのウェブサイトからダウンロードができます。無断複写・引用はご遠慮ください。
※2. このプリントを活用したオンライン授業のスケジュールは、しながわ・目黒こどもスクールのウェブサイトでご確認ください。

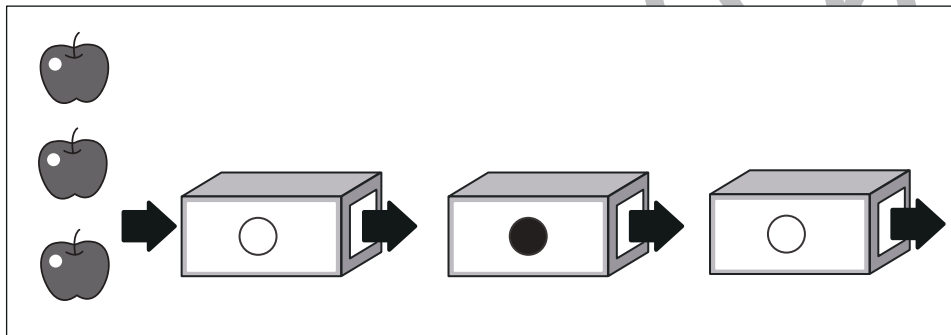
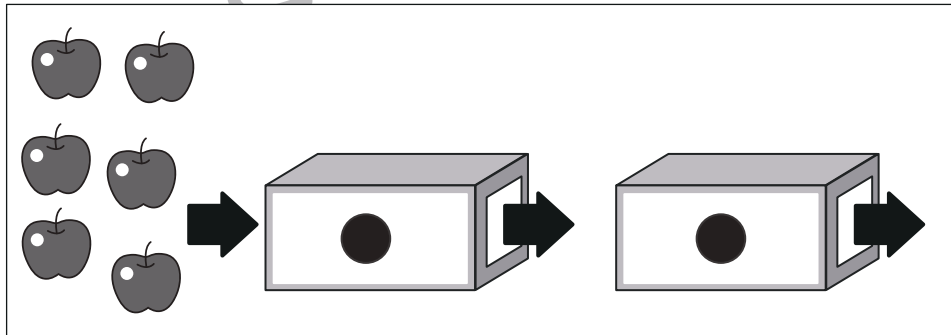

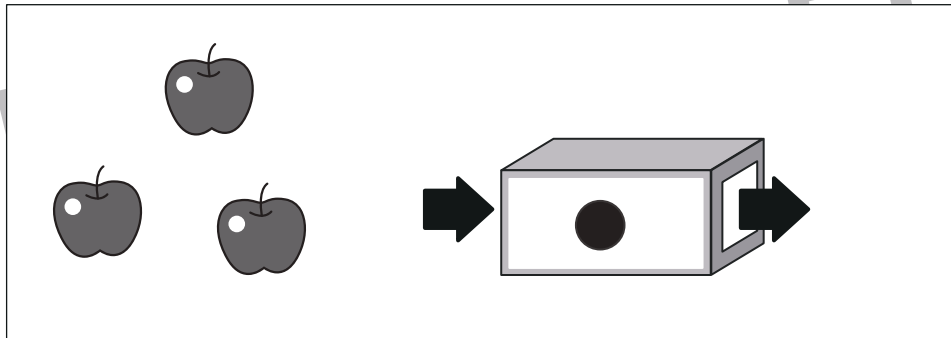
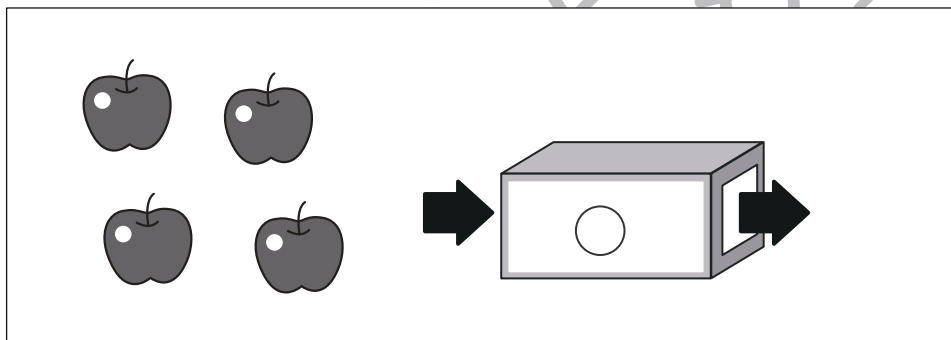
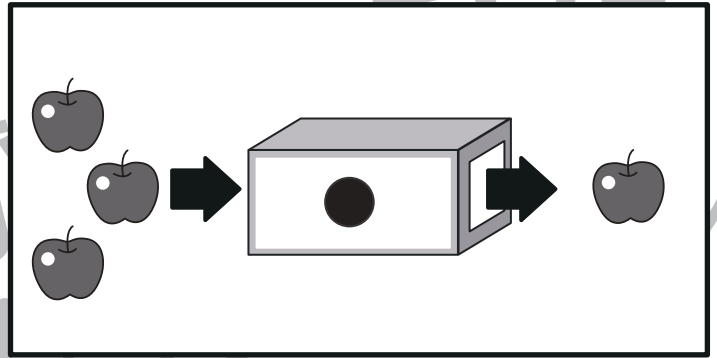
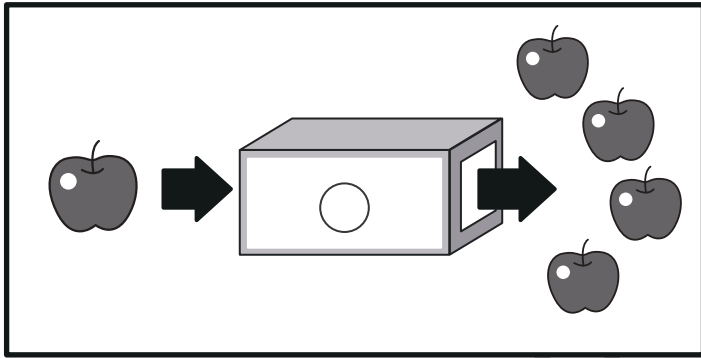


おうちで、やろう。年中児版

Study at home. 小学校受験の家庭学習教材

推理：ブラックボックス6

一番上の四角の中が約束です。○の箱を通ると数が3つ増え、●の箱を通ると数が2つ減ります。箱から出たとき、いくつになるのかを考えて、その数だけ右の四角の中に○をかきましょう。



※1. このプリントは、しながわ・目黒こどもスクールのウェブサイトからダウンロードができます。無断複写・引用はご遠慮ください。
※2. このプリントを活用したオンライン授業のスケジュールは、しながわ・目黒こどもスクールのウェブサイトでご確認ください。

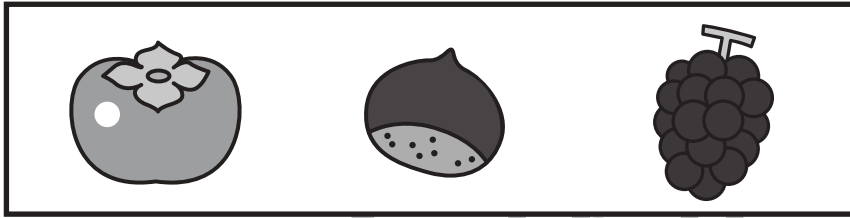


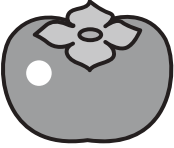





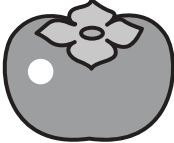











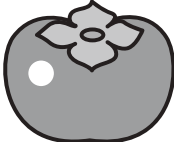

おうちで、やろう。 年中児版

Study at home. 小学校受験の家庭学習教材

処理能力：抹消5

上の太い四角の中の絵がお手本です。下のマスの中からお手本の絵をみつけて斜め線（/）をつけていきます。お手本を見つけるときは、一番上の段の左からはじめて、右端まで見ます。1段目ができたら2段目の左から右へ進み、次に3段目の左から右と順番に印をつけていきます。



※1. このプリントは、しながわ・目黒こどもスクールのウェブサイトでダウンロードができます。無断複写・引用はご遠慮ください。

※2. このプリントを活用したオンライン授業のスケジュールは、しながわ・目黒こどもスクールのウェブサイトでご確認ください。




おうちで、やろう。 年中児版

Study at home. 小学校受験の家庭学習教材

絵画：条件画4

下の大きい四角の中の口を変身させて絵をかきましょう。



※1. このプリントは、しながわ・目黒こどもスクールのウェブサイトでダウンロードができます。無断複写・引用はご遠慮ください。
※2. このプリントを活用したオンライン授業のスケジュールは、しながわ・目黒こどもスクールのウェブサイトでご確認ください。