



# おうちで、やろう。 年中児版




Study at home. 小学校受験の家庭学習教材

記憶：絵の記憶8

記憶用紙

別紙『記憶 - 絵の記憶8』を行う際に使用します。記憶用紙は点線で折って(切って)、①、②、③の問題の際にそれぞれ20秒間ずつ記憶させてください。記憶する際は問題用紙は裏返しにします。記憶後①、②、③それぞれの問題に答えましょう。

- ①タコは何匹いましたか。その数だけ〇をかきましょう。
- ②一番右の星は何色でしたか。その色で星を塗りましょう。
- ③太鼓をたたいている動物は誰ですか。その動物に〇をつけましょう。



※1. このプリントは、しながわ・目黒こどもスクールのウェブサイトからダウンロードできます。無断複写・引用はご遠慮ください。  
※2. このプリントを活用したオンライン授業のスケジュールは、しながわ・目黒こどもスクールのウェブサイトでご確認ください。



# おうちで、やろう。年中児版


Study at home. 小学校受験の家庭学習教材

## 記憶：絵の記憶8

別紙『記憶 - 絵の記憶8記憶用紙』を使用します。記憶用紙の形を見た後に①、②、③の問題に取り組みましょう。  
※このプリントの解答は記憶用紙で確認してください。

①

②



③






※1. このプリントは、しながわ・目黒こどもスクールのウェブサイトからダウンロードできます。無断複写・引用はご遠慮ください。

※2. このプリントを活用したオンライン授業のスケジュールは、しながわ・目黒こどもスクールのウェブサイトでご確認ください。





上の四角の中の3つの絵の始めの音を組み合わせるとできるものを、下の四角の中から選んで○をつけましょう。



※1. このプリントは、しながわ・目黒こどもスクールのウェブサイトからダウンロードできます。無断複写・引用はご遠慮ください。

※2. このプリントを活用したオンライン授業のスケジュールは、しながわ・目黒こどもスクールのウェブサイトでご確認ください。

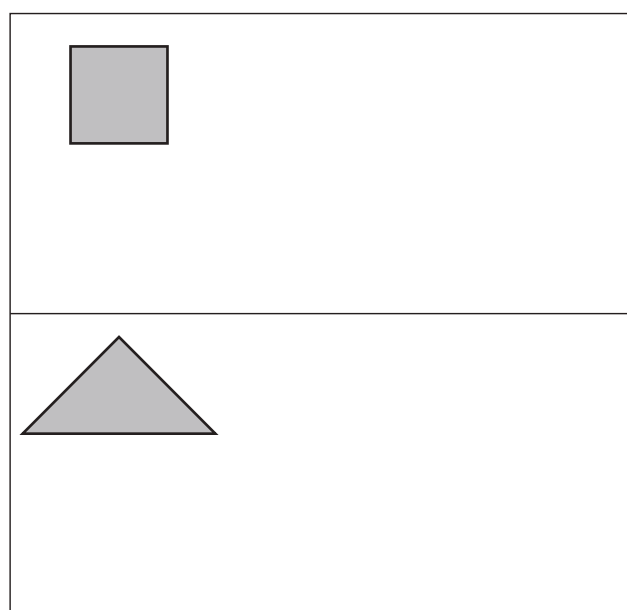
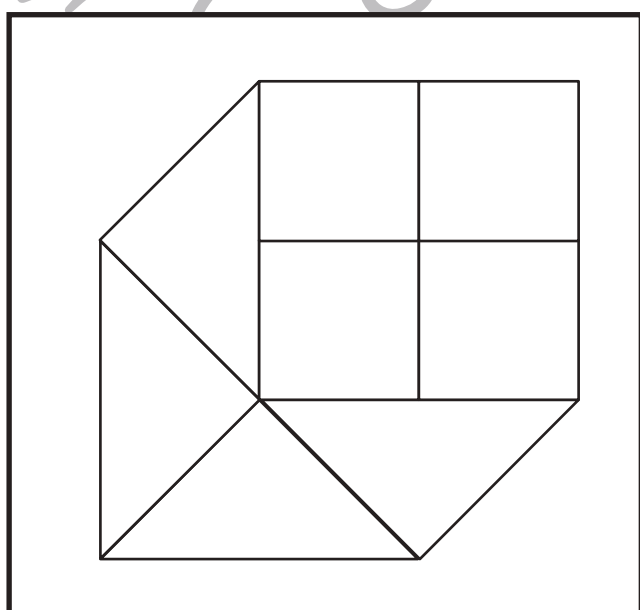
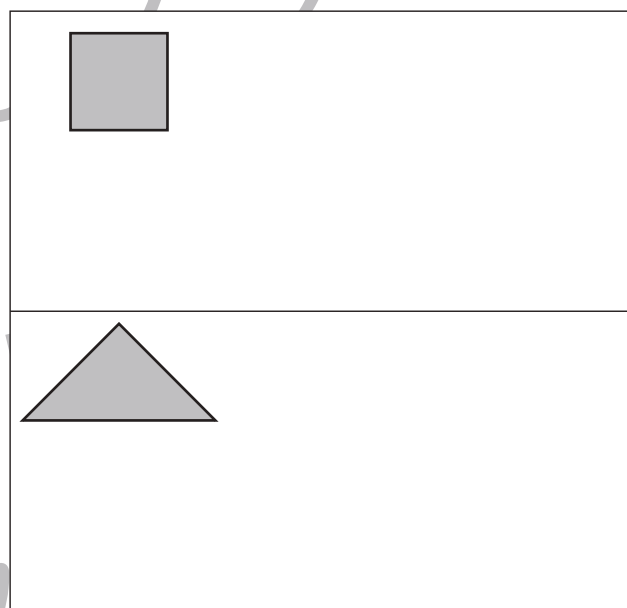
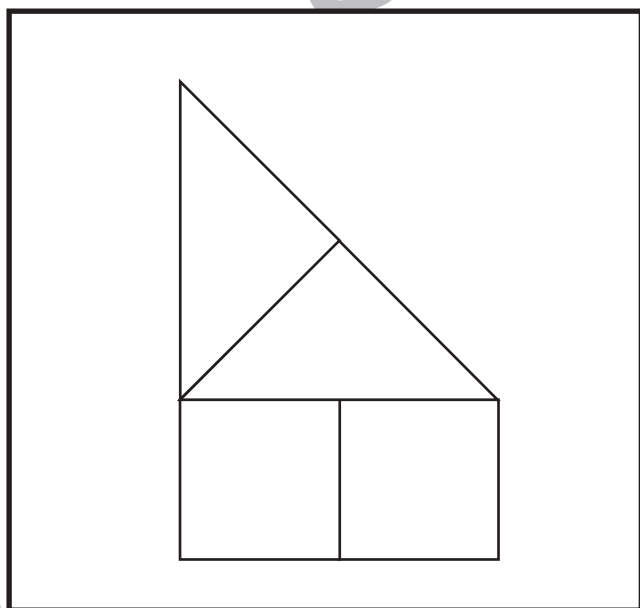
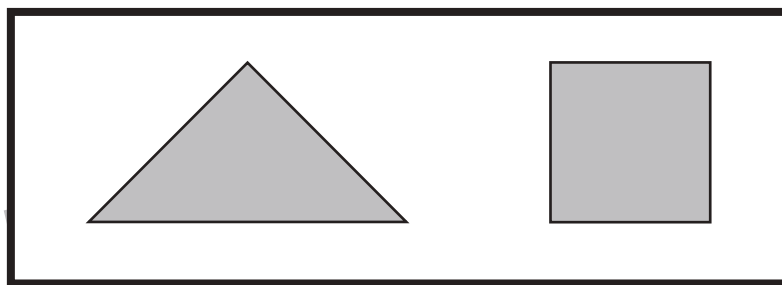


# おうちで、やろう。 年中児版

Study at home. 小学校受験の家庭学習教材

図形：構成4

上の太い四角の中の形がお手本のパズルです。左の形はお手本のパズルをそれぞれ何枚ずつ使っていますか。その数だけ右のそれぞれのパズルの四角に○をかきましょう。



※1. このプリントは、しながわ・目黒こどもスクールのウェブサイトでダウンロードができます。無断複写・引用はご遠慮ください。  
※2. このプリントを活用したオンライン授業のスケジュールは、しながわ・目黒こどもスクールのウェブサイトでご確認ください。










# おうちで、やろう。 年中児版

Study at home. 小学校受験の家庭学習教材

## 推理：四方観察1

左の太い四角の中の積み木がお手本です。このお手本を男の子が右から見たときの見え方を考えます。  
男の子が見えている灰色の積み木の数だけ右の四角に○をかきましょう。



※1. このプリントは、しながわ・目黒こどもスクールのウェブサイトでダウンロードができます。無断複写・引用はご遠慮ください。  
※2. このプリントを活用したオンライン授業のスケジュールは、しながわ・目黒こどもスクールのウェブサイトでご確認ください。











# おうちで、やろう。 年中児版

Study at home. 小学校受験の家庭学習教材

## 推理：四方観察2

左の太い四角の中の積み木がお手本です。このお手本を男の子が右から見たときの見え方を考えます。  
男の子が見えている灰色の積み木の数だけ右の四角に○をかきましょう。



※1. このプリントは、しながわ・目黒こどもスクールのウェブサイトダウンロードできます。無断複写・引用はご遠慮ください。  
※2. このプリントを活用したオンライン授業のスケジュールは、しながわ・目黒こどもスクールのウェブサイトでご確認ください。



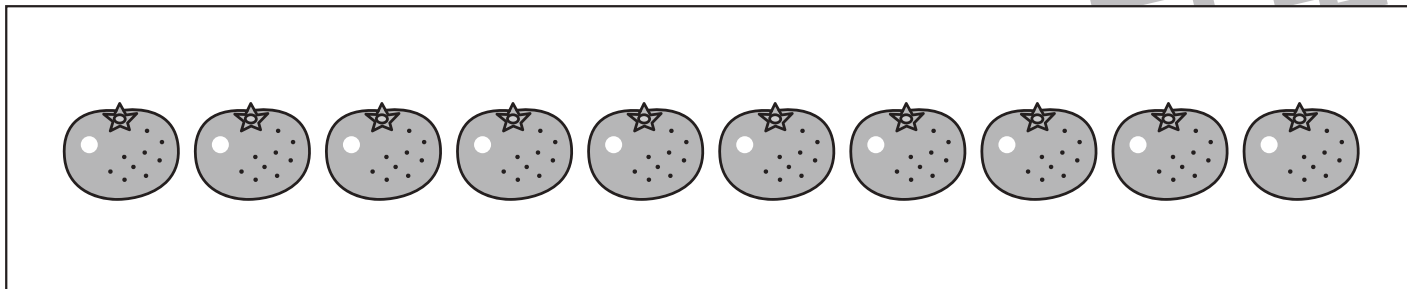
# おうちで、やろう。 年中児版

Study at home. 小学校受験の家庭学習教材


数量：加減 12

下の①～④の問題を読んで、答えましょう。

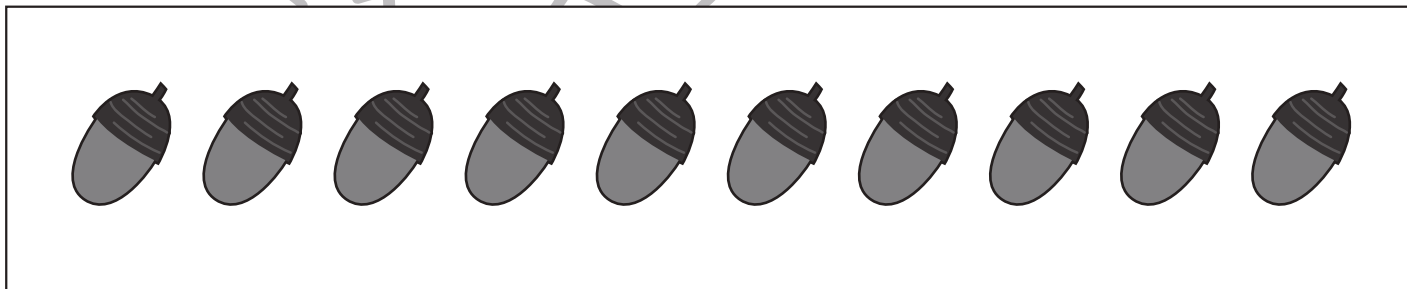
①キツネさんはみかんを10個持っています。ウサギさんとネズミさんに2個ずつあげました。キツネさんは後いくつ持っていますか。その数だけ下の四角の中の絵に○をつけましょう。




②大きな木にりんごが8個なっています。ネコさんがやってきて、2つ食べました。その後、クマさんがやってきて3つとって家に帰りました。木にはあと何個りんごがなっていますか。その数だけ下の四角の中の絵に○をつけましょう。



③タヌキさんはどんぐりを5個持っています。イヌさんとヒツジさんに2個ずつあげました。その後、公園に行ってどんぐりを3個拾いました。タヌキさんはどんぐりを何個持っていますか。その数だけ下の四角の中の絵に○をつけましょう。



④ゾウさんとキリンさんはいちご狩りに出かけました。ゾウさんは4個、キリンさんは3個いちごをとりました。2匹は2つずつ食べました。2匹は合わせて何個いちごを持っていますか。その数だけ下の四角の中の絵に○をつけましょう。



※1. このプリントは、しながわ・目黒こどもスクールのウェブサイトでダウンロードができます。無断複写・引用はご遠慮ください。

※2. このプリントを活用したオンライン授業のスケジュールは、しながわ・目黒こどもスクールのウェブサイトでご確認ください。




# おうちで、やろう。 年中児版

Study at home. 小学校受験の家庭学習教材

巧緻性：運筆9

★から☆まで壁にぶつからないように線で繋ぎましょう。  
※この問題に解答はありません。

①

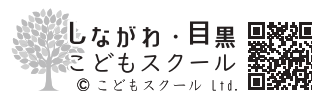


②



ICT教育の小学校受験

※1. このプリントは、しながわ・目黒こどもスクールのウェブサイトでダウンロードができます。無断複写・引用はご遠慮ください。  
※2. このプリントを活用したオンライン授業のスケジュールは、しながわ・目黒こどもスクールのウェブサイトでご確認ください。





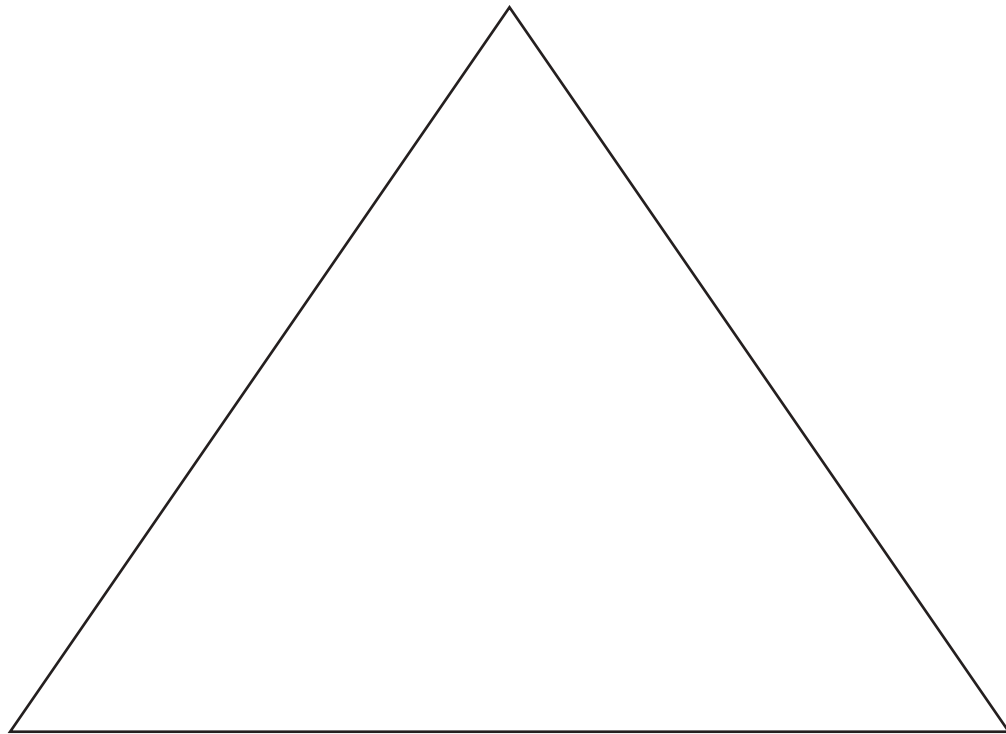


# おうちで、やろう。 年中児版

Study at home. 小学校受験の家庭学習教材

絵画：条件画3

下の大きい四角の中の△を変身させて絵をかきましょう。



※1. このプリントは、しながわ・目黒こどもスクールのウェブサイトでダウンロードができます。無断複写・引用はご遠慮ください。  
※2. このプリントを活用したオンライン授業のスケジュールは、しながわ・目黒こどもスクールのウェブサイトでご確認ください。