


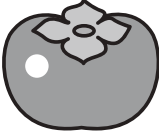












# おうちで、やろう。 年中児版








Study at home. 小学校受験の家庭学習教材

## 言語：音の理解 14

上の四角の中の3つの絵の始めの音を組み合わせるとできるものを、下の四角の中から選んで○をつけましょう。

※1. このプリントは、しながわ・目黒こどもスクールのウェブサイトでダウンロードができます。無断複写・引用はご遠慮ください。

※2. このプリントを活用したオンライン授業のスケジュールは、しながわ・目黒こどもスクールのウェブサイトでご確認ください。

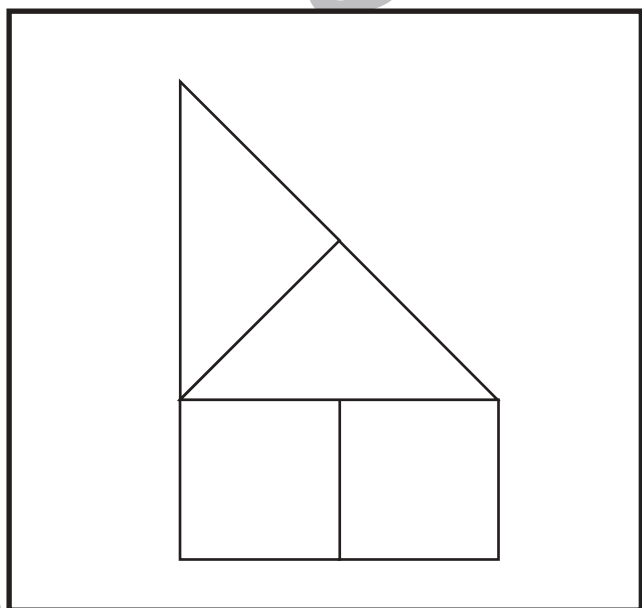
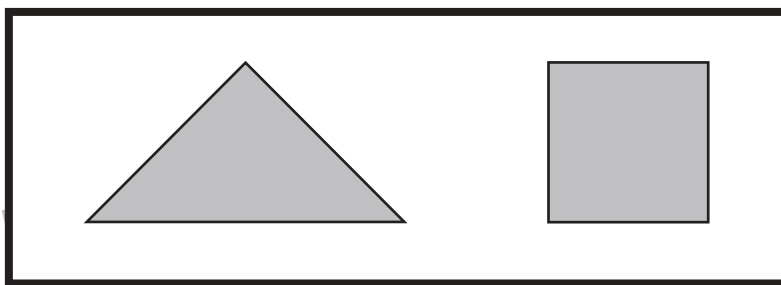


# おうちで、やろう。 年中児版

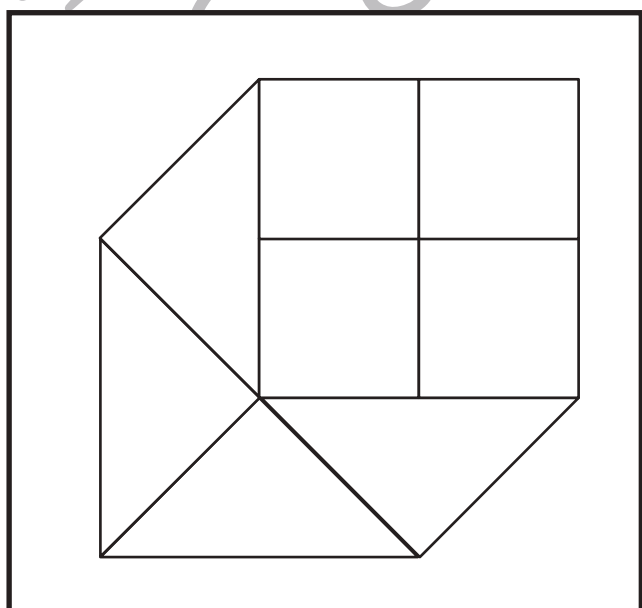
Study at home. 小学校受験の家庭学習教材

図形：構成4

上の太い四角の中の形がお手本のパズルです。左の形はお手本のパズルをそれぞれ何枚ずつ使っていますか。その数だけ右のそれぞれのパズルの四角に○をかきましょう。



	○ × 2
	○ × 2



	○ × 4
	○ × 4

※1. このプリントは、しながわ・目黒こどもスクールのウェブサイトでダウンロードができます。無断複写・引用はご遠慮ください。  
※2. このプリントを活用したオンライン授業のスケジュールは、しながわ・目黒こどもスクールのウェブサイトでご確認ください。







# おうちで、やろう。 年中児版

Study at home. 小学校受験の家庭学習教材

## 推理：四方観察1

左の太い四角の中の積み木がお手本です。このお手本を男の子が右から見たときの見え方を考えます。  
男の子が見えている灰色の積み木の数だけ右の四角に○をかきましょう。



※1. このプリントは、しながわ・目黒こどもスクールのウェブサイトでダウンロードができます。無断複写・引用はご遠慮ください。  
※2. このプリントを活用したオンライン授業のスケジュールは、しながわ・目黒こどもスクールのウェブサイトでご確認ください。










# おうちで、やろう。 年中児版

Study at home. 小学校受験の家庭学習教材

## 推理：四方観察2

左の太い四角の中の積み木がお手本です。このお手本を男の子が右から見たときの見え方を考えます。  
男の子が見えている灰色の積み木の数だけ右の四角に○をかきましょう。



※1. このプリントは、しながわ・目黒こどもスクールのウェブサイトでダウンロードができます。無断複写・引用はご遠慮ください。  
※2. このプリントを活用したオンライン授業のスケジュールは、しながわ・目黒こどもスクールのウェブサイトでご確認ください。



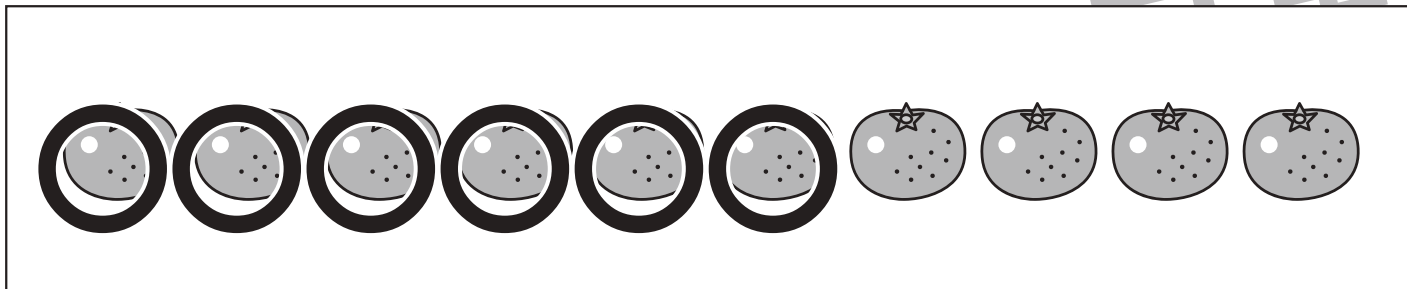
# おうちで、やろう。 年中児版

Study at home. 小学校受験の家庭学習教材


数量：加減 12

下の①～④の問題を読んで、答えましょう。


①キツネさんはみかんを10個持っています。ウサギさんとネズミさんに2個ずつあげました。キツネさんは後いくつ持っていますか。その数だけ下の四角の中の絵に○をつけましょう。




②大きな木にりんごが8個なっています。ネコさんがやってきて、2つ食べました。その後、クマさんがやってきて3つとって家に帰りました。木にはあと何個りんごがなっていますか。その数だけ下の四角の中の絵に○をつけましょう。



③タヌキさんはどんぐりを5個持っています。イヌさんとヒツジさんに2個ずつあげました。その後、公園に行ってどんぐりを3個拾いました。タヌキさんはどんぐりを何個持っていますか。その数だけ下の四角の中の絵に○をつけましょう。



④ゾウさんとキリンさんはいちご狩りに出かけました。ゾウさんは4個、キリンさんは3個いちごをとりました。2匹は2つずつ食べました。2匹は合わせて何個いちごを持っていますか。その数だけ下の四角の中の絵に○をつけましょう。



※1. このプリントは、しながわ・目黒こどもスクールのウェブサイトでダウンロードができます。無断複写・引用はご遠慮ください。

※2. このプリントを活用したオンライン授業のスケジュールは、しながわ・目黒こどもスクールのウェブサイトでご確認ください。