


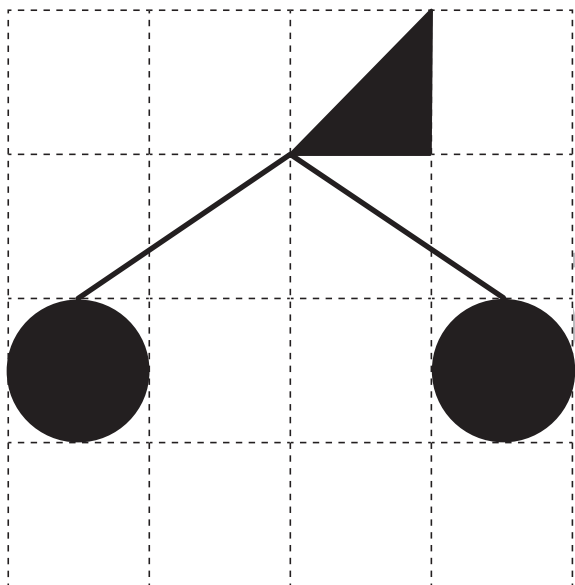

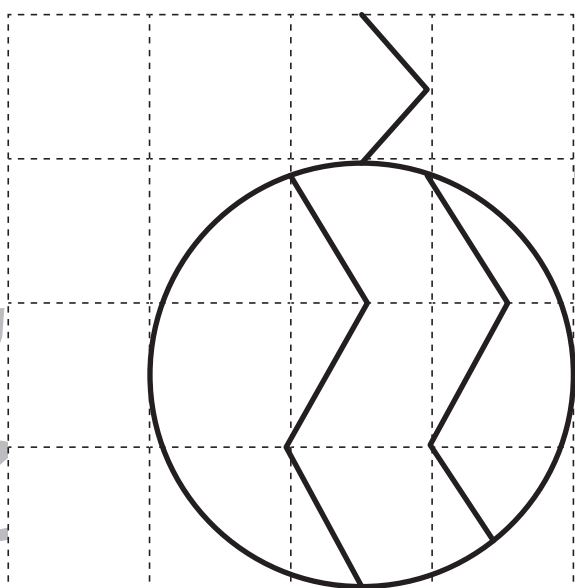

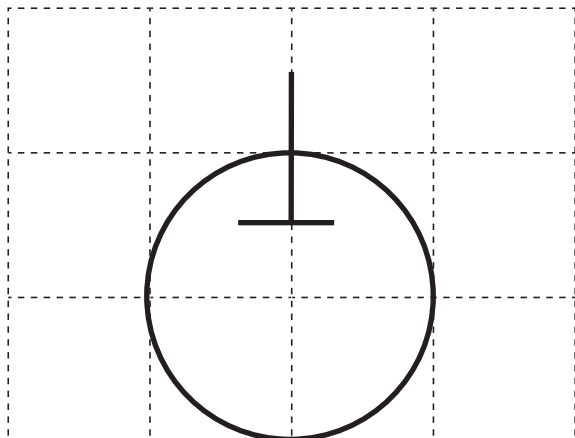


おうちで、やろう。 年中児版

Study at home. 小学校受験の家庭学習教材

運筆：模写3

左の四角の中の絵がお手本です。お手本通りに右の四角に形をかきましょう。
※この問題に解答はありません。



※1. このプリントは、しながわ・目黒こどもスクールのウェブサイトでダウンロードができます。無断複写・引用はご遠慮ください。
※2. このプリントを活用したオンライン授業のスケジュールは、しながわ・目黒こどもスクールのウェブサイトでご確認ください。











おうちで、やろう。 年中児版

Study at home. 小学校受験の家庭学習教材

図形：回転 12

上の太い四角が矢印の方向に一回ずつ倒れたとき、？の四角の中の絵の見え方を考えて、下の四角の絵に○をつけましょう。



※1. このプリントは、しながわ・目黒こどもスクールのウェブサイトでダウンロードができます。無断複写・引用はご遠慮ください。
 ※2. このプリントを活用したオンライン授業のスケジュールは、しながわ・目黒こどもスクールのウェブサイトでご確認ください。



おうちで、やろう。 年中児版

Study at home. 小学校受験の家庭学習教材

図形：回転 13

上の太い四角が矢印の方向に一回ずつ倒れたとき、？の四角の中の絵の見え方を考えて、下の四角の絵に○をつけましょう。

 <div style="border: 2px solid black; padding: 5px; text-align: center;"> </div>	 <div style="border: 2px solid black; padding: 5px; text-align: center;"> </div>	 <div style="border: 2px solid black; padding: 5px; text-align: center;"> </div>
	<div style="background-color: gray; width: 80px; height: 80px; display: flex; align-items: center; justify-content: center; font-size: 40px;">?</div>	
		<div style="background-color: gray; width: 80px; height: 80px; display: flex; align-items: center; justify-content: center; font-size: 40px;">?</div>
<div style="background-color: gray; width: 80px; height: 80px; display: flex; align-items: center; justify-content: center; font-size: 40px;">?</div>		<div style="background-color: gray; width: 80px; height: 80px; display: flex; align-items: center; justify-content: center; font-size: 40px;">?</div>

※1. このプリントは、しながわ・目黒こどもスクールのウェブサイトでダウンロードができます。無断複写・引用はご遠慮ください。
 ※2. このプリントを活用したオンライン授業のスケジュールは、しながわ・目黒こどもスクールのウェブサイトでご確認ください。




おうちで、やろう。 年中児版

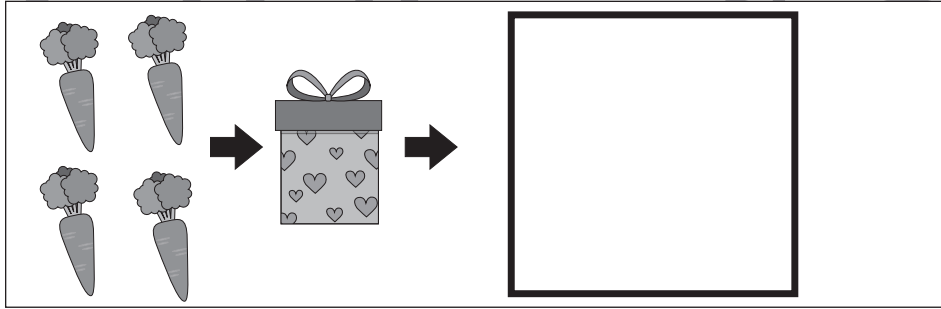
Study at home. 小学校受験の家庭学習教材

推理：ブラックボックス7


一番上の四角の中が約束です。それぞれの箱から出たとき、にんじんがいくつになるのかを考えて、その数だけ右の四角の中に○をかきましょう。



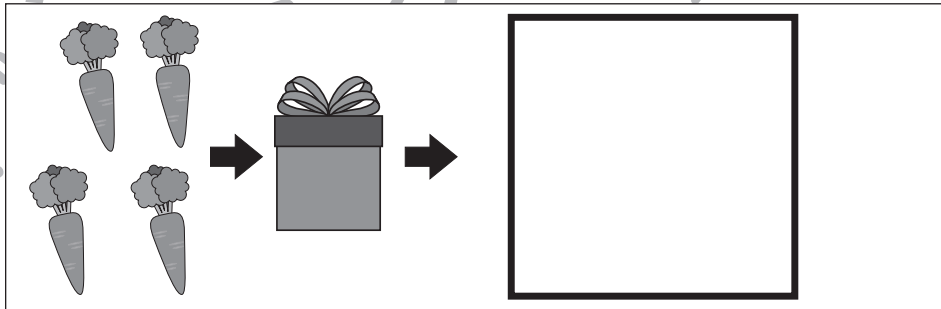
①



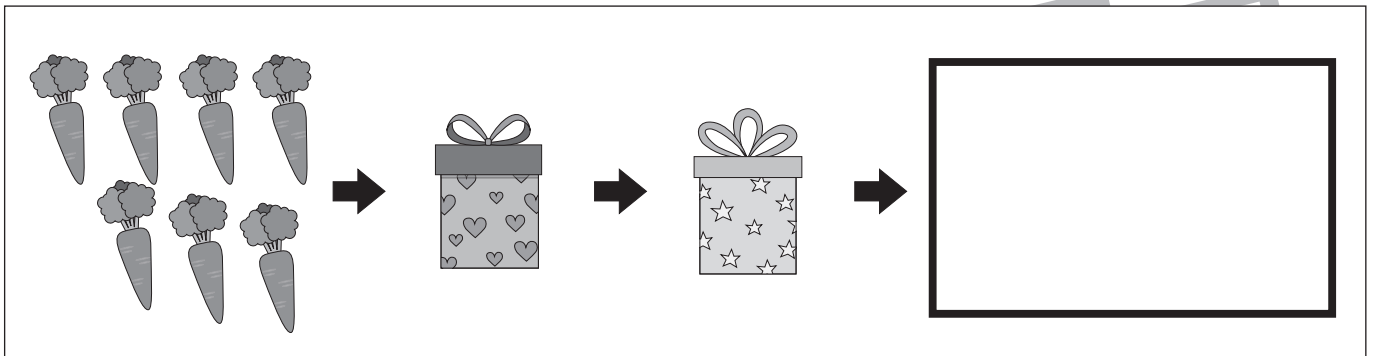
②



③



④



※1. このプリントは、しながわ・目黒こどもスクールのウェブサイトでダウンロードができます。無断複製・引用はご遠慮ください。
※2. このプリントを活用したオンライン授業のスケジュールは、しながわ・目黒こどもスクールのウェブサイトでご確認ください。




おうちで、やろう。 年中児版

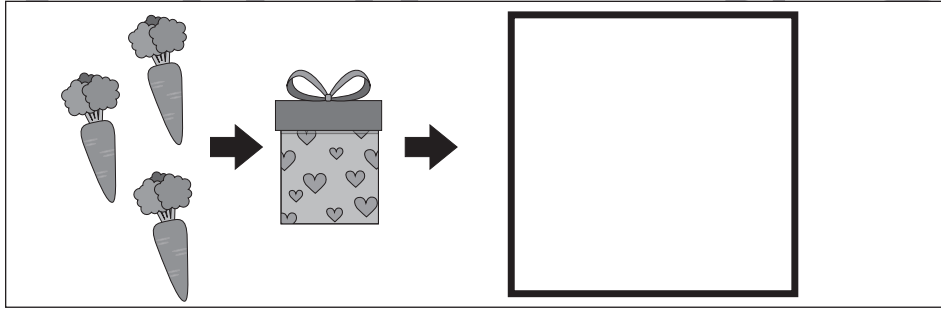
Study at home. 小学校受験の家庭学習教材

推理：ブラックボックス8


一番上の四角の中が約束です。それぞれの箱から出たとき、にんじんがいくつになるのかを考えて、その数だけ右の四角の中に○をかきましょう。



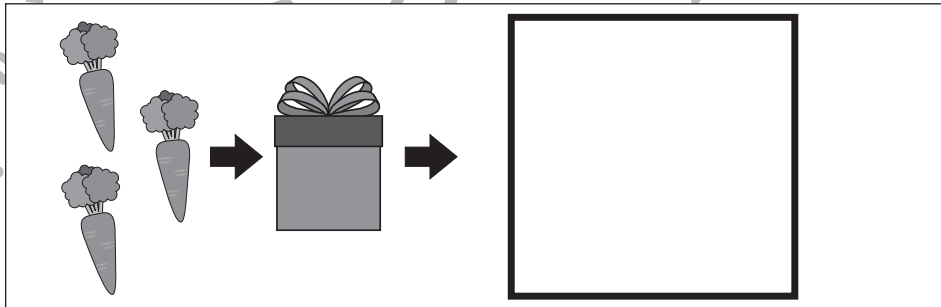
①



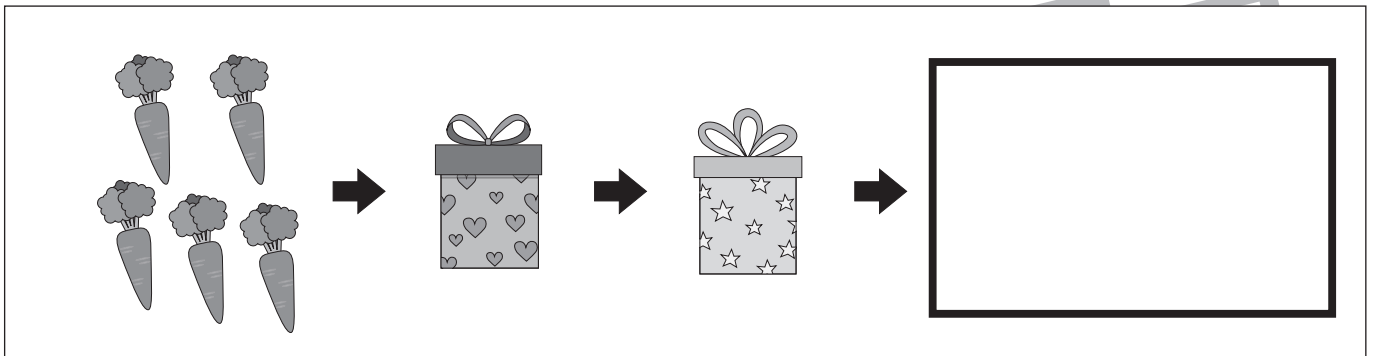
②



③



④



※1. このプリントは、しながわ・目黒こどもスクールのウェブサイトでダウンロードができます。無断複写・引用はご遠慮ください。
※2. このプリントを活用したオンライン授業のスケジュールは、しながわ・目黒こどもスクールのウェブサイトでご確認ください。



おうちで、やろう。 年中児版

Study at home. 小学校受験の家庭学習教材

数量：加減 13

左の積み木と右の積み木を見比べたとき、左の積み木から右の積み木はいくつ数が少なくなりましたか。その数だけ、右の四角に○をかきましょう。

--	--

--	--

--	--

※1. このプリントは、しながわ・目黒こどもスクールのウェブサイトでダウンロードができます。無断複写・引用はご遠慮ください。
※2. このプリントを活用したオンライン授業のスケジュールは、しながわ・目黒こどもスクールのウェブサイトでご確認ください。

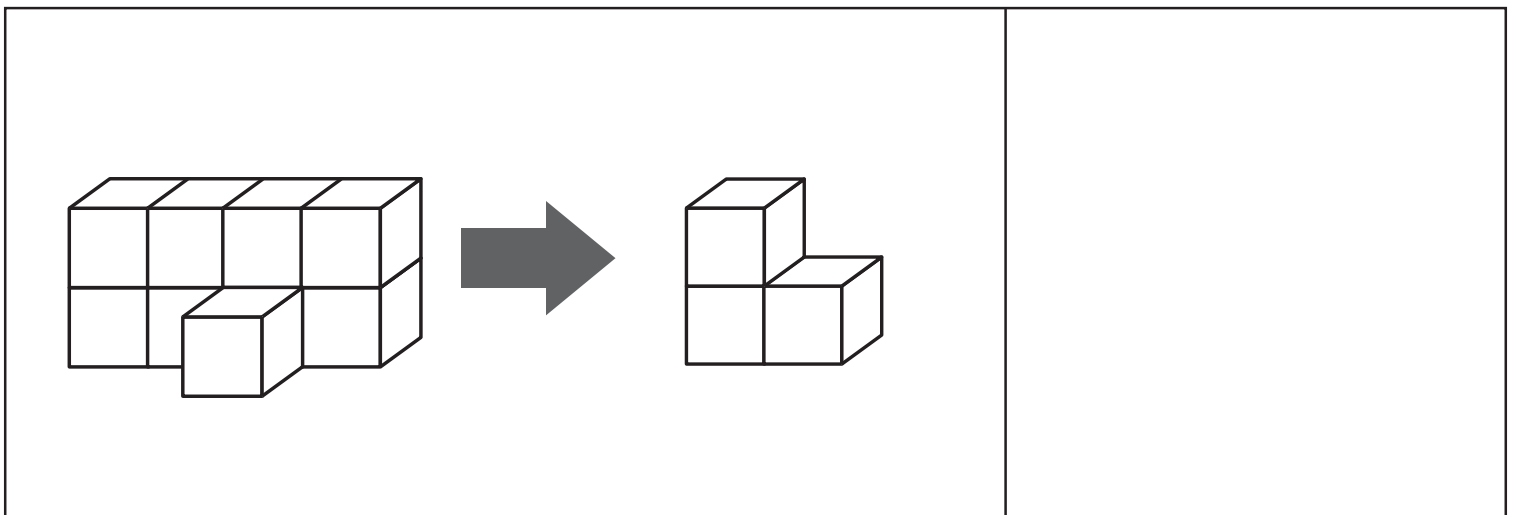
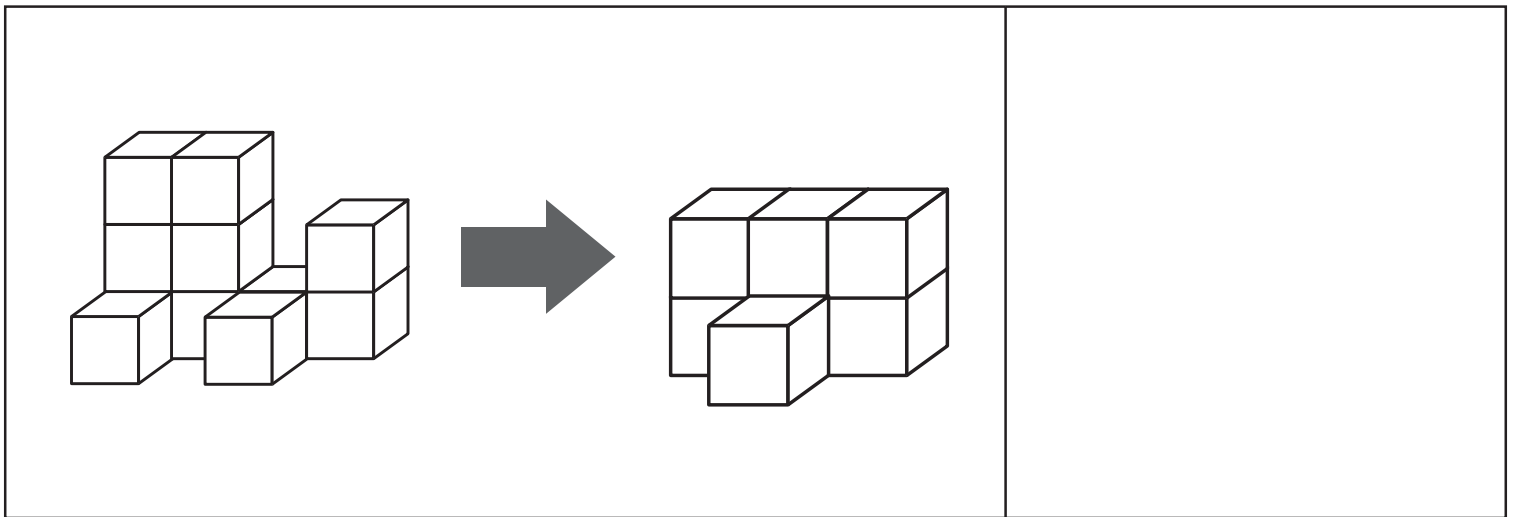
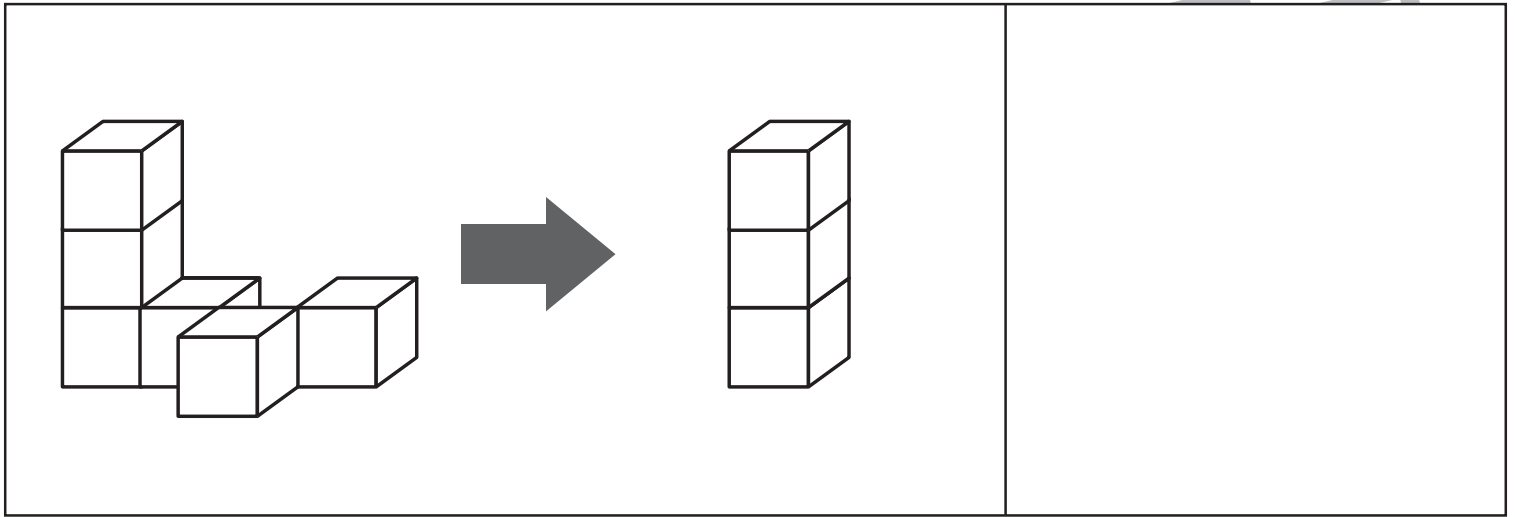


おうちで、やろう。 年中児版

Study at home. 小学校受験の家庭学習教材

数量：加減 14

左の積み木と右の積み木を見比べたとき、左の積み木から右の積み木はいくつ数が少なくなりましたか。その数だけ、右の四角に○をかきましょう。



※1. このプリントは、しながわ・目黒こどもスクールのウェブサイトでダウンロードができます。無断複写・引用はご遠慮ください。
※2. このプリントを活用したオンライン授業のスケジュールは、しながわ・目黒こどもスクールのウェブサイトでご確認ください。



おうちで、やろう。 年中児版

Study at home. 小学校受験の家庭学習教材

まちがいさがし27

上下の絵を見比べて、変わっているところを4つ探します。見つけたら、下の絵の変わっている部分に○をつけましょう。

