


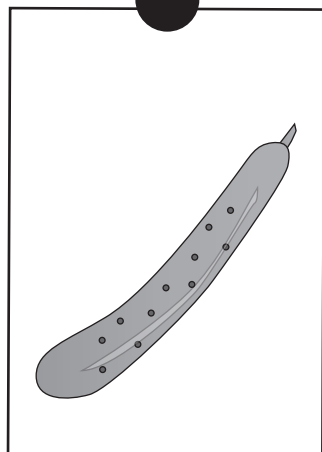


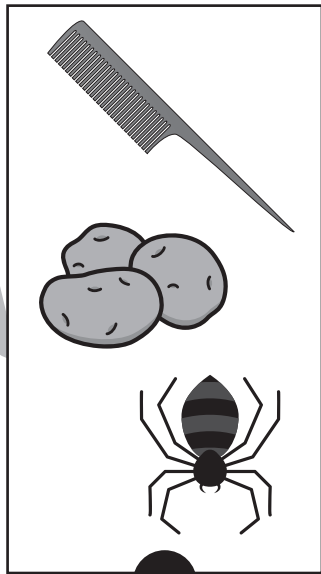





上の四角の中の絵のはじめの音をつなげてできるものを、下の絵から選んで点と点を線で結びましょう。


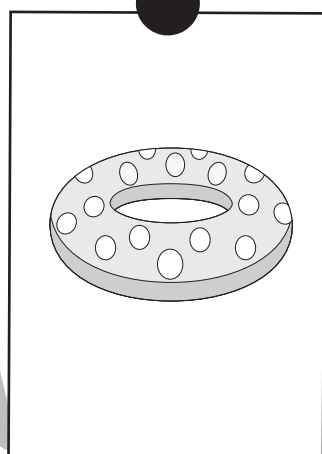



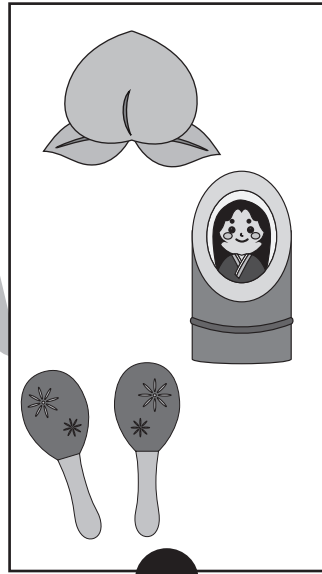



※1. このプリントは、しながわ・目黒こどもスクールのウェブサイトでダウンロードができます。無断複写・引用はご遠慮ください。
※2. このプリントを活用したオンライン授業のスケジュールは、しながわ・目黒こどもスクールのウェブサイトでご確認ください。





上の四角の中の絵のはじめから2番目の音をつなげてできるものを、下の絵から選んで点と点を線で結びましょう。



※1. このプリントは、しながわ・目黒こどもスクールのウェブサイトでダウンロードができます。無断複写・引用はご遠慮ください。
※2. このプリントを活用したオンライン授業のスケジュールは、しながわ・目黒こどもスクールのウェブサイトでご確認ください。






おうちで、やろう。 年中児版

Study at home. 小学校受験の家庭学習教材

処理能力：抹消6

上の太い四角の中の絵がお手本です。下のマスの中からお手本の絵をみつけて斜め線（/）をつけていきます。お手本を見つけるときは、1番上の段の左からはじめて、右端まで見ます。1段目ができたら2段目の左から右へ進み、次に3段目の左から右と順番に印をつけていきます。



※1. このプリントは、しながわ・目黒こどもスクールのウェブサイトでダウンロードができます。無断複写・引用はご遠慮ください。

※2. このプリントを活用したオンライン授業のスケジュールは、しながわ・目黒こどもスクールのウェブサイトでご確認ください。








おうちで、やろう。年中児版

Study at home. 小学校受験の家庭学習教材

常識：季節 17

左の四角の中の絵の季節と同じ季節の絵を右の四角から見つけて、点と点を線で結びましょう。



※1. このプリントは、しながわ・目黒こどもスクールのウェブサイトでダウンロードができます。無断複写・引用はご遠慮ください。
※2. このプリントを活用したオンライン授業のスケジュールは、しながわ・目黒こどもスクールのウェブサイトでご確認ください。






おうちで、やろう。 年中児版

Study at home. 小学校受験の家庭学習教材

常識：野菜4

四角の中から夏の食べ物をすべて見つけて、○をつけましょう。



※1. このプリントは、しながわ・目黒こどもスクールのウェブサイトからダウンロードできます。無断複写・引用はご遠慮ください。

※2. このプリントを活用したオンライン授業のスケジュールは、しながわ・目黒こどもスクールのウェブサイトでご確認ください。



おうちで、やろう。 年中児版

Study at home. 小学校受験の家庭学習教材

数量：足りない数6

下の①～③の問題を読んで答えましょう。

①リンゴを 15 個にするには、残りいくつ集めればいいですか。その数だけ、下の四角に○をかきましょう。

$$\bigcirc \times 5$$

②スイカを 17 個にするには、残りいくつ集めればいいですか。その数だけ、下の四角に○をかきましょう。

$$\bigcirc \times 6$$

③モモとイチゴを 13 個ずつにするには、それぞれ残りいくつずつ集めればいいですか。その数だけ、下の四角に○をかきましょう。

$$\bigcirc \times 7$$

$$\bigcirc \times 7$$

※ 1. このプリントは、しながわ・目黒こどもスクールのウェブサイトでダウンロードができます。無断複写・引用はご遠慮ください。

※ 2. このプリントを活用したオンライン授業のスケジュールは、しながわ・目黒こどもスクールのウェブサイトでご確認ください。


















おうちで、やろう。 年中児版

Study at home. 小学校受験の家庭学習教材

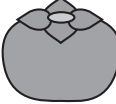
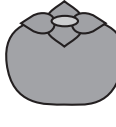

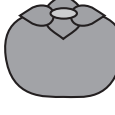
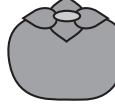

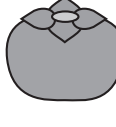
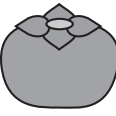


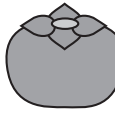
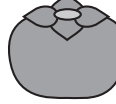


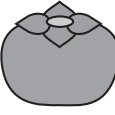

数量：足りない数7

下の①～③の問題を読んで答えましょう。

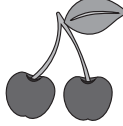

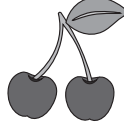







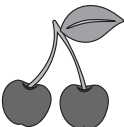





①パイナップルとバナナを合わせて15個にするには、バナナを残りいくつ集めればいいですか。
その数だけ、下の四角に○をかきましょう。

							
							
$\bigcirc \times 3$							

②カキとブドウを合わせて20個にするには、ブドウを残りいくつ集めればいいですか。
その数だけ、下の四角に○をかきましょう。

								
								
$\bigcirc \times 4$								

③サクランボを15個とモモを8個にするにはそれぞれ残りいくつずつ集めればいいですか。
その数だけ、下の四角に○をかきましょう。

						
						
	$\bigcirc \times 4$		$\bigcirc \times 5$			

※1. このプリントは、しながわ・目黒こどもスクールのウェブサイトからダウンロードできます。無断複写・引用はご遠慮ください。

※2. このプリントを活用したオンライン授業のスケジュールは、しながわ・目黒こどもスクールのウェブサイトでご確認ください。