




# おうちで、やろう。 年中児版

Study at home. 小学校受験の家庭学習教材

## まちがいさがし28

上下の絵を見比べて、変わっているところを4つ探します。見つけたら、下の絵の変わっている部分に○をつけましょう。





# おうちで、やろう。 年中児版

Study at home. 小学校受験の家庭学習教材

言語：おわりの音7

おわりの音と同じ絵を上、真ん中、下の四角の中から見つけて点と点を線で結びましょう。

The grid contains the following items in each box:

- Row 1: Spool of thread, Flag, Cow, Scissors with a fan and flowers.
- Row 2: Two shoes, Tomato, Pig, Bridge.
- Row 3: Ladybug, Samurai helmet, Pencil, Socks.

※1. このプリントは、しながわ・目黒こどもスクールのウェブサイトからダウンロードができます。無断複写・引用はご遠慮ください。

※2. このプリントを活用したオンライン授業のスケジュールは、しながわ・目黒こどもスクールのウェブサイトでご確認ください。











# おうちで、やろう。 年中児版

Study at home. 小学校受験の家庭学習教材

## 言語：音の理解 17

上の四角の中の絵のはじめから2番目の音をつなげてできるものを、下の絵から選んで点と点を線で結びましょう。



※1. このプリントは、しながわ・目黒こどもスクールのウェブサイトでダウンロードができます。無断複写・引用はご遠慮ください。  
※2. このプリントを活用したオンライン授業のスケジュールは、しながわ・目黒こどもスクールのウェブサイトでご確認ください。



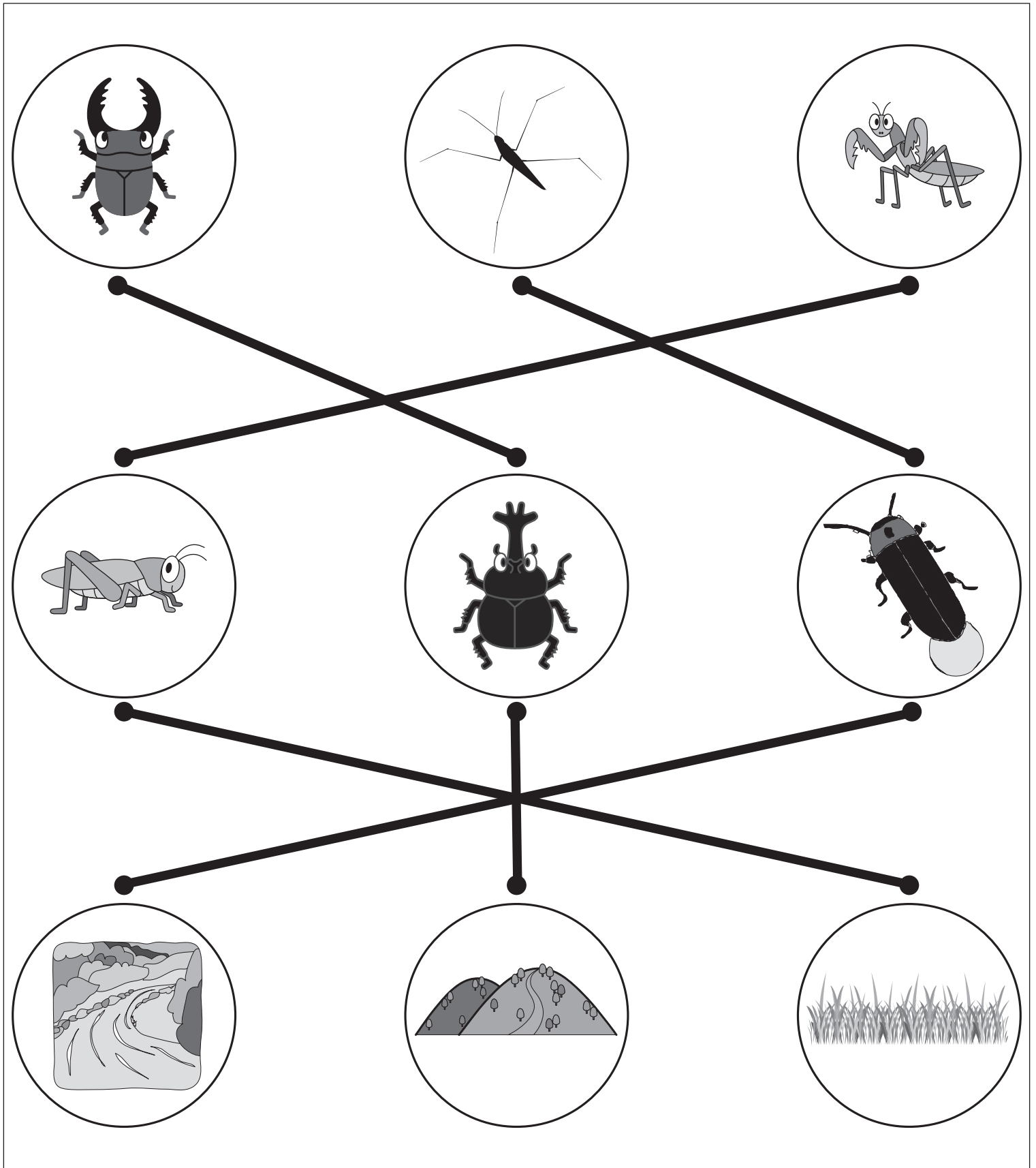


一番下の丸の中の場所にいる生き物を一番上、真ん中の丸の中の絵から探して点と点を線でつなぎます。

※1. このプリントは、しながわ・目黒こどもスクールのウェブサイトからダウンロードできます。無断複写・引用はご遠慮ください。  
 ※2. このプリントを活用したオンライン授業のスケジュールは、しながわ・目黒こどもスクールのウェブサイトでご確認ください。



一番下の丸の中の場所にいる生き物を一番上、真ん中の丸の中の絵から探して点と点を線でつなぎます。



※1. このプリントは、しながわ・目黒こどもスクールのウェブサイトでダウンロードができます。無断複写・引用はご遠慮ください。  
 ※2. このプリントを活用したオンライン授業のスケジュールは、しながわ・目黒こどもスクールのウェブサイトでご確認ください。

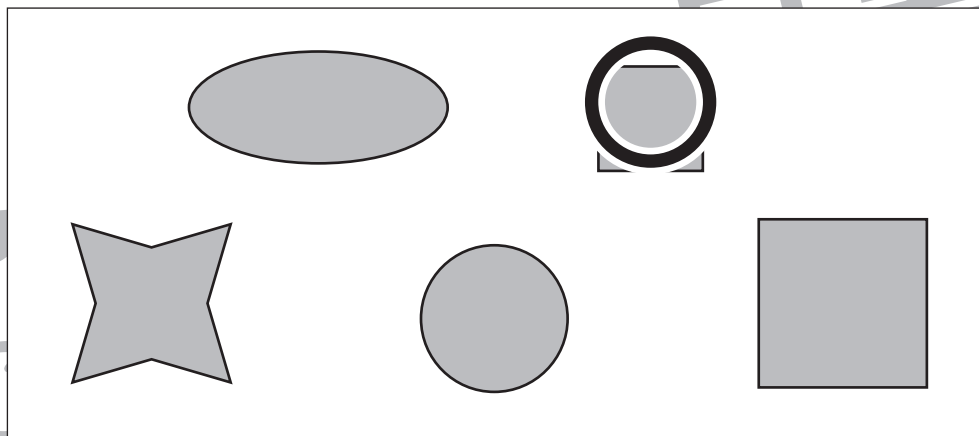
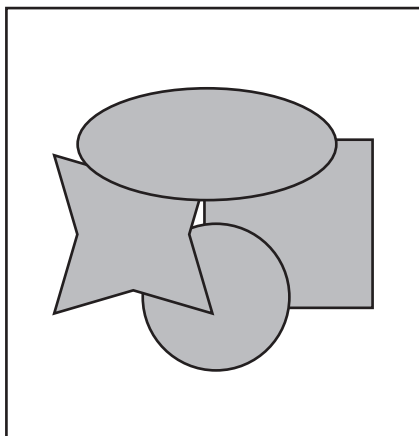

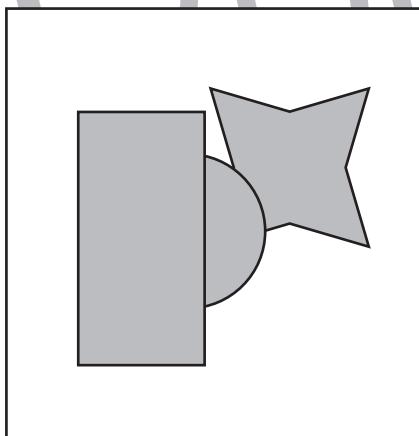
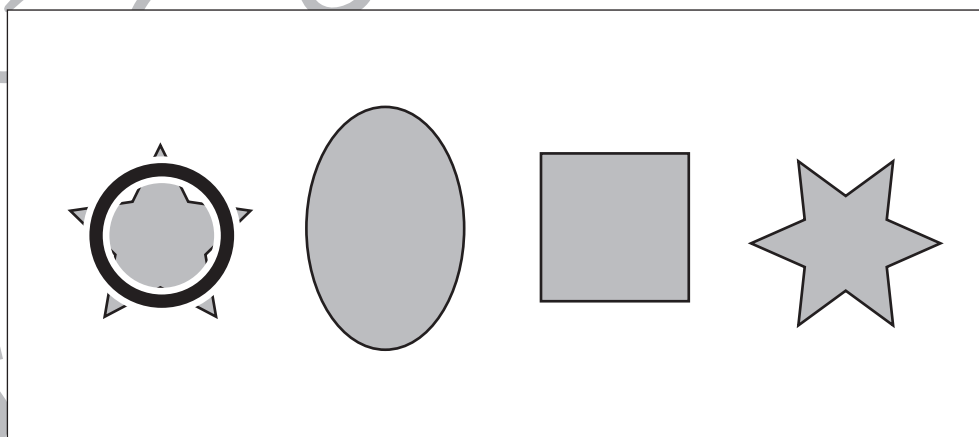
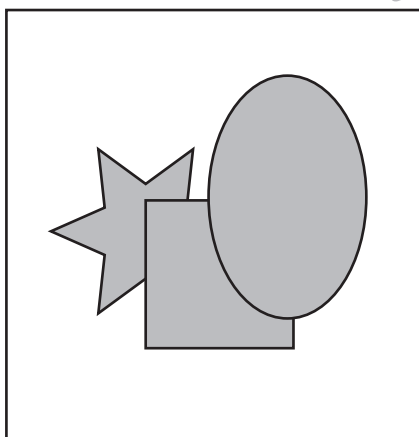
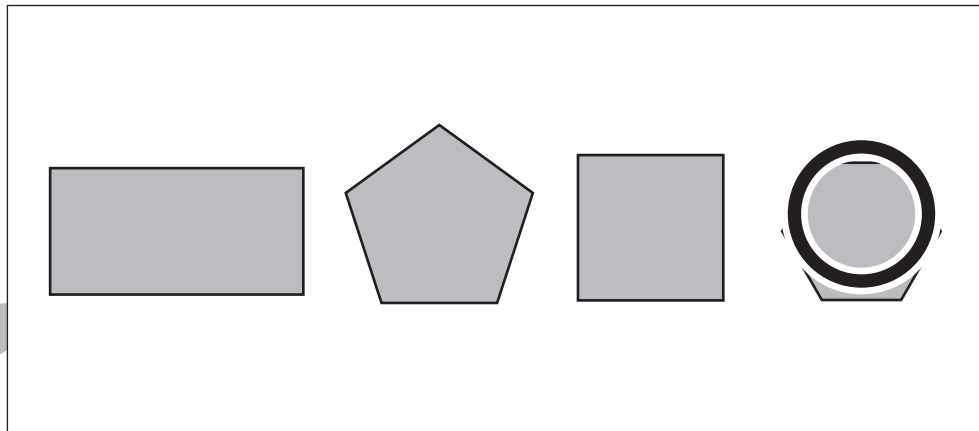
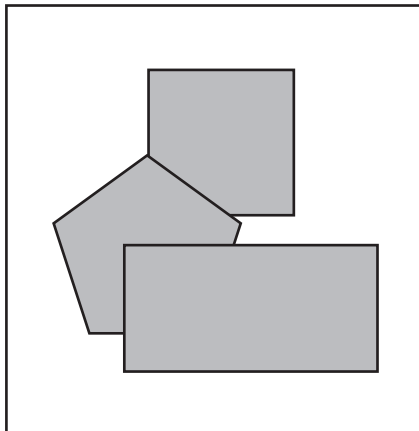


# おうちで、やろう。 年中児版

Study at home. 小学校受験の家庭学習教材

## 図形：重なり6

左の四角の中にはいろいろな形が重なった形があります。使っていない形がどれかを考えて右の四角の中の形に○をつけましょう。



※1. このプリントは、しながわ・目黒こどもスクールのウェブサイトでダウンロードができます。無断複写・引用はご遠慮ください。  
※2. このプリントを活用したオンライン授業のスケジュールは、しながわ・目黒こどもスクールのウェブサイトでご確認ください。





# おうちで、やろう。 年中児版

Study at home. 小学校受験の家庭学習教材

数量：加減 15

①今日は遠足なので、たかさんとゆかさんはお昼ご飯のおにぎりとサンドウィッチを作りました。たかさんはおにぎりを5個作り、お昼に3つ食べて、ゆかさんはサンドウィッチを6つ作り、お昼に4つ食べました。たかさんのおにぎりは残りいくつになりますか。その数だけ右の四角に○をかきましょう。



$$○ \times 2$$

②今日は雨なので、ゆかさんは家でお絵かきをすることにしました。最初にひまわりを3本描いたあと、チューリップを2本、すいせんを2本描きました。ゆかさんが描いたお花の数は合わせていくつになりますか。その数だけ右の四角に○をかきましょう。



$$○ \times 7$$

③たかさんはアイスクリームを買いにスーパーに出かけました。お母さんに1つ、お父さんに2つ、お兄ちゃんに1つ、アイスクリームを頼まれたので買って帰りました。袋の中を見ると、全部で6つアイスクリームが入っていました。たかさんは、自分の分のアイスクリームをいくつ買っていますか。その数だけ右の四角に○をかきましょう。



$$○ \times 2$$

※1. このプリントは、しながわ・目黒こどもスクールのウェブサイトからダウンロードできます。無断複写・引用はご遠慮ください。

※2. このプリントを活用したオンライン授業のスケジュールは、しながわ・目黒こどもスクールのウェブサイトでご確認ください。




# おうちで、やろう。 年中児版

Study at home. 小学校受験の家庭学習教材


数量：加減 16

①お月見の日に団子をなおやくんは5個、ゆうなさんは4個作りました。すると、お友だちのひなさんが来て「とても美味しそうだから2つ食べてもいい」と言い、食べました。残りの団子は全部でいくつになりますか。その数だけ右の四角に○をかきましょう。



$$○ \times 7$$

②なおやくんとゆうなさんが縄跳びで前跳びが何回跳べるか勝負をしています。なおやくんは前跳びを10回、ゆうなさんは前跳びを7回跳ぶことができました。ゆうなさんが勝つには、あと何回跳ぶといいですか。その数だけ、右の四角に○をかきましょう。



$$○ \times 4$$

③なおやくんとゆうなさんはお母さんに12ページある絵本を読んでもらっています。5ページ目を読み終わったときに、なおやくんとゆうなさんが眠たくなってしまったので、お昼寝をすることにしました。絵本を読み終えるにはあと何ページ残っていますか。その数だけ、右の四角に○をかきましょう。



$$○ \times 7$$

※1. このプリントは、しながわ・目黒こどもスクールのウェブサイトでダウンロードができます。無断複写・引用はご遠慮ください。

※2. このプリントを活用したオンライン授業のスケジュールは、しながわ・目黒こどもスクールのウェブサイトでご確認ください。