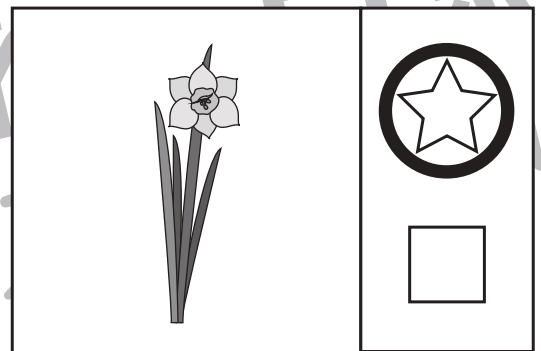



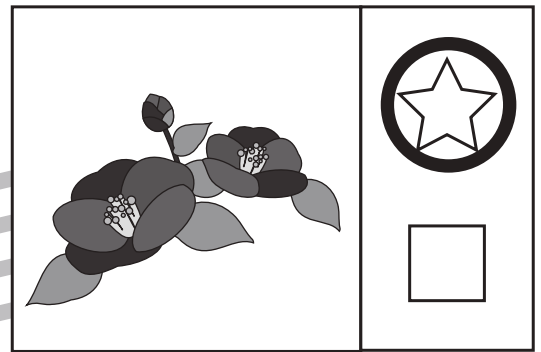







四角の中の絵が冬のものには☆を、冬のものではないものには□を、○で囲みましょう。



※1. このプリントは、しながわ・目黒こどもスクールのウェブサイトでダウンロードができます。無断複写・引用はご遠慮ください。
 ※2. このプリントを活用したオンライン授業のスケジュールは、しながわ・目黒こどもスクールのウェブサイトでご確認ください。




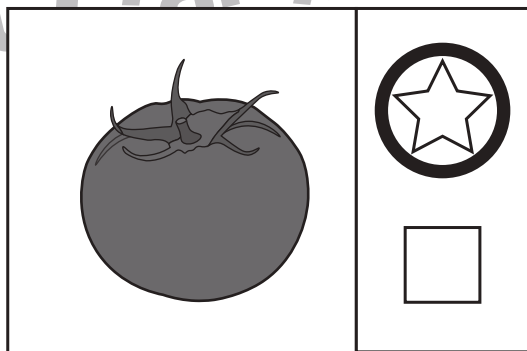
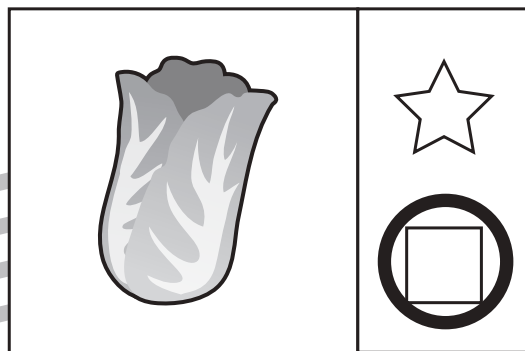
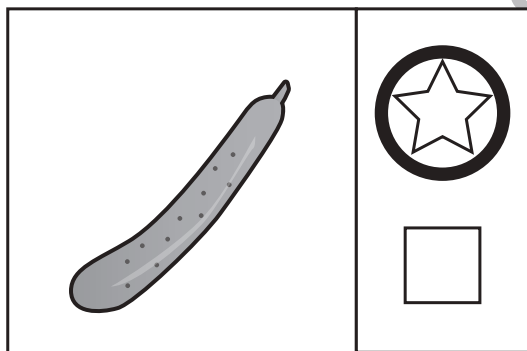
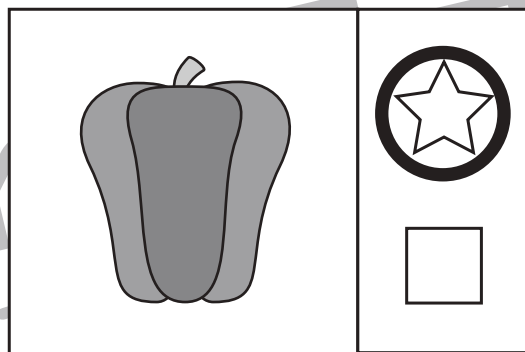
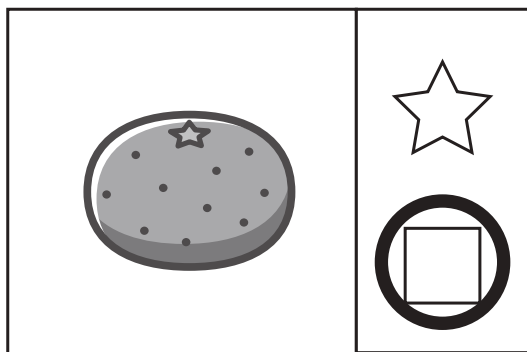


おうちで、やろう。 年中児版

Study at home. 小学校受験の家庭学習教材

常識：仲間分け4

四角の中の絵が夏のものには☆を、冬のものには□を○で囲みましょう。



※1. このプリントは、しながわ・目黒こどもスクールのウェブサイトでダウンロードができます。無断複写・引用はご遠慮ください。
 ※2. このプリントを活用したオンライン授業のスケジュールは、しながわ・目黒こどもスクールのウェブサイトでご確認ください。



おうちで、やろう。 年中児版

Study at home. 小学校受験の家庭学習教材

数量：加減 17

●の四角の中の果物と▲の四角の中の果物を合わせたとき、果物が同じ数になる絵を下の四角から選んで○をつけましょう。

| | |
|---|---|
| ● | ▲ |
| | |

| | | |
|--|--|--|
| | | |
|--|--|--|

| | |
|---|---|
| ● | ▲ |
| | |

| | | |
|--|--|--|
| | | |
|--|--|--|

| | |
|---|---|
| ● | ▲ |
| | |

| | | |
|--|--|--|
| | | |
|--|--|--|

※1. このプリントは、しながわ・目黒こどもスクールのウェブサイトでダウンロードができます。無断複写・引用はご遠慮ください。
 ※2. このプリントを活用したオンライン授業のスケジュールは、しながわ・目黒こどもスクールのウェブサイトでご確認ください。



おうちで、やろう。 年中児版

Study at home. 小学校受験の家庭学習教材

数量：加減 18

●の四角の中の果物と▲の四角の中の果物を合わせたとき、果物が同じ数になる絵を下の四角から選んで○をつけましょう。

| | |
|---|---|
| ● | ▲ |
| | |

| | | |
|--|--|--|
| | | |
|--|--|--|

| | |
|---|---|
| ● | ▲ |
| | |

| | | |
|--|--|--|
| | | |
|--|--|--|

| | |
|---|---|
| ● | ▲ |
| | |

| | | |
|--|--|--|
| | | |
|--|--|--|

※1. このプリントは、しながわ・目黒こどもスクールのウェブサイトでダウンロードができます。無断複写・引用はご遠慮ください。
 ※2. このプリントを活用したオンライン授業のスケジュールは、しながわ・目黒こどもスクールのウェブサイトでご確認ください。








おうちで、やろう。 年中児版

Study at home. 小学校受験の家庭学習教材

数量：計数 27

下の四角の中の絵から、太い四角の中の動物を見つけて、その数だけその絵の右に○をかきましょう。



| | |
|---|---------------------------|
|  | <input type="radio"/> × 6 |
|  | <input type="radio"/> × 7 |
|  | <input type="radio"/> × 3 |
|  | <input type="radio"/> × 4 |

※1. このプリントは、しながわ・目黒こどもスクールのウェブサイトでダウンロードができます。無断複写・引用はご遠慮ください。

※2. このプリントを活用したオンライン授業のスケジュールは、しながわ・目黒こどもスクールのウェブサイトでご確認ください。








おうちで、やろう。年中児版

Study at home. 小学校受験の家庭学習教材

数量：計数 28

上の四角の中から、下の太い四角の中のペンギンと同じものを見つけて、その数だけその絵の右に○をかきましょう。



| | |
|---|-------|
|  | ○ × 8 |
|  | ○ × 5 |
|  | ○ × 6 |
|  | ○ × 6 |

※1. このプリントは、しながわ・目黒こどもスクールのウェブサイトでダウンロードができます。無断複写・引用はご遠慮ください。

※2. このプリントを活用したオンライン授業のスケジュールは、しながわ・目黒こどもスクールのウェブサイトでご確認ください。




おうちで、やろう。 年中児版




Study at home. 小学校受験の家庭学習教材

数量：分割9


上の四角の中のものを物をウサギとクマとネコで同じ数ずつ分けるとき、それぞれ何個もらえますか。その数だけウサギとクマとネコの四角にそれぞれ〇をかきましょう。

①




| | | |
|--|--|--|
|  ○ × 3 |  ○ × 3 |  ○ × 3 |
|--|--|--|

②



| | | |
|--|--|--|
|  ○ × 4 |  ○ × 4 |  ○ × 4 |
|--|--|--|

③



| | | |
|--|--|--|
|  ○ × 5 |  ○ × 5 |  ○ × 5 |
|--|--|--|


※1. このプリントは、しながわ・目黒こどもスクールのウェブサイトからダウンロードができます。無断複写・引用はご遠慮ください。

※2. このプリントを活用したオンライン授業のスケジュールは、しながわ・目黒こどもスクールのウェブサイトでご確認ください。



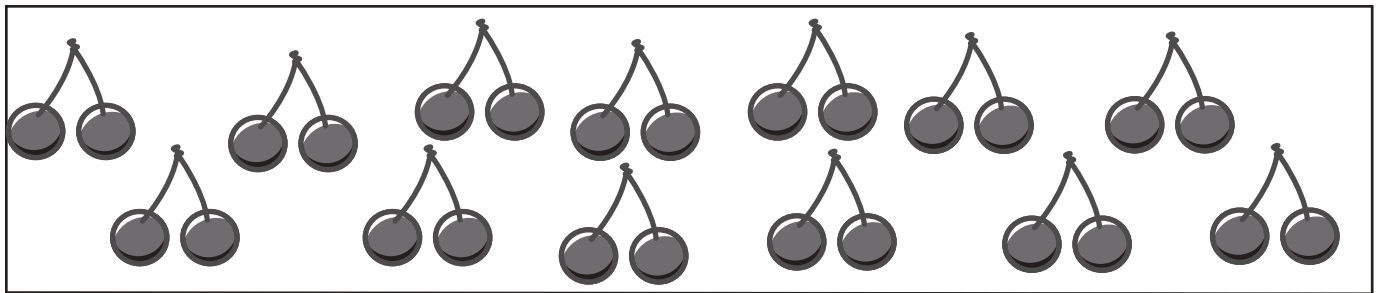
上の絵の四角の中のをウサギとクマとネコで同じ数ずつ分けたとき、果物はいくつ余りますか。その数だけ、下の四角に○をつけましょう。

①



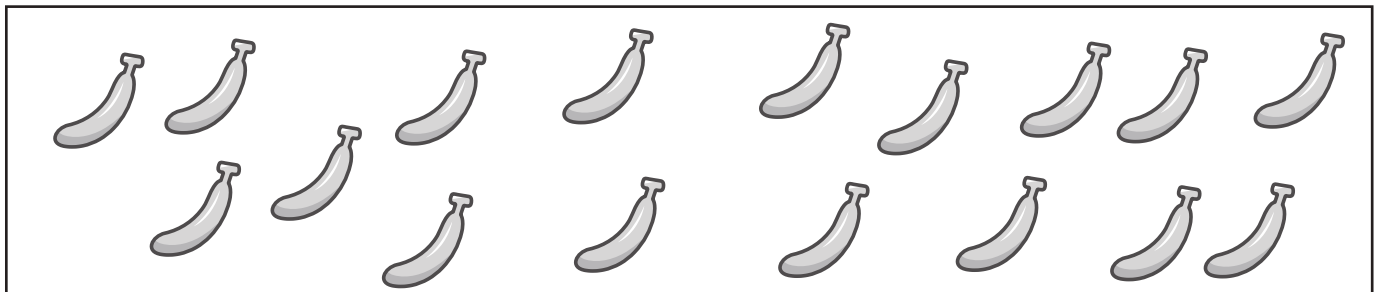
$$\bigcirc \times 2$$

②



$$\bigcirc \times 1$$

③



$$\bigcirc \times 2$$