



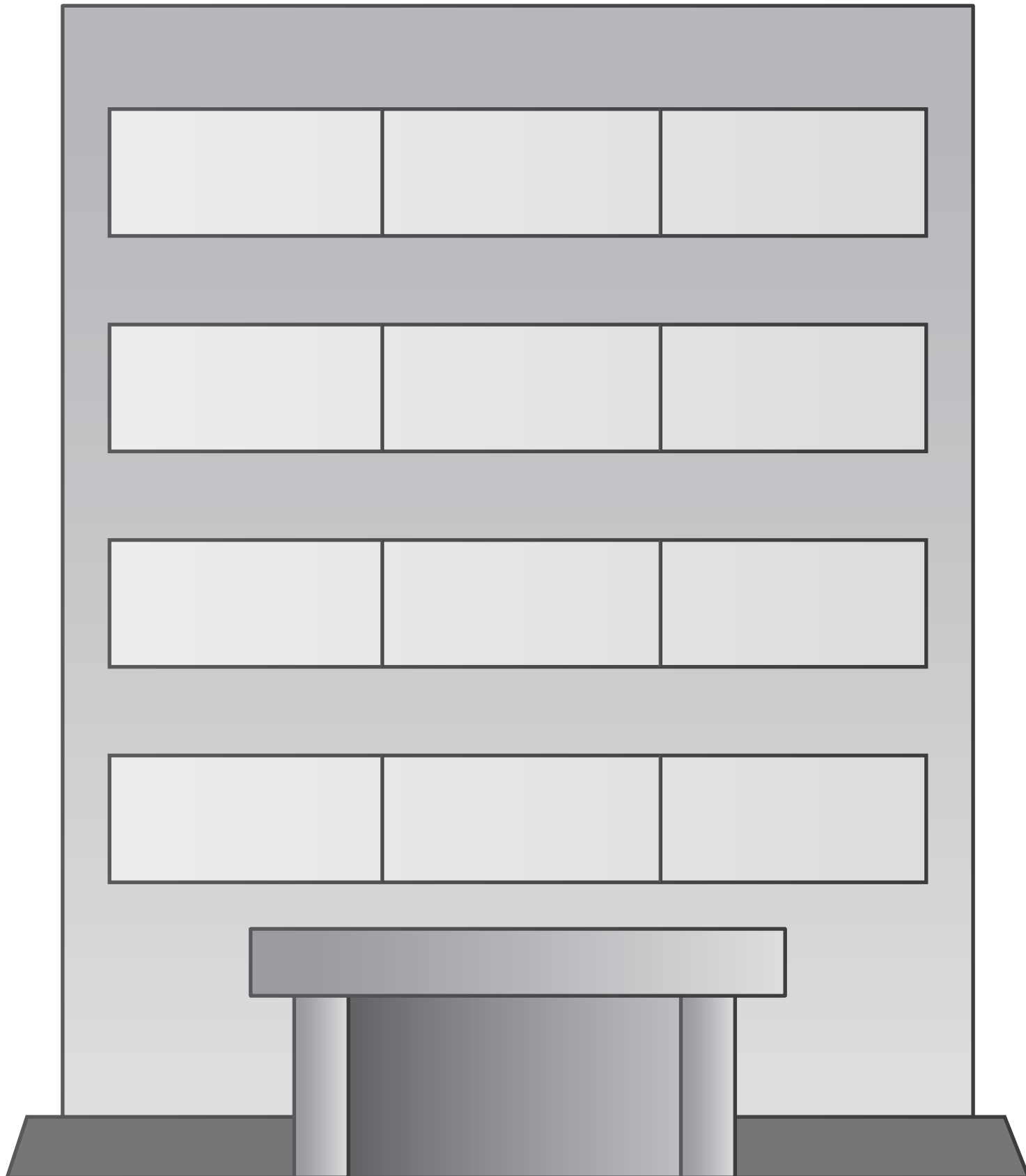
おうちで、やろう。 年中児版

Study at home. 小学校受験の家庭学習教材

指示の聞き取り 19

- ①～④の話を聞き、窓に印をつけましょう。
- ①下から3段目の真ん中の窓に○をつけましょう。
- ②上から2段目の一番左の窓に×をつけましょう。
- ③真ん中の列の一番下の段の窓に□をつけましょう。
- ④一番上の段の一番右の窓に△をつけましょう。

口 田



※1. このプリントは、しながわ・目黒こどもスクールのウェブサイトでダウンロードができます。無断複写・引用はご遠慮ください。
 ※2. このプリントを活用したオンライン授業のスケジュールは、しながわ・目黒こどもスクールのウェブサイトでご確認ください。


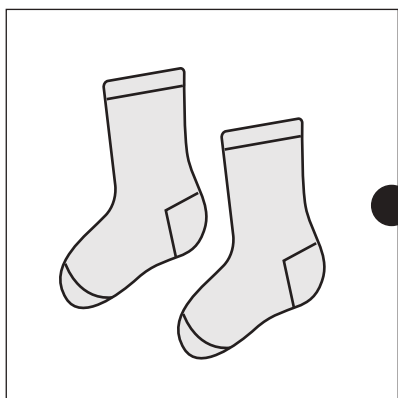




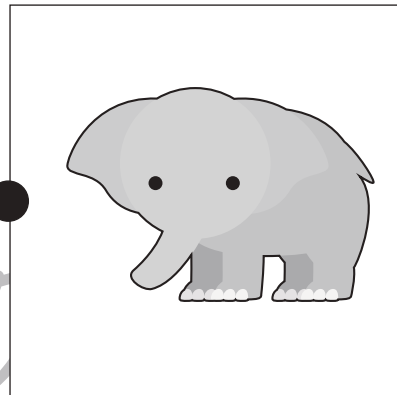



おうちで、やろう。 年中児版

Study at home. 小学校受験の家庭学習教材

言語：数え方3

左の四角の中の絵と同じ数え方をする絵を右の四角の中から選んで、線で結びましょう。



※1. このプリントは、しながわ・目黒こどもスクールのウェブサイトからダウンロードができます。無断複写・引用はご遠慮ください。

※2. このプリントを活用したオンライン授業のスケジュールは、しながわ・目黒こどもスクールのウェブサイトでご確認ください。

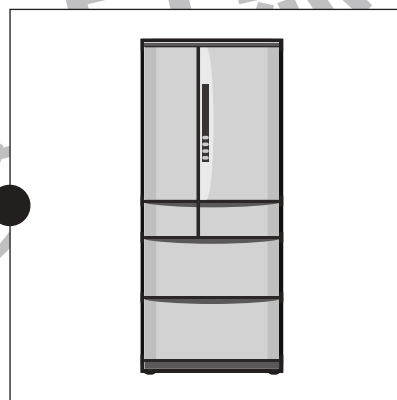



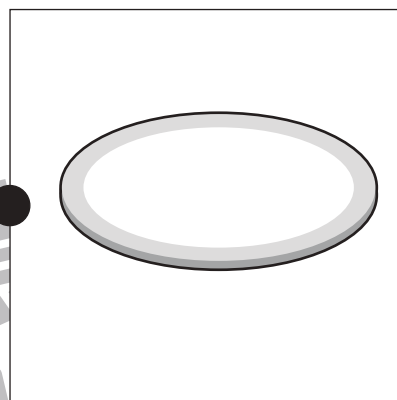
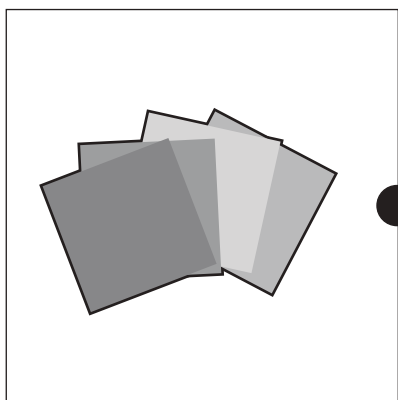




おうちで、やろう。 年中児版

Study at home. 小学校受験の家庭学習教材

言語：数え方4

左の四角の中の絵と同じ数え方をする絵を右の四角の中から選んで、線で結びましょう。



※1. このプリントは、しながわ・目黒こどもスクールのウェブサイトからダウンロードができます。無断複写・引用はご遠慮ください。

※2. このプリントを活用したオンライン授業のスケジュールは、しながわ・目黒こどもスクールのウェブサイトでご確認ください。





おうちで、やろう。 年中児版

Study at home. 小学校受験の家庭学習教材

常識：生活9

下の四角の中から掃除に使う道具を見つけて○をつけましょう。



※1. このプリントは、しながわ・目黒こどもスクールのウェブサイトからダウンロードできます。無断複写・引用はご遠慮ください。

※2. このプリントを活用したオンライン授業のスケジュールは、しながわ・目黒こどもスクールのウェブサイトでご確認ください。

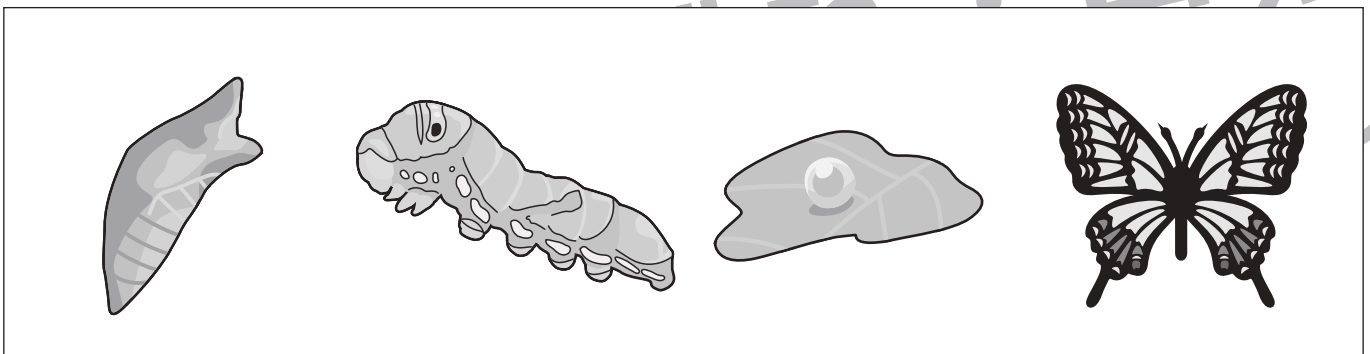

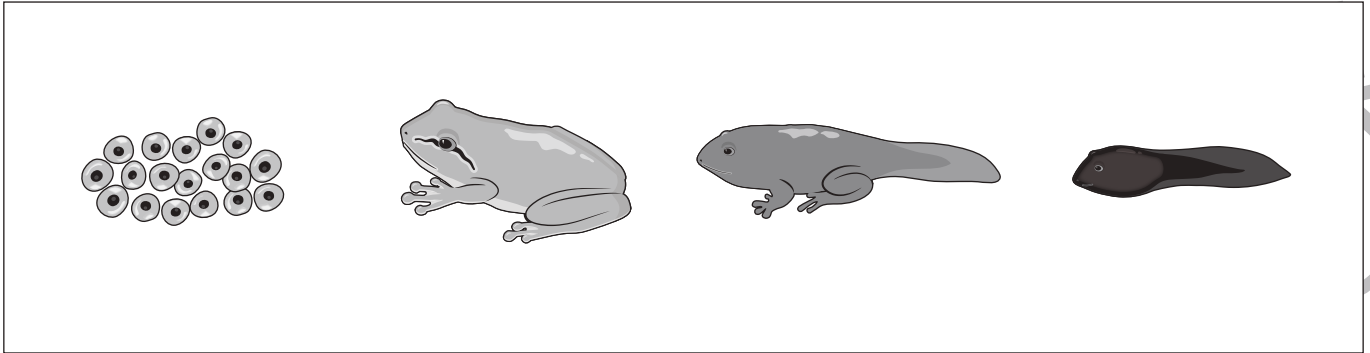


おうちで、やろう。 年中児版

Study at home. 小学校受験の家庭学習教材

推理：時系列1

それぞれの絵を育っていく順番に並べたとき、2番目になる絵に○をつけましょう。



※1. このプリントは、しながわ・目黒こどもスクールのウェブサイトからダウンロードできます。無断複写・引用はご遠慮ください。
※2. このプリントを活用したオンライン授業のスケジュールは、しながわ・目黒こどもスクールのウェブサイトでご確認ください。





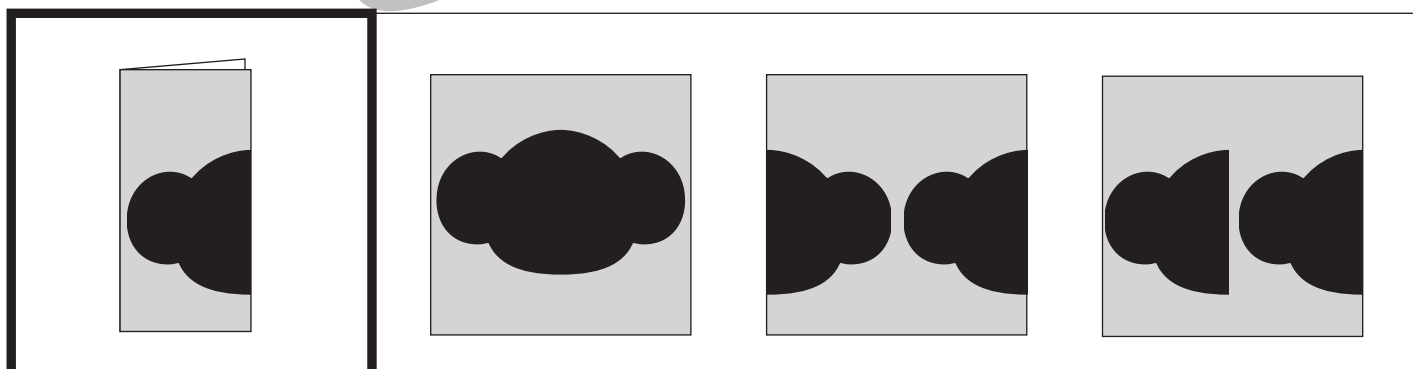
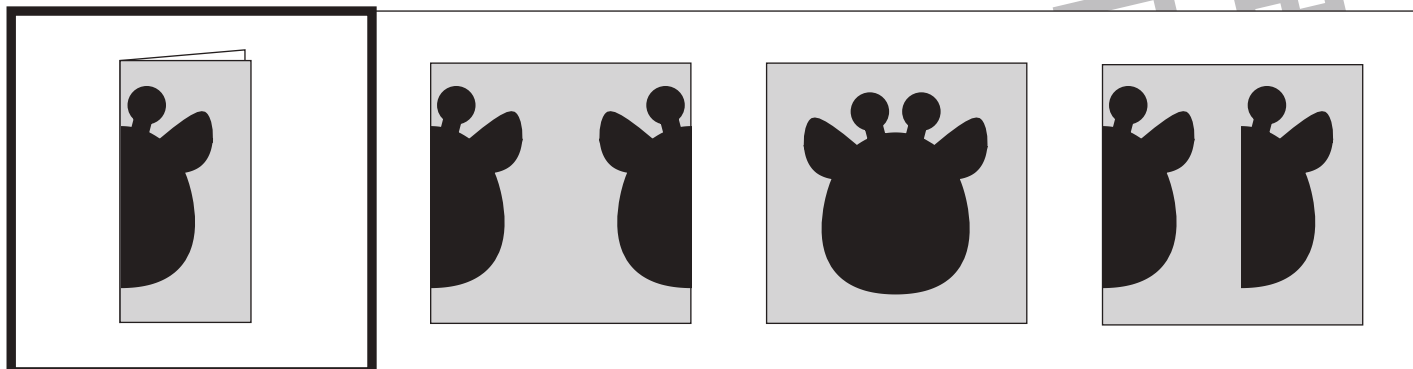


おうちで、やろう。 年中児版

Study at home. 小学校受験の家庭学習教材

図形：切り抜き3

左の太い四角の中の折り紙を半分に折り、黒い部分を切り抜いた時の見え方を考えて、右の四角の中から正しいものを選んで○をつけましょう。



※1. このプリントは、しながわ・目黒こどもスクールのウェブサイトでダウンロードができます。無断複写・引用はご遠慮ください。
 ※2. このプリントを活用したオンライン授業のスケジュールは、しながわ・目黒こどもスクールのウェブサイトでご確認ください。







おうちで、やろう。 年中児版



Study at home. 小学校受験の家庭学習教材



数量：足りない数6



太い四角の中が1人分のセットです。右の四角の中のをセットにしたとき、下の絵のものが足りません。それぞれいくつ足りないのかを考えてその数だけ〇をかきましょう。



	
---	--



	
--	---

		
---	--	---

	
---	--

		
---	--	---

※1. このプリントは、しながわ・目黒こどもスクールのウェブサイトでダウンロードができます。無断複写・引用はご遠慮ください。
 ※2. このプリントを活用したオンライン授業のスケジュールは、しながわ・目黒こどもスクールのウェブサイトでご確認ください。



おうちで、やろう。 年中児版

Study at home. 小学校受験の家庭学習教材

運筆：塗り6


- ①どんぐりを茶色のクーピーで濃く塗りましょう。
- ②どんぐりのヘタを茶色のクーピーで薄く塗りましょう。
- ③コスモスの花の真ん中の丸い部分を黄色のクーピーで塗りましょう。
- ④コスモスの花を桃色のクーピーで塗りましょう。
- ⑤コスモスの葉と茎を黄緑色のクーピーで塗りましょう。

※塗るときは線からはみ出ないようにしましょう。

※濃淡を意識しましょう。

※この問題に答えはありません。

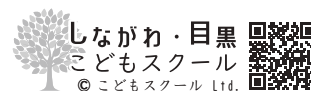
しながわ・目黒



ICT教育の小学校受験

※1. このプリントは、しながわ・目黒こどもスクールのウェブサイトでダウンロードができます。無断複写・引用はご遠慮ください。

※2. このプリントを活用したオンライン授業のスケジュールは、しながわ・目黒こどもスクールのウェブサイトでご確認ください。



しながわ・目黒
こどもスクール
© こどもスクール Ltd.