



おうちで、やろう。年中児版

Study at home. 小学校受験の家庭学習教材


記憶：絵の記憶8

別紙『記憶 - 絵の記憶8記憶用紙』を覚えて問題に答えましょう。

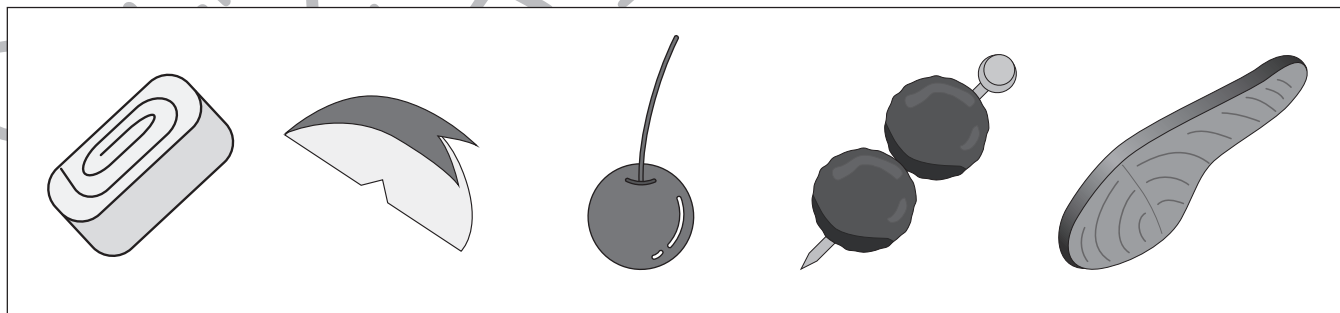
※このプリントの解答は記憶用紙で確認してください。

①おにぎりは全部でいくつ入っていましたか。その数だけ、下の四角に○をかきましょう。


②おにぎりと同じ場所に入っていた、おかずは何でしたか。正しい絵に○をつけましょう。



③お弁当に入っていないものに○をつけましょう。



④お弁当を食べるために使っていた道具は何でしたか。正しい絵に○をつけましょう。



※1. このプリントは、しながわ・目黒こどもスクールのウェブサイトダウンロードできます。無断複写・引用はご遠慮ください。

※2. このプリントを活用したオンライン授業のスケジュールは、しながわ・目黒こどもスクールのウェブサイトでご確認ください。





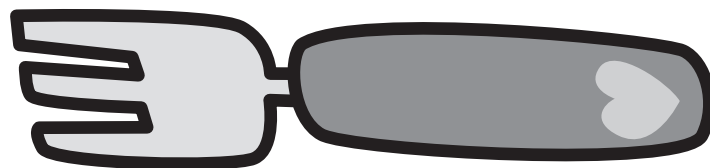
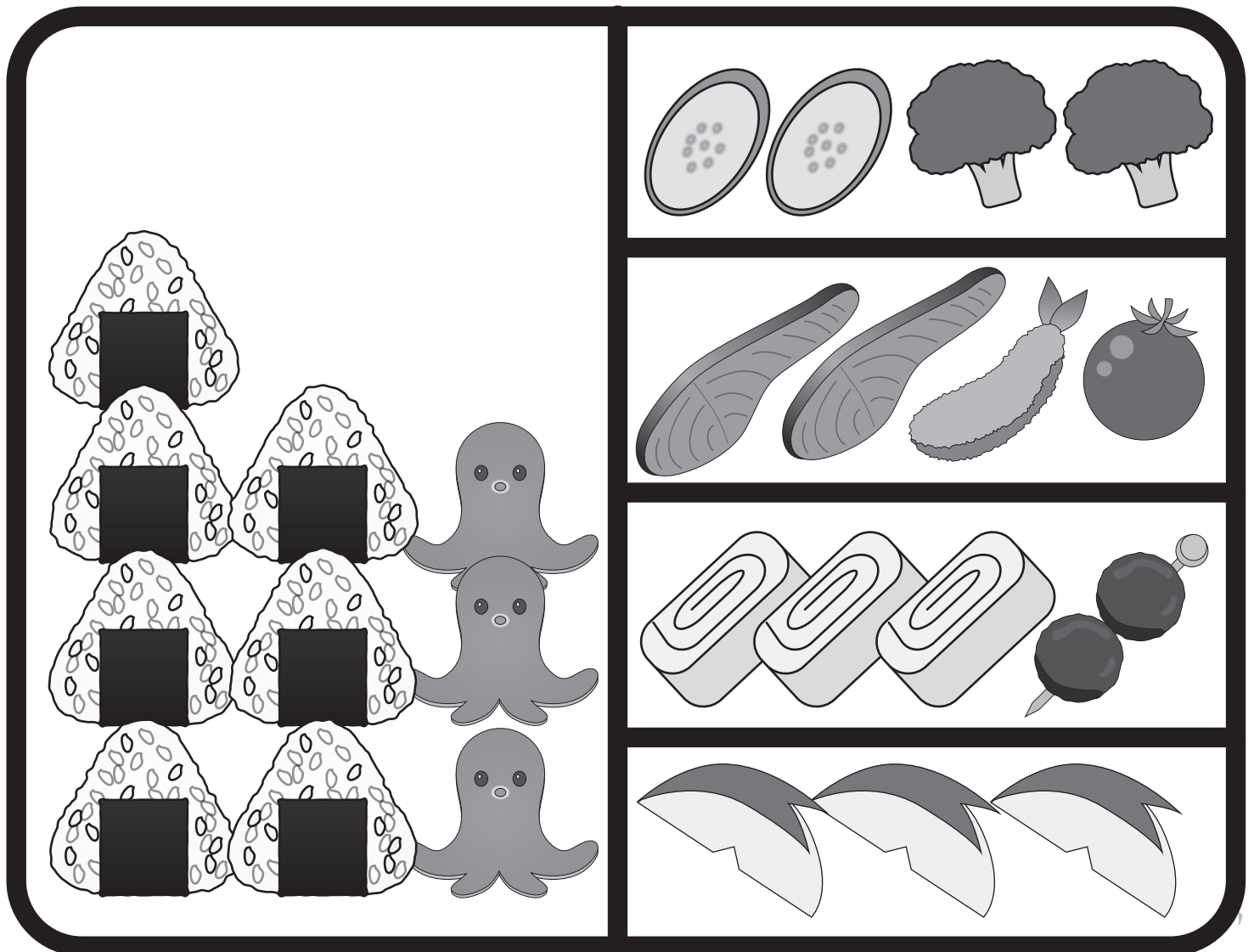

おうちで、やろう。 年中児版

Study at home. 小学校受験の家庭学習教材

記憶：絵の記憶8

(※このプリントは記憶用紙です。)

※このプリントのお手本を覚えたあとに、【記憶：絵の記憶8】の問題に取り組みましょう。



※1. このプリントは、しながわ・目黒こどもスクールのウェブサイトからダウンロードできます。無断複写・引用はご遠慮ください。

※2. このプリントを活用したオンライン授業のスケジュールは、しながわ・目黒こどもスクールのウェブサイトでご確認ください。

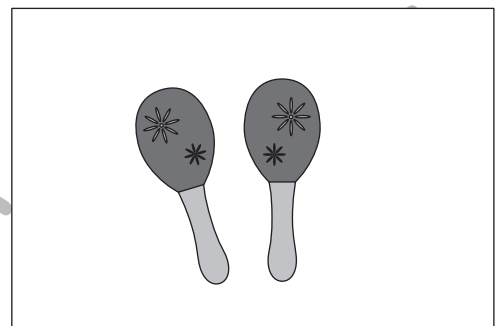





おうちで、やろう。年中児版

Study at home. 小学校受験の家庭学習教材

言語：言葉3

- ①「ふく」という言葉に合う絵はどれですか。左と右の四角で中間のものを見つけて、四角と四角を線で結びましょう。
- ②「たたく」という言葉に合う絵はどれですか。左と右の四角で中間のものを見つけて、四角と四角を線で結びましょう。
- ③「ひく」という言葉に合う絵はどれですか。左と右の四角で中間のものを見つけて、四角と四角を線で結びましょう。
- ④「はく」という言葉に合う絵はどれですか。左と右の四角で中間のものを見つけて、四角と四角を線で結びましょう。
- ⑤「ふる」という言葉に合う絵はどれですか。左と右の四角で中間のものを見つけて、四角と四角を線で結びましょう。



※1. このプリントは、しながわ・目黒こどもスクールのウェブサイトからダウンロードができます。無断複写・引用はご遠慮ください。

※2. このプリントを活用したオンライン授業のスケジュールは、しながわ・目黒こどもスクールのウェブサイトでご確認ください。






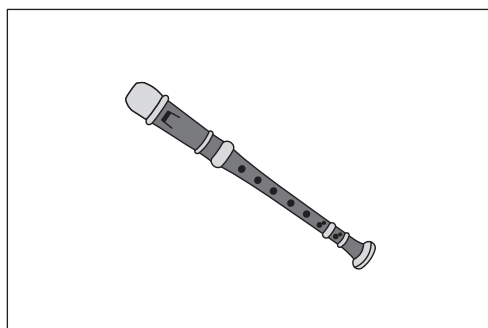



おうちで、やろう。 年中児版

Study at home. 小学校受験の家庭学習教材

言語：言葉4

- ①「きる」という言葉に合う絵はどれですか。左と右の四角で中間のものを見つけて、四角と四角を線で結びましょう。
- ②「かく」という言葉に合う絵はどれですか。左と右の四角で中間のものを見つけて、四角と四角を線で結びましょう。
- ③「ふく」という言葉に合う絵はどれですか。左と右の四角で中間のものを見つけて、四角と四角を線で結びましょう。
- ④「なく」という言葉に合う絵はどれですか。左と右の四角で中間のものを見つけて、四角と四角を線で結びましょう。
- ⑤「まく」という言葉に合う絵はどれですか。左と右の四角で中間のものを見つけて、四角と四角を線で結びましょう。



※1. このプリントは、しながわ・目黒こどもスクールのウェブサイトからダウンロードができます。無断複写・引用はご遠慮ください。

※2. このプリントを活用したオンライン授業のスケジュールは、しながわ・目黒こどもスクールのウェブサイトでご確認ください。





















おうちで、やろう。 年中児版

Study at home. 小学校受験の家庭学習教材

図形：置き換え 10

上の太上の太い四角が約束です。それぞれの絵を矢印の先の色に置き換えましょう。
上のマスにある絵の場所をよく考えて、下のマスをお約束通りの色のクーピーで塗りましょう。

 → 緑	 → 紫	 → 赤
--	--	--

※1. このプリントは、しながわ・目黒こどもスクールのウェブサイトでダウンロードができます。無断複写・引用はご遠慮ください。
※2. このプリントを活用したオンライン授業のスケジュールは、しながわ・目黒こどもスクールのウェブサイトでご確認ください。

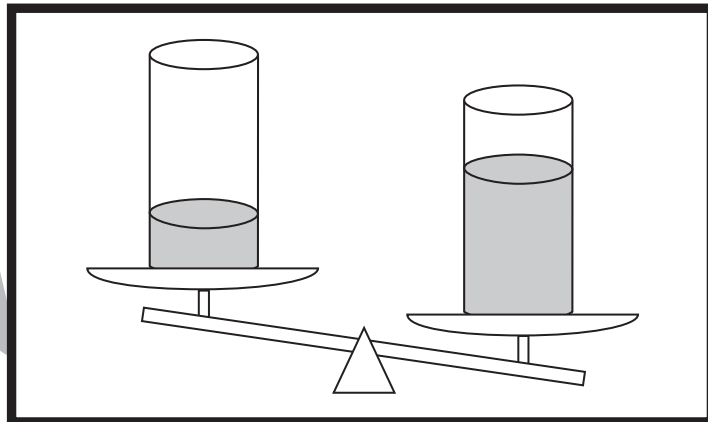


おうちで、やろう。 年中児版

Study at home. 小学校受験の家庭学習教材

推理：重さ7

太い四角の中のコップをシーソーで重さ比べをしました。すると、水量の多いコップの方が重くなりました。このお約束で①～⑥までのコップをそれぞれ重さ比べをしたとき、軽くなるコップに○をつけましょう。



目黒
ール

① 		④ 	
② 		⑤ 	
③ 		⑥ 	

※1. このプリントは、しながわ・目黒こどもスクールのウェブサイトでダウンロードができます。無断複写・引用はご遠慮ください。
※2. このプリントを活用したオンライン授業のスケジュールは、しながわ・目黒こどもスクールのウェブサイトでご確認ください。




おうちで、やろう。 年中児版

Study at home. 小学校受験の家庭学習教材

推理：水量3

太い四角の中のコップの水量を比べると、左のほうが多いです。

①～⑥までのコップの水量をそれぞれ比べたとき、水量が多いほうに○をつけましょう。



目黒
ール

① 		④ 	
② 		⑤ 	
③ 		⑥ 	

※1. このプリントは、しながわ・目黒こどもスクールのウェブサイトでダウンロードができます。無断複写・引用はご遠慮ください。
※2. このプリントを活用したオンライン授業のスケジュールは、しながわ・目黒こどもスクールのウェブサイトでご確認ください。















おうちで、やろう。 年中児版

Study at home. 小学校受験の家庭学習教材

図形：置き換え 11

上の太上の太い四角が約束です。それぞれの絵を矢印の先の記号に変えます。
上のマスにある絵の場所をよく考えて、下のマスに約束通りの記号をかきましょう。



※1. このプリントは、しながわ・目黒こどもスクールのウェブサイトでダウンロードができます。無断複写・引用はご遠慮ください。
 ※2. このプリントを活用したオンライン授業のスケジュールは、しながわ・目黒こどもスクールのウェブサイトでご確認ください。



おうちで、やろう。 年中児版

Study at home. 小学校受験の家庭学習教材

まちがいさがし26

上下の絵を見比べて、変わっているところを4つ探します。見つけたら、下の絵の変わっている部分に○をつけましょう。

