

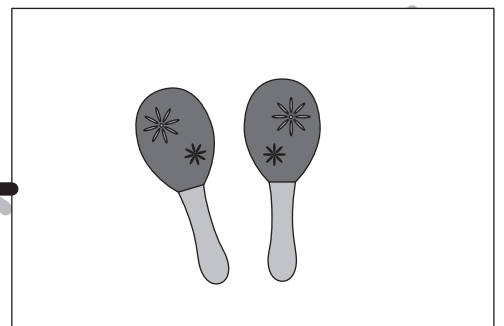







おうちで、やろう。 年中児版

Study at home. 小学校受験の家庭学習教材

言語：言葉3

- ①「ふく」という言葉に合う絵はどれですか。左と右の四角で中間のものを見つけて、四角と四角を線で結びましょう。
- ②「たたく」という言葉に合う絵はどれですか。左と右の四角で中間のものを見つけて、四角と四角を線で結びましょう。
- ③「ひく」という言葉に合う絵はどれですか。左と右の四角で中間のものを見つけて、四角と四角を線で結びましょう。
- ④「はく」という言葉に合う絵はどれですか。左と右の四角で中間のものを見つけて、四角と四角を線で結びましょう。
- ⑤「ふる」という言葉に合う絵はどれですか。左と右の四角で中間のものを見つけて、四角と四角を線で結びましょう。



※1. このプリントは、しながわ・目黒こどもスクールのウェブサイトでダウンロードができます。無断複写・引用はご遠慮ください。

※2. このプリントを活用したオンライン授業のスケジュールは、しながわ・目黒こどもスクールのウェブサイトでご確認ください。




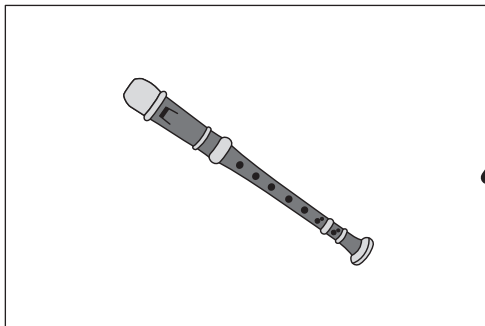


おうちで、やろう。 年中児版

Study at home. 小学校受験の家庭学習教材

言語：言葉4

- ①「きる」という言葉に合う絵はどれですか。左と右の四角で仲間のものを見つけて、四角と四角を線で結びましょう。
- ②「かく」という言葉に合う絵はどれですか。左と右の四角で仲間のものを見つけて、四角と四角を線で結びましょう。
- ③「ふく」という言葉に合う絵はどれですか。左と右の四角で仲間のものを見つけて、四角と四角を線で結びましょう。
- ④「なく」という言葉に合う絵はどれですか。左と右の四角で仲間のものを見つけて、四角と四角を線で結びましょう。
- ⑤「まく」という言葉に合う絵はどれですか。左と右の四角で仲間のものを見つけて、四角と四角を線で結びましょう。






※1. このプリントは、しながわ・目黒こどもスクールのウェブサイトでダウンロードができます。無断複写・引用はご遠慮ください。














※2. このプリントを活用したオンライン授業のスケジュールは、しながわ・目黒こどもスクールのウェブサイトでご確認ください。





上の太上の太い四角が約束です。それぞれの絵を矢印の先の色に置き換えましょう。
上のマスにある絵の場所をよく考えて、下のマスをお約束通りの色のクーピーで塗りましょう。

 → 緑	 → 紫	 → 赤
--	--	--

緑	赤		赤
		緑	
赤	紫	緑 紫	紫
	赤	緑	
赤		緑	紫

※1. このプリントは、しながわ・目黒こどもスクールのウェブサイトでダウンロードができます。無断複写・引用はご遠慮ください。
※2. このプリントを活用したオンライン授業のスケジュールは、しながわ・目黒こどもスクールのウェブサイトでご確認ください。

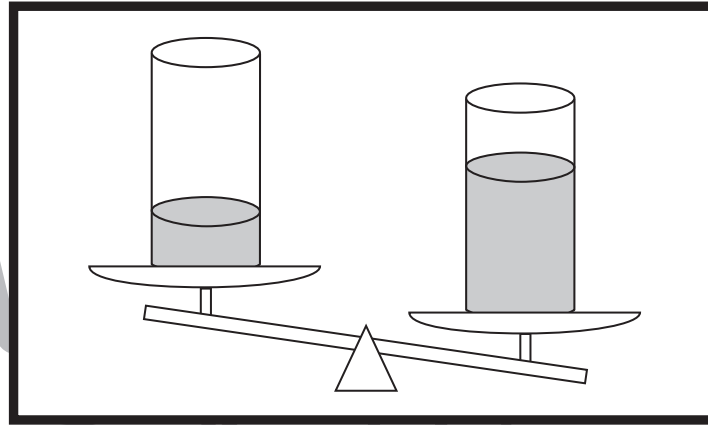


おうちで、やろう。 年中児版

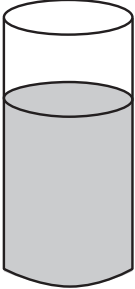





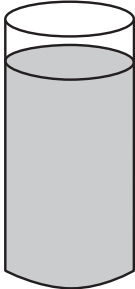



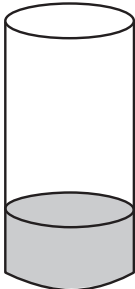

Study at home. 小学校受験の家庭学習教材

推理：重さ7

太い四角の中のコップをシーソーで重さ比べをしました。すると、水量の多いコップの方が重くなりました。このお約束で①～⑥までのコップをそれぞれ重さ比べをしたとき、軽くなるコップに○をつけましょう。



目黒
ール

<p>①</p> 		<p>④</p> 	
<p>②</p> 		<p>⑤</p> 	
<p>③</p> 		<p>⑥</p> 	

※1. このプリントは、しながわ・目黒こどもスクールのウェブサイトでダウンロードができます。無断複写・引用はご遠慮ください。
※2. このプリントを活用したオンライン授業のスケジュールは、しながわ・目黒こどもスクールのウェブサイトでご確認ください。



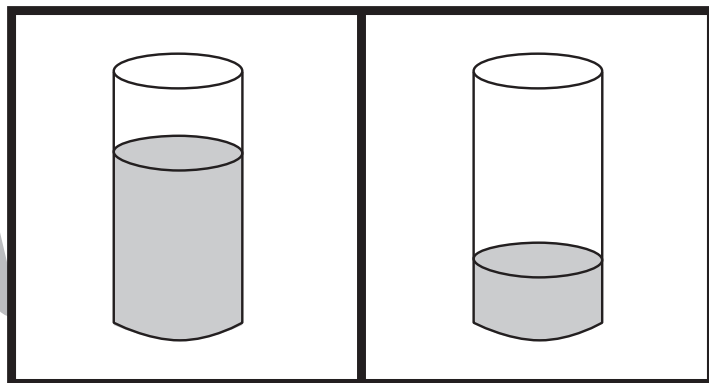
おうちで、やろう。 年中児版

Study at home. 小学校受験の家庭学習教材

推理：水量3

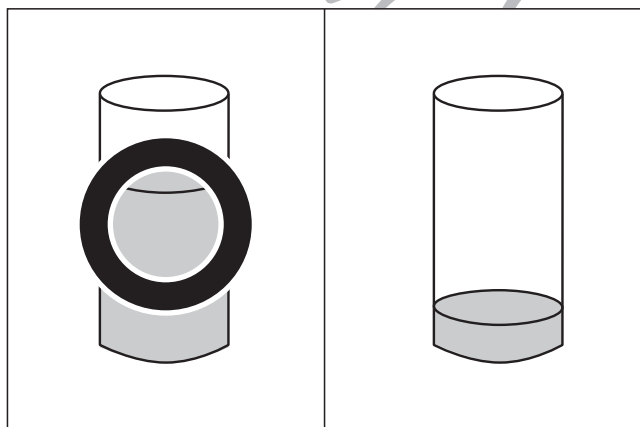
太い四角の中のコップの水量を比べると、左のほうが多いです。

①～⑥までのコップの水量をそれぞれ比べたとき、水量が多いほうに○をつけましょう。

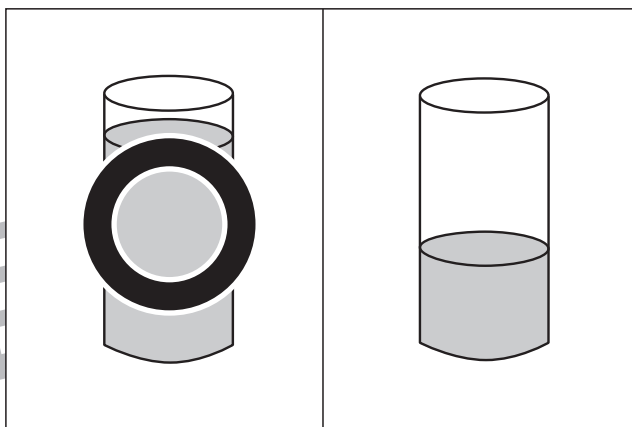


目黒
ール

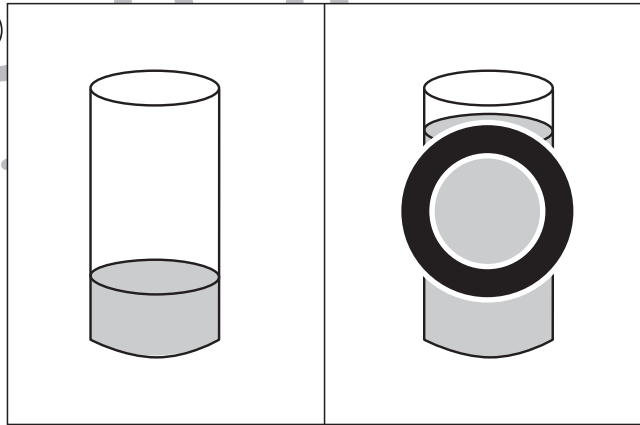
①



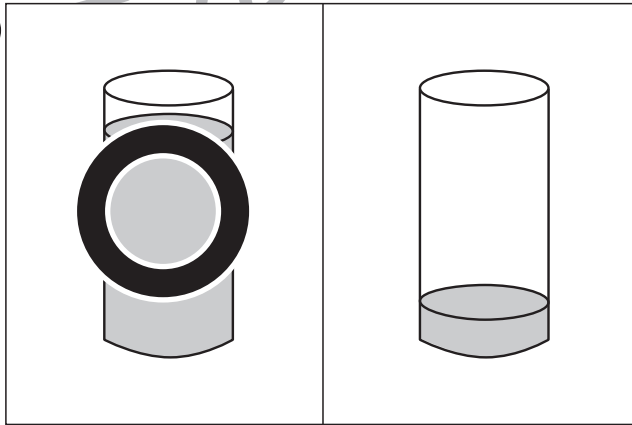
④



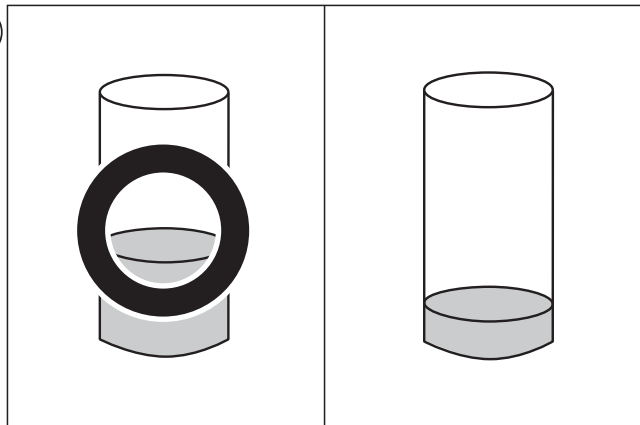
②



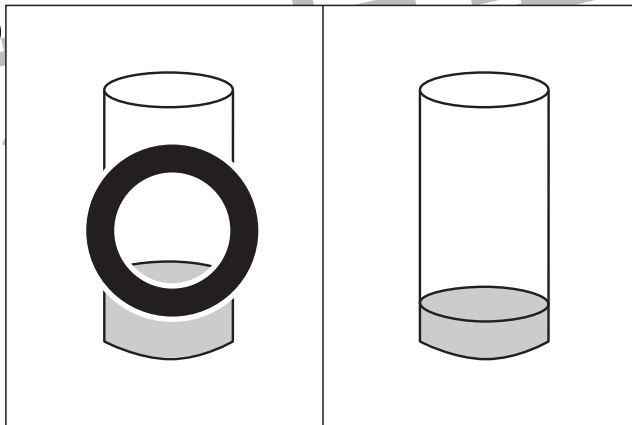
⑤



③



⑥



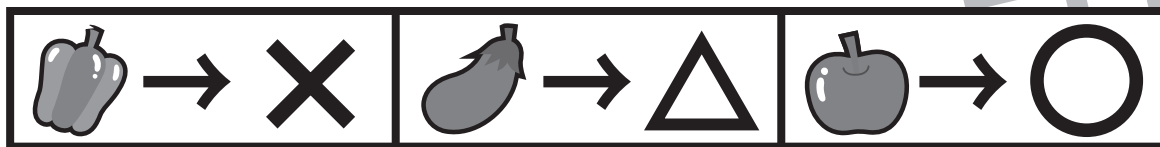
※1. このプリントは、しながわ・目黒こどもスクールのウェブサイトでダウンロードができます。無断複写・引用はご遠慮ください。












※2. このプリントを活用したオンライン授業のスケジュールは、しながわ・目黒こどもスクールのウェブサイトでご確認ください。
















上の太上の太い四角が約束です。それぞれの絵を矢印の先の記号に変えます。
上のマスにある絵の場所をよく考えて、下のマスに約束通りの記号をかきましょう。



※1. このプリントは、しながわ・目黒こどもスクールのウェブサイトでダウンロードができます。無断複写・引用はご遠慮ください。
 ※2. このプリントを活用したオンライン授業のスケジュールは、しながわ・目黒こどもスクールのウェブサイトでご確認ください。



おうちで、やろう。 年中児版

Study at home. 小学校受験の家庭学習教材

まちがいさがし26

上下の絵を見比べて、変わっているところを4つ探します。見つけたら、下の絵の変わっている部分に○をつけましょう。

