



おうちで、やろう。

Study at home. 小学校受験の家庭学習教材

指示の聞き取り 31

マンションに動物たちが住んでいます。指示は1度ですべて読み上げます。しっかり聞いて、問題に答えましょう。

- ①一番下の階の右端に住んでいる動物に青のクーピーで○をつけます。
- ②真ん中の階の左から2番目に住んでいる動物に黒のクーピーで○をつけます。
- ③トラの一つ下の階に住んでいる動物にオレンジ色のクーピーで○をつけます。
- ④ウマの3階上に住んでいる動物に緑のクーピーで○をつけます。
- ⑤ライオンの右斜め上に住んでいる動物に青のクーピーで△をつけます。



※1. このプリントは、しながわ・目黒こどもスクールのウェブサイトでダウンロードができます。無断複写・引用はご遠慮ください。
 ※2. このプリントを活用したオンライン授業のスケジュールは、しながわ・目黒こどもスクールのウェブサイトでご確認ください。

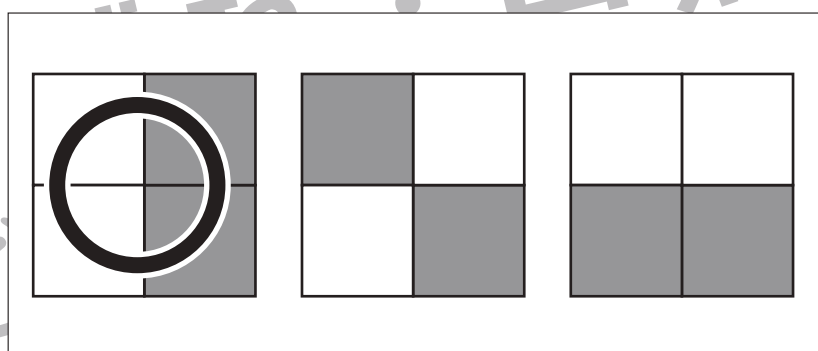
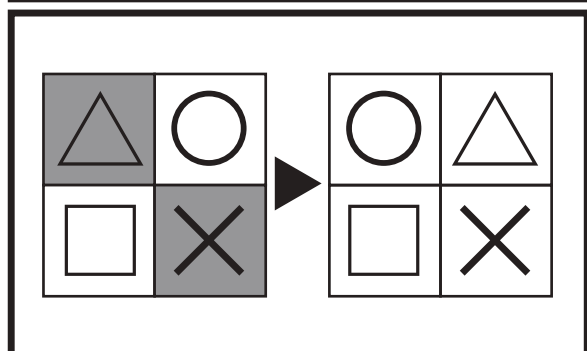
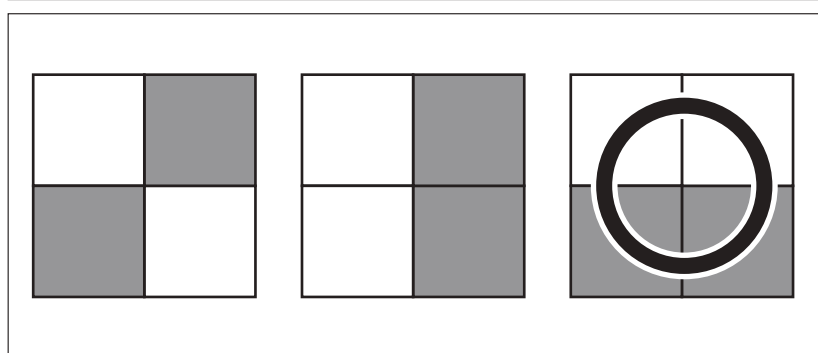
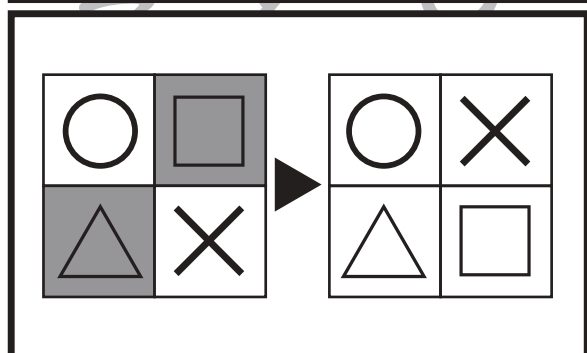
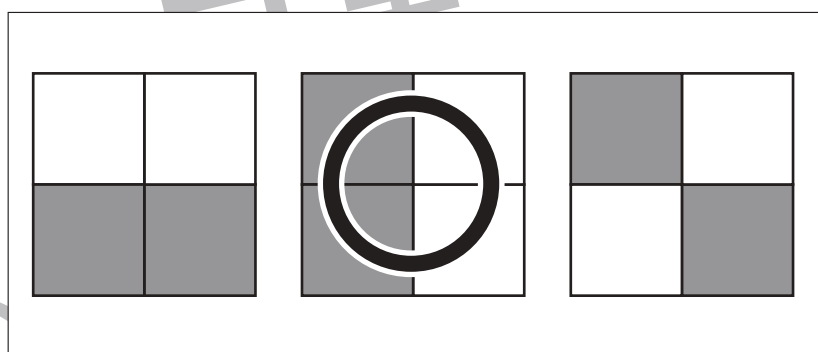
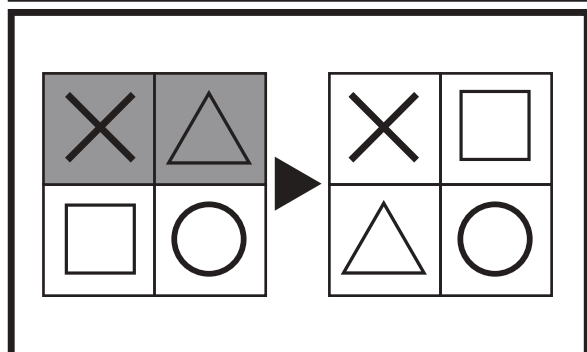
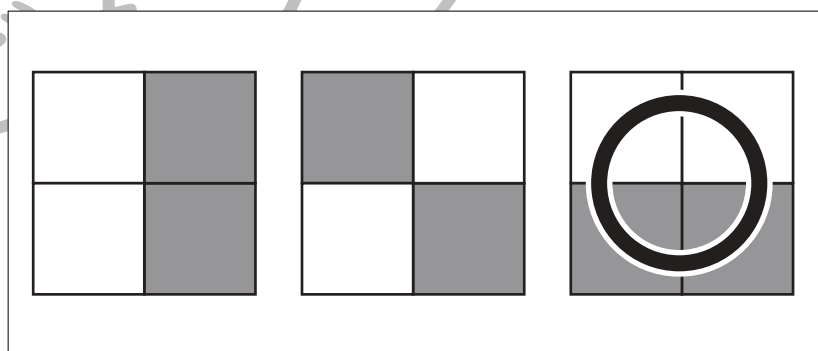
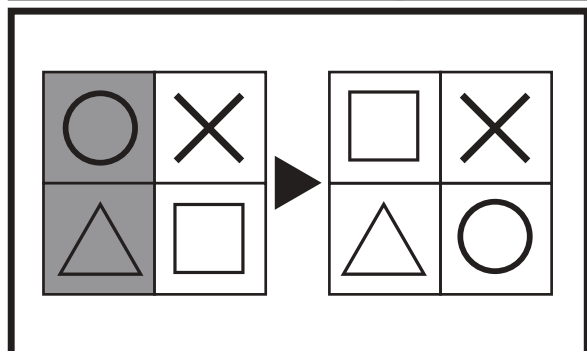
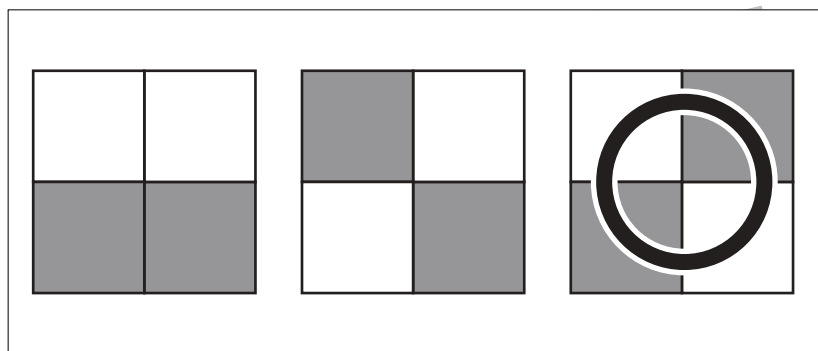
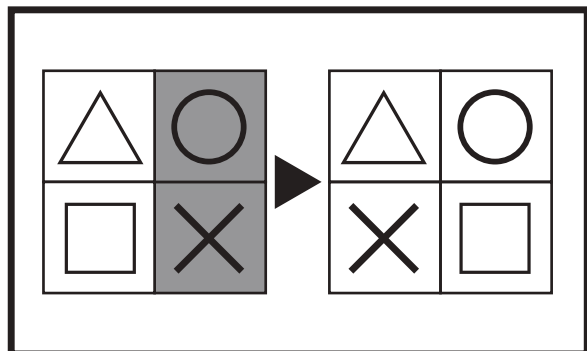


おうちで、やろう。

Study at home. 小学校受験の家庭学習教材

図形：構成 27

太い四角の中の左の四角がお手本です。これは4つのマスを集めて四角を作りました。右の四角は4つのマスを並びかえた四角です。この時、模様がどのようになるのか考えて、正しいもの右の3つの中から選んで○をつけます。



※1. このプリントは、しながわ・目黒こどもスクールのウェブサイトでダウンロードができます。無断複写・引用はご遠慮ください。

※2. このプリントを活用したオンライン授業のスケジュールは、しながわ・目黒こどもスクールのウェブサイトでご確認ください。

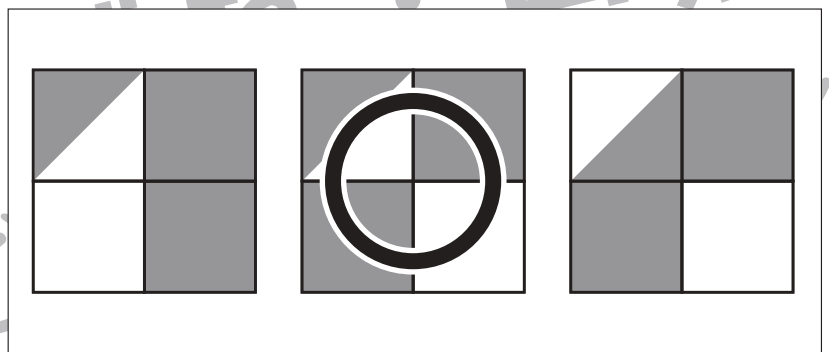
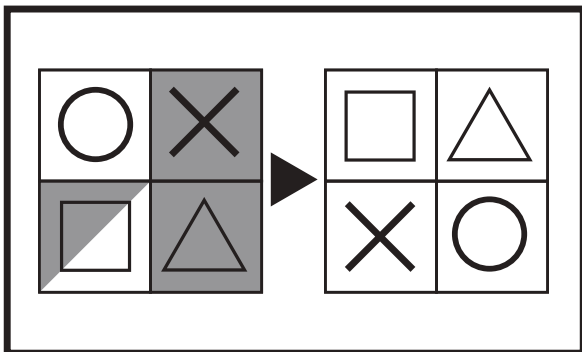
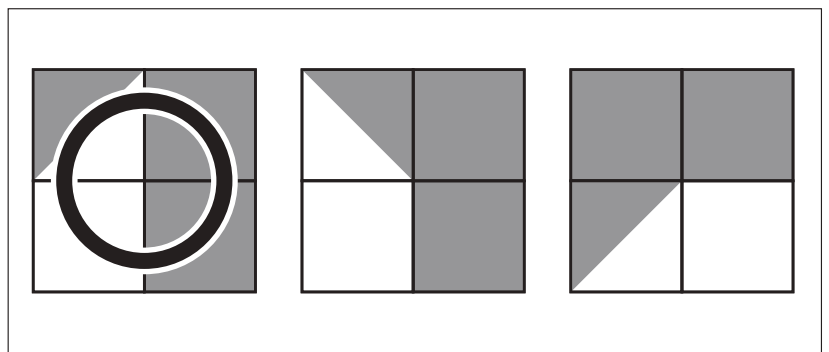
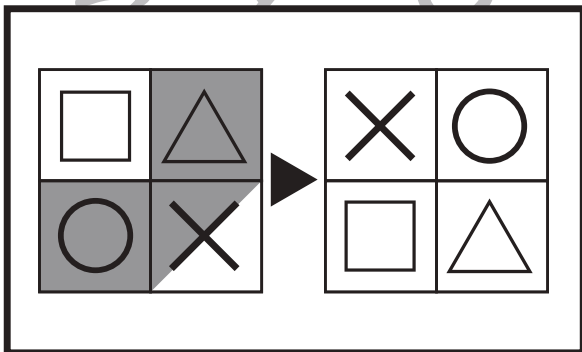
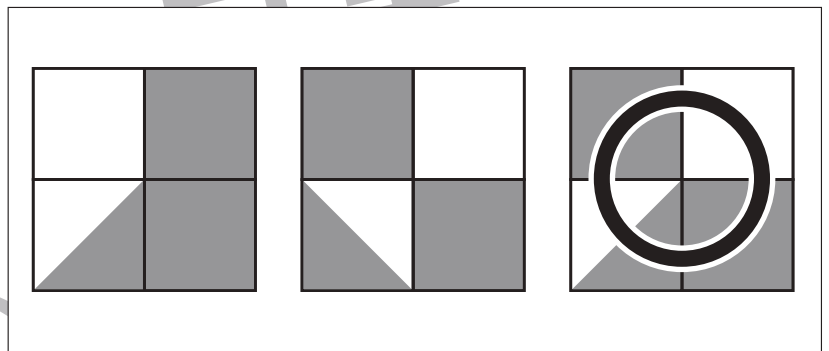
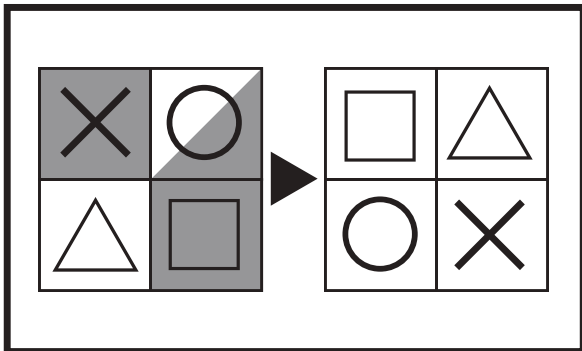
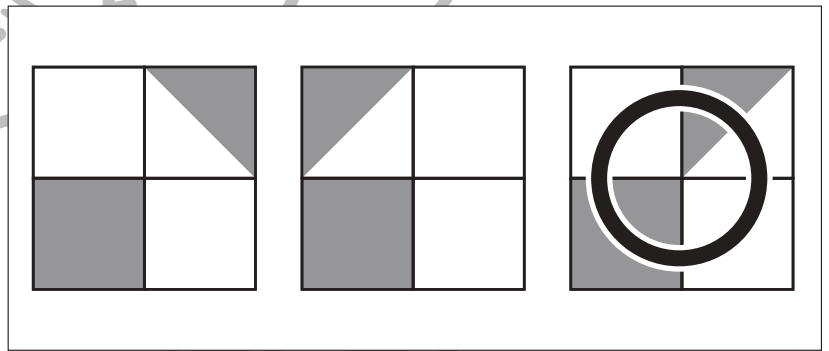
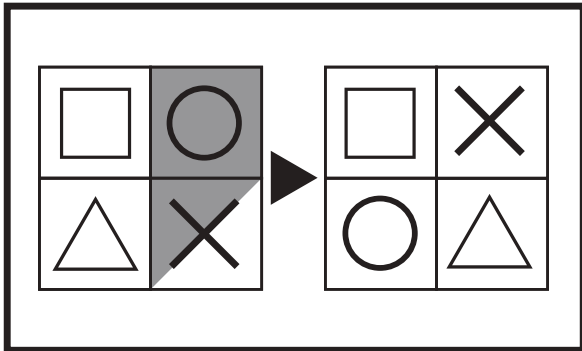
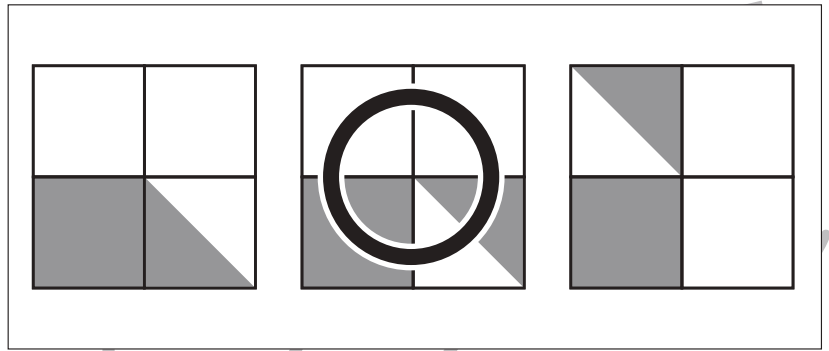
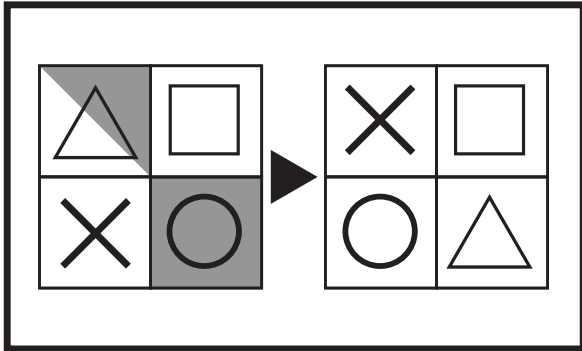


おうちで、やろう。

Study at home. 小学校受験の家庭学習教材

図形：構成 28

太い四角の中の左の四角がお手本です。これは4つのマスを集めて四角を作りました。右の四角は4つのマスを並びかえた四角です。この時、模様がどのようになるのか考えて、正しいもの右の3つの中から選んで○をつけます。



※1. このプリントは、しながわ・目黒こどもスクールのウェブサイトでダウンロードができます。無断複写・引用はご遠慮ください。
 ※2. このプリントを活用したオンライン授業のスケジュールは、しながわ・目黒こどもスクールのウェブサイトでご確認ください。

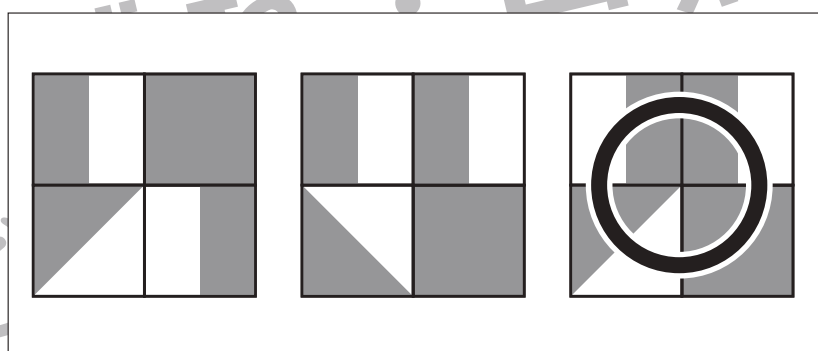
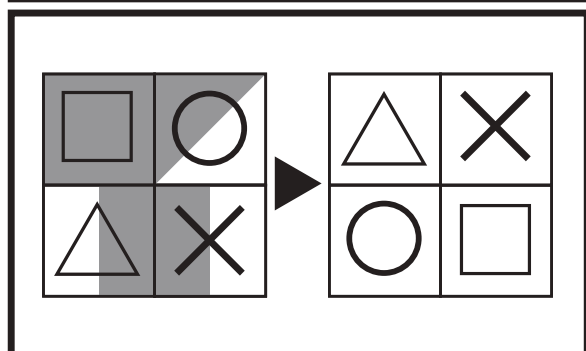
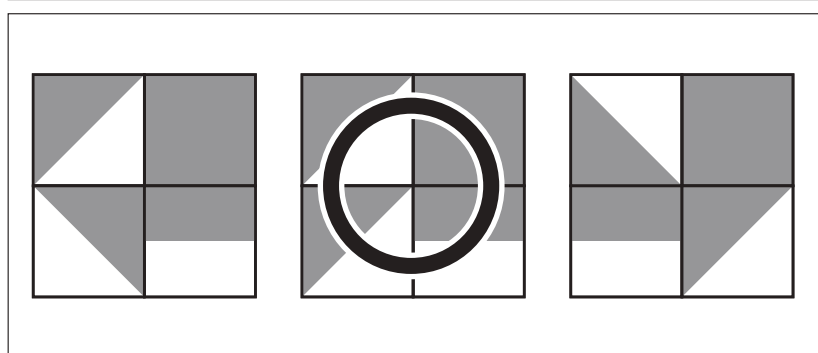
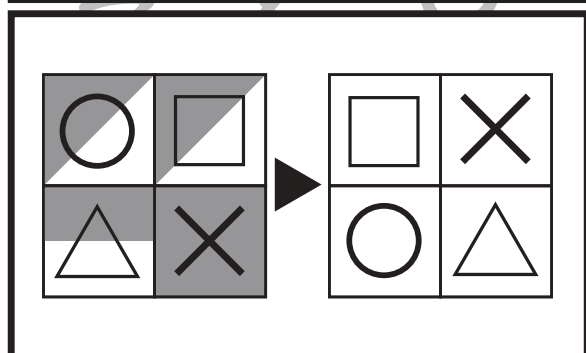
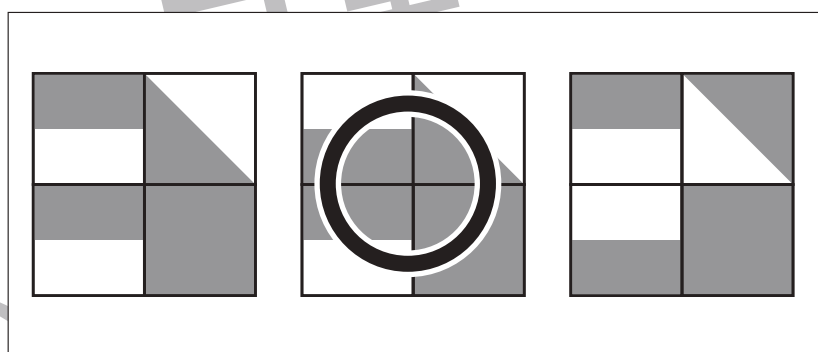
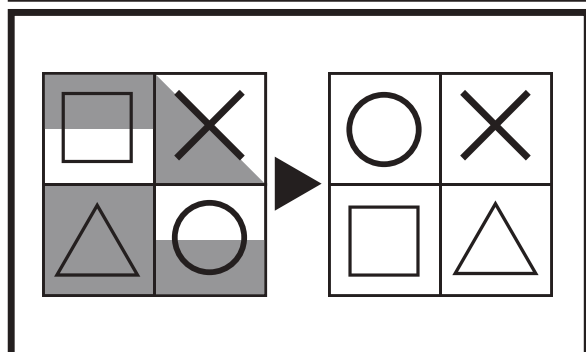
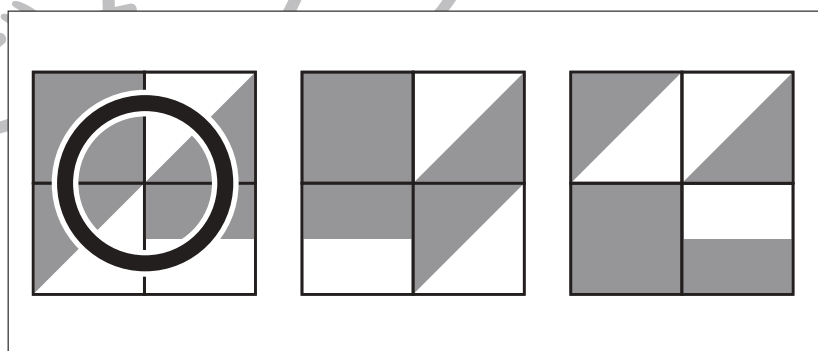
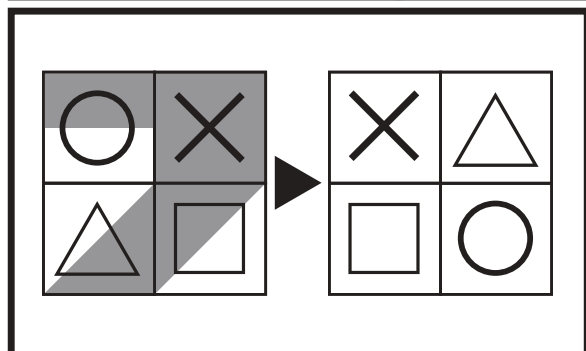
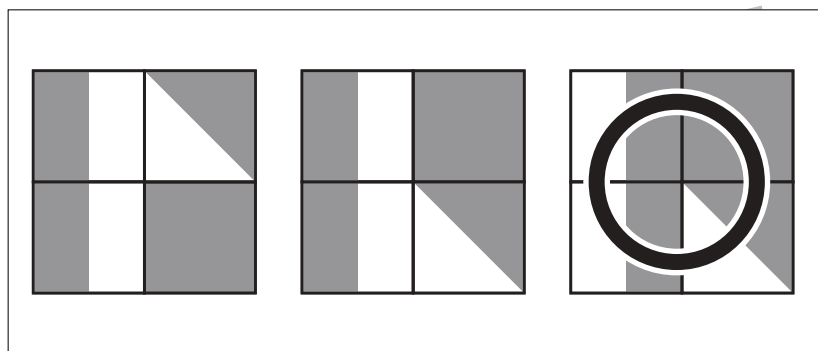
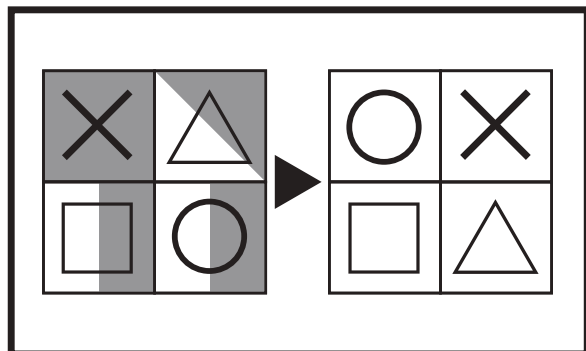


おうちで、やろう。

Study at home. 小学校受験の家庭学習教材

図形：構成 29

太い四角の中の左の四角がお手本です。これは4つのマスを集めて四角を作りました。右の四角は4つのマスを並びかえた四角です。この時、模様がどのようになるのか考えて、正しいもの右の3つの中から選んで○をつけます。



※1. このプリントは、しながわ・目黒こどもスクールのウェブサイトでダウンロードができます。無断複写・引用はご遠慮ください。
 ※2. このプリントを活用したオンライン授業のスケジュールは、しながわ・目黒こどもスクールのウェブサイトでご確認ください。



おうちで、やろう。

Study at home. 小学校受験の家庭学習教材

図形：置き換え 20

左の四角の中がお手本の形です。このお手本の黒い四角を白い四角にかえます。白い四角は黒い四角にかえます。この約束で色をかえたとき、正しいものを右の4つの中から選んで○をつけます。右の形は右へ1度倒れています。

※1. このプリントは、しながわ・目黒こどもスクールのウェブサイトでダウンロードができます。無断複写・引用はご遠慮ください。

※2. このプリントを活用したオンライン授業のスケジュールは、しながわ・目黒こどもスクールのウェブサイトでご確認ください。



おうちで、やろう。

Study at home. 小学校受験の家庭学習教材

図形：置き換え 21

左の四角の中がお手本の形です。このお手本の黒い四角を白い四角にかえます。白い四角は黒い四角にかえます。この約束で色をかえたとき、正しいものを右の4つの中から選んで○をつけます。右の形は右へ1度倒れています。

※1. このプリントは、しながわ・目黒こどもスクールのウェブサイトでダウンロードができます。無断複写・引用はご遠慮ください。

※2. このプリントを活用したオンライン授業のスケジュールは、しながわ・目黒こどもスクールのウェブサイトでご確認ください。



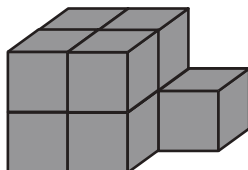
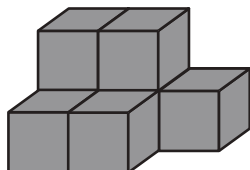
おうちで、やろう。

Study at home. 小学校受験の家庭学習教材

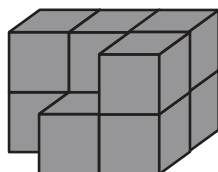

推理：積み木 12

左の四角の中の2種類の積み木の数をかぞえます。

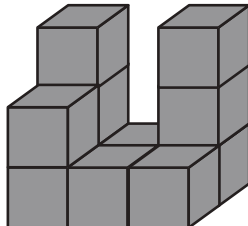
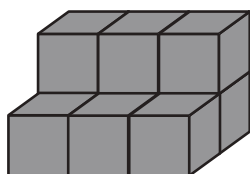
この2種類の積み木の数の違いを考えてその数だけ一番右の四角に○をかきます。



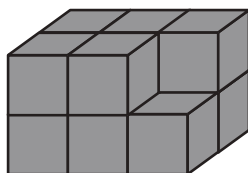
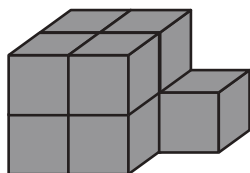
$$\bigcirc \times 2$$



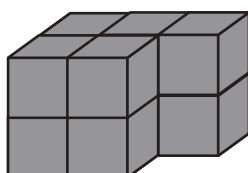
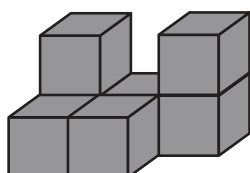
$$\bigcirc \times 1$$



$$\bigcirc \times 2$$



$$\bigcirc \times 2$$



$$\bigcirc \times 3$$

※1. このプリントは、しながわ・目黒こどもスクールのウェブサイトからダウンロードできます。無断複写・引用はご遠慮ください。

※2. このプリントを活用したオンライン授業のスケジュールは、しながわ・目黒こどもスクールのウェブサイトでご確認ください。





おうちで、やろう。

Study at home. 小学校受験の家庭学習教材

推理：積み木 13

左の四角の中の2種類の積み木の数をかそえます。

この2種類の積み木の数の違いを考えてその数だけ一番右の四角に○をかきます。

		○ × 3
--	--	-------

		○ × 4
--	--	-------

		○ × 3
--	--	-------

		○ × 3
--	--	-------

		○ × 3
--	--	-------

※1. このプリントは、しながわ・目黒こどもスクールのウェブサイトからダウンロードできます。無断複写・引用はご遠慮ください。

※2. このプリントを活用したオンライン授業のスケジュールは、しながわ・目黒こどもスクールのウェブサイトでご確認ください。









おうちで、やろう。

Study at home. 小学校受験の家庭学習教材

処理：計数 14

上の四角の中の絵の数をかぞえて、下の四角の同じ絵の右にその数より2つ少ない数をかきます。
この問題はスピードを意識して取り組む練習をしてみましょう。(1分～1分30秒)



	○ × 5
	○ × 8
	○ × 10
	○ × 6
	○ × 7

※1. このプリントは、しながわ・目黒こどもスクールのウェブサイトでダウンロードができます。無断複写・引用はご遠慮ください。
※2. このプリントを活用したオンライン授業のスケジュールは、しながわ・目黒こどもスクールのウェブサイトでご確認ください。