

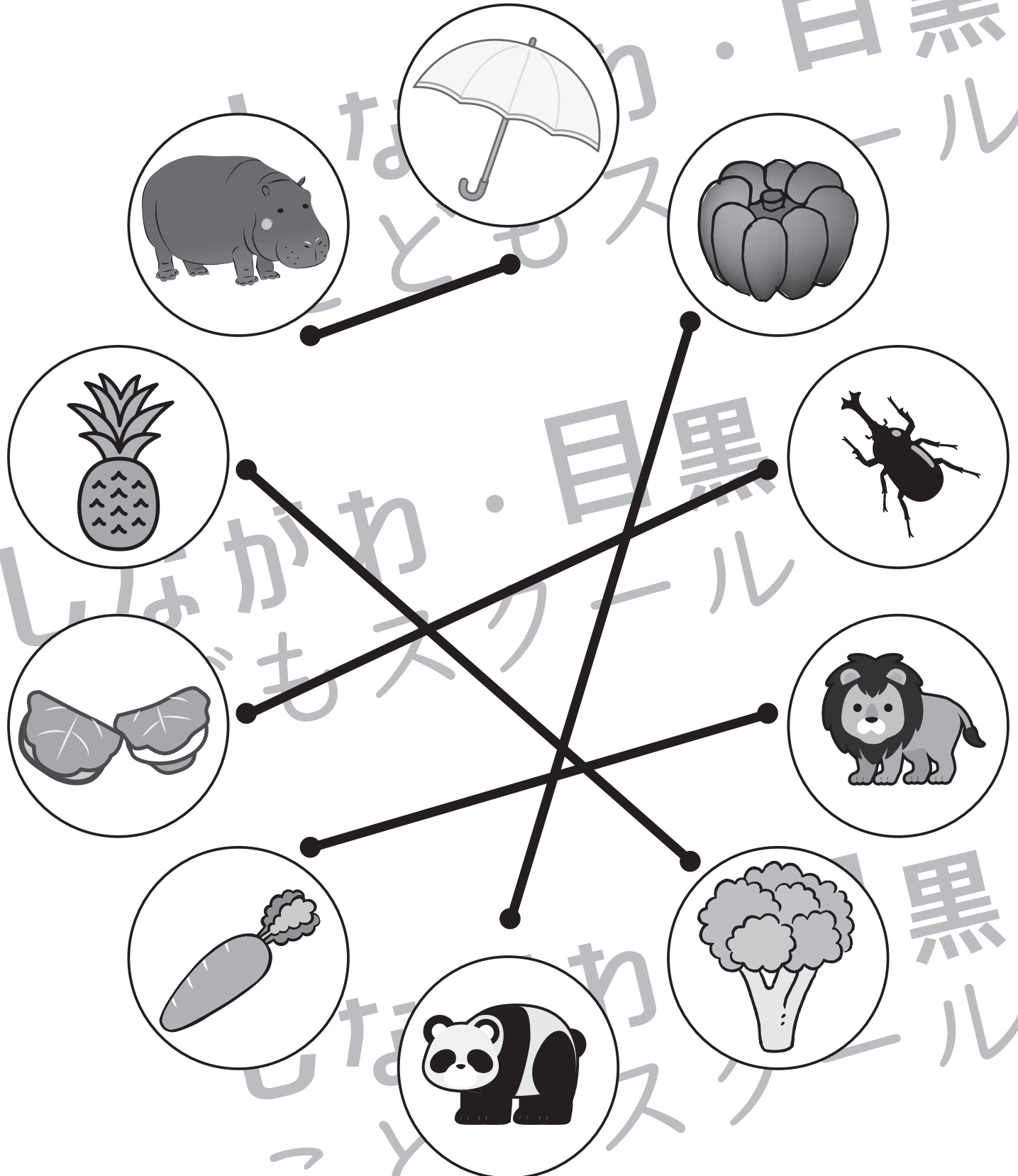


おうちで、やろう。

Study at home. 小学校受験の家庭学習教材

言語：音の数 41

絵の名前の音の数が同じもの同士を探して点と点を線で結びます。



※1. このプリントは、しながわ・目黒こどもスクールのウェブサイトでダウンロードができます。無断複写・引用はご遠慮ください。
 ※2. このプリントを活用したオンライン授業のスケジュールは、しながわ・目黒こどもスクールのウェブサイトでご確認ください。

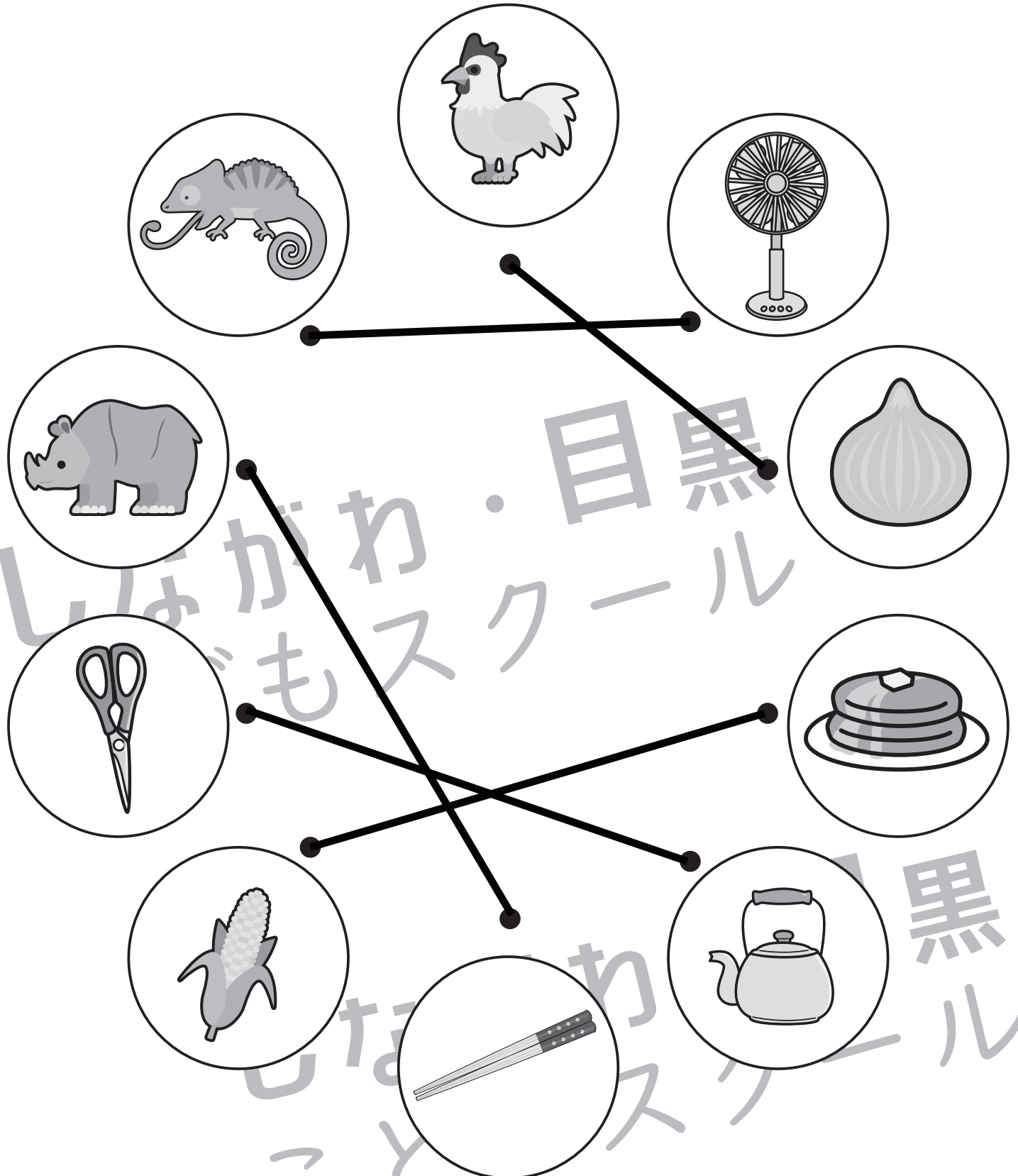


おうちで、やろう。

Study at home. 小学校受験の家庭学習教材

言語：音の数 42

絵の名前の音の数が同じもの同士を探して点と点を線で結びます。



※1. このプリントは、しながわ・目黒こどもスクールのウェブサイトでダウンロードができます。無断複写・引用はご遠慮ください。
 ※2. このプリントを活用したオンライン授業のスケジュールは、しながわ・目黒こどもスクールのウェブサイトでご確認ください。



おうちで、やろう。

Study at home. 小学校受験の家庭学習教材

言語：音の理解 41

左の四角の中の絵の終わりの音を考え、並びかえてできるものを右の四角の中から見つけて○をつけます。

※1. このプリントは、しながわ・目黒こどもスクールのウェブサイトでダウンロードができます。無断複写・引用はご遠慮ください。

※2. このプリントを活用したオンライン授業のスケジュールは、しながわ・目黒こどもスクールのウェブサイトでご確認ください。

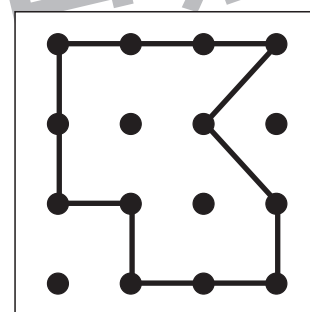
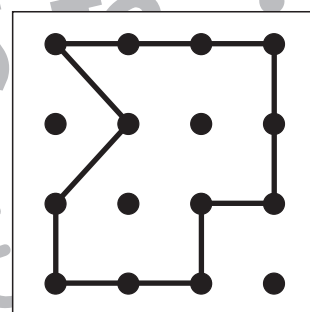
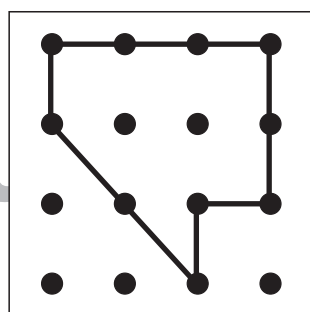
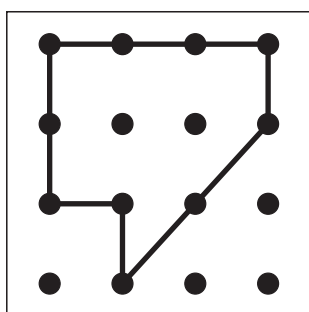
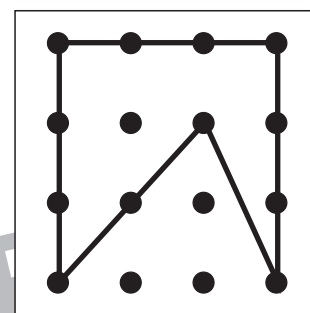
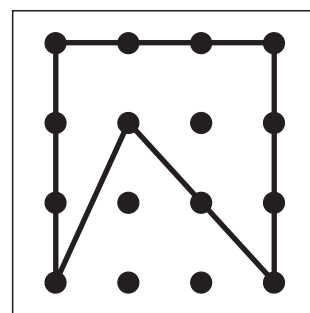
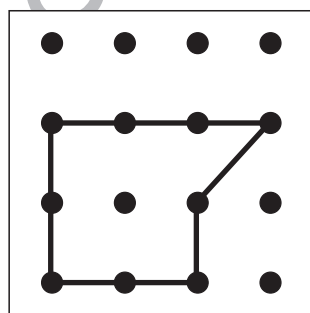
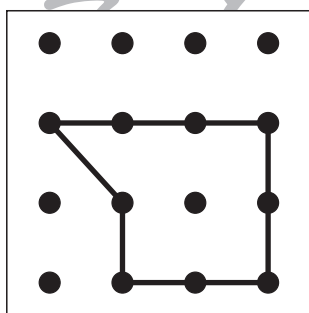
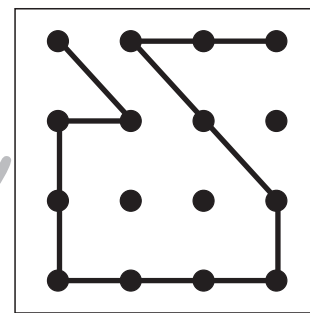
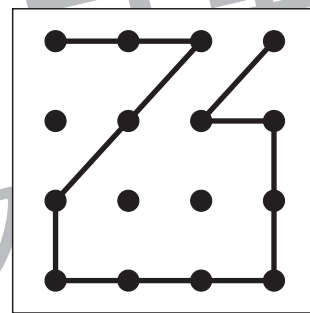
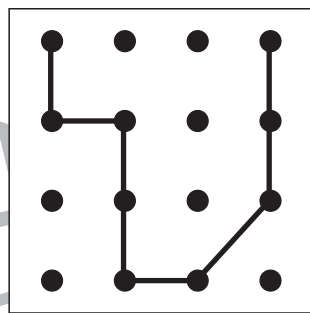
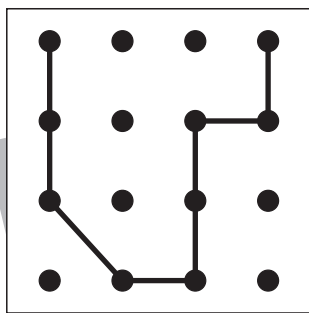
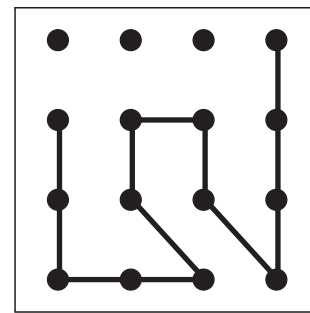
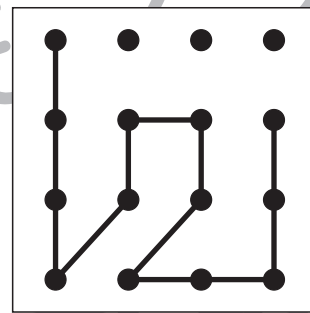
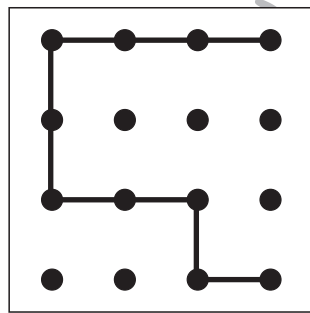
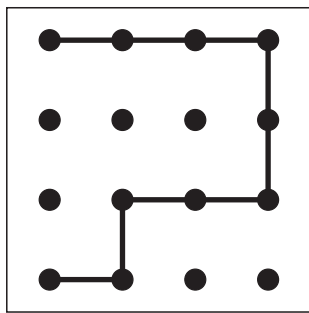
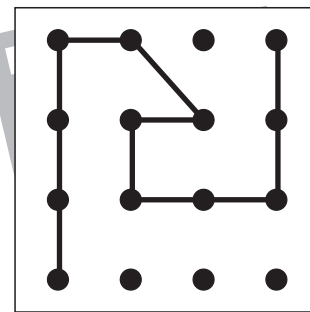
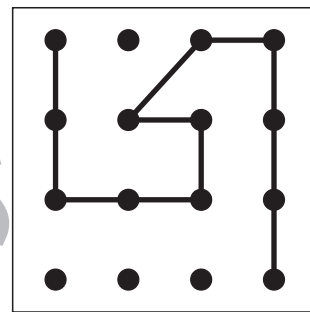
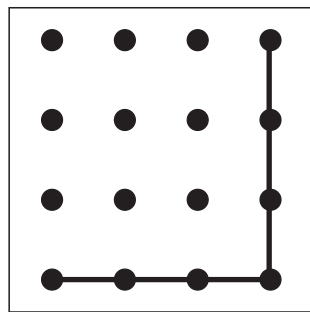
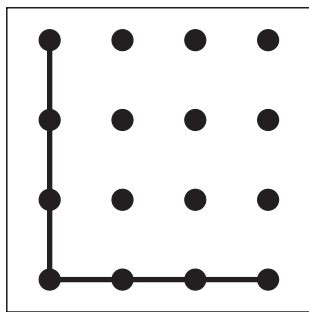


おうちで、やろう。

Study at home. 小学校受験の家庭学習教材

図形：鏡 34

左のお手本に鏡を置いて見たときの見え方を考えて、右にかきます。



※1. このプリントは、しながわ・目黒こどもスクールのウェブサイトでダウンロードができます。無断複写・引用はご遠慮ください。
※2. このプリントを活用したオンライン授業のスケジュールは、しながわ・目黒こどもスクールのウェブサイトでご確認ください。



おうちで、やろう。

Study at home. 小学校受験の家庭学習教材

図形：鏡 35

左のお手本に鏡を置いて見たときの見え方を考えて、右にかきます。

※1. このプリントは、しながわ・目黒こどもスクールのウェブサイトでダウンロードができます。無断複写・引用はご遠慮ください。
 ※2. このプリントを活用したオンライン授業のスケジュールは、しながわ・目黒こどもスクールのウェブサイトでご確認ください。

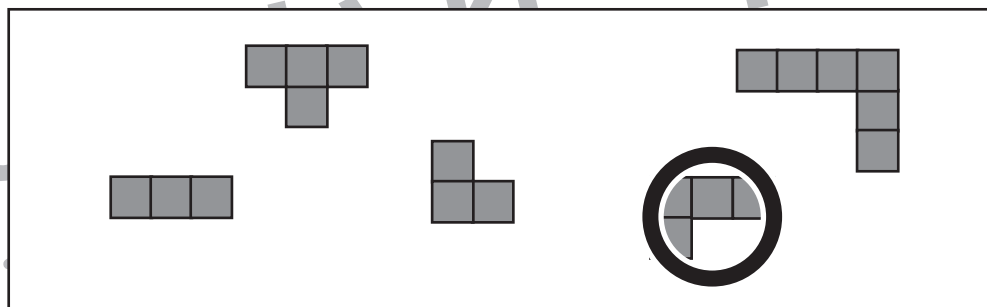
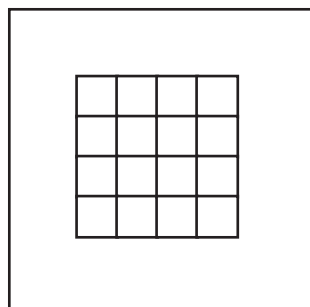
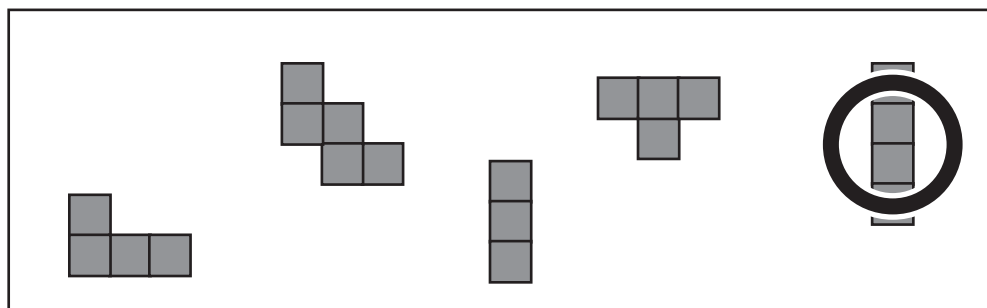
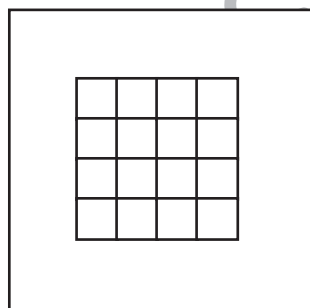
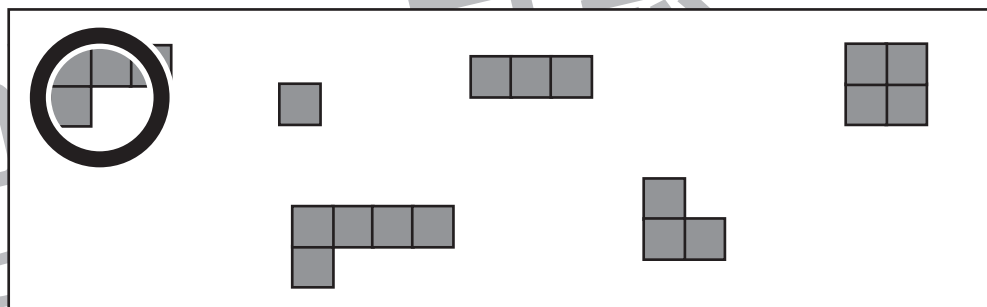
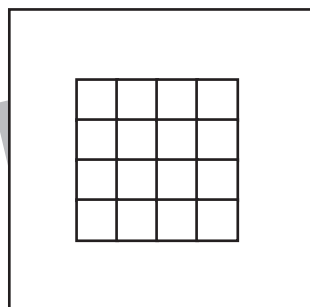
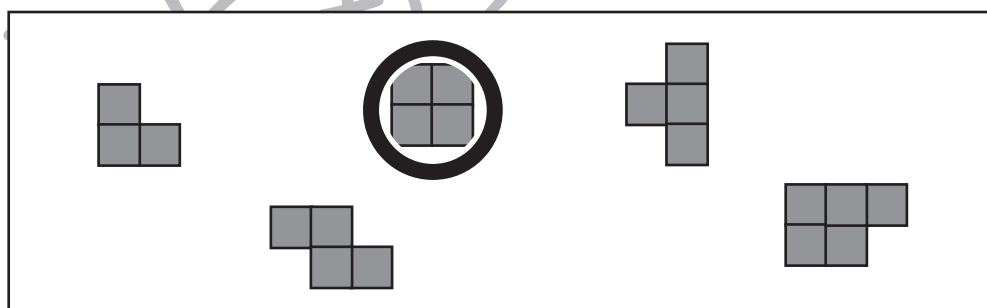
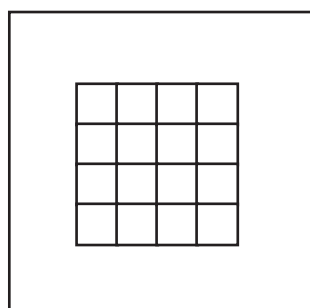
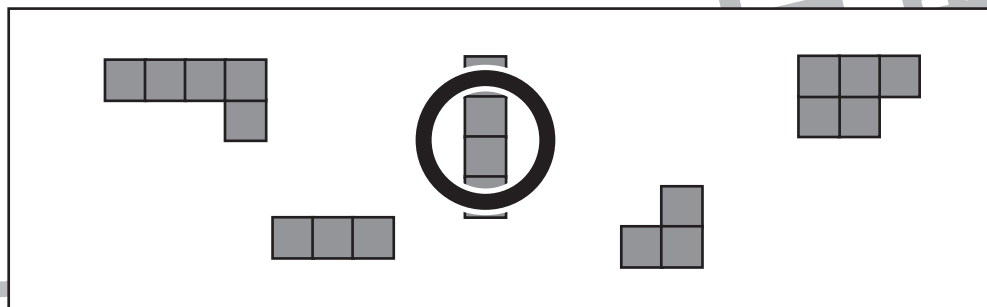
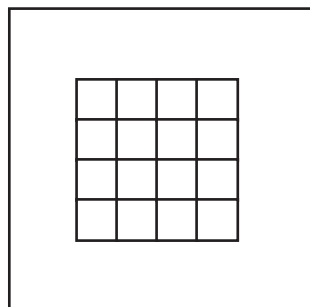


おうちで、やろう。

Study at home. 小学校受験の家庭学習教材

図形：構成 30

左の四角に右のブロックを入れます。このとき、使わない形を1つ見つけて○をつけます。
ブロックは回転させてもよいですが、裏返してはいけません。



※1. このプリントは、しながわ・目黒こどもスクールのウェブサイトでダウンロードができます。無断複写・引用はご遠慮ください。
※2. このプリントを活用したオンライン授業のスケジュールは、しながわ・目黒こどもスクールのウェブサイトでご確認ください。

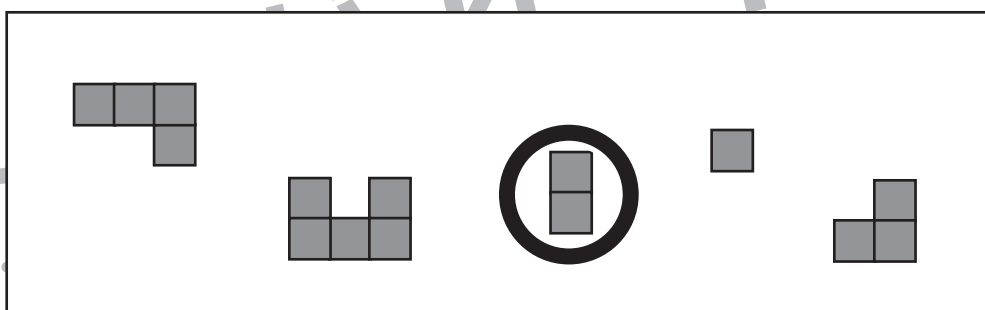

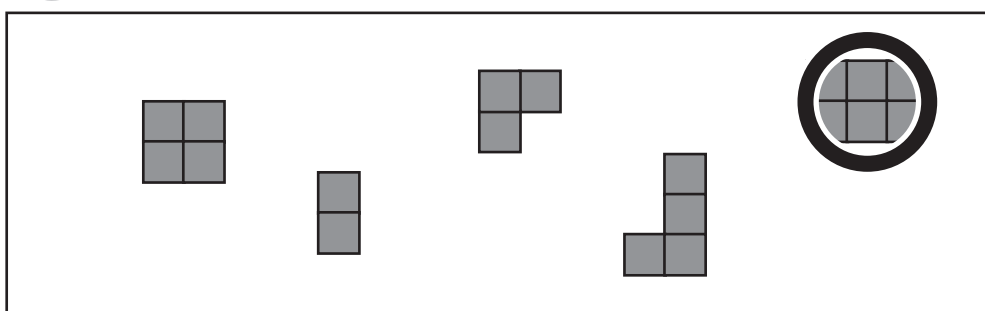
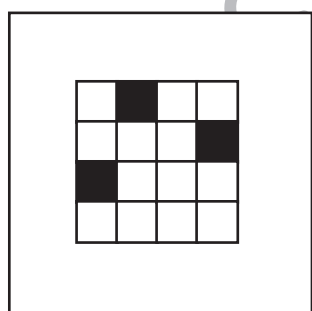
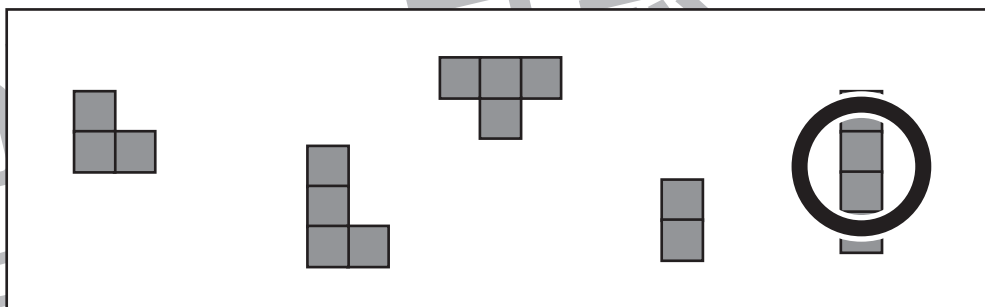

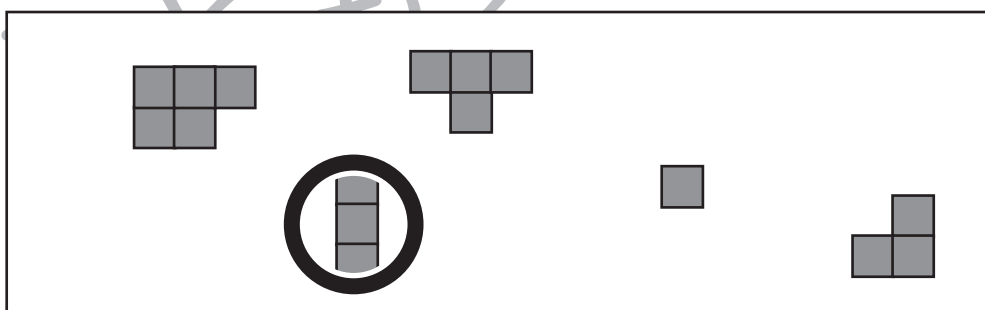

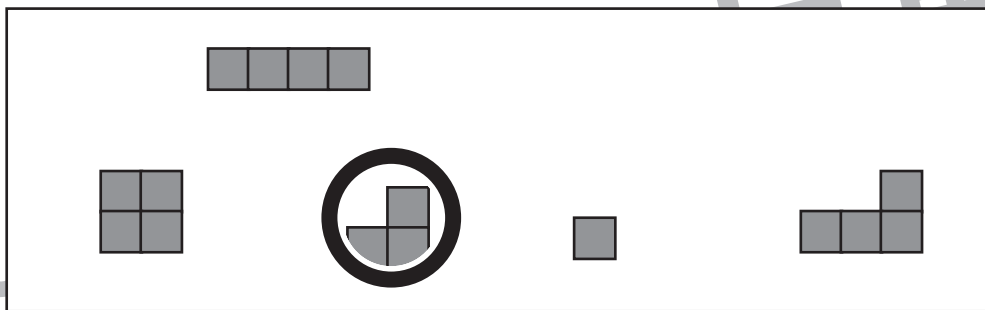



おうちで、やろう。

Study at home. 小学校受験の家庭学習教材

図形：構成 31

左の四角に右のブロックを入れます。このとき、使わない形を1つつけて○をつけます。
ブロックは回転させてもよいですが、裏返してはいけません。また、黒いマスにはブロックは入れません。



※1. このプリントは、しながわ・目黒こどもスクールのウェブサイトでダウンロードができます。無断複写・引用はご遠慮ください。
※2. このプリントを活用したオンライン授業のスケジュールは、しながわ・目黒こどもスクールのウェブサイトでご確認ください。






おうちで、やろう。

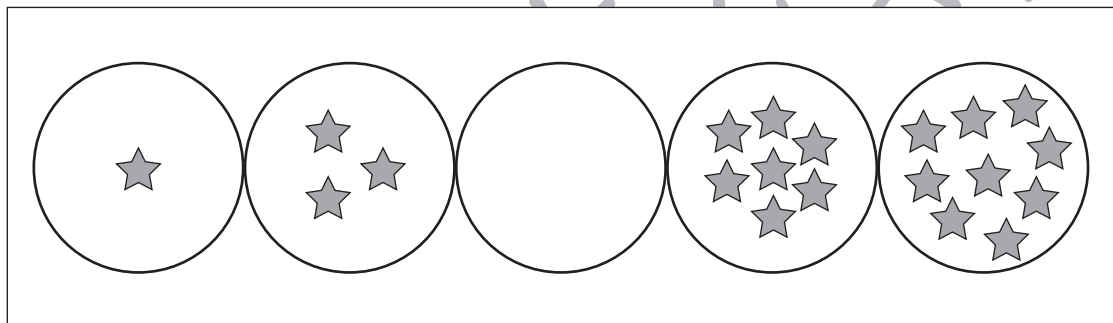
Study at home. 小学校受験の家庭学習教材

推理：系列完成 29

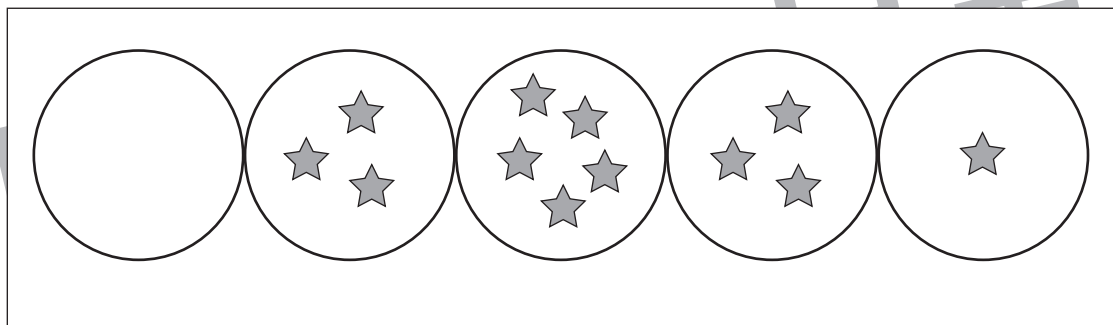
丸の中の星はある約束どおりに左端の丸から右端の丸に向かって進みます。穴の空いている丸には何が入るかを考え右の四角にその数だけ○を描きます。



○ × 4



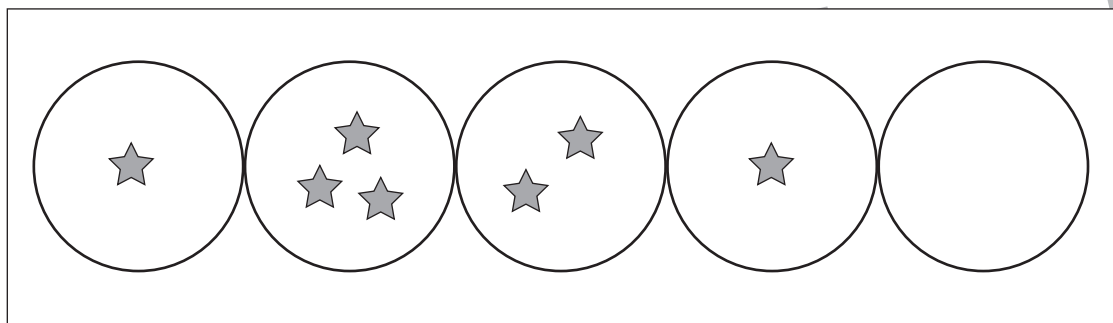
○ × 5



○ × 1



○ × 4



○ × 3

※1. このプリントは、しながわ・目黒こどもスクールのウェブサイトでダウンロードができます。無断複写・引用はご遠慮ください。
※2. このプリントを活用したオンライン授業のスケジュールは、しながわ・目黒こどもスクールのウェブサイトでご確認ください。

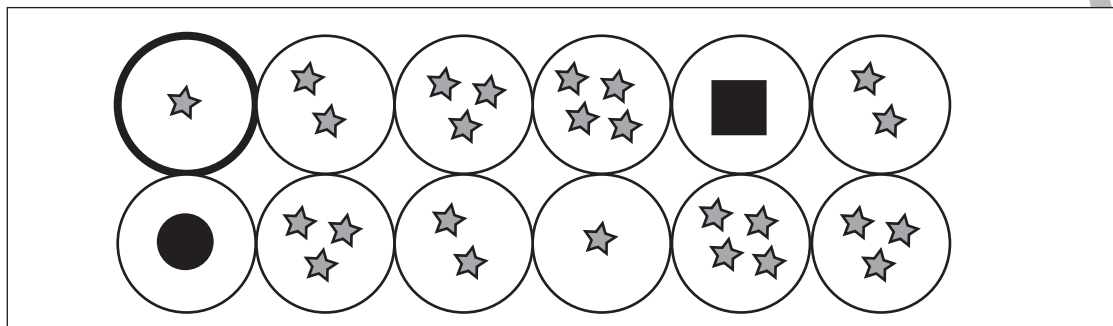


おうちで、やろう。

Study at home. 小学校受験の家庭学習教材

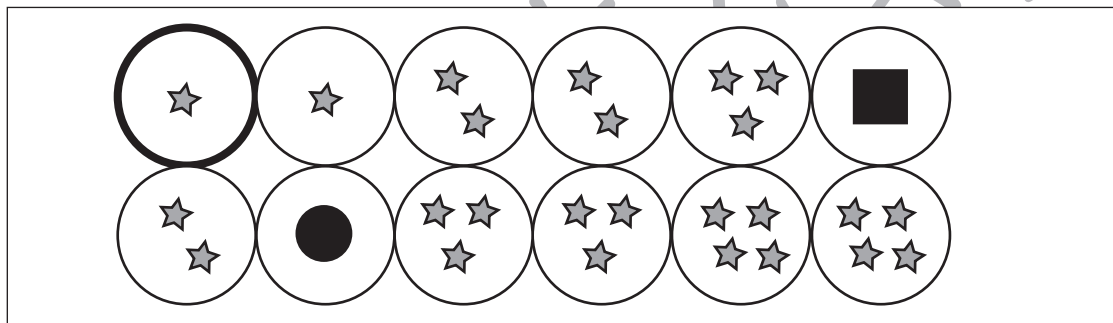
推理：系列完成 30

丸の中の星はある約束どおりに左上の丸から進み最後左下の丸につきます。穴の空いている丸には何が入るかを考え右の四角にその数だけ○を描きます。



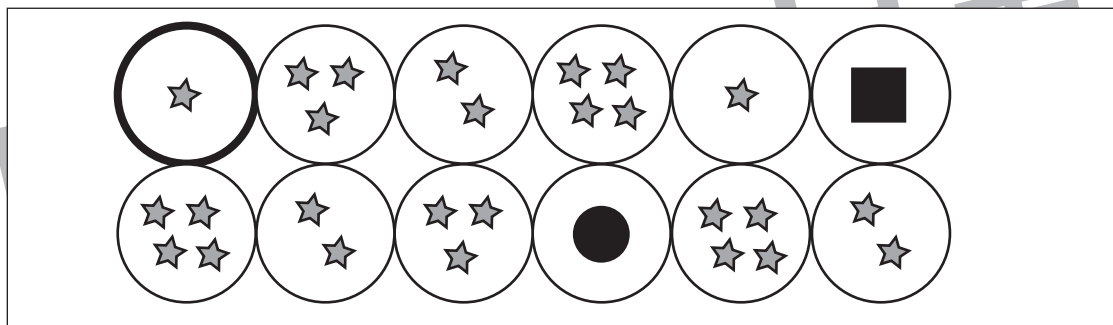
○ × 1

○ × 4




○ × 3

○ × 2



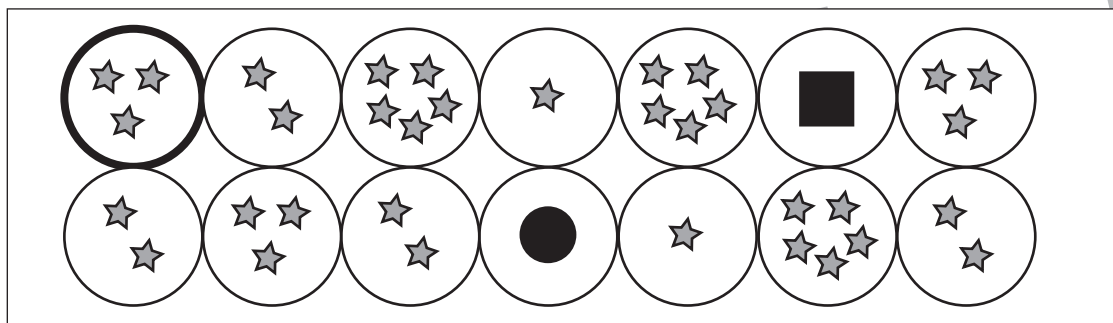
○ × 3

○ × 1



○ × 3

○ × 2



○ × 2

○ × 5

※1. このプリントは、しながわ・目黒こどもスクールのウェブサイトでダウンロードができます。無断複写・引用はご遠慮ください。

※2. このプリントを活用したオンライン授業のスケジュールは、しながわ・目黒こどもスクールのウェブサイトでご確認ください。

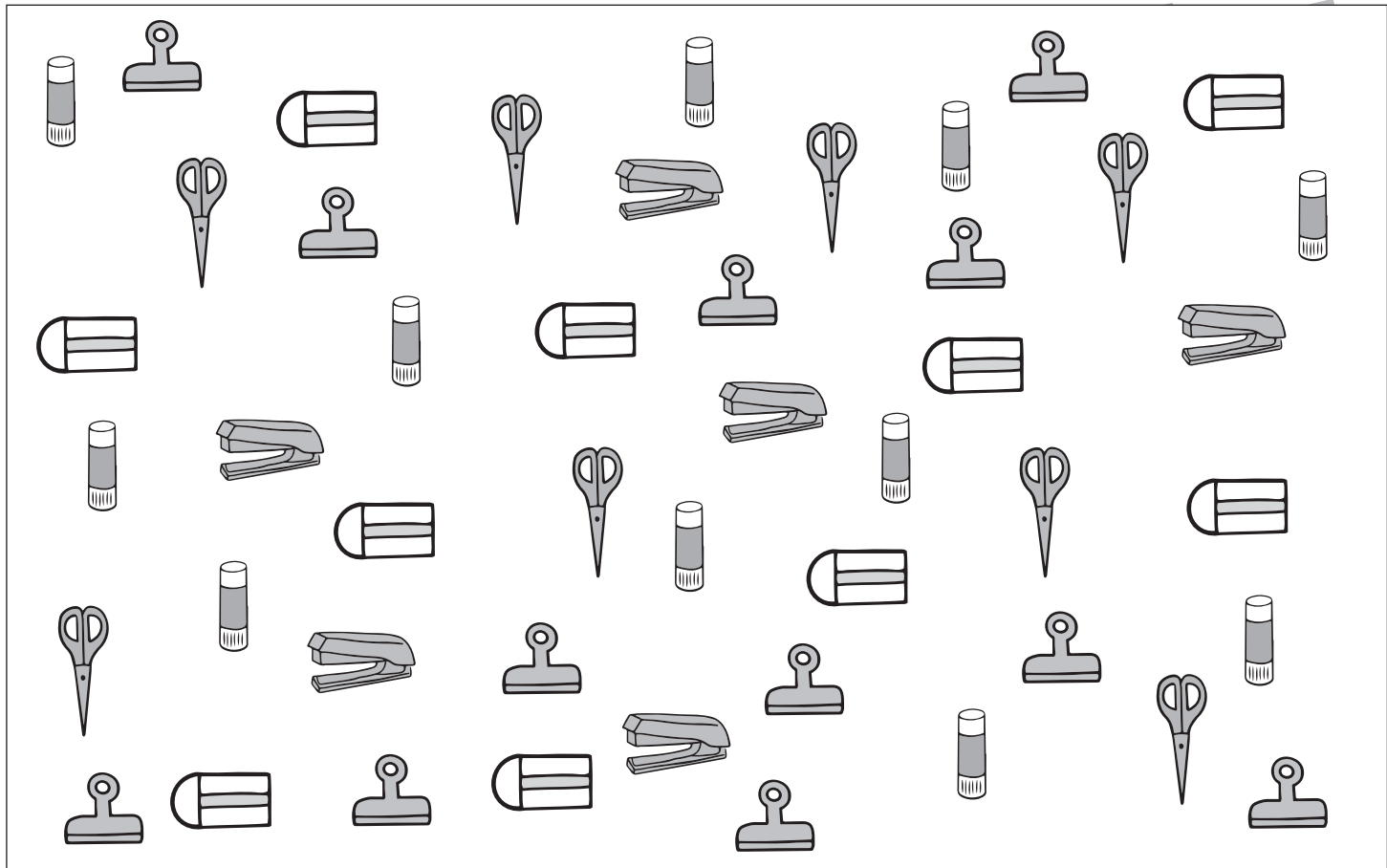


おうちで、やろう。

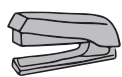
Study at home. 小学校受験の家庭学習教材

処理：計数 14

上の四角の中の絵の数をかぞえて、下の四角の同じ絵の右にその数より2つ少ない数をかきます。
この問題はスピードを意識して取り組む練習をしてみましょう。(1分～1分30秒)



○×6



○×4



○×8



○×9



○×10

※1. このプリントは、しながわ・目黒こどもスクールのウェブサイトからダウンロードできます。無断複写・引用はご遠慮ください。

※2. このプリントを活用したオンライン授業のスケジュールは、しながわ・目黒こどもスクールのウェブサイトでご確認ください。

