



おうちで、やろう。

Study at home. 小学校受験の家庭学習教材

記憶：絵の記憶 12

別紙『記憶 - 絵の記憶 12 記憶用紙』を使用します。記憶用紙の形を見た後に①、②、③の問題に取り組みましょう。

①タコさんウイナーの数だけ○をかきます。

②ペンギンの数だけ○をかきます。

③カキの数だけ○をかきます。

①

$$\bigcirc \times 3$$

②

$$\bigcirc \times 5$$

③

$$\bigcirc \times 6$$

※1. このプリントは、しながわ・目黒こどもスクールのウェブサイトダウンロードができます。無断複写・引用はご遠慮ください。

※2. このプリントを活用したオンライン授業のスケジュールは、しながわ・目黒こどもスクールのウェブサイトでご確認ください。





おうちで、やろう。

Study at home. 小学校受験の家庭学習教材

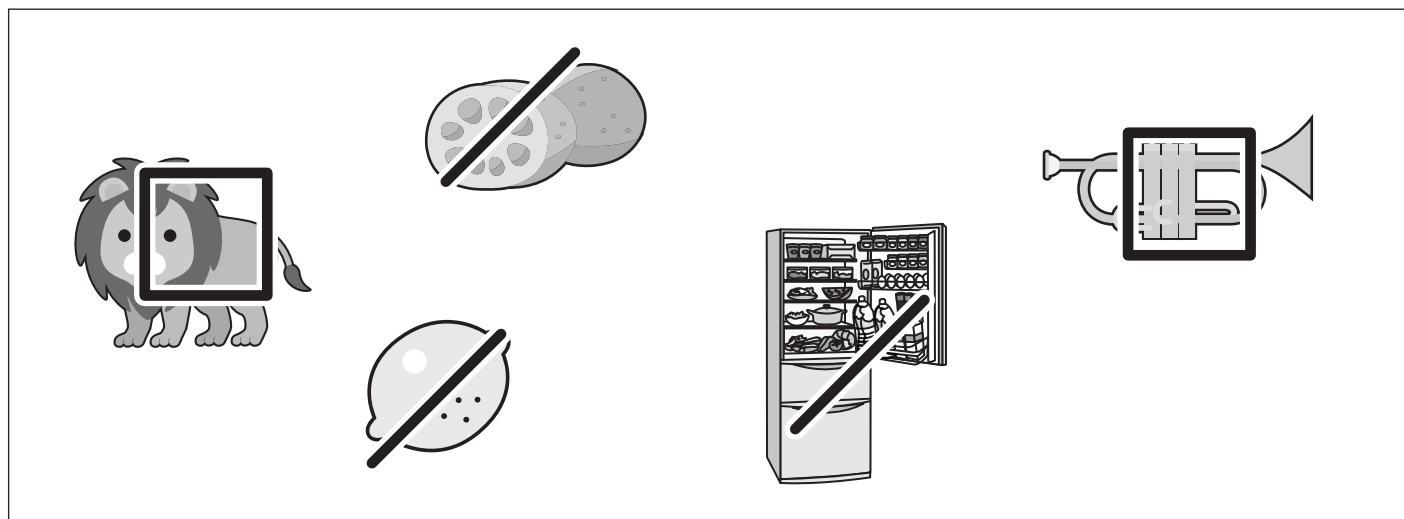
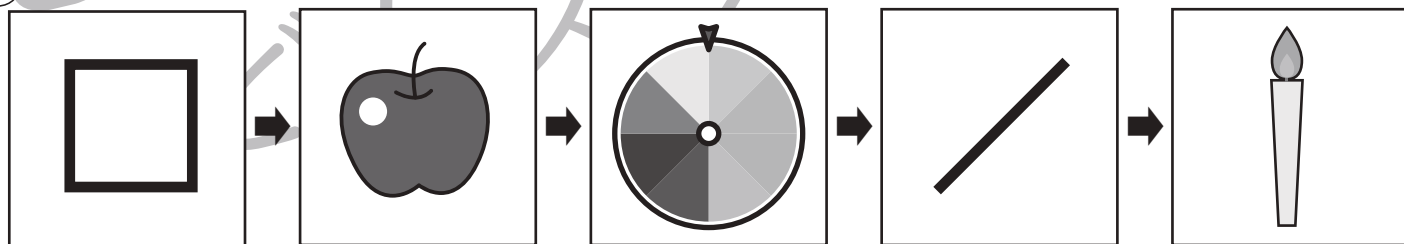
言語：音の理解42

- ①左の四角から音の頭が「なにぬねの」の順番になるように絵を並べたいです。
印の描いてある四角には何の絵が入るかを考えて下の四角から絵を選び、同じ印をつけましょう。
- ②左の四角から音の頭が「らりるれろ」の順番になるように絵を並べたいです。
印の描いてある四角には何の絵が入るかを考えて下の四角から絵を選び、同じ印をつけましょう。

①



②



※1. このプリントは、しながわ・目黒こどもスクールのウェブサイトからダウンロードできます。無断複写・引用はご遠慮ください。
 ※2. このプリントを活用したオンライン授業のスケジュールは、しながわ・目黒こどもスクールのウェブサイトでご確認ください。

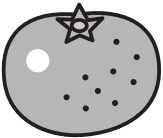











おうちで、よろう。






Study at home. 小学校受験の家庭学習教材






言語：音の理解 43

左の四角の中の絵のはじめの音とおわりの音を考えます。右の四角の中の絵の中で、左の絵とはじめの音が同じものには○、おわりの音が同じものには×をつけます。

				
---	--	---	---	---

				
---	---	---	---	---

				
---	--	---	--	---

				
---	--	--	---	---

				
---	---	--	---	--

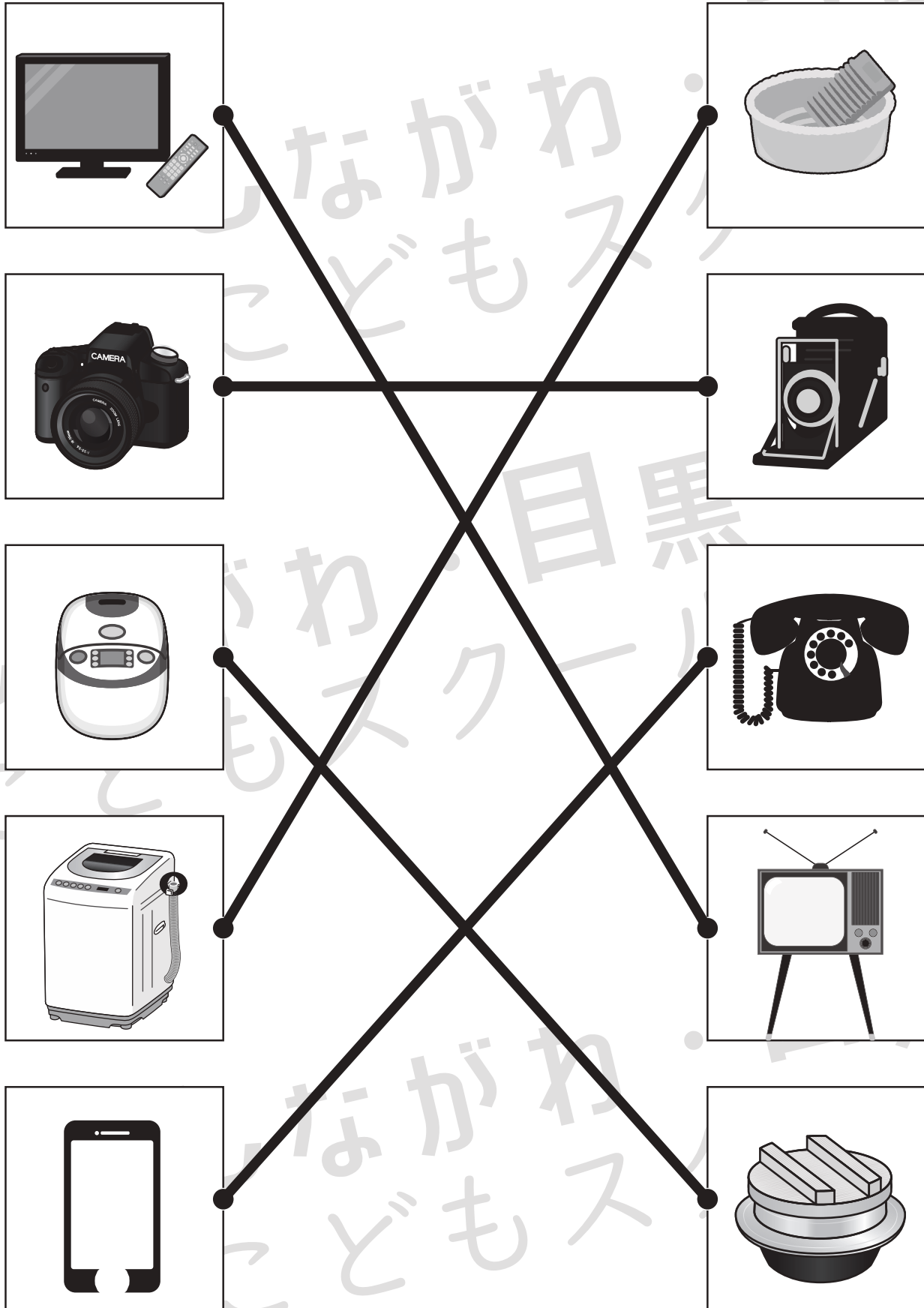
※1. このプリントは、しながわ・目黒こどもスクールのウェブサイトでダウンロードができます。無断複写・引用はご遠慮ください。
 ※2. このプリントを活用したオンライン授業のスケジュールは、しながわ・目黒こどもスクールのウェブサイトでご確認ください。



おうちで、やろう。

Study at home. 小学校受験の家庭学習教材

左は今使っているものです。右は昔使っていたものです。（今も使っているものもあります。）左と右で同じように使うもの同士をみつけて点と点を線で結びます。



※1. このプリントは、しながわ・目黒こどもスクールのウェブサイトでダウンロードができます。無断複写・引用はご遠慮ください。

※2. このプリントを活用したオンライン授業のスケジュールは、しながわ・目黒こどもスクールのウェブサイトでご確認ください。

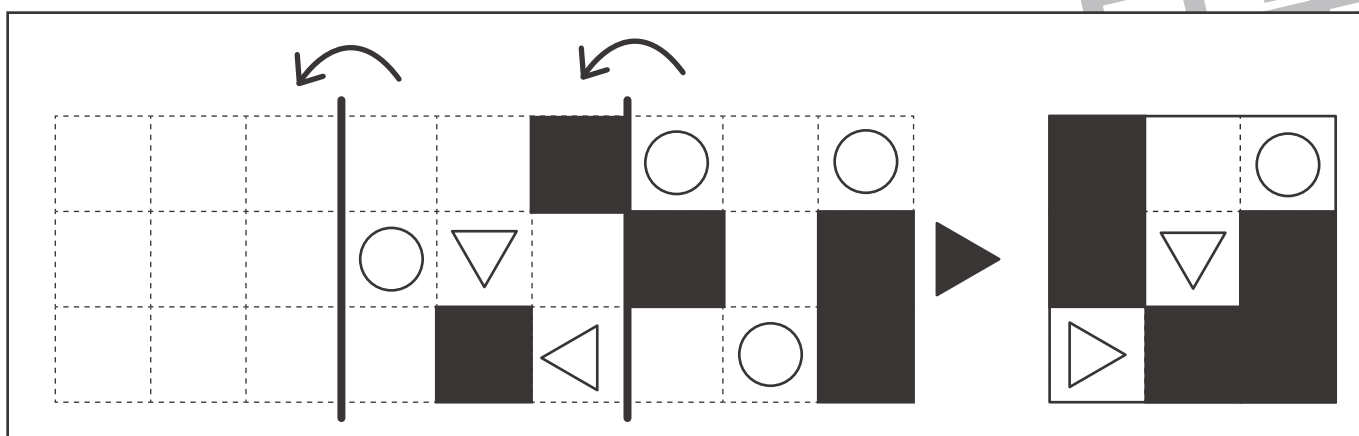
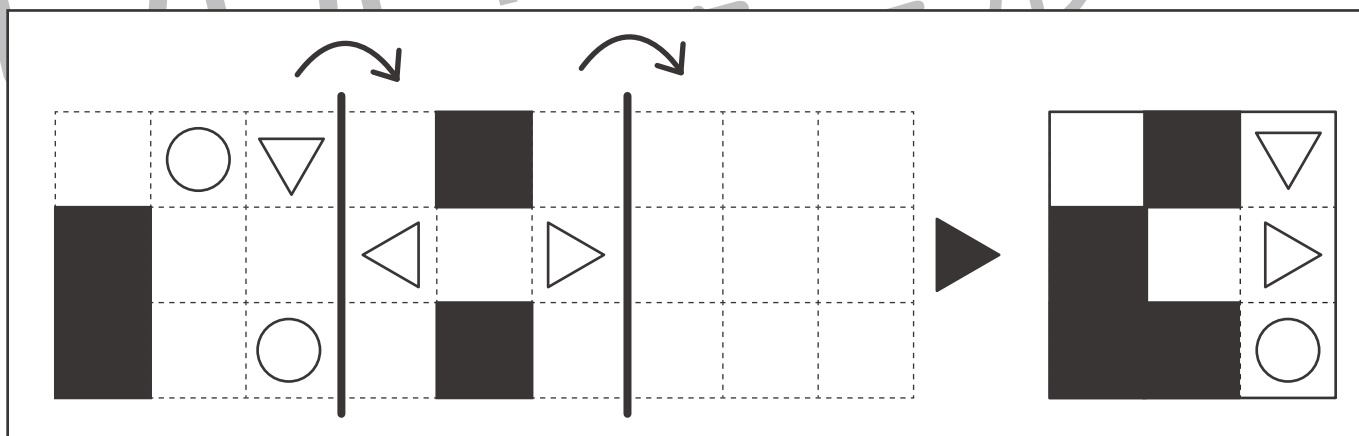
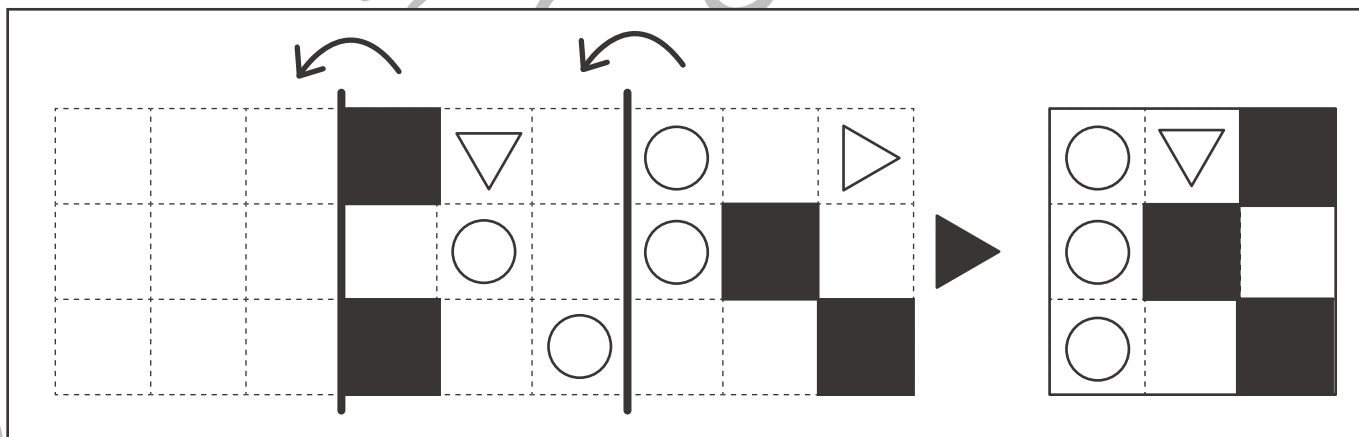
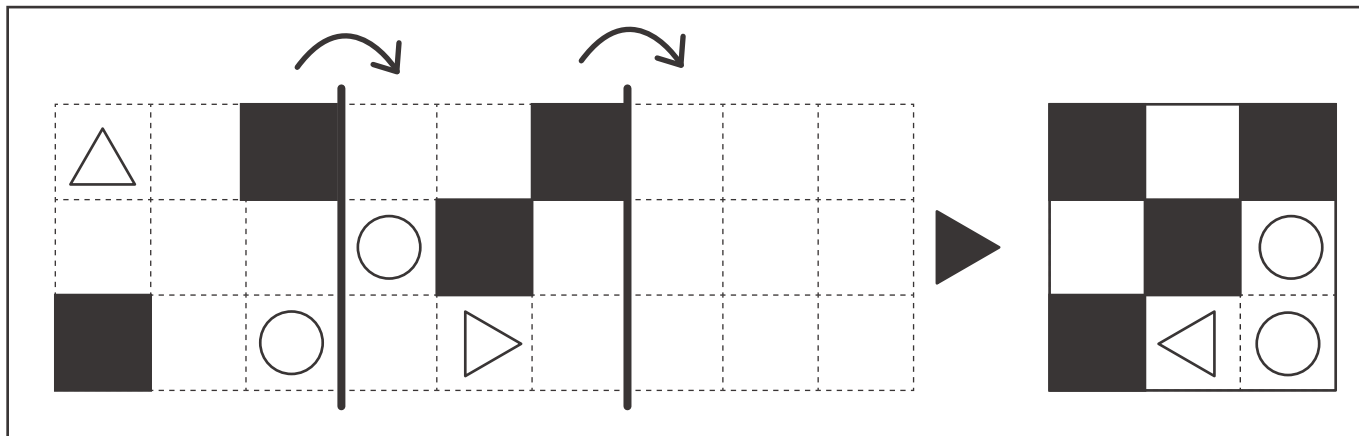


おうちで、よろう。

Study at home. 小学校受験の家庭学習教材

図形：折り重ね 47

矢印の方向へ折り重ねたときの見え方を考えて一番右の四角にかきます。



※1. このプリントは、しながわ・目黒こどもスクールのウェブサイトからダウンロードができます。無断複写・引用はご遠慮ください。
 ※2. このプリントを活用したオンライン授業のスケジュールは、しながわ・目黒こどもスクールのウェブサイトでご確認ください。

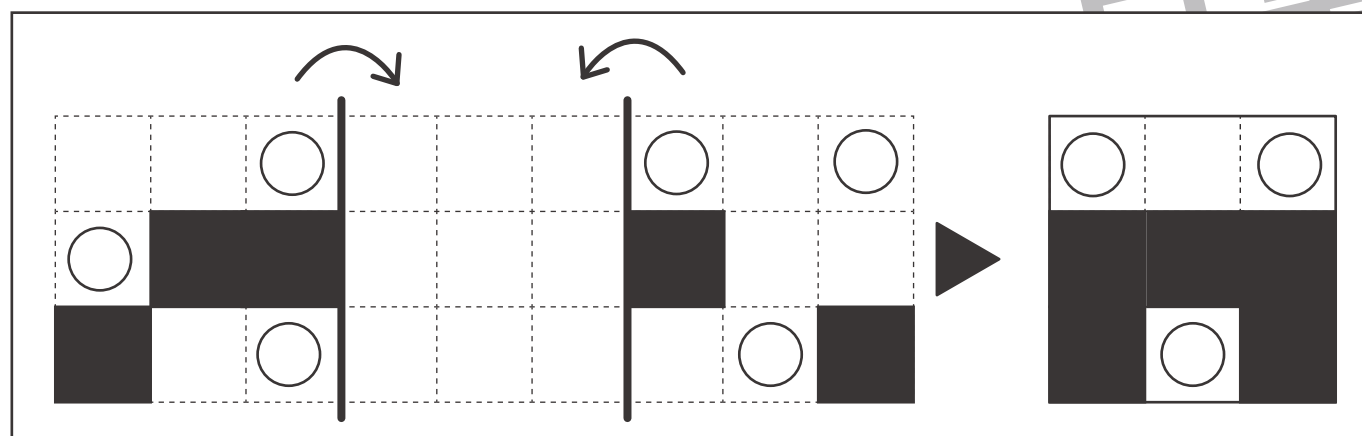
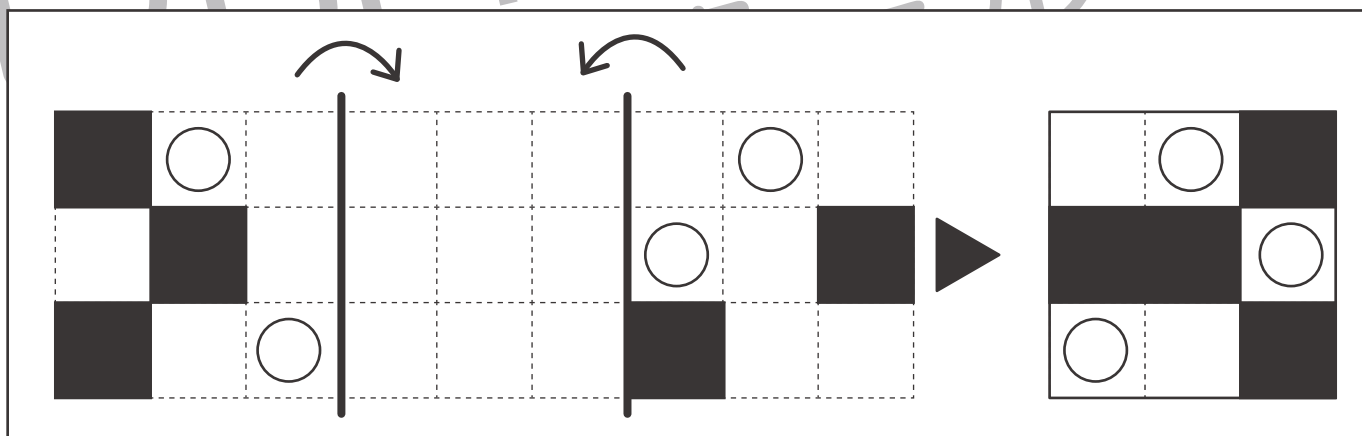
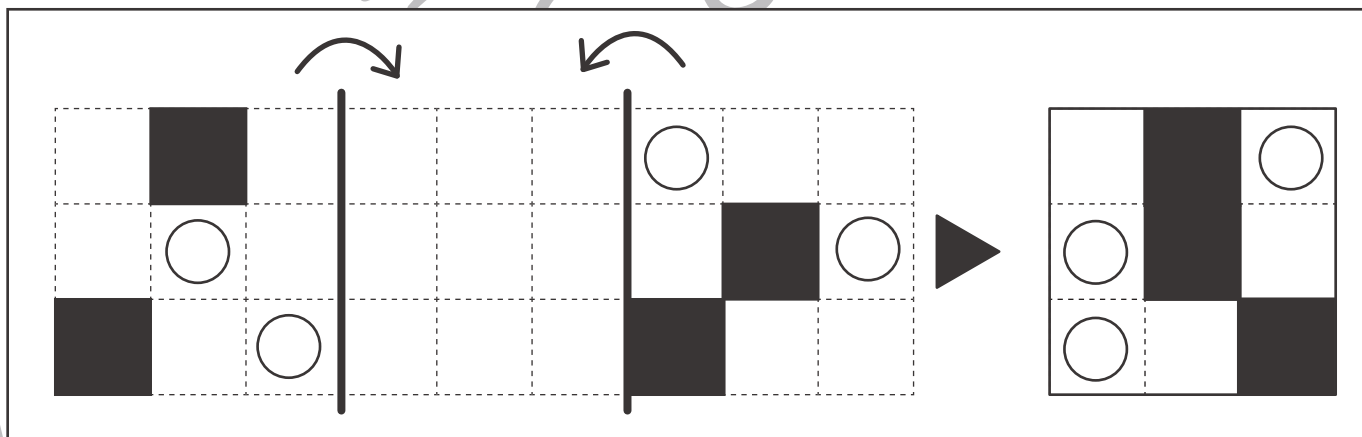
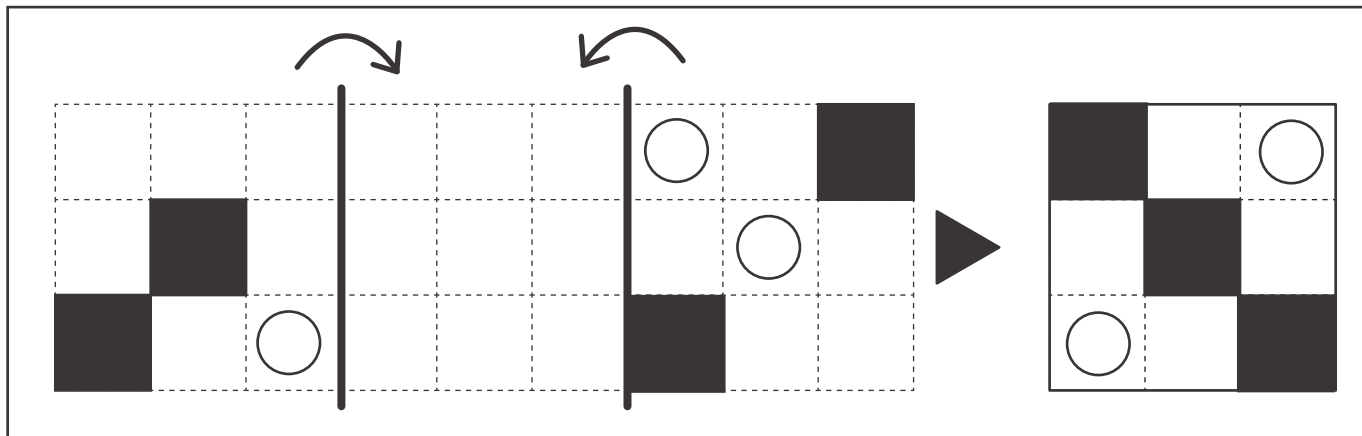


おうちで、やろう。

Study at home. 小学校受験の家庭学習教材

図形：折り重ね 48

矢印の方向へ折り重ねたときの見え方を考えて一番右の四角にかきます。



※1. このプリントは、しながわ・目黒こどもスクールのウェブサイトでダウンロードができます。無断複写・引用はご遠慮ください。

※2. このプリントを活用したオンライン授業のスケジュールは、しながわ・目黒こどもスクールのウェブサイトでご確認ください。



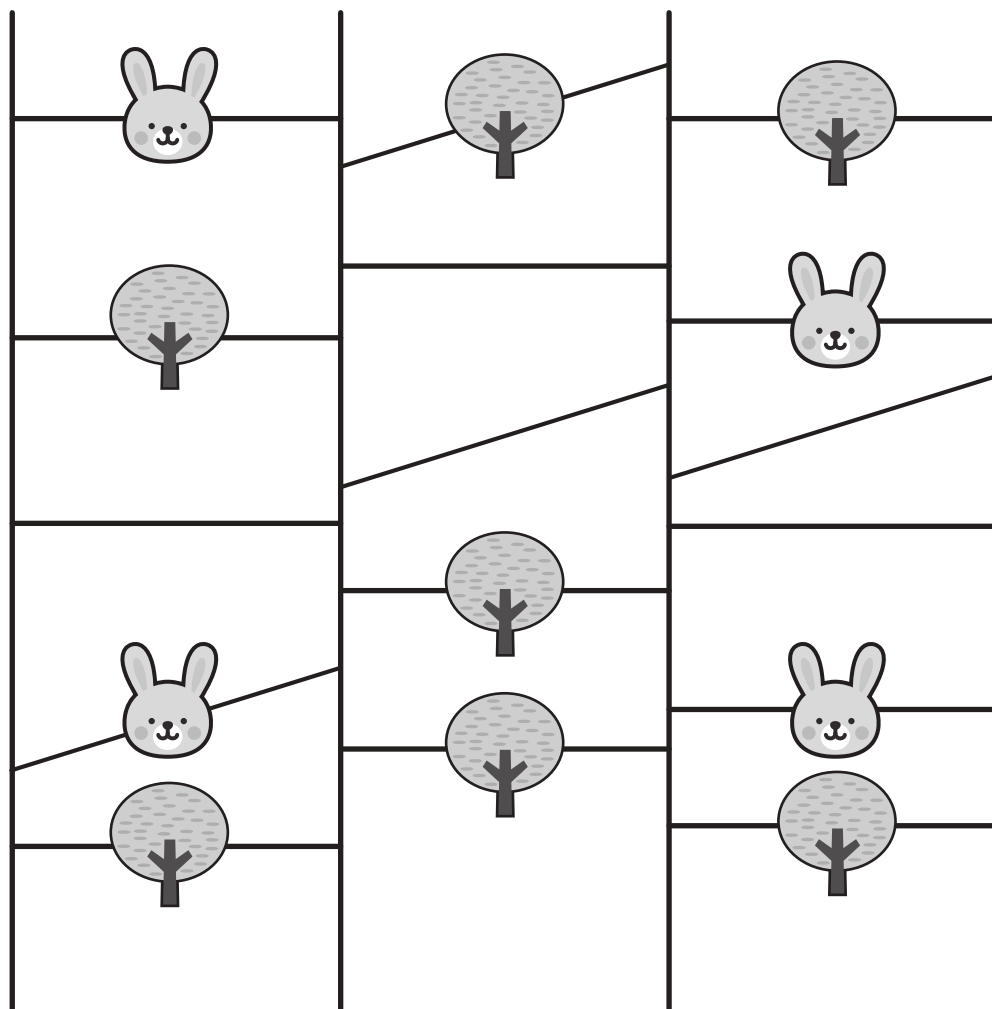

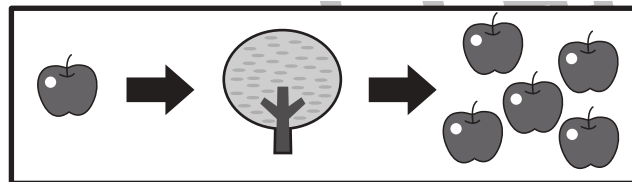

おうちで、やろう。

Study at home. 小学校受験の家庭学習教材

推理：あみだくじ 12

動物はそれぞれリンゴを持っています。あみだくじで進み、途中でウサギに会うと3つ減り、木を通り過ぎると4つ増えます。この約束で下の四角についた時、リンゴをいくつ持っているかを考えてその数だけ〇をかきます。

※あみだくじのルール：①上から下へ進みます。道は戻ってはいけません。②途中で曲がり角があったら必ず曲がります。



○×11

○×10

○×15

○×10

※1. このプリントは、しながわ・目黒こどもスクールのウェブサイトでダウンロードができます。無断複写・引用はご遠慮ください。

※2. このプリントを活用したオンライン授業のスケジュールは、しながわ・目黒こどもスクールのウェブサイトでご確認ください。





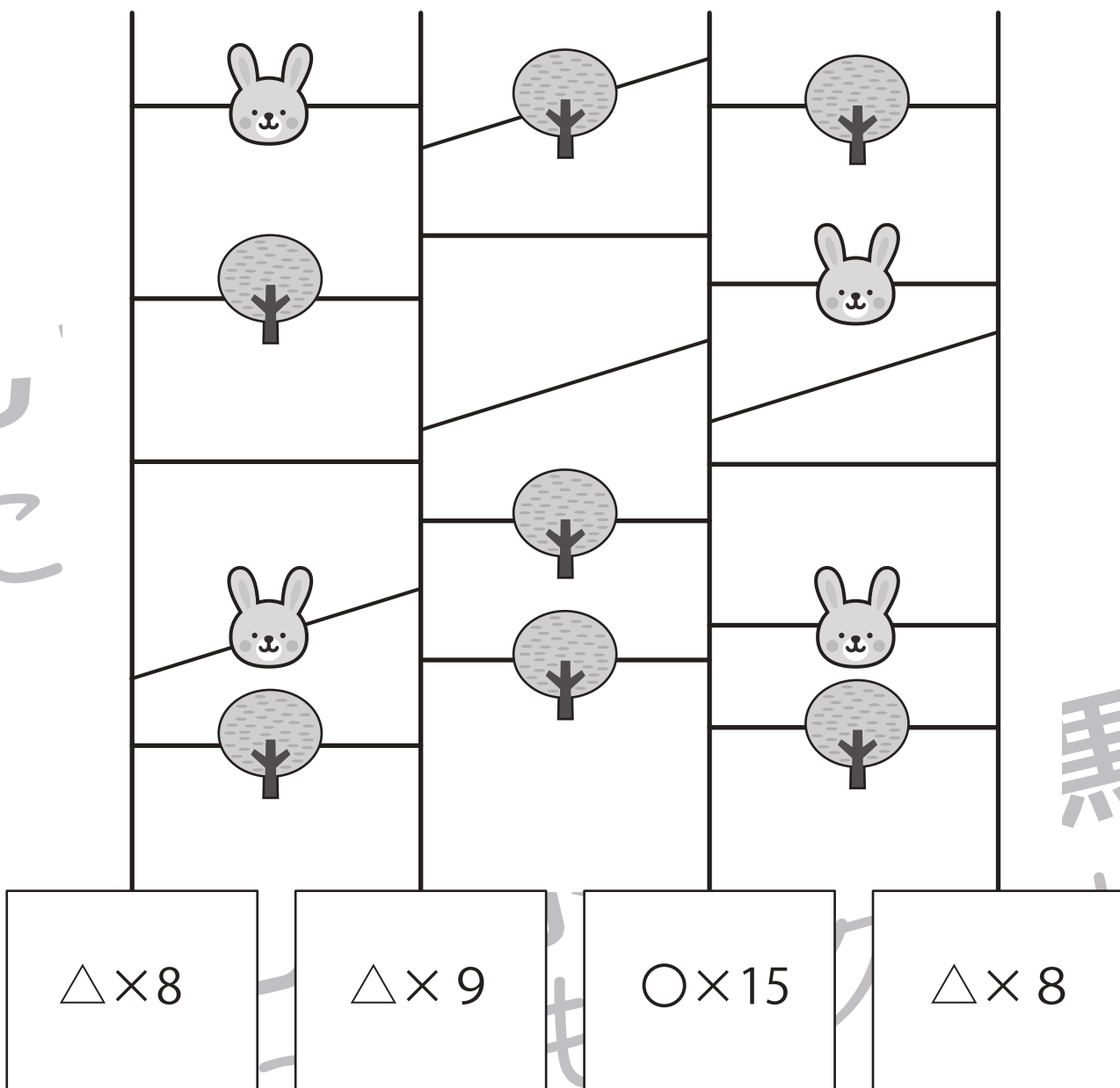
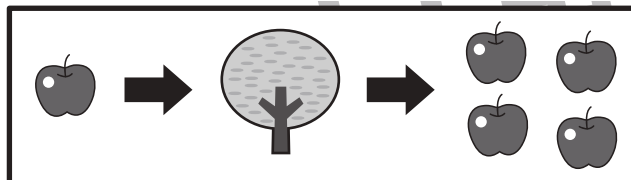

おうちで、やろう。

Study at home. 小学校受験の家庭学習教材

推理：あみだくじ13

動物はそれぞれリンゴを持っています。あみだくじで進み、途中でウサギに会うと2つ減り、木を通り過ぎると3つ増えます。この約束であみだくじを通った後に持っていたリンゴの数は、10個より多いですか。少ないですか。10個より多い時は○を、少ない時は△をリンゴの数だけかきます。

※あみだくじのルール：①上から下へ進みます。道は戻ってはいけません。②途中で曲がり角があったら必ず曲がります。



※1. このプリントは、しながわ・目黒こどもスクールのウェブサイトでダウンロードができます。無断複写・引用はご遠慮ください。
※2. このプリントを活用したオンライン授業のスケジュールは、しながわ・目黒こどもスクールのウェブサイトでご確認ください。






おうちで、やろう。

Study at home. 小学校受験の家庭学習教材

数量：加減 41

それぞれの設問をよく聞いて答えます。問題は一度しか読みませんのでよく聞きましょう。

- ①リンゴが左のお皿に3個、右のお皿に5個あります。リンゴは合わせていくつありますか。その数だけ右の四角に丸をかきます。
- ②飴が鞆の中に5個入っています。女の子のポケットには2個入っています。飴は合わせていくつですか。その数だけ右の四角〇をかきます。
- ③公園に女の子が2人います。後から男の子が3人来ました。女の子と男の子は合わせて何人ですか。その数だけ右の四角に丸をかきます。
- ④幼稚園でウサギを4羽買っています。次の日、2羽生まれました。ウサギは全部で何羽ですか。その数だけ右の四角に〇をかきます。



※1. このプリントは、しながわ・目黒こどもスクールのウェブサイトからダウンロードができます。無断複写・引用はご遠慮ください。

※2. このプリントを活用したオンライン授業のスケジュールは、しながわ・目黒こどもスクールのウェブサイトでご確認ください。