



# おうちで、やろう。

Study at home. 小学校受験の家庭学習教材

## 記憶：絵の記憶 13 記憶用紙

別紙『記憶 - 絵の記憶 11』を行う際に使用します。記憶用紙は点線で折って(切って)、①、②、③の問題の際にそれぞれ 20 秒間ずつ記憶させてください。記憶する際は問題用紙は裏返しにします。記憶後①、②、③それぞれの問題に答えましょう。

①一番たくさんいた動物に○をつけます。 ②レモンの数だけ○をかきます。 ③二番目に多くバナナが入っていた四角に○をかきます。

※2023年9月23日(月)のオンライン授業では実施中に記憶するものを画面で表示します。

①

②

③

--	--	--

※1. このプリントは、しながわ・目黒こどもスクールのウェブサイトダウンロードができます。無断複写・引用はご遠慮ください。

※2. このプリントを活用したオンライン授業のスケジュールは、しながわ・目黒こどもスクールのウェブサイトでご確認ください。



# おうちで、やろう。

Study at home. 小学校受験の家庭学習教材

## 記憶：絵の記憶 13



別紙『記憶 - 絵の記憶 13 記憶用紙』を使用します。記憶用紙の形を見た後に①、②、③の問題に取り組みましょう。

①一番たくさんいた動物に○をつけます。

②②レモンの数だけ○をかきます。

③二番目に多くバナナが入っていた四角に○をかきます。

①



②

③

--	--	--

※1. このプリントは、しながわ・目黒こどもスクールのウェブサイトダウンロードできます。無断複写・引用はご遠慮ください。

※2. このプリントを活用したオンライン授業のスケジュールは、しながわ・目黒こどもスクールのウェブサイトでご確認ください。






# おうちで、やろう。

Study at home. 小学校受験の家庭学習教材

言語：音の理解 44

下の四角の中の絵の音の数を考えます。  
音の数が2つの絵に○、3つのもに×、4つのもに△をつけましょう。



※1. このプリントは、しながわ・目黒こどもスクールのウェブサイトでダウンロードができます。無断複写・引用はご遠慮ください。  
※2. このプリントを活用したオンライン授業のスケジュールは、しながわ・目黒こどもスクールのウェブサイトでご確認ください。





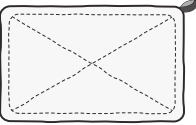

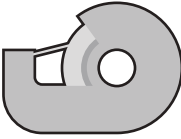

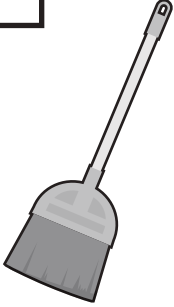
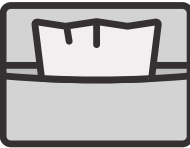



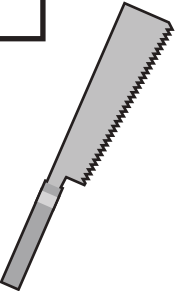






# おうちで、やろう。

Study at home. 小学校受験の家庭学習教材

常識：生活 15

先生のお話を聞いて答えましょう。設問の答えはそれぞれの絵の左上の太い四角の中にかきます。

- ①肉や魚を焼くときに使うものに○をかきます。 ②掃除をするときに使うものに●をかきます。 ③外に出かけるときにポケットに入れるものに□をかきます。 ④ご飯を食べた後、虫歯にならないようにするために使うものに×をかきます。 ⑤紙を使って制作をするときに使うものに△をかきます。

※1. このプリントは、しながわ・目黒こどもスクールのウェブサイトからダウンロードできます。無断複写・引用はご遠慮ください。

※2. このプリントを活用したオンライン授業のスケジュールは、しながわ・目黒こどもスクールのウェブサイトでご確認ください。





# おうちで、やろう。

Study at home. 小学校受験の家庭学習教材

常識：生物 11

左と右の四角の中の同じ仲間の動物を見つけて、点と点を線で結びます。



※1. このプリントは、しながわ・目黒こどもスクールのウェブサイトでダウンロードができます。無断複写・引用はご遠慮ください。  
 ※2. このプリントを活用したオンライン授業のスケジュールは、しながわ・目黒こどもスクールウェブサイトでご確認ください。



# おうちで、やろう。

Study at home. 小学校受験の家庭学習教材

## 推理：話の理解 1

①～④の問題を聞いて、答えに○をつけましょう。

①はるさんは、なつえさんよりも背が高いです。あきさんは、はるさんよりも背が高いです。3人の中ではるさんは誰ですか。はるこさんに○をつけます。

②コップに同じだけ水が入っていました。ウサギさん、キツネくん、タヌキさんの3匹が水を飲みました。ウサギさんはキツネくんよりたくさん飲みました。キツネくんはタヌキさんよりたくさん飲みました。一番たくさん飲んだのは誰ですか。その動物に○をつけます。

③あめが10個あります。ネズミがやってきて、あめをいくつか食べました。そのあと、クマくんがやってきて、ネズミくんより2つ多く食べました。そのあと、ウシさんがやってきて、ネズミくんより1つ少なく食べました。一番多く食べたのは誰ですか。その動物に○をつけます。


④動物たちがかけっこをします。キリンさんはゴールの少し前で転んでしまい、シマウマさんに追越されてしまいました。ゾウくんは靴が脱げてしまい、一番びりでした。ネコさんは一生懸命走ってキリンさんの次にゴールしました。2位の物は誰ですか。

その動物に○をつけましょう。

①




②



③



④



※1. このプリントは、しながわ・目黒こどもスクールのウェブサイトでダウンロードができます。無断複写・引用はご遠慮ください。

※2. このプリントを活用したオンライン授業のスケジュールは、しながわ・目黒こどもスクールのウェブサイトでご確認ください。







# おうちで、やろう。

Study at home. 小学校受験の家庭学習教材

図形：移動 45

上の四角がお手本です。それぞれ先生のお話を聞いて、★からスタートし、たどり着いたマスに塗ります。

- ①ミカン、イチゴ、ブドウ、ブドウ
- ②リンゴ、ミカン、イチゴ、ミカン、リンゴ、リンゴ
- ③ブドウ、リンゴ、ミカン、ミカン、リンゴ、リンゴ、ブドウ、イチゴ



※1. このプリントは、しながわ・目黒こどもスクールのウェブサイトでダウンロードができます。無断複写・引用はご遠慮ください。  
 ※2. このプリントを活用したオンライン授業のスケジュールは、しながわ・目黒こどもスクールのウェブサイトでご確認ください。







# おうちで、やろう。

Study at home. 小学校受験の家庭学習教材

図形：移動 46

上の四角がお手本です。それぞれ先生のお話を聞いて、★からスタートし、たどり着いたマスに塗ります。

- ①ブドウ、ブドウ、イチゴ、ミカン、リンゴ、リンゴ
- ②イチゴ、ブドウ、リンゴ、ミカン、ミカン、イチゴ、イチゴ
- ③ミカン、イチゴ、イチゴ、ブドウ、イチゴ、ブドウ、イチゴ、ミカン、ミカン



※1. このプリントは、しながわ・目黒こどもスクールのウェブサイトでダウンロードができます。無断複写・引用はご遠慮ください。  
 ※2. このプリントを活用したオンライン授業のスケジュールは、しながわ・目黒こどもスクールのウェブサイトでご確認ください。



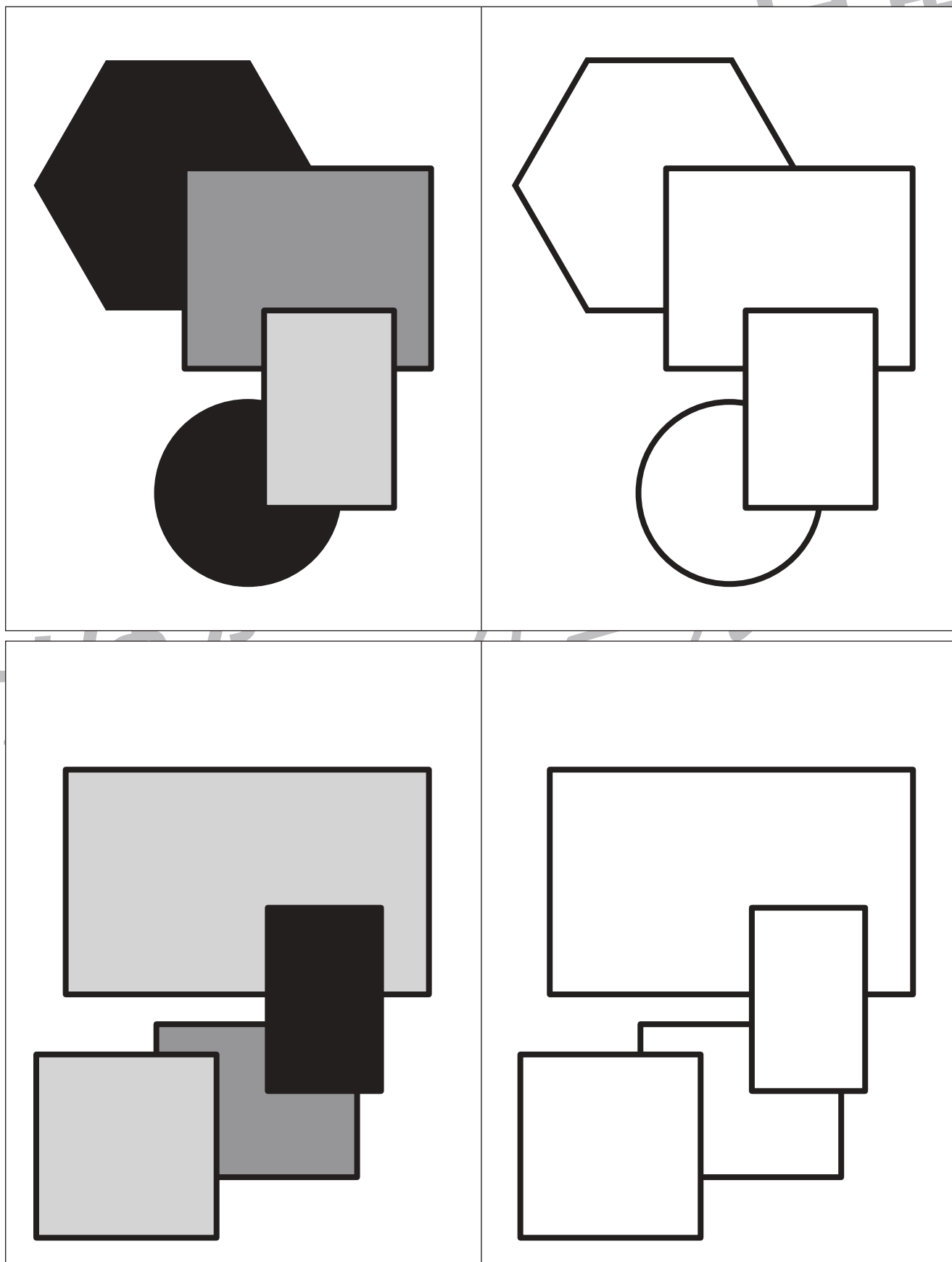


# おうちで、やろう。

Study at home. 小学校受験の家庭学習教材

運筆：濃淡 15

左のお手本と同じ濃さになるように右の形を塗ります。この問題は鉛筆でやりましょう。  
※この問題に解答はありません。



※1. このプリントは、しながわ・目黒こどもスクールのウェブサイトでダウンロードができます。無断複写・引用はご遠慮ください。  
※2. このプリントを活用したオンライン授業のスケジュールは、しながわ・目黒こどもスクールのウェブサイトでご確認ください。



# おうちで、やろう。

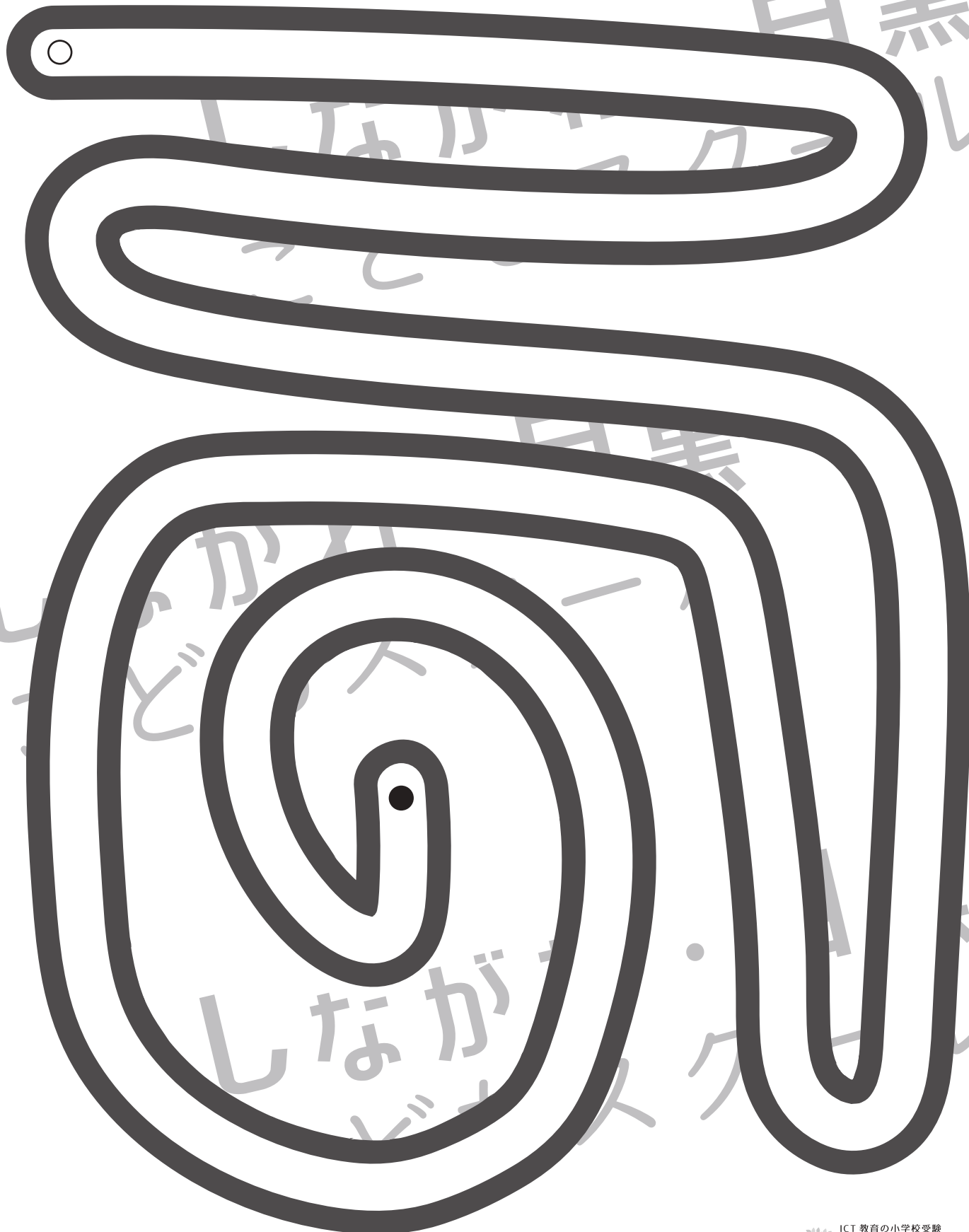
Study at home. 小学校受験の家庭学習教材

処理：運筆 18

白い丸から黒い丸まで一本の線をかきます。壁にぶつかからないようにきれいに素早く線をかきましょう。

この問題はスピードを意識して取り組む練習をしてみましょう。(30秒～1分)

※えんぴつ、クーピー、水性ペンなどを使用しましょう。 ※この問題に解答はありません。



※1. このプリントは、しながわ・目黒こどもスクールのウェブサイトからダウンロードできます。無断複写・引用はご遠慮ください。

※2. このプリントを活用したオンライン授業のスケジュールは、しながわ・目黒こどもスクールのウェブサイトでご確認ください。




# おうちで、やろう。

Study at home. 小学校受験の家庭学習教材

処理：計数 54

上の四角の中の絵の数をかぞえて、下の四角の同じ絵の右にその数より2つ少ない数をかきます。  
この問題はスピードを意識して取り組む練習をしてみましょう。(1分～1分30秒)



※1. このプリントは、しながわ・目黒こどもスクールのウェブサイトでダウンロードができます。無断複写・引用はご遠慮ください。  
※2. このプリントを活用したオンライン授業のスケジュールは、しながわ・目黒こどもスクールのウェブサイトでご確認ください。

