



おうちで、やろう。

Study at home. 小学校受験の家庭学習教材

記憶：絵の記憶 13



別紙『記憶 - 絵の記憶 13 記憶用紙』を使用します。記憶用紙の形を見た後に①、②、③の問題に取り組みましょう。

①一番たくさんいた動物に○をつけます。

②②レモンの数だけ○をかきます。

③二番目に多くバナナが入っていた四角に○をかきます。


①



②

○ × 8

③



※1. このプリントは、しながわ・目黒こどもスクールのウェブサイトからダウンロードできます。無断複写・引用はご遠慮ください。

※2. このプリントを活用したオンライン授業のスケジュールは、しながわ・目黒こどもスクールのウェブサイトでご確認ください。






おうちで、やろう。

Study at home. 小学校受験の家庭学習教材

言語：音の理解 44

下の四角の中の絵の音の数を考えます。
音の数が2つの絵に○、3つのものに×、4つのものに△をつけましょう。



※1. このプリントは、しながわ・目黒こどもスクールのウェブサイトからダウンロードできます。無断複写・引用はご遠慮ください。
 ※2. このプリントを活用したオンライン授業のスケジュールは、しながわ・目黒こどもスクールのウェブサイトでご確認ください。







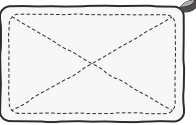

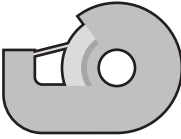





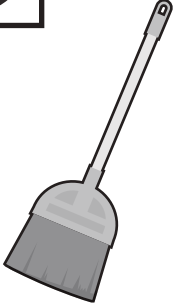
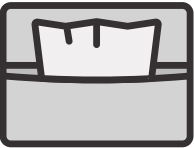







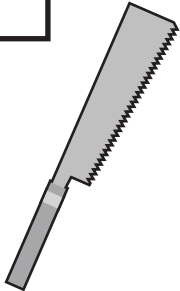










おうちで、やろう。

Study at home. 小学校受験の家庭学習教材

常識：生活 15

先生のお話を聞いて答えましょう。設問の答えはそれぞれの絵の左上の太い四角の中にかきます。

- ①肉や魚を焼くときに使うものに○をかきます。
- ②掃除をするときに使うものに●をかきます。
- ③外に出かけるときにポケットに入れるものに□をかきます。
- ④ご飯を食べた後、虫歯にならないようにするために使うものに×をかきます。
- ⑤紙を使って制作をするときに使うものに△をかきます。

※1. このプリントは、しながわ・目黒こどもスクールのウェブサイトダウンロードができます。無断複写・引用はご遠慮ください。

※2. このプリントを活用したオンライン授業のスケジュールは、しながわ・目黒こどもスクールのウェブサイトでご確認ください。



おうちで、やろう。

Study at home. 小学校受験の家庭学習教材

常識：生物 11

左と右の四角の中の同じ仲間の動物を見つけて、点と点を線で結びます。

	●	●	
	●	●	
	●	●	
	●	●	
	●	●	
	●	●	

※1. このプリントは、しながわ・目黒こどもスクールのウェブサイトでダウンロードができます。無断複写・引用はご遠慮ください。
 ※2. このプリントを活用したオンライン授業のスケジュールは、しながわ・目黒こどもスクールのウェブサイトでご確認ください。



おうちで、やろう。

Study at home. 小学校受験の家庭学習教材

推理：話の理解 1

①～④の問題を聞いて、答えに○をつけましょう。

①はるさんは、なつえさんよりも背が高いです。あきさんは、はるさんよりも背が高いです。3人の中ではるさんは誰ですか。はるこさんに○をつけます。

②コップに同じだけ水が入っていました。ウサギさん、キツネくん、タヌキさんの3匹が水を飲みました。ウサギさんはキツネくんよりたくさん飲みました。キツネくんはタヌキさんよりたくさん飲みました。一番たくさん飲んだのは誰ですか。その動物に○をつけます。

③あめが10個あります。ネズミがやってきて、あめをいくつか食べました。そのあと、クマくんがやってきて、ネズミくんより2つ多く食べました。そのあと、ウシさんがやってきて、ネズミくんより1つ少なく食べました。一番多く食べたのは誰ですか。その動物に○をつけます。


④動物たちがかけっこをします。キリンさんはゴールの少し前で転んでしまい、シマウマさんに追越されてしまいました。ゾウくんは靴が脱げてしまい、一番びりでした。ネコさんは一生懸命走ってキリンさんの次にゴールしました。2位の物は誰ですか。

その動物に○をつけましょう。

①




②



③



④



※1. このプリントは、しながわ・目黒こどもスクールのウェブサイトダウンロードができます。無断複写・引用はご遠慮ください。

※2. このプリントを活用したオンライン授業のスケジュールは、しながわ・目黒こどもスクールのウェブサイトでご確認ください。



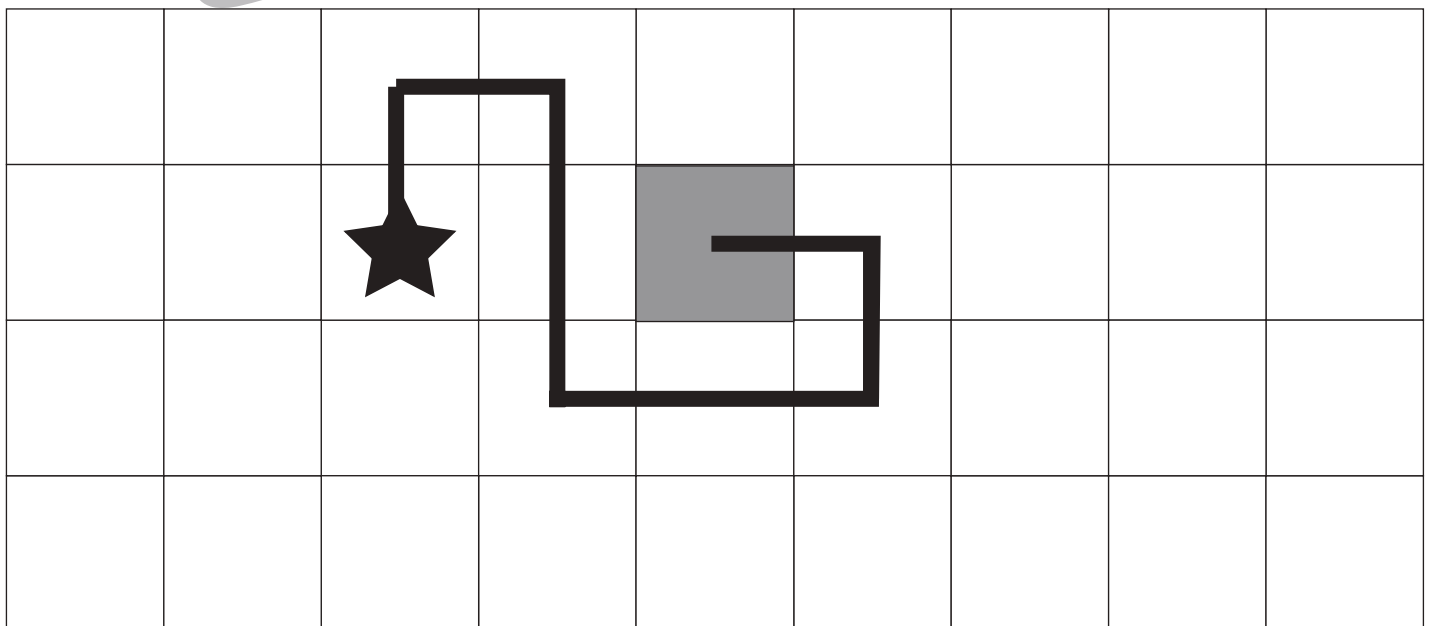

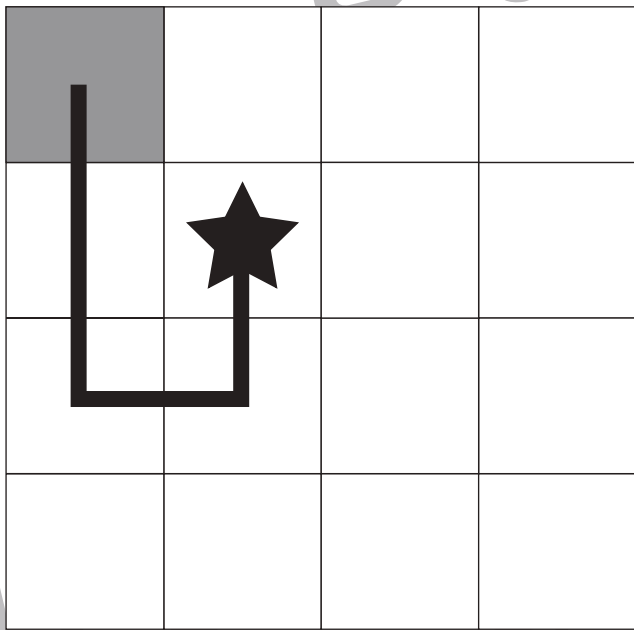

おうちで、やろう。

Study at home. 小学校受験の家庭学習教材

図形：移動 45

上の四角がお手本です。それぞれ先生のお話を聞いて、★からスタートし、たどり着いたマスに塗ります。

- ①ミカン、イチゴ、ブドウ、ブドウ
- ②リンゴ、ミカン、イチゴ、ミカン、リンゴ、リンゴ
- ③ブドウ、リンゴ、ミカン、ミカン、リンゴ、リンゴ、ブドウ、イチゴ



※1. このプリントは、しながわ・目黒こどもスクールのウェブサイトでダウンロードができます。無断複写・引用はご遠慮ください。
 ※2. このプリントを活用したオンライン授業のスケジュールは、しながわ・目黒こどもスクールのウェブサイトでご確認ください。



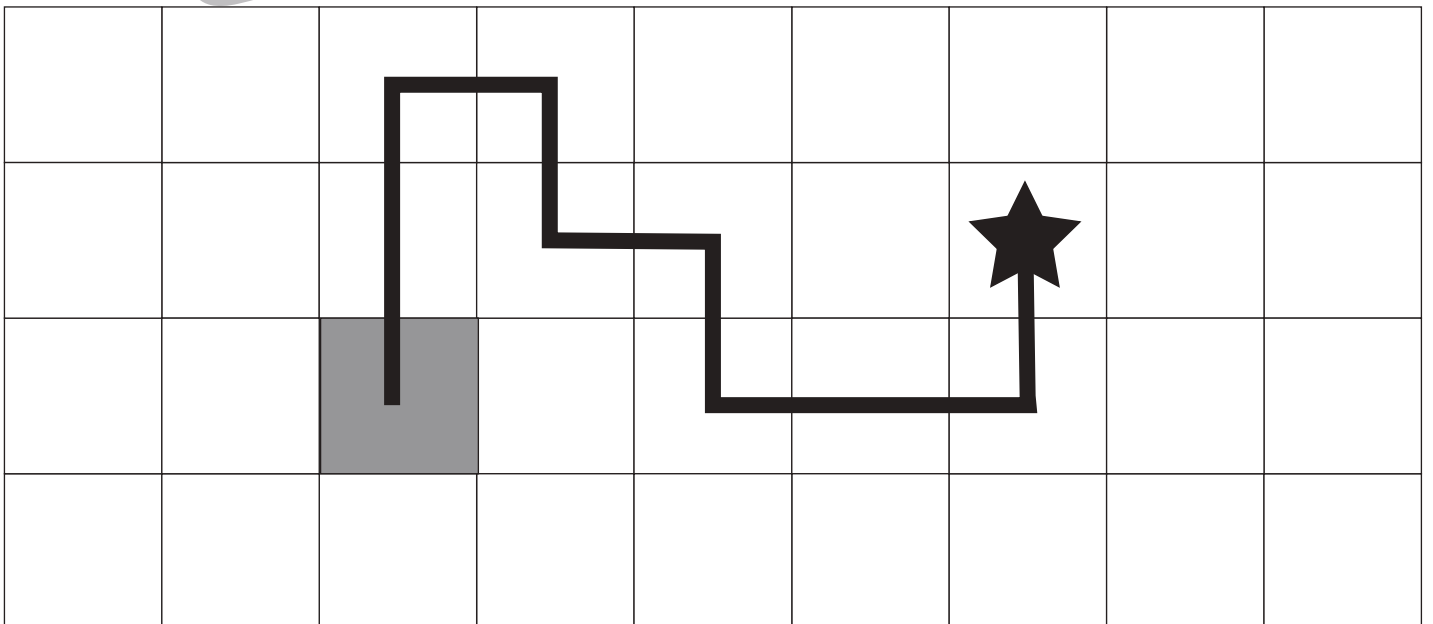

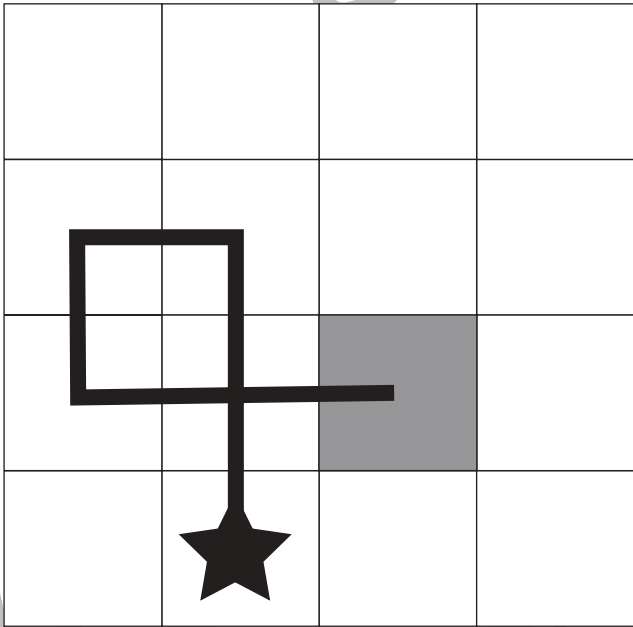

おうちで、やろう。

Study at home. 小学校受験の家庭学習教材

図形：移動 46

上の四角がお手本です。それぞれ先生のお話を聞いて、★からスタートし、たどり着いたマスに塗ります。

- ①ブドウ、ブドウ、イチゴ、ミカン、リンゴ、リンゴ
- ②イチゴ、ブドウ、リンゴ、ミカン、ミカン、イチゴ、イチゴ
- ③ミカン、イチゴ、イチゴ、ブドウ、イチゴ、ブドウ、イチゴ、ミカン、ミカン



※1. このプリントは、しながわ・目黒こどもスクールのウェブサイトでダウンロードができます。無断複写・引用はご遠慮ください。
 ※2. このプリントを活用したオンライン授業のスケジュールは、しながわ・目黒こどもスクールのウェブサイトでご確認ください。




おうちで、やろう。

Study at home. 小学校受験の家庭学習教材

処理：計数 54

上の四角の中の絵の数をかぞえて、下の四角の同じ絵の右にその数より2つ少ない数をかきます。
この問題はスピードを意識して取り組む練習をしてみましょう。(1分～1分30秒)



○ × 6



○ × 7



○ × 10



○ × 7



○ × 9

※1. このプリントは、しながわ・目黒こどもスクールのウェブサイトでダウンロードができます。無断複写・引用はご遠慮ください。
※2. このプリントを活用したオンライン授業のスケジュールは、しながわ・目黒こどもスクールのウェブサイトでご確認ください。

