



おうちで、よろう。

Study at home.

推理：ブラックボックス 16

上の太い四角の中が約束です。黒い星、白い星の箱の中に黒や白の丸が入ると、数が変わったり色が変わって出てきます。この約束で星の箱を通して出た丸はどちらの色でいくつになるでしょうか。その数だけ、その色で○を書きます。

--	--

--	--

--	--

--	--

※1. このプリントは、しながわ・目黒こどもスクールのウェブサイトでダウンロードができます。無断複写・引用はご遠慮ください。
 ※2. このプリントを活用したオンライン授業のスケジュールは、しながわ・目黒こどもスクールのウェブサイトでご確認ください。



おうちで、よろう。

Study at home.

推理：ブラックボックス 17

上の太い四角の中が約束です。黒い星、白い星の箱の中に黒や白の丸が入ると、数が変わったり色が変わって出てきます。この約束で星の箱を通して出できた丸はどちらの色でいくつになるでしょうか。その数だけ、その色で○を書きます。

--	--

--	--

--	--

--	--

※1. このプリントは、しながわ・目黒こどもスクールのウェブサイトでダウンロードができます。無断複写・引用はご遠慮ください。
 ※2. このプリントを活用したオンライン授業のスケジュールは、しながわ・目黒こどもスクールのウェブサイトでご確認ください。



おうちで、よろう。

Study at home.

推理：ブラックボックス 18

上の太い四角の中が約束です。りんごの箱に三角が入ると、数が変わり、バナナの箱に三角が入ると、色が変わって出てきます。一番右にある三角が、最後に出てくる数になります。このとき、太い箱の中はどちらの果物になりますか。正しい方に○をつけます。

※1. このプリントは、しながわ・目黒こどもスクールのウェブサイトでダウンロードができます。無断複写・引用はご遠慮ください。

※2. このプリントを活用したオンライン授業のスケジュールは、しながわ・目黒こどもスクールのウェブサイトでご確認ください。



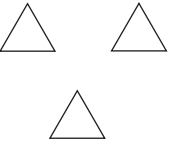


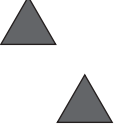
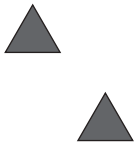

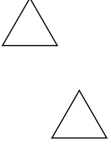
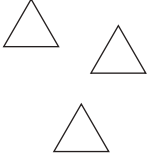
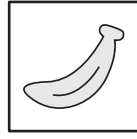
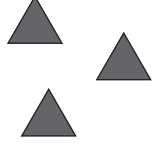





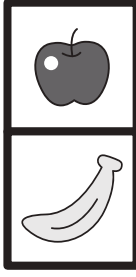

おうちで、やろう。



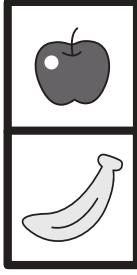

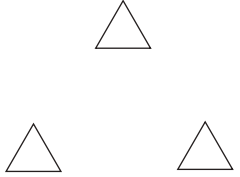
Study at home.


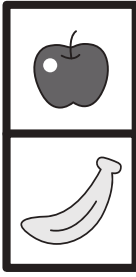



推理：ブラックボックス 19


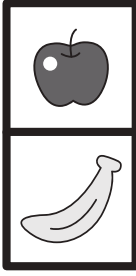
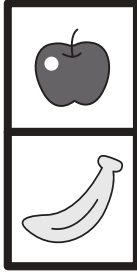


上の太い四角の中が約束です。りんごの箱に三角が入ると、数が変わり、バナナの箱に三角が入ると、色が変わって出てきます。一番右にある三角が、最後に出てくる数になります。このとき、太い箱の中はどちらの果物になりますか。正しい方に○をつけます。

	→		→	
	→		→	
	→		→	
	→		→	

	→		→		→		
-----------------------------------------------------------------------------------	---	------------------------------------------------------------------------------------	---	------------------------------------------------------------------------------------	---	-------------------------------------------------------------------------------------	--------------------------------------------------------------------------------------

	→		→		→		
------------------------------------------------------------------------------------	---	-------------------------------------------------------------------------------------	---	-------------------------------------------------------------------------------------	---	--------------------------------------------------------------------------------------	---------------------------------------------------------------------------------------

	→		→		→		
-------------------------------------------------------------------------------------	---	-------------------------------------------------------------------------------------	---	-------------------------------------------------------------------------------------	---	--------------------------------------------------------------------------------------	---------------------------------------------------------------------------------------

	→		→		→		
------------------------------------------------------------------------------------	---	-------------------------------------------------------------------------------------	---	-------------------------------------------------------------------------------------	---	--------------------------------------------------------------------------------------	---------------------------------------------------------------------------------------

※1. このプリントは、しながわ・目黒こどもスクールのウェブサイトでダウンロードができます。無断複写・引用はご遠慮ください。
 ※2. このプリントを活用したオンライン授業のスケジュールは、しながわ・目黒こどもスクールのウェブサイトでご確認ください。



おうちで、やろう。

Study at home. 小学校受験の家庭学習教材

数量：広さ 11

それぞれの四角の白い部分と灰色の部分の広さを比べます。白い部分と灰色の部分が同じものをみつけて○をつけます。

※1. このプリントは、しながわ・目黒こどもスクールのウェブサイトでダウンロードができます。無断複写・引用はご遠慮ください。

※2. このプリントを活用したオンライン授業のスケジュールは、しながわ・目黒こどもスクールのウェブサイトでご確認ください。



おうちで、やろう。

Study at home. 小学校受験の家庭学習教材

推理：広さ 12

それぞれの四角の白い部分と灰色の部分の広さを比べます。白い部分と灰色の部分が同じものをみつけて○をつけます。

※1. このプリントは、しながわ・目黒こどもスクールのウェブサイトからダウンロードできます。無断複写・引用はご遠慮ください。

※2. このプリントを活用したオンライン授業のスケジュールは、しながわ・目黒こどもスクールのウェブサイトでご確認ください。



おうちで、やろう。

Study at home. 小学校受験の家庭学習教材

推理：広さ 13

それぞれの四角の白い部分と灰色の部分の広さを比べます。白い部分と灰色の部分が同じものをみつけて○をつけます。

※1. このプリントは、しながわ・目黒こどもスクールのウェブサイトからダウンロードできます。無断複写・引用はご遠慮ください。

※2. このプリントを活用したオンライン授業のスケジュールは、しながわ・目黒こどもスクールのウェブサイトでご確認ください。



おうちで、やろう。

Study at home. 小学校受験の家庭学習教材

処理：運筆 19

壁にぶつからないように左上から左下まで一本の線をかきます。
この問題はスピードを意識して取り組む練習をしてみましょう。(1分)
※クーピー、鉛筆、水性ペンの好きなものを使ってやりましょう。
※この問題に解答はありません。



※1. このプリントは、しながわ・目黒こどもスクールのウェブサイトでダウンロードができます。無断複写・引用はご遠慮ください。
※2. このプリントを活用したオンライン授業のスケジュールは、しながわ・目黒こどもスクールのウェブサイトでご確認ください。

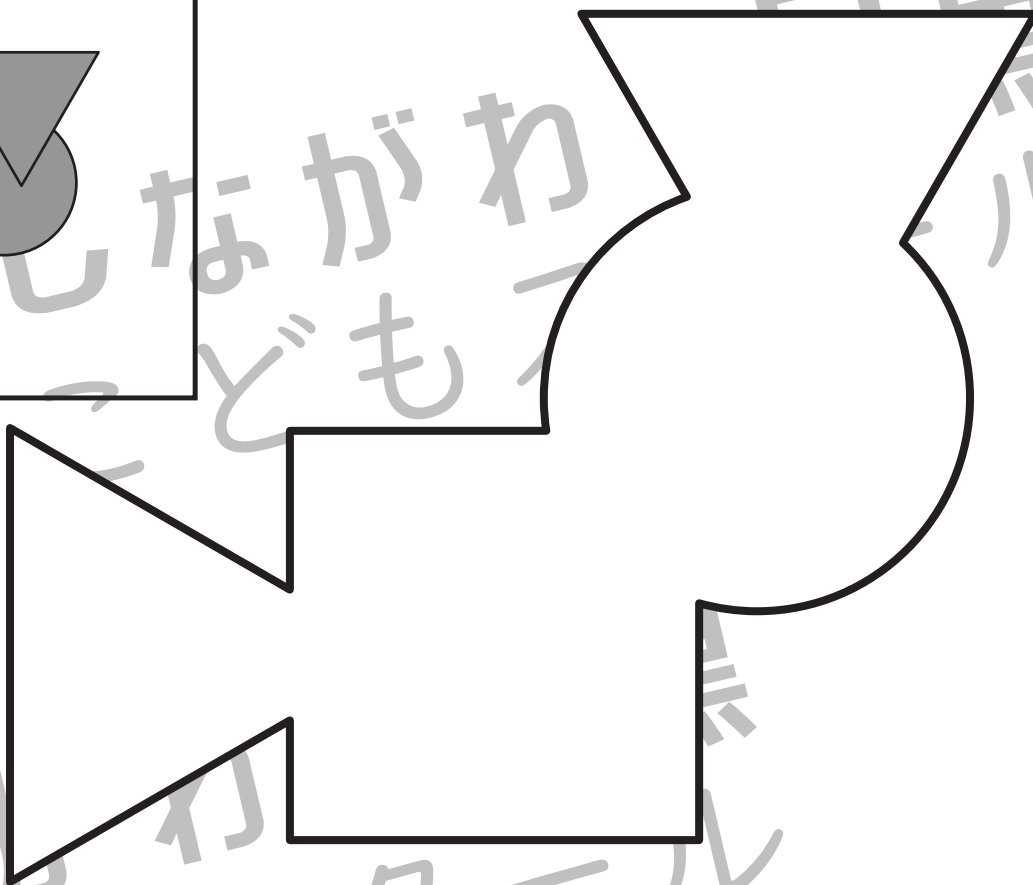
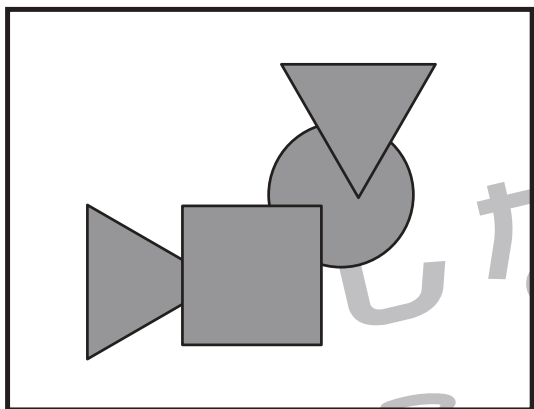


おうちで、やろう。

Study at home. 小学校受験の家庭学習教材

巧緻性：はさみ 18

- ①点線のところをはさみで切ります。
 - ②切った下の部分にある灰色の○、△、□をはさみで切ります。
 - ③切った上の部分にある形の中に左上のお手本と同じになるようにのりで貼ります。
- ※この問題に解答はありません。



※1. このプリントは、しながわ・目黒こどもスクールのウェブサイトでダウンロードができます。無断複写・引用はご遠慮ください。
※2. このプリントを活用したオンライン授業のスケジュールは、しながわ・目黒こどもスクールのウェブサイトでご確認ください。


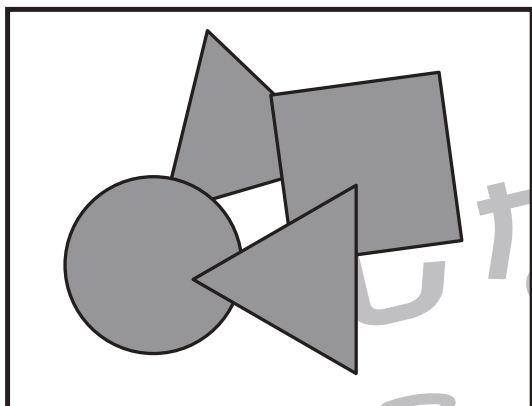


おうちで、やろう。

Study at home. 小学校受験の家庭学習教材

巧緻性：はさみ 19

- ①点線のところをはさみで切ります。
 - ②切った下の部分にある灰色の○、△、□をはさみで切ります。
 - ③切った上の部分にある形の中に左上のお手本と同じになるようにのりで貼ります。
- ※この問題に解答はありません。



※1. このプリントは、しながわ・目黒こどもスクールのウェブサイトでダウンロードができます。無断複写・引用はご遠慮ください。
※2. このプリントを活用したオンライン授業のスケジュールは、しながわ・目黒こどもスクールのウェブサイトでご確認ください。