



# おうちで、やろう。

Study at home. 小学校受験の家庭学習教材

## 図形：折り重ね 52

太い線で矢印の方向へ折り重ねた時の見え方を考えます。このとき、○がないマスはどこですか。その場所を考えてすぐ右の四角のマスを塗ります。もし間違えてしまったら、右端の四角のマスを塗りましょう。

①

②

③

④

※1. このプリントは、しながわ・目黒こどもスクールのウェブサイトでダウンロードができます。無断複写・引用はご遠慮ください。

※2. このプリントを活用したオンライン授業のスケジュールは、しながわ・目黒こどもスクールのウェブサイトでご確認ください。



# おうちで、やろう。

Study at home. 小学校受験の家庭学習教材

## 図形：折り重ね 53

太い線で矢印の方向へ折り重ねた時の見え方を考えます。このとき、○がないマスはどこですか。その場所を考えてすぐ右の四角のマスを塗ります。もし間違えてしまったら、右端の四角のマスを塗りましょう。

①

②

③

④

※1. このプリントは、しながわ・目黒こどもスクールのウェブサイトでダウンロードができます。無断複写・引用はご遠慮ください。

※2. このプリントを活用したオンライン授業のスケジュールは、しながわ・目黒こどもスクールのウェブサイトでご確認ください。



# おうちで、やろう。

Study at home. 小学校受験の家庭学習教材

図形：折り重ね 54

太い線で矢印の方向へ折り重ねた時の見え方を考えます。このとき、○がないマスはどこですか。その場所を考えてすぐ右の四角のマス塗ります。もし間違えてしまったら、右端の四角のマスを塗りましょう。

①

②

③

④

※1. このプリントは、しながわ・目黒こどもスクールのウェブサイトでダウンロードができます。無断複写・引用はご遠慮ください。

※2. このプリントを活用したオンライン授業のスケジュールは、しながわ・目黒こどもスクールのウェブサイトでご確認ください。



# おうちで、やろう。

Study at home. 小学校受験の家庭学習教材

## 図形：折り線 3

左の四角の中にある折り紙を開いた時、折り線がどのようなになっているかを考えて右の中から選んで○をつけます。

--	--	--	--

--	--	--	--

--	--	--	--

--	--	--	--

--	--	--	--

※1. このプリントは、しながわ・目黒こどもスクールのウェブサイトでダウンロードができます。無断複写・引用はご遠慮ください。  
 ※2. このプリントを活用したオンライン授業のスケジュールは、しながわ・目黒こどもスクールのウェブサイトでご確認ください。



# おうちで、やろう。

Study at home. 小学校受験の家庭学習教材

## 推理：隠れた絵 1

それぞれの四角の中のマスには同じ果物があります。灰色で隠れている場所に果物がいくつあるのかを考えて、その数だけ下の太い四角の中に○をかきます。





※1. このプリントは、しながわ・目黒こどもスクールのウェブサイトでダウンロードができます。無断複写・引用はご遠慮ください。  
 ※2. このプリントを活用したオンライン授業のスケジュールは、しながわ・目黒こどもスクールのウェブサイトでご確認ください。



# おうちで、やろう。

Study at home. 小学校受験の家庭学習教材

## 推理：隠れた絵2

それぞれの四角の中のマスには同じ果物があります。灰色で隠れている場所に果物がいくつあるのかを考えて、その数だけ下の太い四角の中に○をかきます。





※1. このプリントは、しながわ・目黒こどもスクールのウェブサイトでダウンロードができます。無断複写・引用はご遠慮ください。  
 ※2. このプリントを活用したオンライン授業のスケジュールは、しながわ・目黒こどもスクールのウェブサイトでご確認ください。


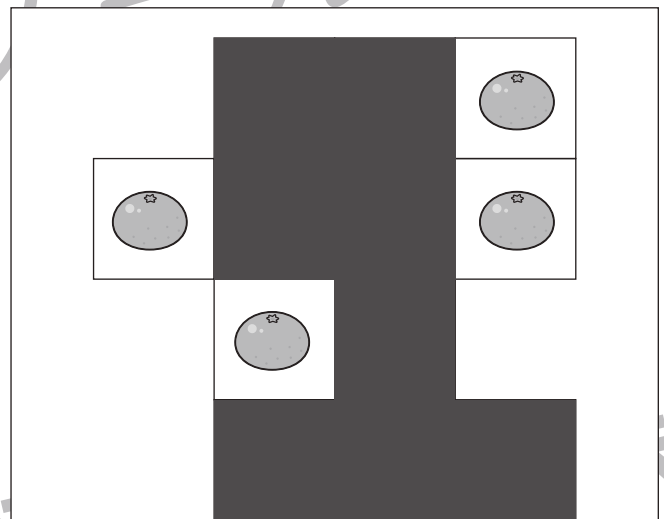
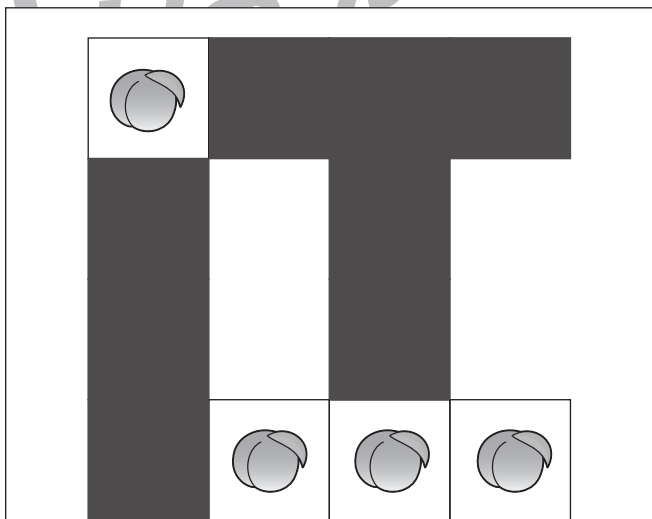
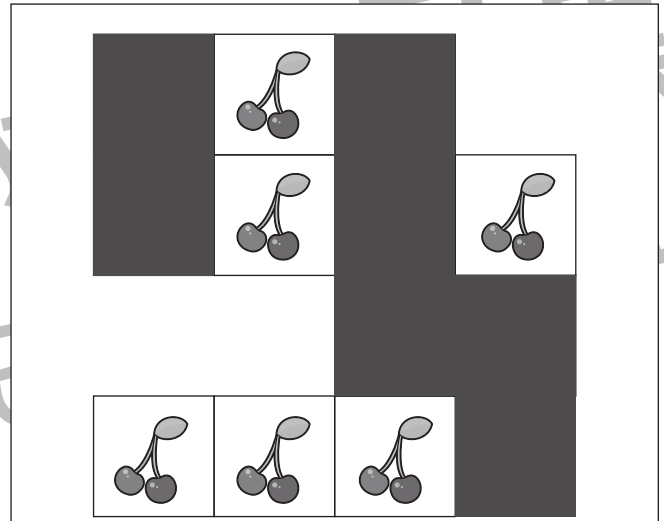
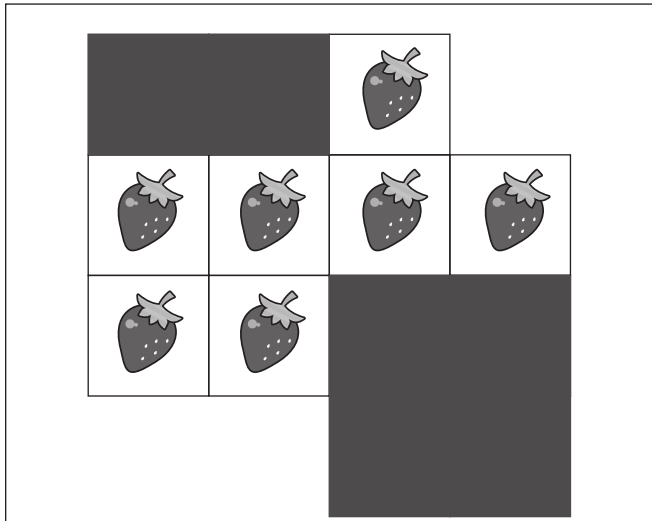


# おうちで、やろう。

Study at home. 小学校受験の家庭学習教材

## 推理：隠れた絵3

それぞれの四角の中のマスには同じ果物があります。灰色で隠れている場所に果物がいくつあるのかを考えて、その数だけ下の太い四角の中に○をかきます。



※1. このプリントは、しながわ・目黒こどもスクールのウェブサイトでダウンロードができます。無断複写・引用はご遠慮ください。  
 ※2. このプリントを活用したオンライン授業のスケジュールは、しながわ・目黒こどもスクールのウェブサイトでご確認ください。



# おうちで、やろう。

Study at home. 小学校受験の家庭学習教材

推理：系列完成 31

動物がある順番通りに並んでいます。灰色の四角の中の並び方を考えて正しいものを下の四角の中から選んで○をつけます。

--	--	--	--	--	--	--	--	--

--	--	--	--	--	--	--	--	--

--	--	--	--	--	--	--	--	--

--	--	--	--	--	--	--	--	--

--	--	--	--	--	--	--	--	--

--	--	--	--	--	--	--	--	--

--	--	--	--	--	--	--	--	--

--	--	--	--	--	--	--	--	--

※1. このプリントは、しながわ・目黒こどもスクールのウェブサイトからダウンロードできます。無断複写・引用はご遠慮ください。  
 ※2. このプリントを活用したオンライン授業のスケジュールは、しながわ・目黒こどもスクールのウェブサイトでご確認ください。





# おうちで、やろう。

Study at home. 小学校受験の家庭学習教材

## 推理：系列完成 32

動物がある順番通りに並んでいます。灰色の四角の中の並び方を考えて正しいものを下の四角の中から選んで○をつけます。


※1. このプリントは、しながわ・目黒こどもスクールのウェブサイトでダウンロードができます。無断複写・引用はご遠慮ください。  
 ※2. このプリントを活用したオンライン授業のスケジュールは、しながわ・目黒こどもスクールのウェブサイトでご確認ください。






# おうちで、やろう。

Study at home. 小学校受験の家庭学習教材

巧緻性：ちぎり 15

- ①点線をはさみで切ります。
- ②絵の太い線をちぎります。
- ③顔がない動物は自分で顔をかきましょう。



※1. このプリントは、しながわ・目黒こどもスクールのウェブサイトでダウンロードができます。無断複写・引用はご遠慮ください。  
※2. このプリントを活用したオンライン授業のスケジュールは、しながわ・目黒こどもスクールのウェブサイトでご確認ください。

