


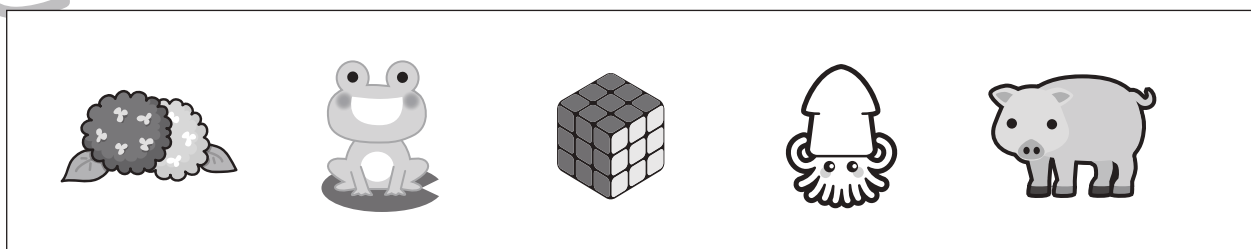





おうちで、やろう。

Study at home. 小学校受験の家庭学習教材

言語：しりとり 21

四角の中のものとしりとりをします。順番に並べたとき2番目になるものに○をつけます。



※1. このプリントは、しながわ・目黒こどもスクールのウェブサイトでダウンロードができます。無断複写・引用はご遠慮ください。

※2. このプリントを活用したオンライン授業のスケジュールは、しながわ・目黒こどもスクールのウェブサイトでご確認ください。



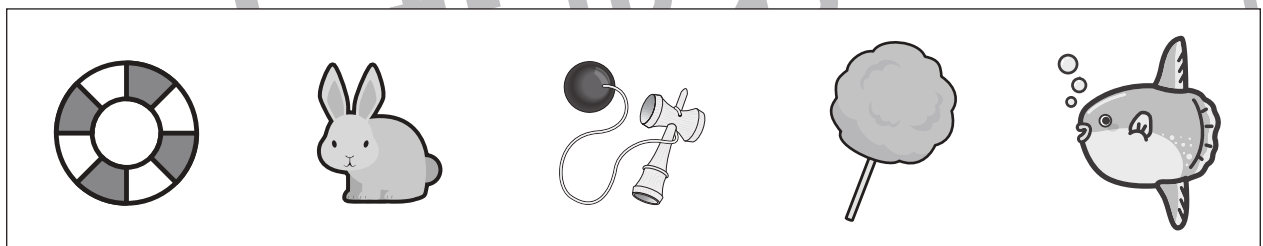
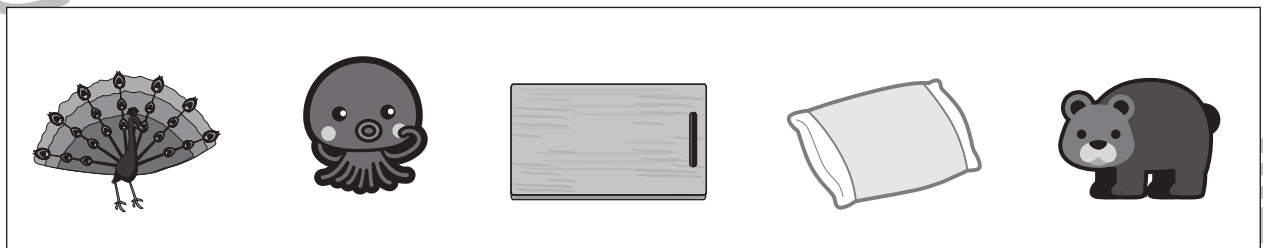





おうちで、やろう。

Study at home. 小学校受験の家庭学習教材

言語：しりとり 22

四角の中のものでしりとりをします。できるだけ長くしりとりをしたとき、使わないものに○をつけます。



※1. このプリントは、しながわ・目黒こどもスクールのウェブサイトでダウンロードができます。無断複写・引用はご遠慮ください。
※2. このプリントを活用したオンライン授業のスケジュールは、しながわ・目黒こどもスクールのウェブサイトでご確認ください。



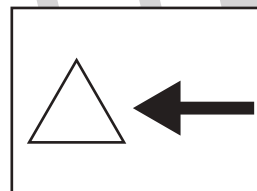

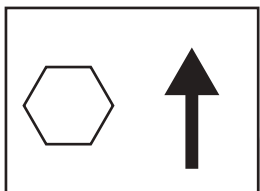
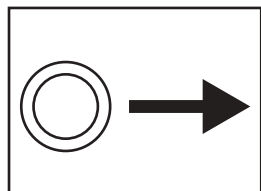


おうちで、やろう。

Study at home. 小学校受験の家庭学習教材

図形：移動 45

上の四角が約束です。それぞれの記号の隣の矢印の方向へ 1 マスずつ進みます。
この約束のとき、マスの中にいる動物が左に並んでいる記号の通りに進み、最後に着いた場所に○をかきます。



○
○
○
○
○
△

		🐘			

○
○
○
○
○
○
△

		🐮			

☆
○
△
☆
△

				🐼	

☆
☆
△
○
△
☆

			🐯		

○
○
△
☆
△

			🐵		

○
☆
○
○
○
○

			🐒		

※1. このプリントは、しながわ・目黒こどもスクールのウェブサイトでダウンロードができます。無断複写・引用はご遠慮ください。
※2. このプリントを活用したオンライン授業のスケジュールは、しながわ・目黒こどもスクールのウェブサイトでご確認ください。



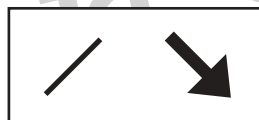
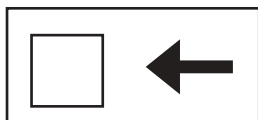
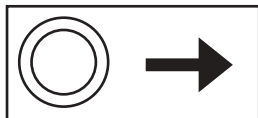
おうちで、やろう。

Study at home. 小学校受験の家庭学習教材

図形：移動 46

上の四角が約束です。それぞれの記号の隣の矢印の方向へ 1 マスずつ進みます。

この約束のとき、マスの中にいる動物が左に並んでいる記号の通りに進み、最後に着いた場所に○をかきます。



○
□
◇
×
◇

	🐘				

☆
△
◇
×
○
◇

	🐮				

△
/
☆
×
□

			🐼		

/
/
□
□
☆
×

			🐱		

/
☆
○
△
◇

			🐵		

○
○
☆
◇
◇
□
/

	🐒				

※1. このプリントは、しながわ・目黒こどもスクールのウェブサイトでダウンロードができます。無断複写・引用はご遠慮ください。

※2. このプリントを活用したオンライン授業のスケジュールは、しながわ・目黒こどもスクールのウェブサイトでご確認ください。

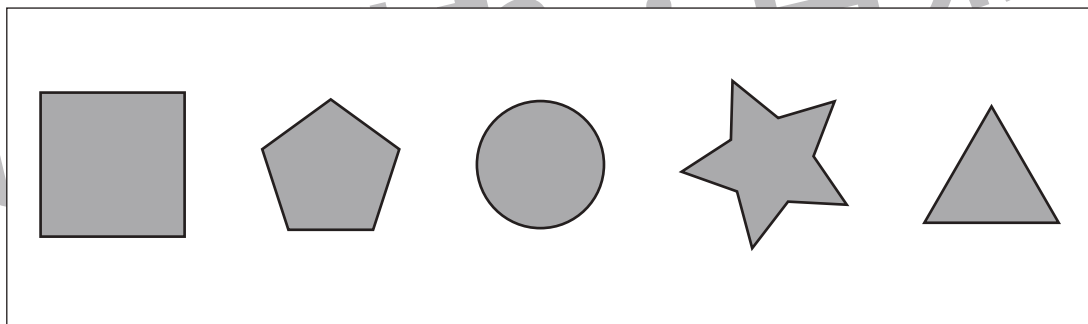
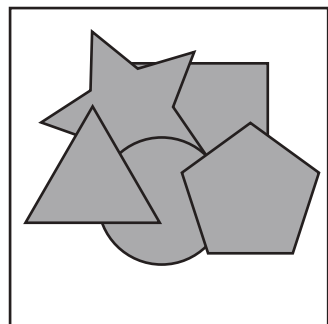
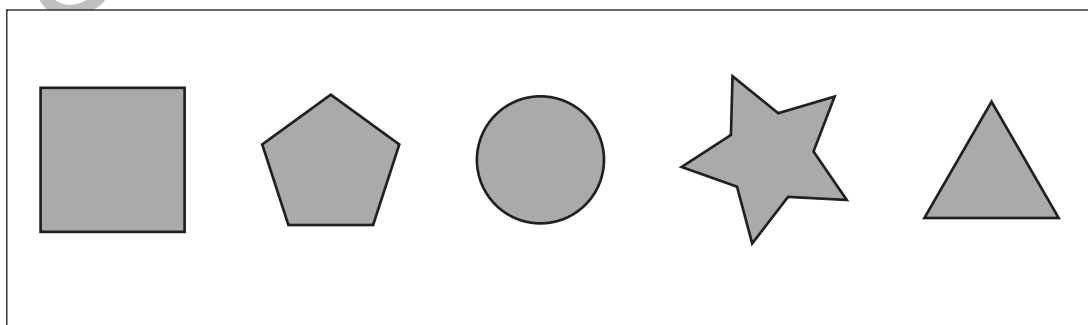
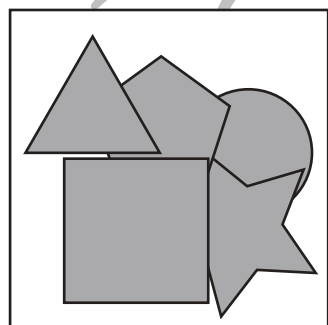
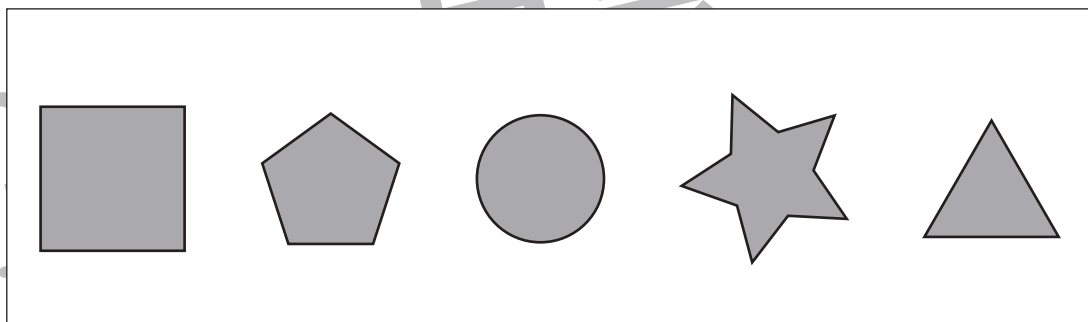
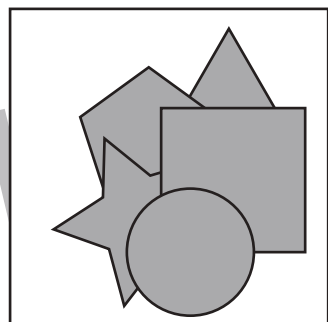
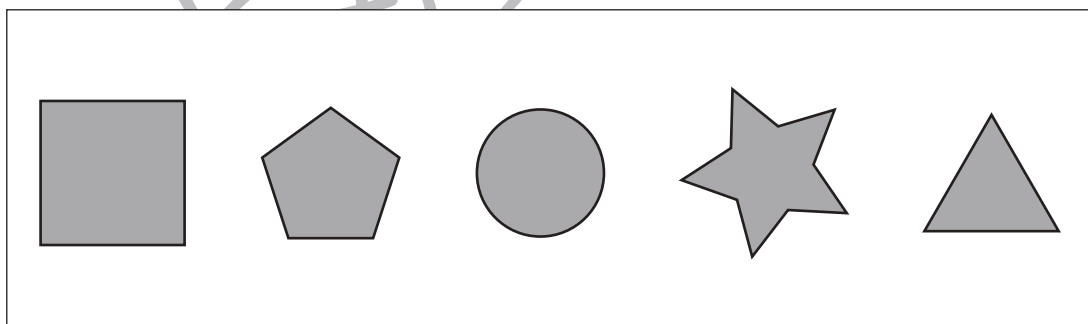
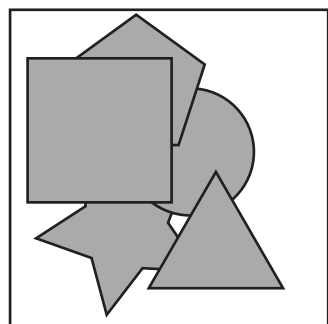
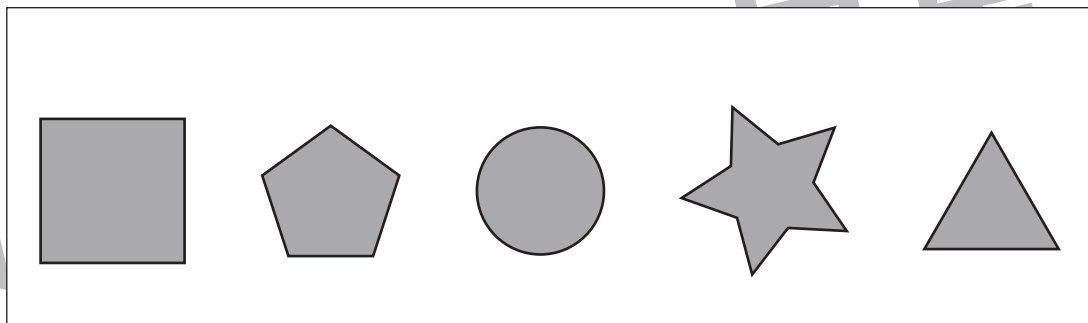
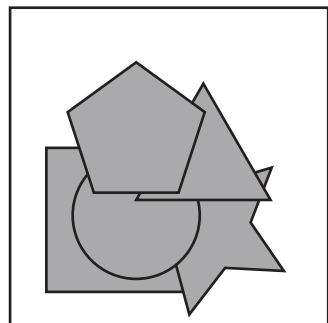


おうちで、やろう。

Study at home. 小学校受験の家庭学習教材

図形：重なり 20

左の太い四角の中には色々な形が重なっています。一番下にある形を右の中から見つけて○をつけます。



※1. このプリントは、しながわ・目黒こどもスクールのウェブサイトでダウンロードができます。無断複写・引用はご遠慮ください。
※2. このプリントを活用したオンライン授業のスケジュールは、しながわ・目黒こどもスクールのウェブサイトでご確認ください。

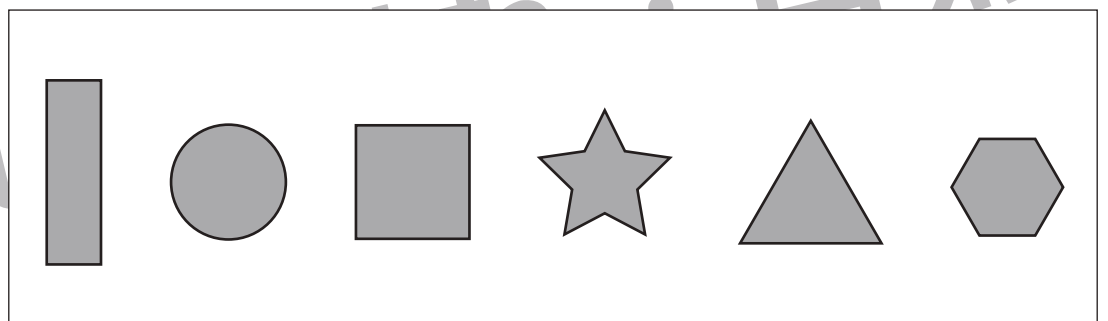
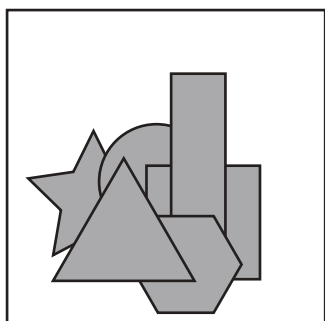
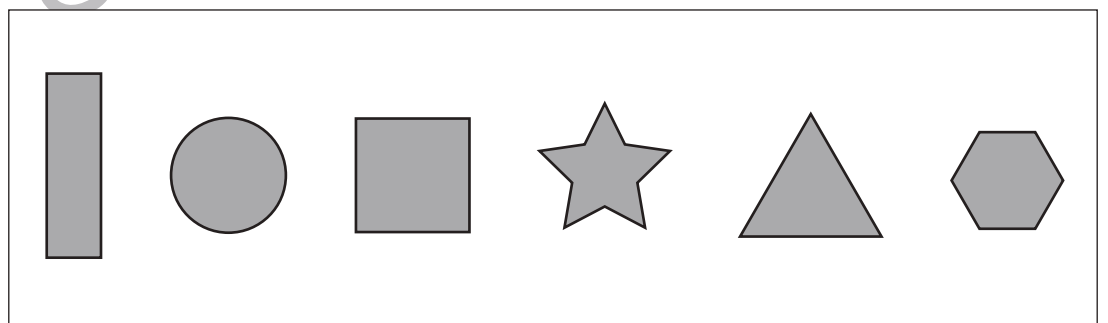
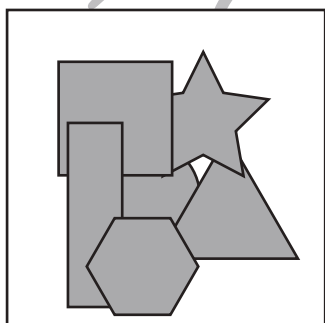


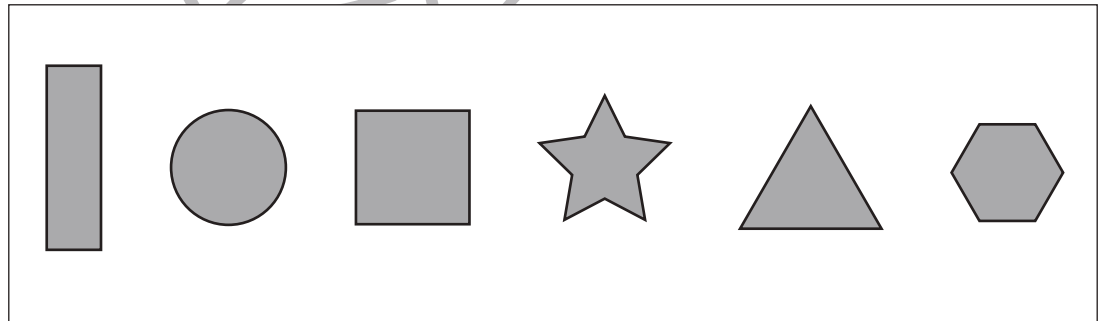
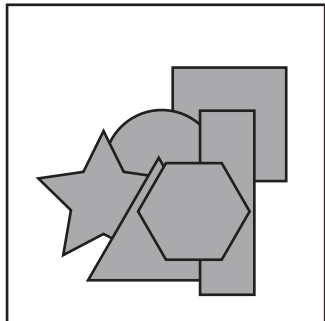
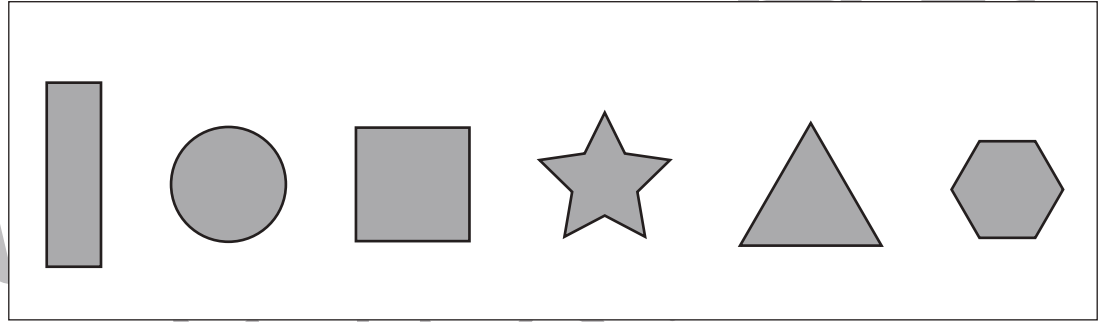
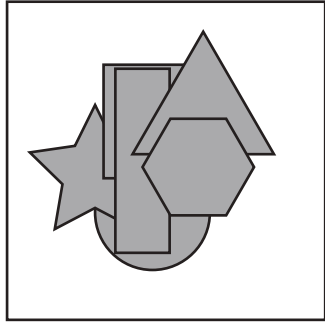


おうちで、やろう。

Study at home. 小学校受験の家庭学習教材

図形：重なり 21

左の太い四角の中には色々な形が重なっています。下から2番目にある形には○を、上から2番目にある形には×を、右の四角の中から見つけて印をつけます。



※1. このプリントは、しながわ・目黒こどもスクールのウェブサイトでダウンロードができます。無断複写・引用はご遠慮ください。
※2. このプリントを活用したオンライン授業のスケジュールは、しながわ・目黒こどもスクールのウェブサイトでご確認ください。


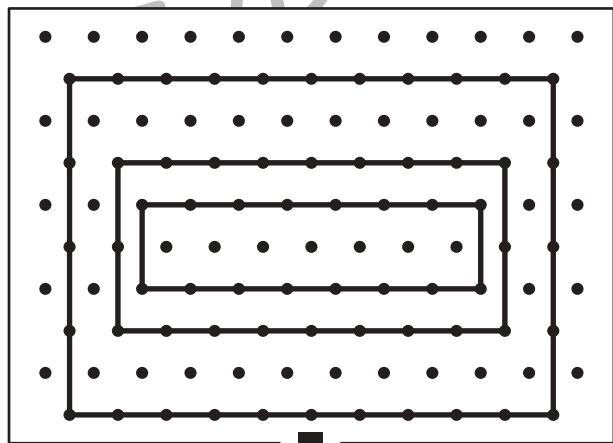

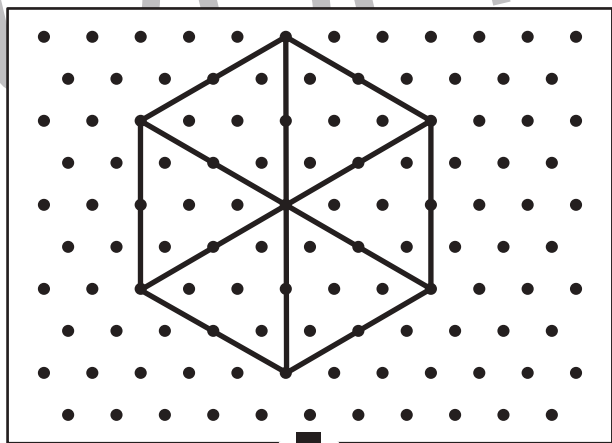

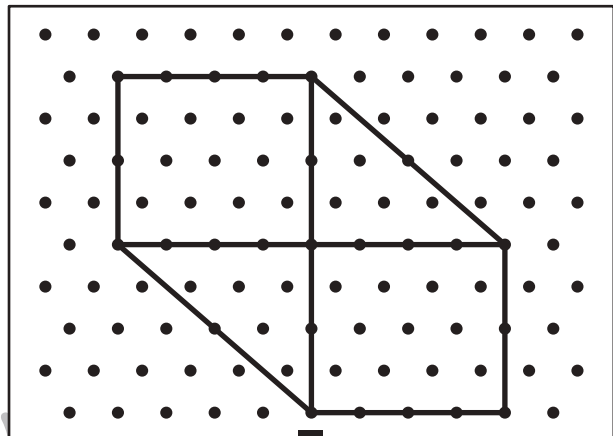

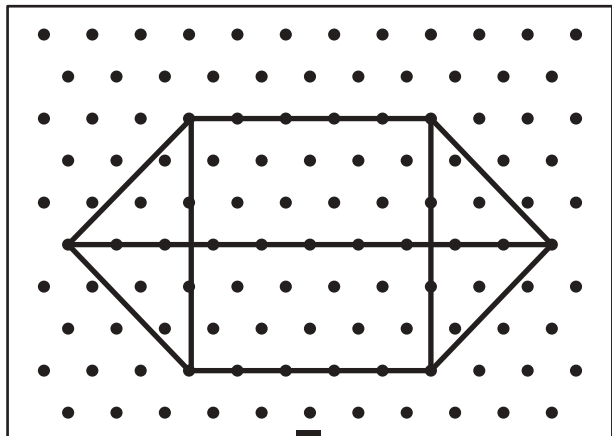


おうちで、やろう。

Study at home. 小学校受験の家庭学習教材

図形：点図形 48

上のお手本と同じになるように下の四角の点と点を結びます。※このプリントに解答はありません。



※1. このプリントは、しながわ・目黒こどもスクールのウェブサイトからダウンロードできます。無断複写・引用はご遠慮ください。

※2. このプリントを活用したオンライン授業のスケジュールは、しながわ・目黒こどもスクールのウェブサイトでご確認ください。





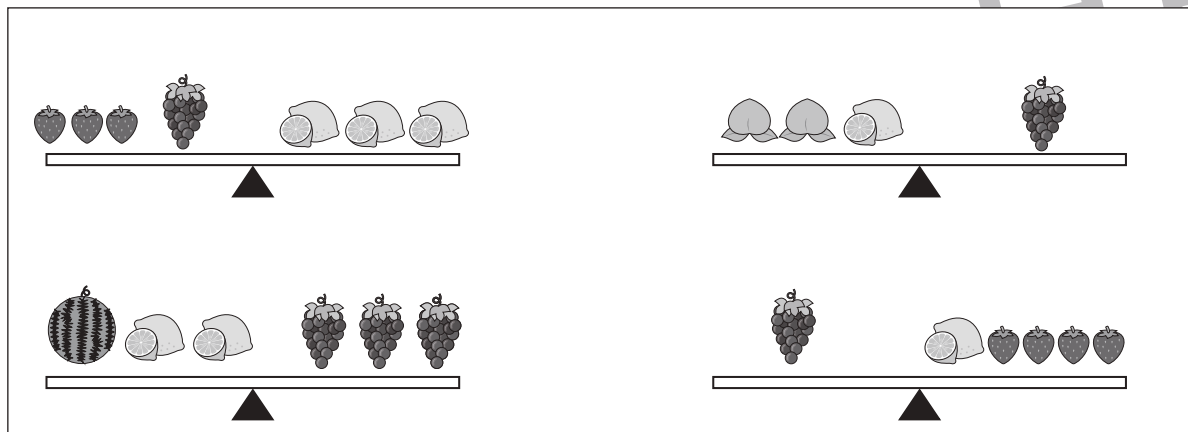
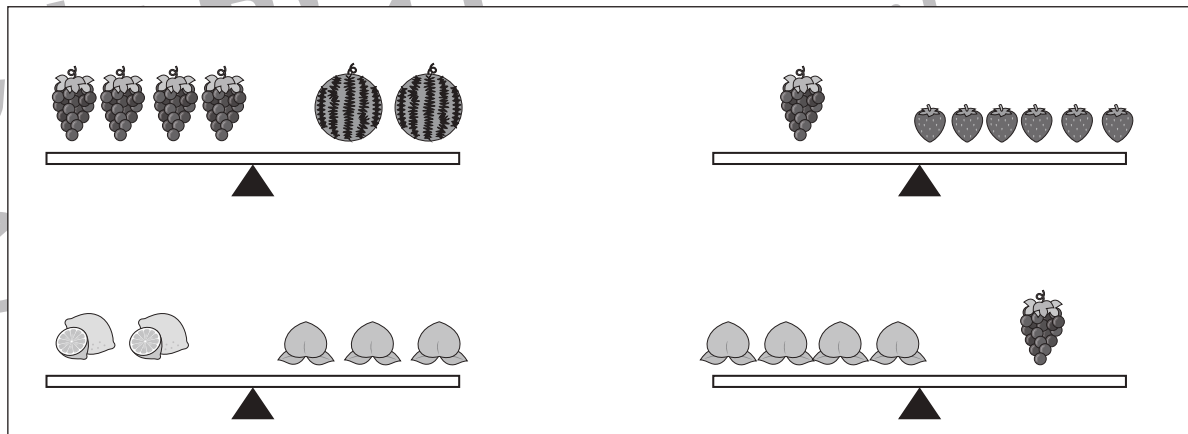
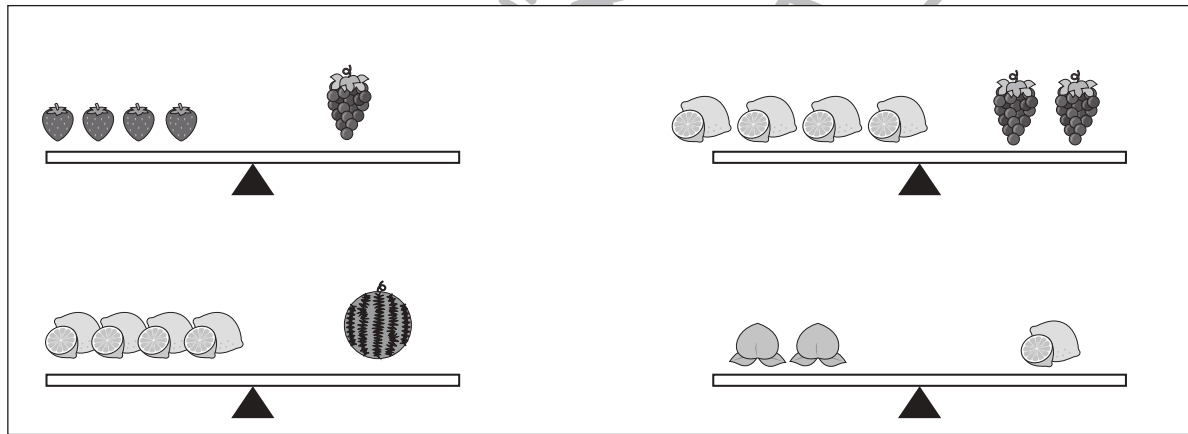
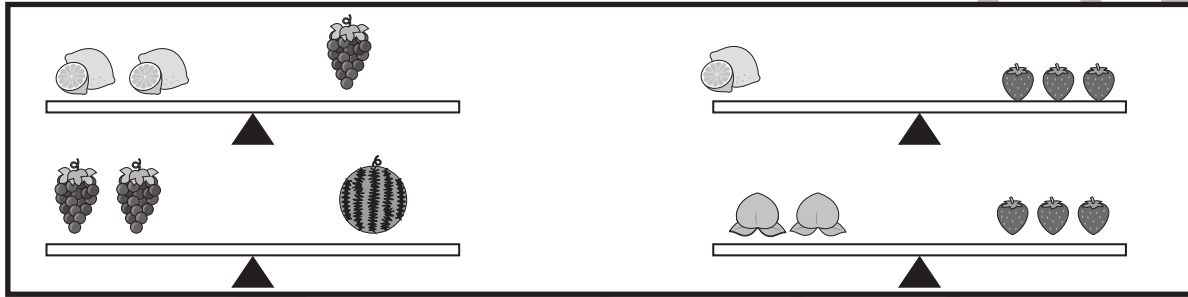
おうちで、やろう。

Study at home. 小学校受験の家庭学習教材

推理：重さ 24

太い四角の絵のようにシーソーが釣り合っています。

この約束のとき、下の四角の中の4つのシーソーのうち、つり合っていないものを見つけて○をつけます。



※1. このプリントは、しながわ・目黒こどもスクールのウェブサイトでダウンロードができます。無断複写・引用はご遠慮ください。

※2. このプリントを活用したオンライン授業のスケジュールは、しながわ・目黒こどもスクールのウェブサイトでご確認ください。




おうちで、やろう。

Study at home. 小学校受験の家庭学習教材


数量：複合 15

上の四角の中の果物をかぞえて取り組みます。


- ① 1番少ない果物に○をつけます。
- ② 果物の数が8つのものに○をつけます。
- ③ 1番多い果物に○をつけます。
- ④ 2番目に少ない果物に○をつけます。




①




②



③



④



※1. このプリントは、しながわ・目黒こどもスクールのウェブサイトでダウンロードができます。無断複写・引用はご遠慮ください。
 ※2. このプリントを活用したオンライン授業のスケジュールは、しながわ・目黒こどもスクールのウェブサイトでご確認ください。



おうちで、やろう。

Study at home. 小学校受験の家庭学習教材

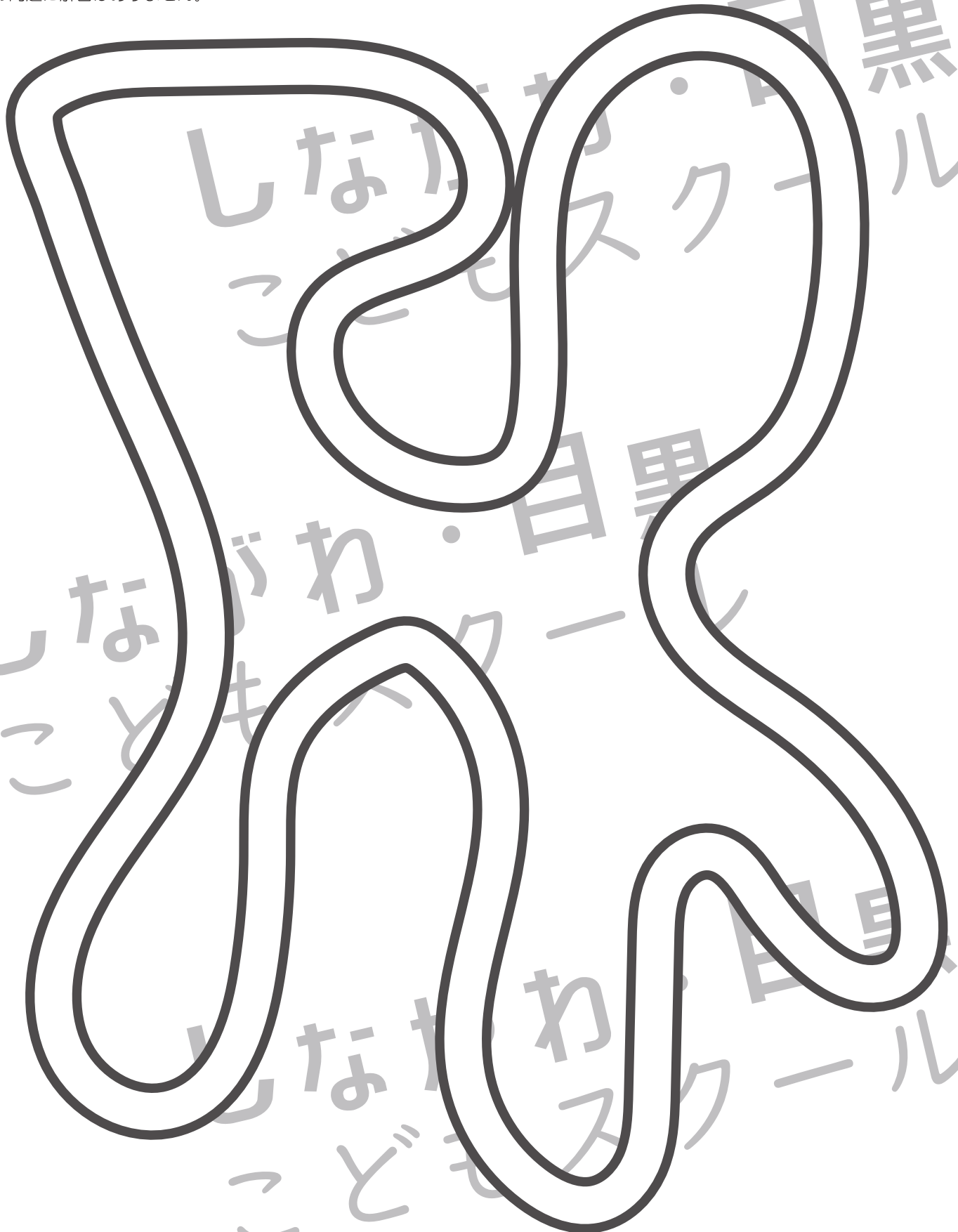
処理：運筆 20

壁にぶつからないように一周線をかきます。素早く綺麗に線をかきましょう。どこからはじめてもよいです。

この問題はスピードを意識して取り組む練習をしてみましょう。(1分～1分30秒)

※クーピー、鉛筆、水性ペンの好きなものを使ってやりましょう。

※この問題に解答はありません。



※1. このプリントは、しながわ・目黒こどもスクールのウェブサイトでダウンロードができます。無断複写・引用はご遠慮ください。

※2. このプリントを活用したオンライン授業のスケジュールは、しながわ・目黒こどもスクールのウェブサイトでご確認ください。