




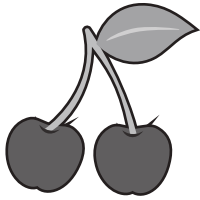



# おうちで、やろう。






Study at home. 小学校受験の家庭学習教材



## 言語：音の理解 40

左の四角の中の絵のはじめの音とおわりの音を考えます。右の四角の中の絵の中で左の絵とはじめの音が同じものには○、おわりの音が同じものには×をつけます。

				
-----------------------------------------------------------------------------------	-----------------------------------------------------------------------------------	-----------------------------------------------------------------------------------	------------------------------------------------------------------------------------	-------------------------------------------------------------------------------------

				
-----------------------------------------------------------------------------------	-----------------------------------------------------------------------------------	-----------------------------------------------------------------------------------	-------------------------------------------------------------------------------------	-------------------------------------------------------------------------------------

				
-------------------------------------------------------------------------------------	-------------------------------------------------------------------------------------	-------------------------------------------------------------------------------------	---------------------------------------------------------------------------------------	---------------------------------------------------------------------------------------

				
-------------------------------------------------------------------------------------	-------------------------------------------------------------------------------------	-------------------------------------------------------------------------------------	--------------------------------------------------------------------------------------	---------------------------------------------------------------------------------------

				
-------------------------------------------------------------------------------------	-------------------------------------------------------------------------------------	-------------------------------------------------------------------------------------	--------------------------------------------------------------------------------------	---------------------------------------------------------------------------------------

※1. このプリントは、しながわ・目黒こどもスクールのウェブサイトからダウンロードできます。無断複写・引用はご遠慮ください。  
 ※2. このプリントを活用したオンライン授業のスケジュールは、しながわ・目黒こどもスクールのウェブサイトでご確認ください。



# おうちで、やろう。

Study at home. 小学校受験の家庭学習教材

## 図形：構成 25

左の形を作る時に使わない形を右の四角の中から 1 つ見つけて○をつけます。

--	--	--	--	--	--

--	--	--	--	--

--	--	--	--	--

--	--	--	--	--

--	--	--	--	--

※1. このプリントは、しながわ・目黒こどもスクールのウェブサイトでダウンロードができます。無断複写・引用はご遠慮ください。  
 ※2. このプリントを活用したオンライン授業のスケジュールは、しながわ・目黒こどもスクールのウェブサイトでご確認ください。

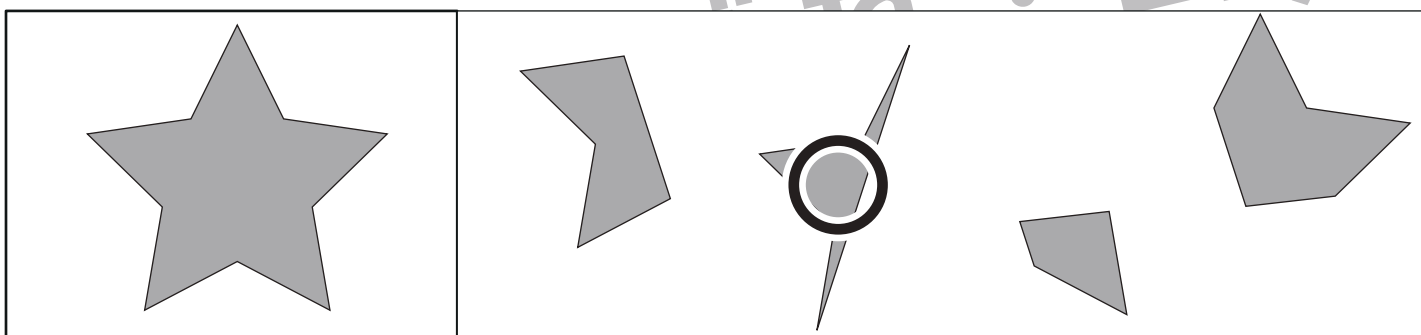
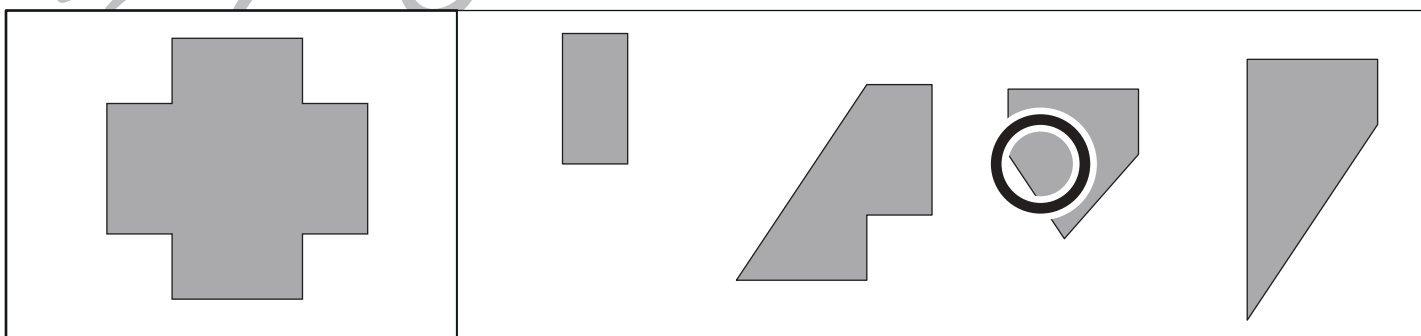
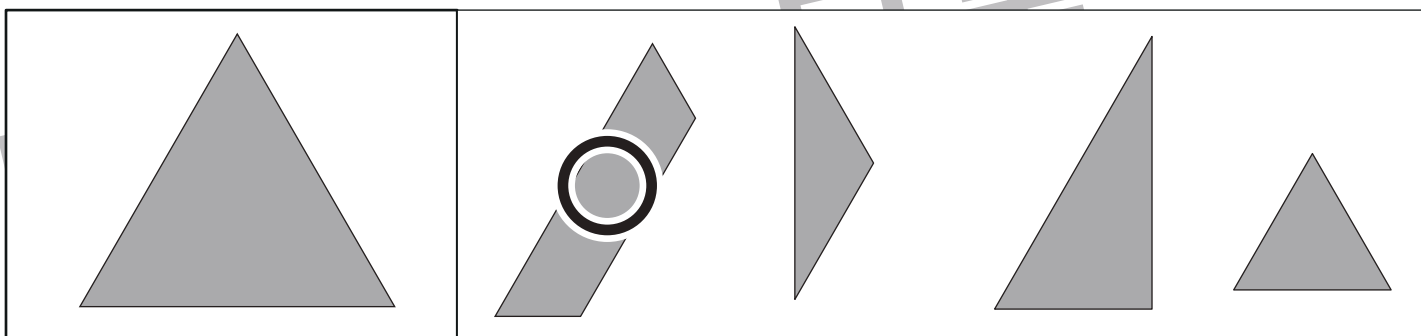
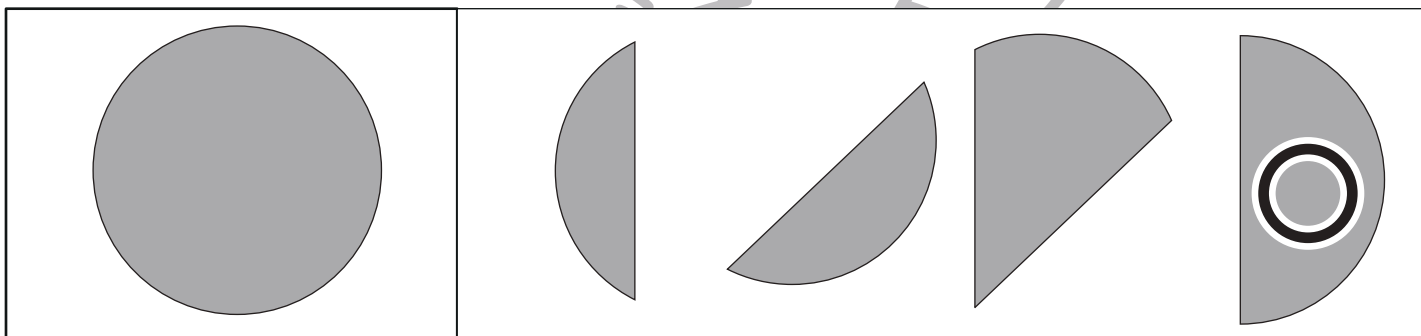
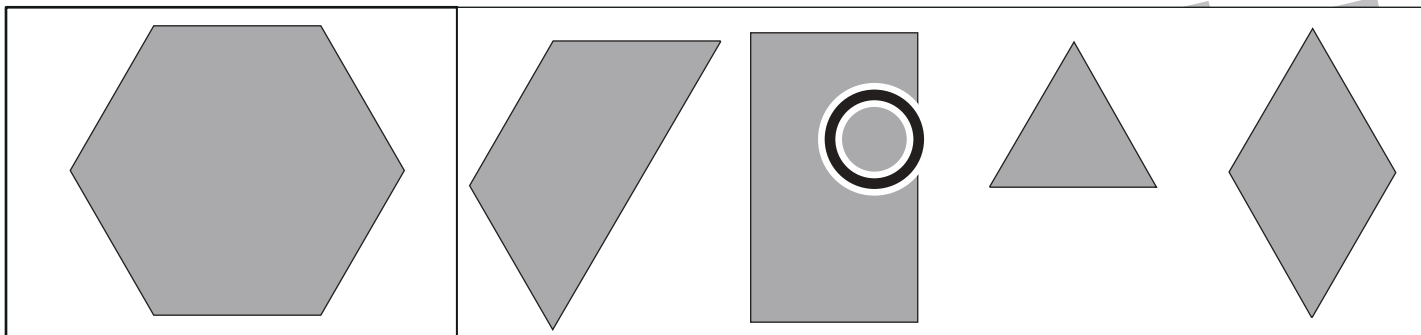


# おうちで、やろう。

Study at home. 小学校受験の家庭学習教材

## 図形：構成 26

左の形を作る時に使わない形を右の四角の中から 1 つ見つけて○をつけます。



※1. このプリントは、しながわ・目黒こどもスクールのウェブサイトでダウンロードができます。無断複写・引用はご遠慮ください。  
 ※2. このプリントを活用したオンライン授業のスケジュールは、しながわ・目黒こどもスクールのウェブサイトでご確認ください。



# おうちで、やろう。

Study at home. 小学校受験の家庭学習教材

図形：反転8

左のお手本を上への矢印の向きに回して裏返した時の見え方を考えて、右の四角にかきます。

※1. このプリントは、しながわ・目黒こどもスクールのウェブサイトからダウンロードできます。無断複写・引用はご遠慮ください。  
 ※2. このプリントを活用したオンライン授業のスケジュールは、しながわ・目黒こどもスクールのウェブサイトでご確認ください。



# おうちで、やろう。

Study at home. 小学校受験の家庭学習教材

図形：反転9

左のお手本を上矢印の向きに回して裏返した時の見え方を考えて、右の四角にかきます。

The image contains a 3x4 grid of diamond-shaped puzzles. Each puzzle consists of a diamond shape with a path of connected dots and arrows indicating a clockwise rotation. The first two columns are identical, showing the original path. The last two columns show the path after a 90-degree counter-clockwise rotation. A vertical line separates the two halves of the grid.

※1. このプリントは、しながわ・目黒こどもスクールのウェブサイトでダウンロードができます。無断複写・引用はご遠慮ください。  
 ※2. このプリントを活用したオンライン授業のスケジュールは、しながわ・目黒こどもスクールのウェブサイトでご確認ください。



# おうちで、やろう。

Study at home. 小学校受験の家庭学習教材

数量：同数 16

左の四角がお手本です。

右の4つの四角のうち、お手本の灰色の丸と同じ数の星がある四角に○をつけます。


※1. このプリントは、しながわ・目黒こどもスクールのウェブサイトからダウンロードできます。無断複写・引用はご遠慮ください。

※2. このプリントを活用したオンライン授業のスケジュールは、しながわ・目黒こどもスクールのウェブサイトでご確認ください。



# おうちで、やろう。

Study at home. 小学校受験の家庭学習教材

数量：同数 17

左の四角がお手本です。

右の4つの四角のうち、お手本の灰色の丸と黒色の丸を合わせた数の星がある四角に○をつけます。


※1. このプリントは、しながわ・目黒こどもスクールのウェブサイトでダウンロードができます。無断複写・引用はご遠慮ください。

※2. このプリントを活用したオンライン授業のスケジュールは、しながわ・目黒こどもスクールのウェブサイトでご確認ください。




# おうちで、やろう。





Study at home. 小学校受験の家庭学習教材

数量：複合 13

絵をよく見て質問に答えましょう。

- ①アヒルは全部で何羽いますか。その数だけ①の四角に○をかきます。
- ②ニワトリは全部で何羽いますか。その数だけ②の四角に○をかきます。
- ③今草の上を歩いていたアヒルが2羽湖の中に入って泳ぎだしました。湖の中にあるアヒルは全部で何羽になりましたか。その数だけ③の四角に○をかきます。
- ④次の日になったら鶏が8羽になっていました。何羽のヒヨコがニワトリに成長しましたか。その数だけ④の四角に○をかきます。



①		<input type="radio"/>	<input type="radio"/>	<input type="radio"/>	<input type="radio"/>	<input type="radio"/>	<input type="radio"/>	<input type="radio"/>	<input type="radio"/>
②		<input type="radio"/>	<input type="radio"/>	<input type="radio"/>	<input type="radio"/>	<input type="radio"/>	<input type="radio"/>	<input type="radio"/>	<input type="radio"/>
③		<input type="radio"/>	<input type="radio"/>	<input type="radio"/>	<input type="radio"/>	<input type="radio"/>	<input type="radio"/>	<input type="radio"/>	<input type="radio"/>
④		<input type="radio"/>	<input type="radio"/>	<input type="radio"/>	<input type="radio"/>	<input type="radio"/>	<input type="radio"/>	<input type="radio"/>	<input type="radio"/>

※1. このプリントは、しながわ・目黒こどもスクールのウェブサイトでダウンロードができます。無断複写・引用はご遠慮ください。  
 ※2. このプリントを活用したオンライン授業のスケジュールは、しながわ・目黒こどもスクールのウェブサイトでご確認ください。






# おうちで、やろう。

Study at home. 小学校受験の家庭学習教材

数量：複合 14

絵をよく見て質問に答えましょう。

- ①アイスはいくつありますか。その数だけ①の四角に○をかきます。
- ②ケーキはアイスよりいくつ多いですか。その数だけ②の四角に○をかきます。
- ③せんべいはケーキよりいくつ多いですか。その数だけ③の四角に○をかきます。
- ④せんべいを4人のお友だちで分けました。1人何枚ずつもらえますか。その数だけ④の四角に○をかきます。



①		<input type="radio"/>	<input type="radio"/>	<input type="radio"/>	<input type="radio"/>	<input type="radio"/>	<input type="radio"/>
②		<input type="radio"/>	<input type="radio"/>				
③		<input type="radio"/>	<input type="radio"/>	<input type="radio"/>	<input type="radio"/>	<input type="radio"/>	<input type="radio"/>
④		<input type="radio"/>	<input type="radio"/>	<input type="radio"/>			

※1. このプリントは、しながわ・目黒こどもスクールのウェブサイトでダウンロードができます。無断複写・引用はご遠慮ください。  
 ※2. このプリントを活用したオンライン授業のスケジュールは、しながわ・目黒こどもスクールのウェブサイトでご確認ください。