



# おうちで、やろう。

Study at home. 小学校受験の家庭学習教材

## 指示の聞き取り 30

それぞれの設問に答えましょう。指示は1度ですべて読み上げます。しっかり聞いて取り組みましょう。

①鉛筆で右から左へ向かって×→○→△の順番で3回かきます。枠の中に入るように大きさにも注意しましょう。

②鉛筆で右から左へ向かって○→○→×の順番で3回かきます。枠の中に入るように大きさにも注意しましょう。

③鉛筆で右から左へ向かって×→□→○の順番で3回かきます。枠の中に入るように大きさにも注意しましょう。

①

②

③



# おうちで、やろう。

Study at home. 小学校受験の家庭学習教材

処理：計数 25

上の四角の中の絵の数をかぞえて、下の四角の同じ絵の右にその数だけ〇をかきます。  
この問題はスピードを意識して取り組む練習をしてみましょう。(1分～1分30秒)



※1. このプリントは、しながわ・目黒こどもスクールのウェブサイトでダウンロードができます。無断複写・引用はご遠慮ください。  
※2. このプリントを活用したオンライン授業のスケジュールは、しながわ・目黒こどもスクールのウェブサイトでご確認ください。



# おうちで、やろう。

Study at home. 小学校受験の家庭学習教材

## 常識：影1

お友だちが外で立っています。太陽がそれぞれの場所にあるときの影の様子で正しいものには○、間違えているものには×をつけます。



※1. このプリントは、しながわ・目黒こどもスクールのウェブサイトでダウンロードができます。無断複写・引用はご遠慮ください。  
 ※2. このプリントを活用したオンライン授業のスケジュールは、しながわ・目黒こどもスクールのウェブサイトでご確認ください。



# おうちで、やろう。

Study at home. 小学校受験の家庭学習教材

## 常識：影2

お友だちが外で立っています。太陽がそれぞれの場所にあるときの影の様子で正しいものには○、間違えているものには×をつけます。



※1. このプリントは、しながわ・目黒こどもスクールのウェブサイトからダウンロードできます。無断複写・引用はご遠慮ください。

※2. このプリントを活用したオンライン授業のスケジュールは、しながわ・目黒こどもスクールのウェブサイトでご確認ください。



# おうちで、よろう。

Study at home. 小学校受験の家庭学習教材

## 図形：回転鏡 4

左の四角のマスで矢印の方向へ 1 回倒した時の見え方を矢印の右のマスにかきます。その後、その四角を鏡で映したときの見え方を考えて一番右のマスにかきます。

<table border="1"> <tr><td>○</td><td></td></tr> <tr><td>○</td><td>●</td></tr> </table>	○		○	●	→	<table border="1"> <tr><td></td><td></td></tr> <tr><td></td><td></td></tr> </table>						<table border="1"> <tr><td></td><td></td></tr> <tr><td></td><td></td></tr> </table>				
○																
○	●															

<table border="1"> <tr><td>○</td><td>●</td></tr> <tr><td>●</td><td></td></tr> </table>	○	●	●		→	<table border="1"> <tr><td></td><td></td></tr> <tr><td></td><td></td></tr> </table>						<table border="1"> <tr><td></td><td></td></tr> <tr><td></td><td></td></tr> </table>				
○	●															
●																

<table border="1"> <tr><td>●</td><td></td></tr> <tr><td>○</td><td>○</td></tr> </table>	●		○	○	→	<table border="1"> <tr><td></td><td></td></tr> <tr><td></td><td></td></tr> </table>						<table border="1"> <tr><td></td><td></td></tr> <tr><td></td><td></td></tr> </table>				
●																
○	○															

<table border="1"> <tr><td>●</td><td>●</td></tr> <tr><td></td><td>○</td></tr> </table>	●	●		○	→	<table border="1"> <tr><td></td><td></td></tr> <tr><td></td><td></td></tr> </table>						<table border="1"> <tr><td></td><td></td></tr> <tr><td></td><td></td></tr> </table>				
●	●															
	○															

<table border="1"> <tr><td>○</td><td>●</td></tr> <tr><td>○</td><td>○</td></tr> </table>	○	●	○	○	→	<table border="1"> <tr><td></td><td></td></tr> <tr><td></td><td></td></tr> </table>						<table border="1"> <tr><td></td><td></td></tr> <tr><td></td><td></td></tr> </table>				
○	●															
○	○															

※ 1. このプリントは、しながわ・目黒こどもスクールのウェブサイトからダウンロードできます。無断複写・引用はご遠慮ください。

※ 2. このプリントを活用したオンライン授業のスケジュールは、しながわ・目黒こどもスクールのウェブサイトでご確認ください。



# おうちで、やろう。

Study at home. 小学校受験の家庭学習教材

## 図形：回転鏡 5

左の四角のマスに矢印の方向へ 1 回倒した時の見え方を矢印の右のマスにかきます。その後、その四角を鏡で映したときの見え方を考えて一番右のマスにかきます。

<table border="1"> <tr><td>▽</td><td></td></tr> <tr><td></td><td>○</td></tr> </table>	▽			○	→	<table border="1"> <tr><td></td><td></td></tr> <tr><td></td><td></td></tr> </table>						<table border="1"> <tr><td></td><td></td></tr> <tr><td></td><td></td></tr> </table>				
▽																
	○															

<table border="1"> <tr><td>○</td><td></td></tr> <tr><td>△</td><td>○</td></tr> </table>	○		△	○	→	<table border="1"> <tr><td></td><td></td></tr> <tr><td></td><td></td></tr> </table>						<table border="1"> <tr><td></td><td></td></tr> <tr><td></td><td></td></tr> </table>				
○																
△	○															

<table border="1"> <tr><td></td><td>○</td></tr> <tr><td>○</td><td>△</td></tr> </table>		○	○	△	→	<table border="1"> <tr><td></td><td></td></tr> <tr><td></td><td></td></tr> </table>						<table border="1"> <tr><td></td><td></td></tr> <tr><td></td><td></td></tr> </table>				
	○															
○	△															

<table border="1"> <tr><td>△</td><td>○</td></tr> <tr><td>△</td><td>○</td></tr> </table>	△	○	△	○	→	<table border="1"> <tr><td></td><td></td></tr> <tr><td></td><td></td></tr> </table>						<table border="1"> <tr><td></td><td></td></tr> <tr><td></td><td></td></tr> </table>				
△	○															
△	○															

<table border="1"> <tr><td>○</td><td>△</td></tr> <tr><td>△</td><td>○</td></tr> </table>	○	△	△	○	→	<table border="1"> <tr><td></td><td></td></tr> <tr><td></td><td></td></tr> </table>						<table border="1"> <tr><td></td><td></td></tr> <tr><td></td><td></td></tr> </table>				
○	△															
△	○															

※1. このプリントは、しながわ・目黒こどもスクールのウェブサイトからダウンロードができます。無断複写・引用はご遠慮ください。

※2. このプリントを活用したオンライン授業のスケジュールは、しながわ・目黒こどもスクールのウェブサイトでご確認ください。



# おうちで、やろう。

Study at home. 小学校受験の家庭学習教材

## 図形：回転鏡 6

左の四角のマスに矢印の方向へ 1 回倒した時の見え方を矢印の右のマスにかきます。その後、その四角を鏡で映したときの見え方を考えて一番右のマスにかきます。

--	--	--	--

--	--	--	--

--	--	--	--

--	--	--	--

--	--	--	--

※1. このプリントは、しながわ・目黒こどもスクールのウェブサイトでダウンロードができます。無断複写・引用はご遠慮ください。

※2. このプリントを活用したオンライン授業のスケジュールは、しながわ・目黒こどもスクールのウェブサイトでご確認ください。



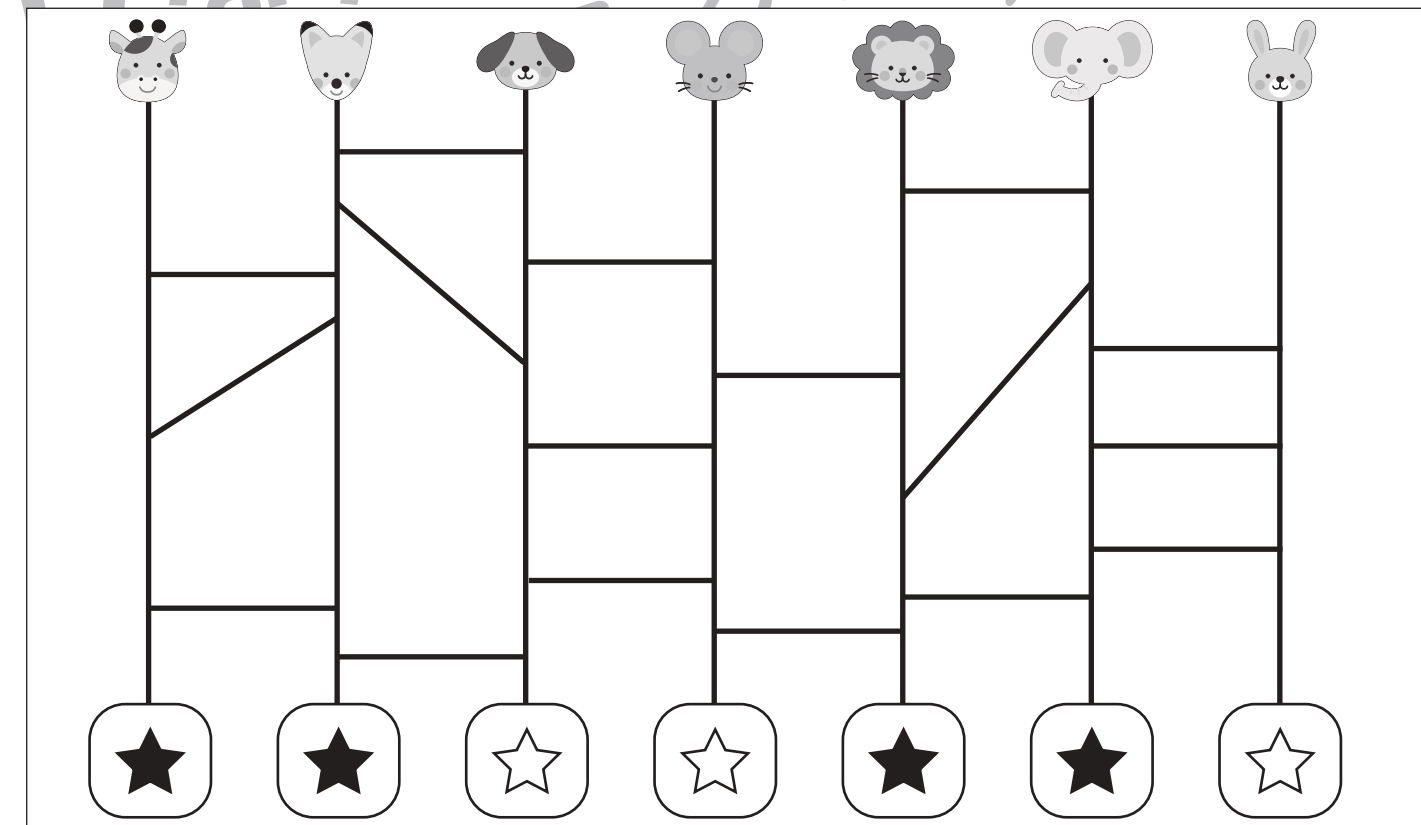
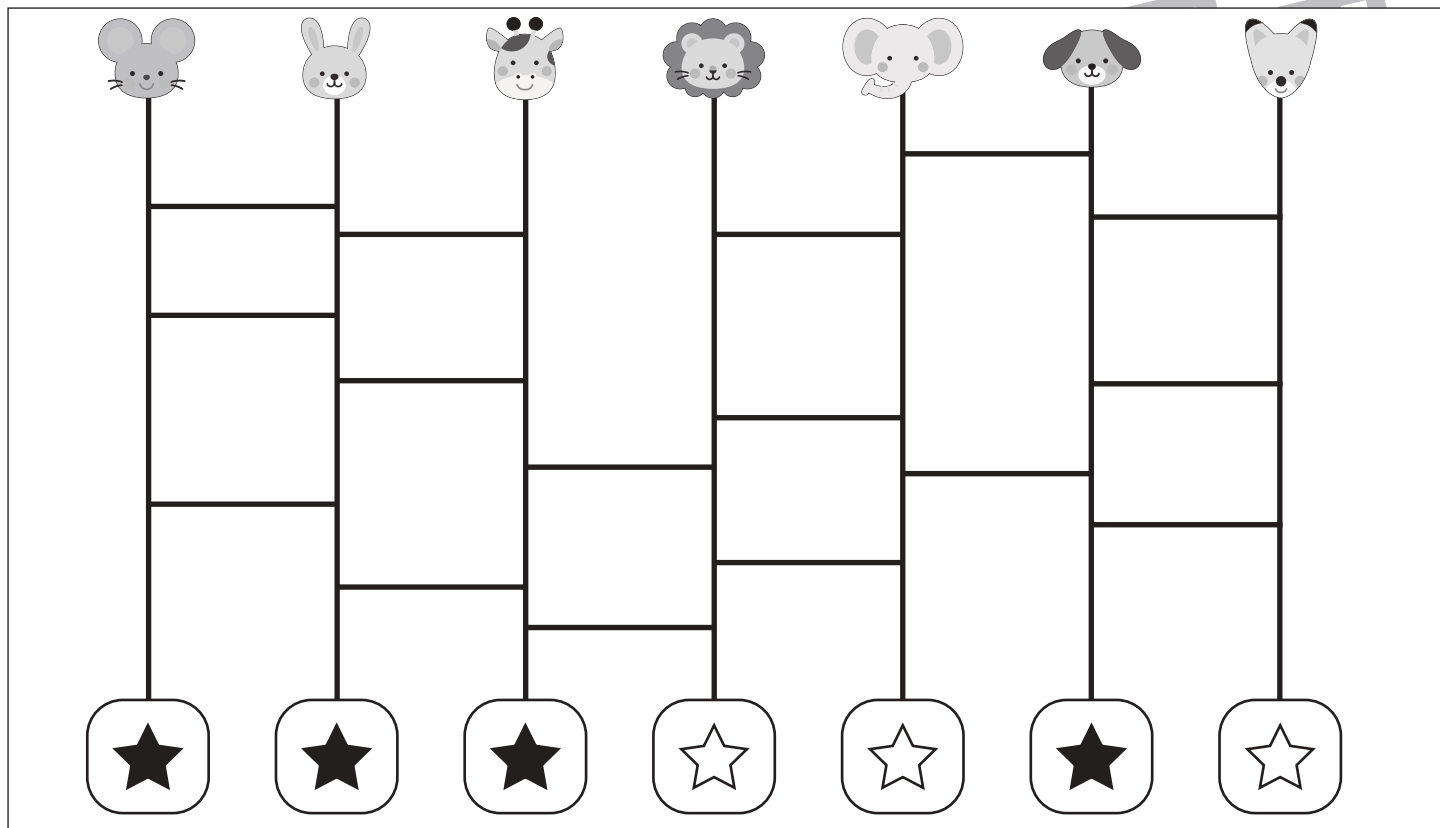
# おうちで、やろう。

Study at home. 小学校受験の家庭学習教材

## 推理：あみだくじ 10

上の動物たちがあみだくじを進んでいくと下のどこかにつきます。白い星についた動物には○、黒い星についた動物には×をつけます。

※あみだくじのルール：①上から下へ進みます。道は戻ってはいけません。②途中で曲がり角があったら必ず曲がります。



※1. このプリントは、しながわ・目黒こどもスクールのウェブサイトでダウンロードができます。無断複写・引用はご遠慮ください。

※2. このプリントを活用したオンライン授業のスケジュールは、しながわ・目黒こどもスクールのウェブサイトでご確認ください。





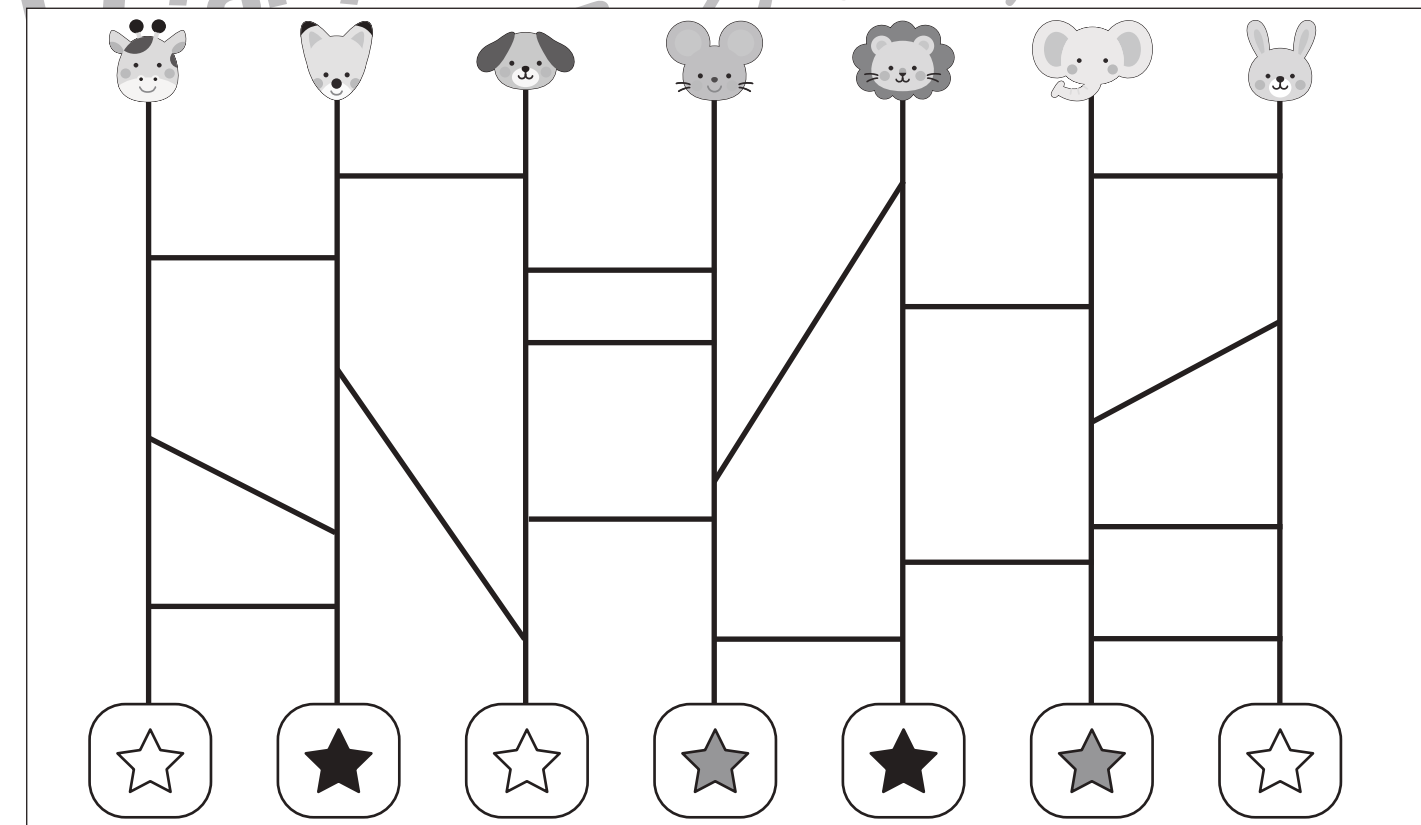
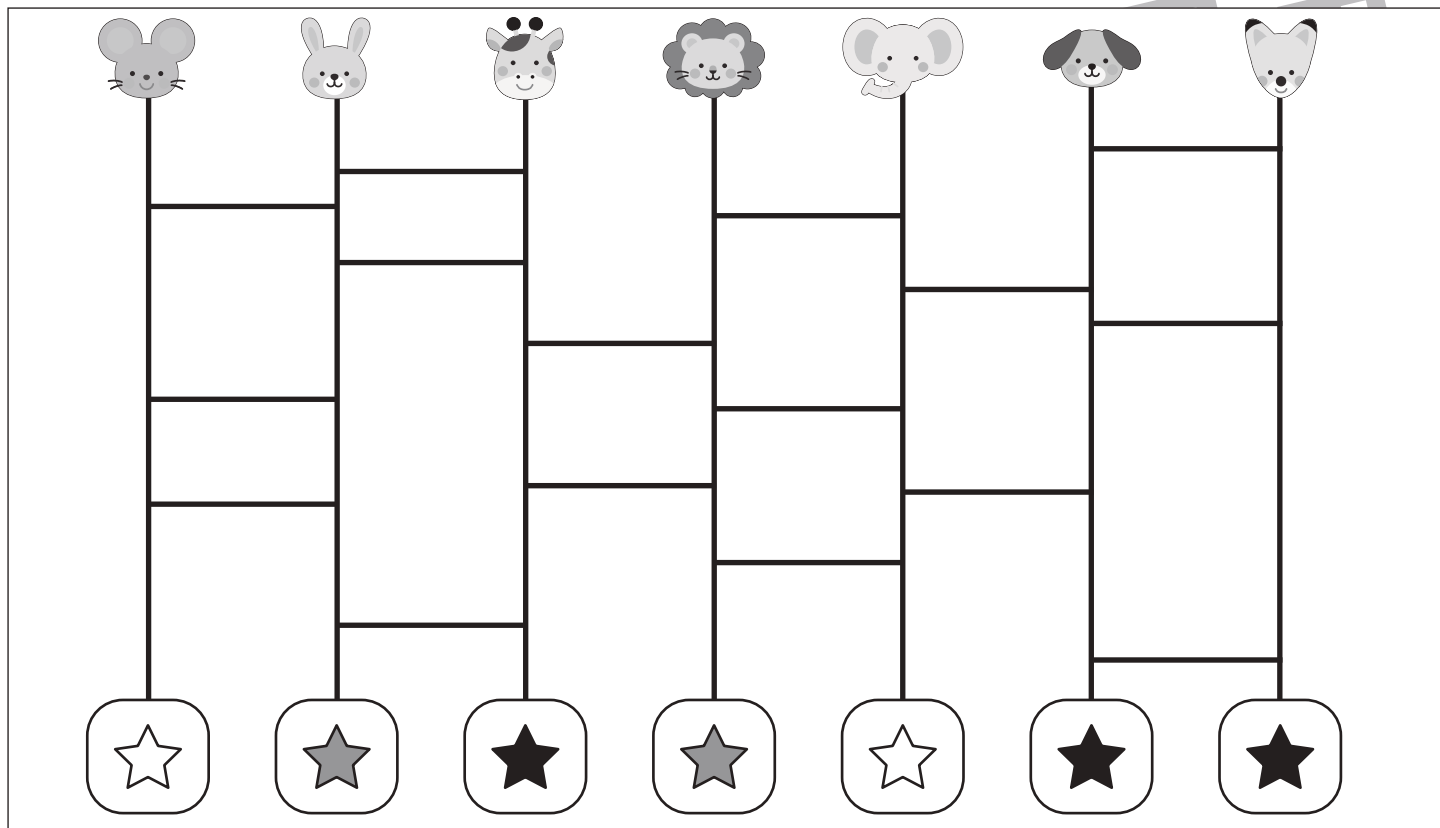
# おうちで、やろう。

Study at home. 小学校受験の家庭学習教材

## 推理：あみだくじ 11

上の動物たちがあみだくじを進んでいくと下のどこかにつきます。白い星についた動物には○、黒い星についた動物には×をつけ、灰色の星についた動物には何もつけません。

※あみだくじのルール：①上から下へ進みます。道は戻ってはいけません。②途中で曲がり角があったら必ず曲がります。



※1. このプリントは、しながわ・目黒こどもスクールのウェブサイトでダウンロードができます。無断複写・引用はご遠慮ください。

※2. このプリントを活用したオンライン授業のスケジュールは、しながわ・目黒こどもスクールのウェブサイトでご確認ください。






# おうちで、やろう。

Study at home. 小学校受験の家庭学習教材

運筆：模写 27

左のお手本と同じ顔を右の四角に描きます。大きさや形に気を付けて描きましょう  
※クーピー、鉛筆、水性ペンなどいろいろな筆記具で描いてみましょう。  
※この問題に解答はありません。



※1. このプリントは、しながわ・目黒こどもスクールのウェブサイトでダウンロードができます。無断複写・引用はご遠慮ください。  
※2. このプリントを活用したオンライン授業のスケジュールは、しながわ・目黒こどもスクールのウェブサイトでご確認ください。