


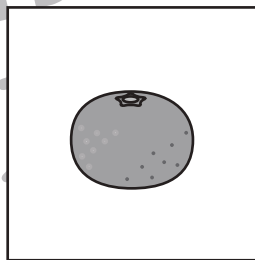




# おうちで、やろう。

Study at home. 小学校受験の家庭学習教材

言語：数え方 12

上の絵と数え方の違う絵に○をつけます。



※1. このプリントは、しながわ・目黒こどもスクールのウェブサイトでダウンロードができます。無断複写・引用はご遠慮ください。  
※2. このプリントを活用したオンライン授業のスケジュールは、しながわ・目黒こどもスクールのウェブサイトでご確認ください。

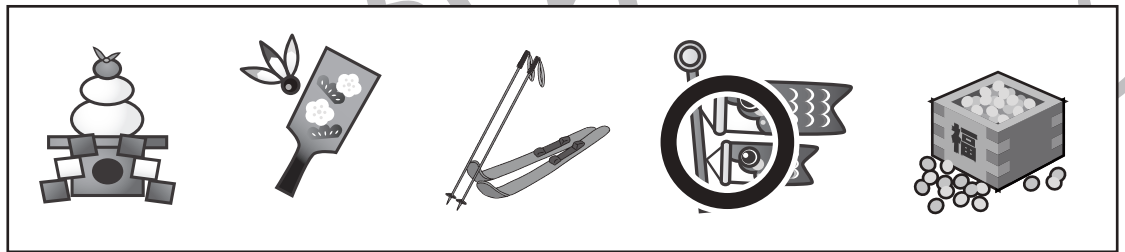
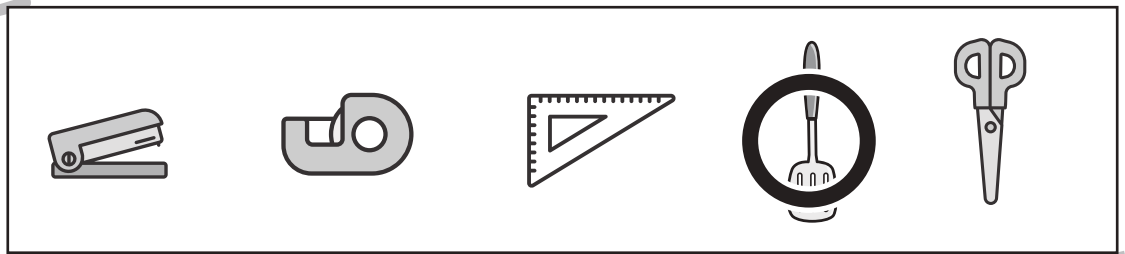








# おうちで、やろう。

Study at home. 小学校受験の家庭学習教材

## 常識：仲間外れ7

四角の絵の中で仲間ではない絵に○をつけましょう。



※1. このプリントは、しながわ・目黒こどもスクールのウェブサイトでダウンロードができます。無断複写・引用はご遠慮ください。  
※2. このプリントを活用したオンライン授業のスケジュールは、しながわ・目黒こどもスクールのウェブサイトでご確認ください。

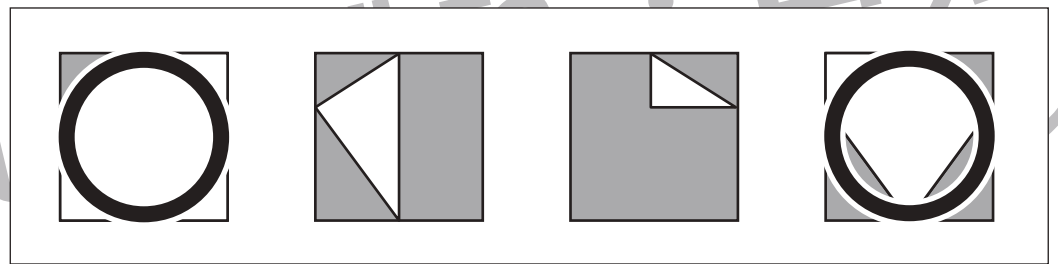
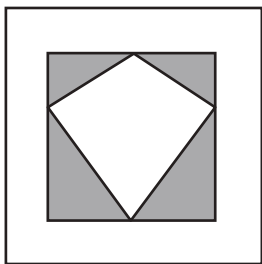
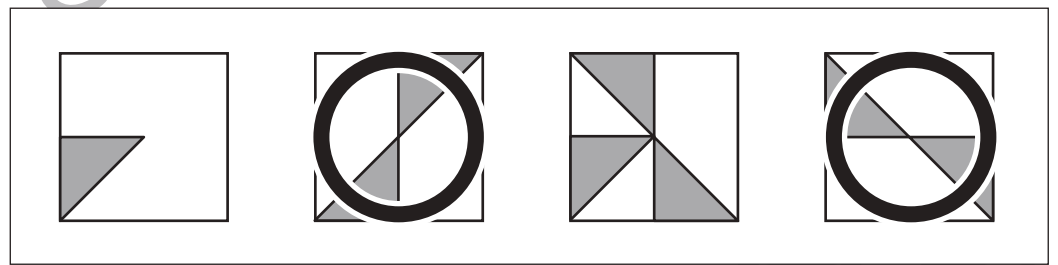
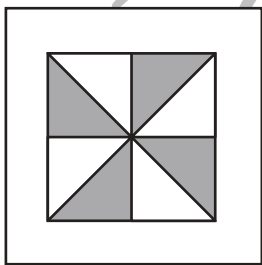
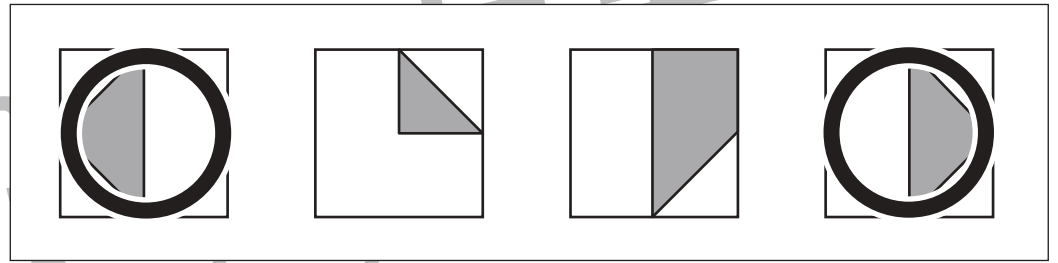
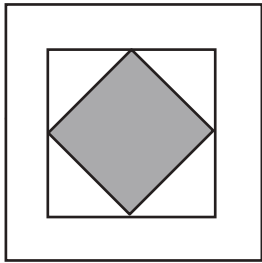
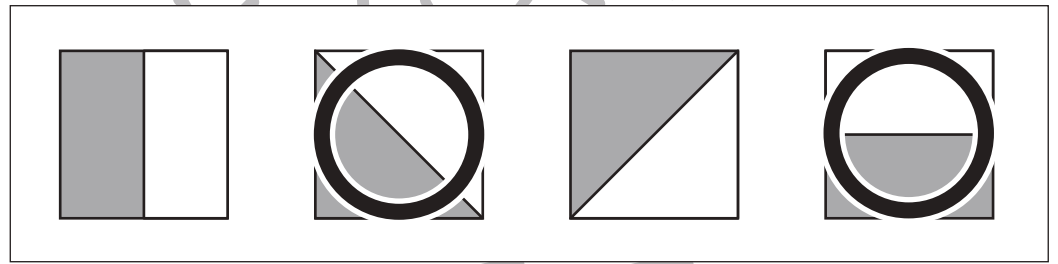
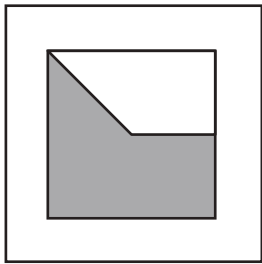
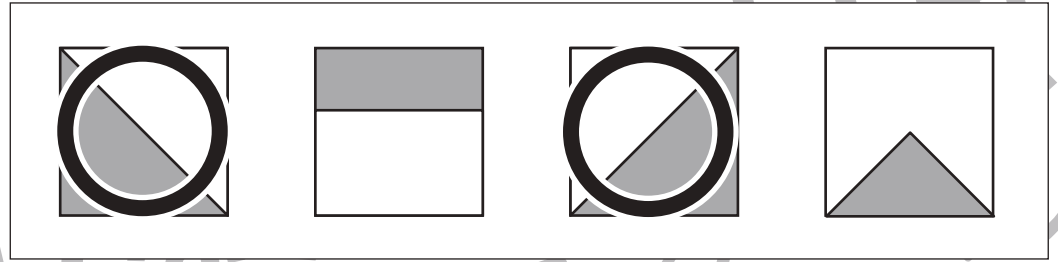



# おうちで、やろう。

Study at home. 小学校受験の家庭学習教材

## 図形：重ね 48

左の四角は 2 枚の透明な板でできています。右のどの透明な板 2 枚を重ねると左の四角と同じ形になりますか。2 枚見つけて○をつけます。重ねるときは向きを変えずにそのまま重ねます。



※1. このプリントは、しながわ・目黒こどもスクールのウェブサイトでダウンロードができます。無断複写・引用はご遠慮ください。  
※2. このプリントを活用したオンライン授業のスケジュールは、しながわ・目黒こどもスクールのウェブサイトでご確認ください。

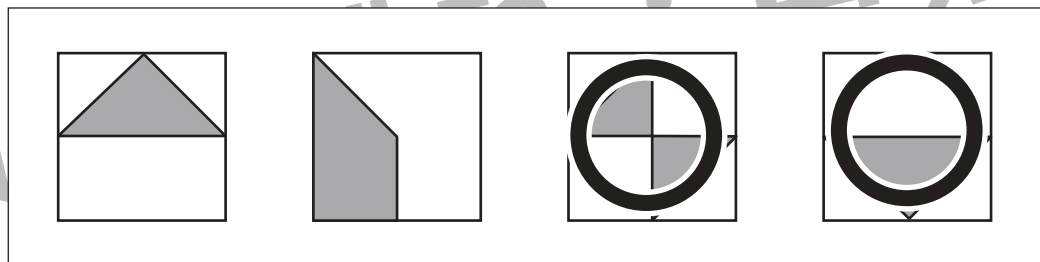
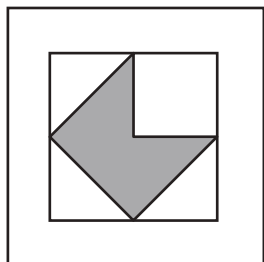
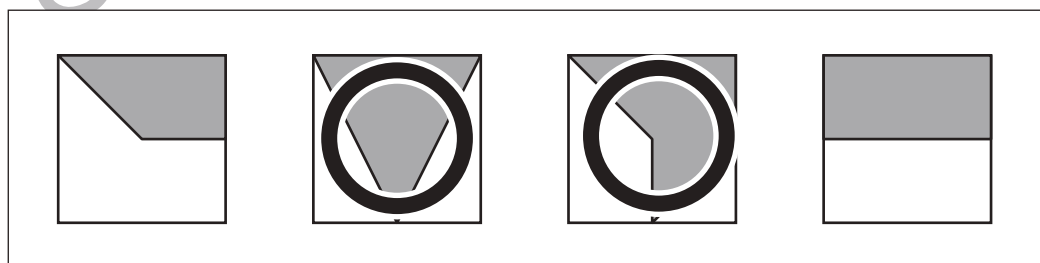
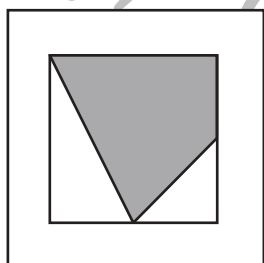
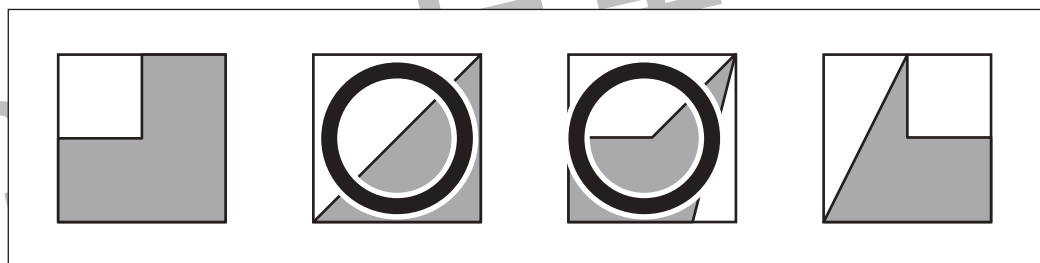
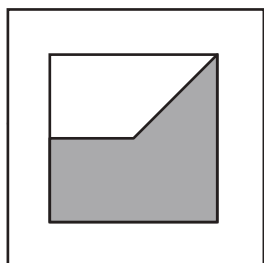
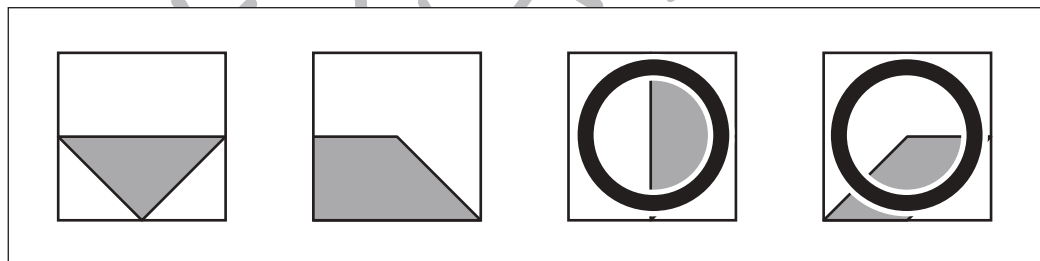
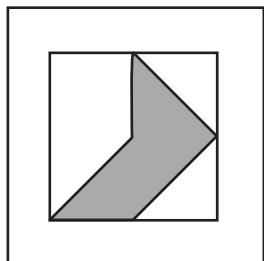
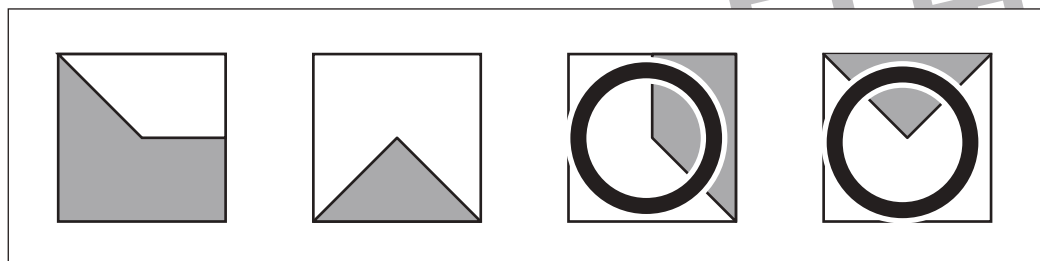
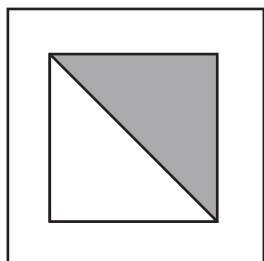


# おうちで、やろう。

Study at home. 小学校受験の家庭学習教材

## 図形：重ね 49

左の四角は 2 枚の透明な板でできています。右のどの透明な板 2 枚を重ねると左の四角と同じ形になりますか。2 枚見つけて○をつけます。重ねるときは向きを変えずにそのまま重ねます。



※1. このプリントは、しながわ・目黒こどもスクールのウェブサイトでダウンロードができます。無断複写・引用はご遠慮ください。  
※2. このプリントを活用したオンライン授業のスケジュールは、しながわ・目黒こどもスクールのウェブサイトでご確認ください。



# おうちで、やろう。

Study at home. 小学校受験の家庭学習教材

## 図形：同図形 19

左の四角の図形と同じ形の図形に○をつけます。

※1. このプリントは、しながわ・目黒こどもスクールのウェブサイトでダウンロードができます。無断複写・引用はご遠慮ください。  
 ※2. このプリントを活用したオンライン授業のスケジュールは、しながわ・目黒こどもスクールのウェブサイトでご確認ください。

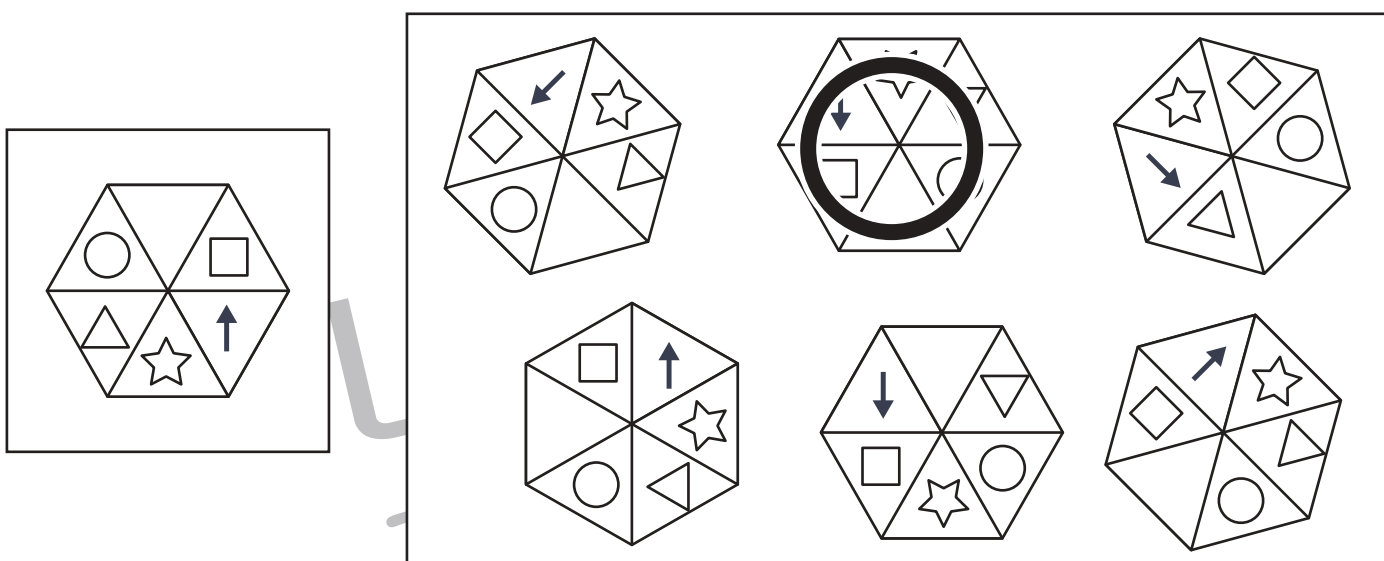
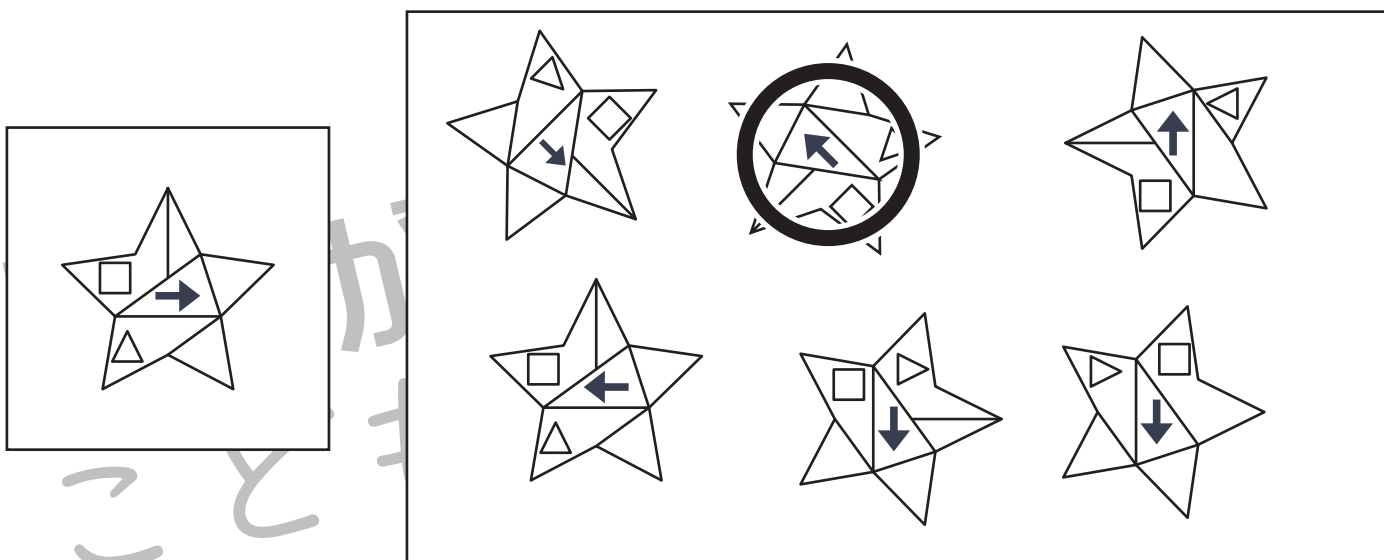
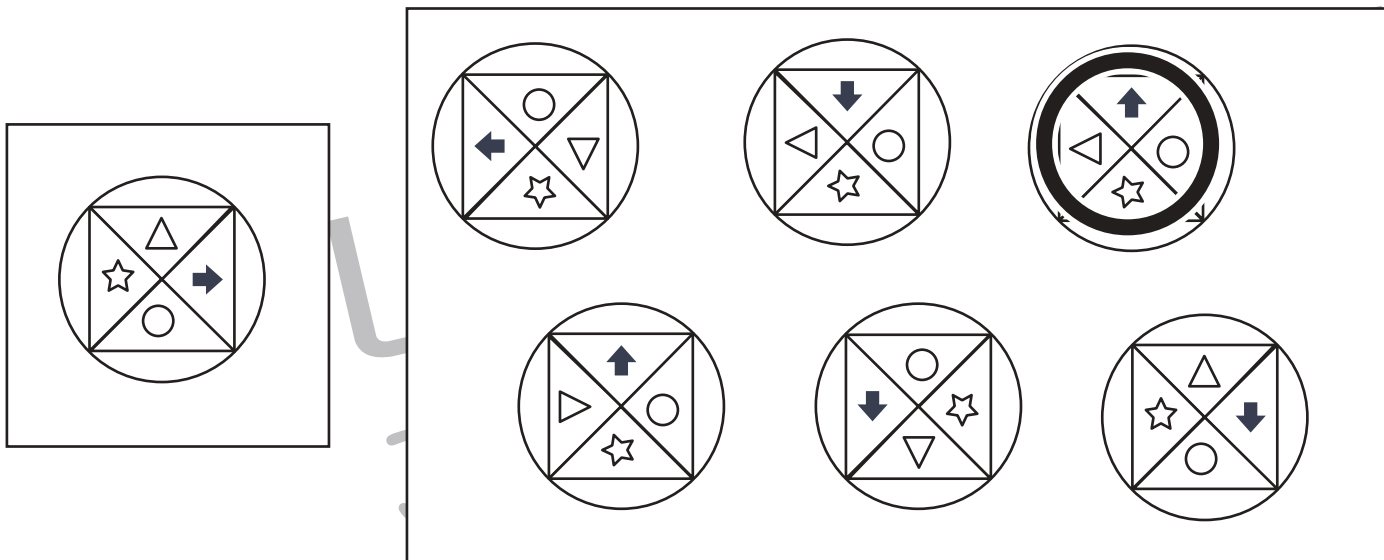


# おうちで、やろう。

Study at home. 小学校受験の家庭学習教材

## 図形：同図形 20

左の四角の図形と同じ形の図形に○をつけます。



※1. このプリントは、しながわ・目黒こどもスクールのウェブサイトからダウンロードできます。無断複写・引用はご遠慮ください。  
 ※2. このプリントを活用したオンライン授業のスケジュールは、しながわ・目黒こどもスクールのウェブサイトでご確認ください。


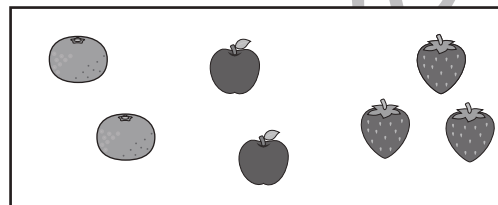






# おうちで、やろう。


Study at home. 小学校受験の家庭学習教材

数量：余る数 11


3匹の動物に下の四角の中の果物の数だけ配ります。その動物たちにすべて配った後に余った果物の数はいくつですか。その数だけ鉛筆で○を描きます。




	○ × 1
	○ × 0
	○ × 3



	○ × 2
	○ × 1
	○ × 2



	○ × 4
	○ × 3
	○ × 4



	○ × 6
	○ × 5
	○ × 3

※1. このプリントは、しながわ・目黒こどもスクールのウェブサイトでダウンロードができます。無断複写・引用はご遠慮ください。  
※2. このプリントを活用したオンライン授業のスケジュールは、しながわ・目黒こどもスクールのウェブサイトでご確認ください。

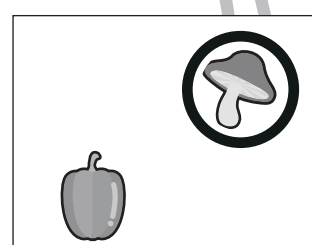

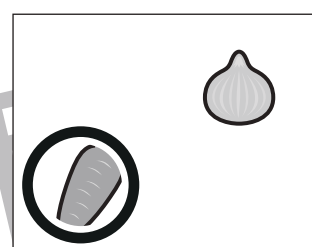
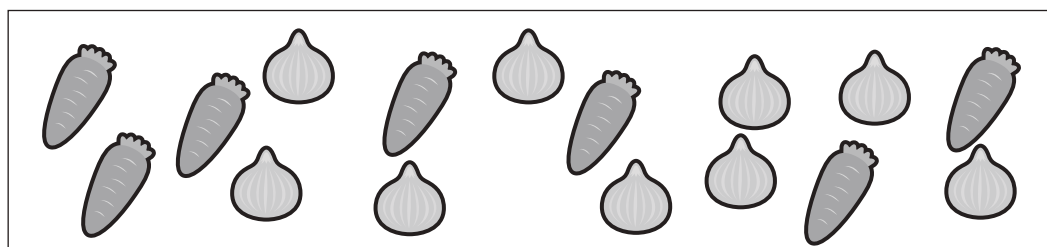

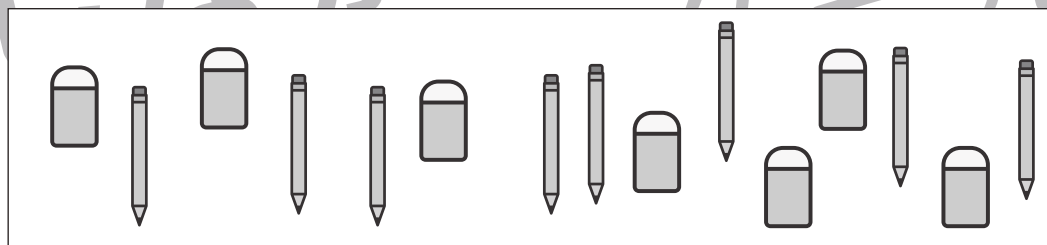
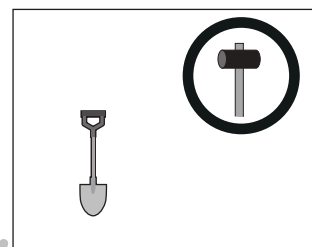
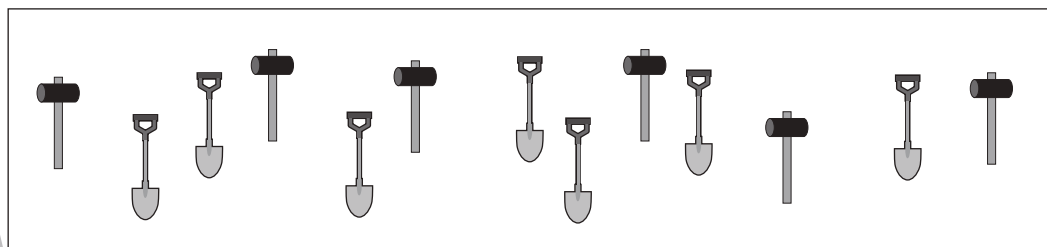


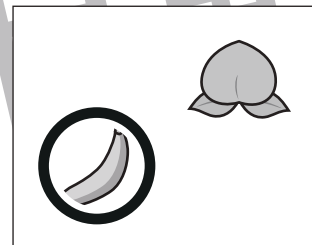
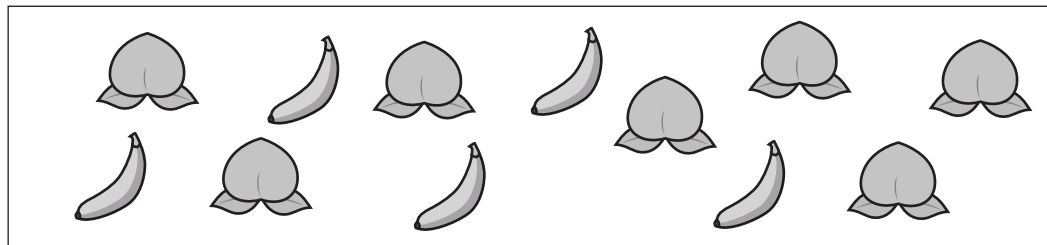


# おうちで、やろう。

Study at home. 小学校受験の家庭学習教材

数量：多少 16

左の四角の中には2種類のものがあります。どちらの数が少ないかを考えて、右の四角の少ないものに○をつけます。



※1. このプリントは、しながわ・目黒こどもスクールのウェブサイトでダウンロードができます。無断複写・引用はご遠慮ください。  
※2. このプリントを活用したオンライン授業のスケジュールは、しながわ・目黒こどもスクールのウェブサイトでご確認ください。












# おうちで、やろう。

Study at home. 小学校受験の家庭学習教材

数量：多少 17

左の四角の中には動物がいます。どの動物が少ないかを考えて、右の四角の一番少ない動物に○をつけます。



※1. このプリントは、しながわ・目黒こどもスクールのウェブサイトでダウンロードができます。無断複写・引用はご遠慮ください。  
※2. このプリントを活用したオンライン授業のスケジュールは、しながわ・目黒こどもスクールのウェブサイトでご確認ください。