

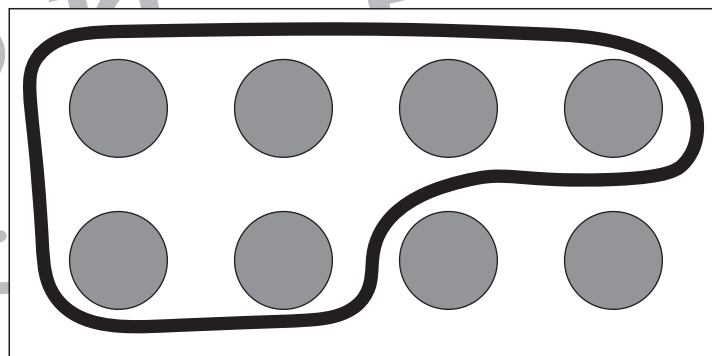
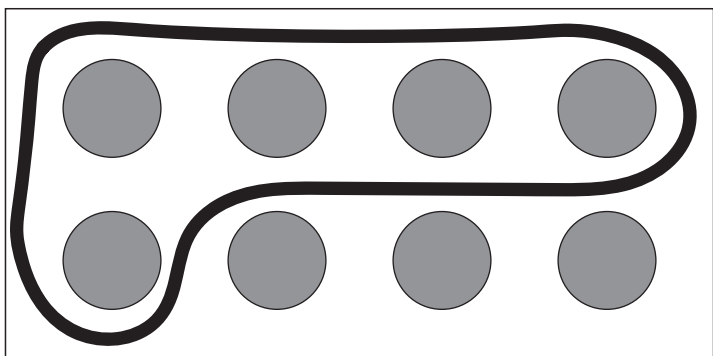

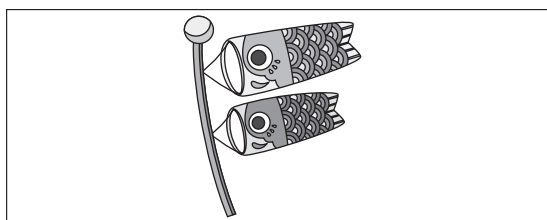
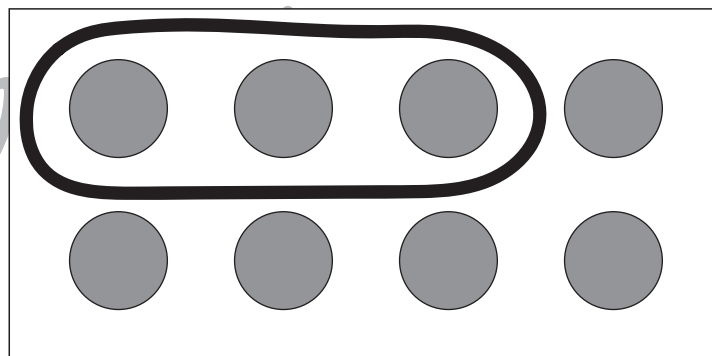
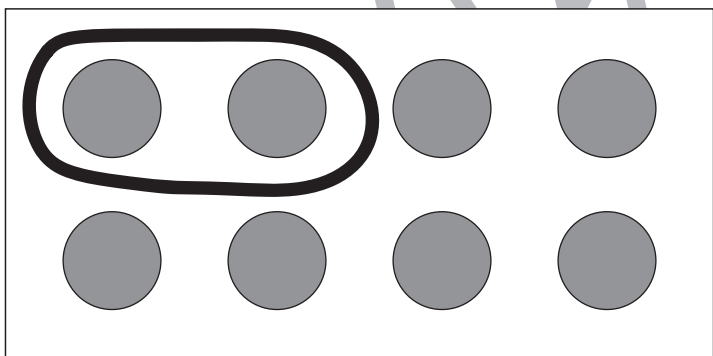


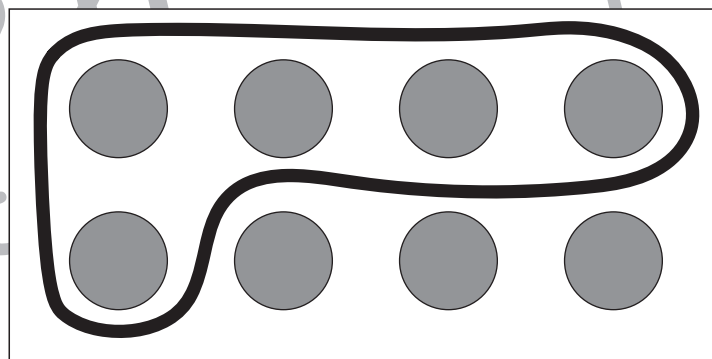
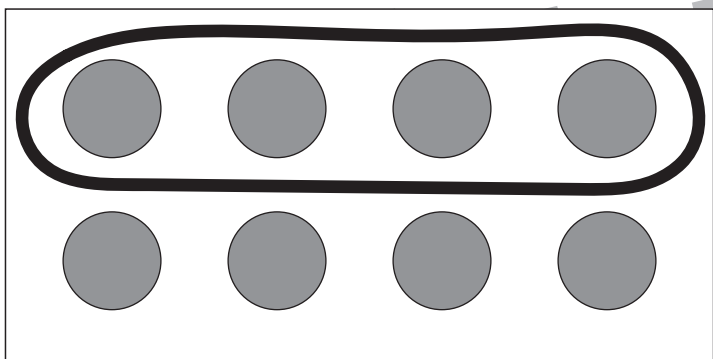
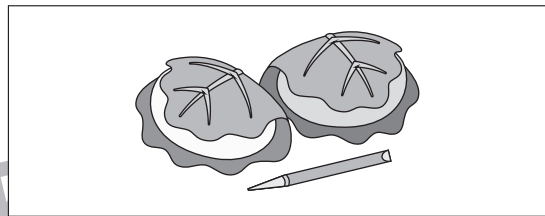



おうちで、やろう。 年中児版

Study at home. 小学校受験の家庭学習教材

言語：音の数 22

四角の中にある絵の音の数を数えて、その数だけ丸を囲みましょう。



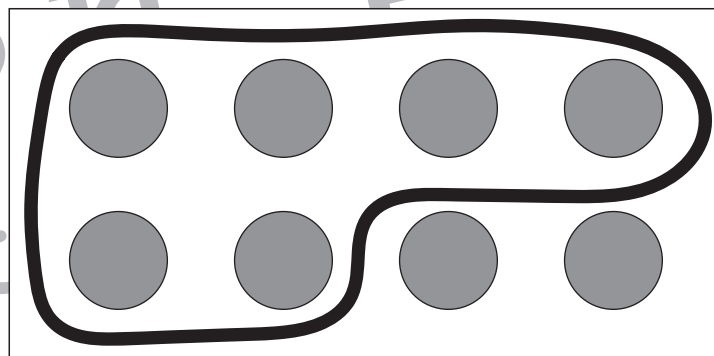
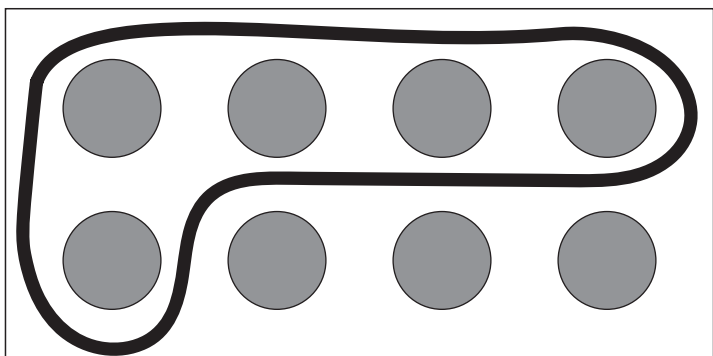
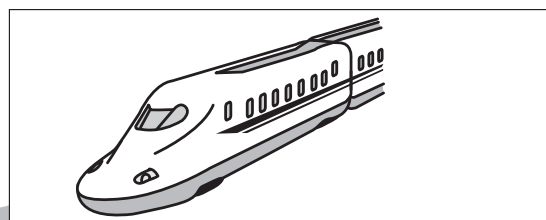

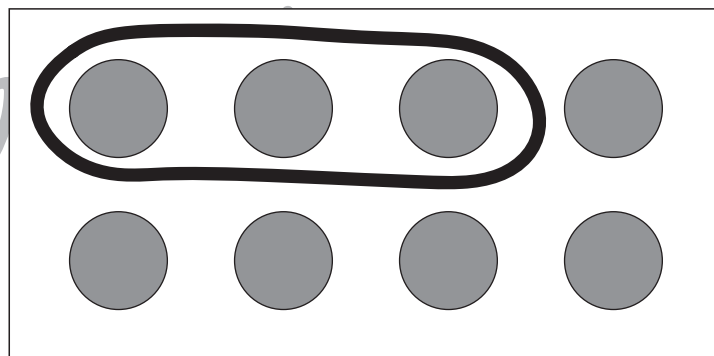
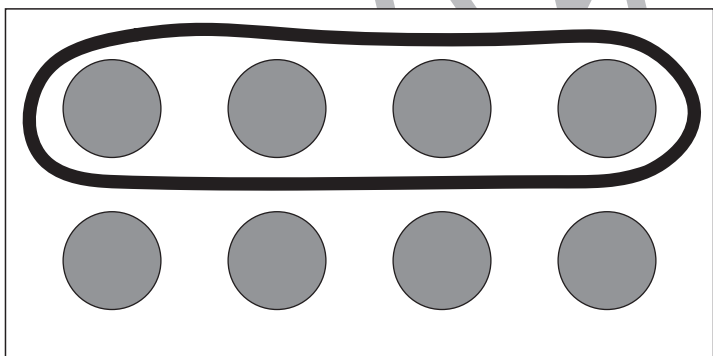
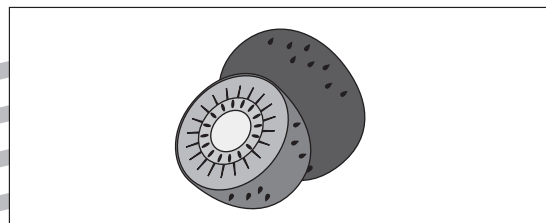
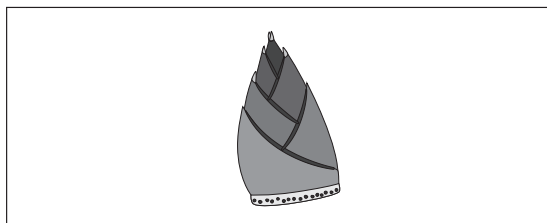
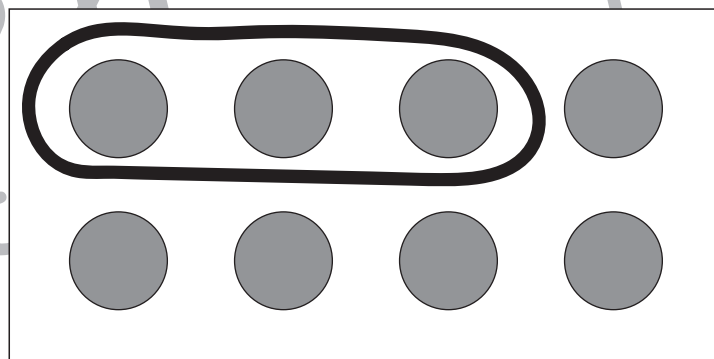
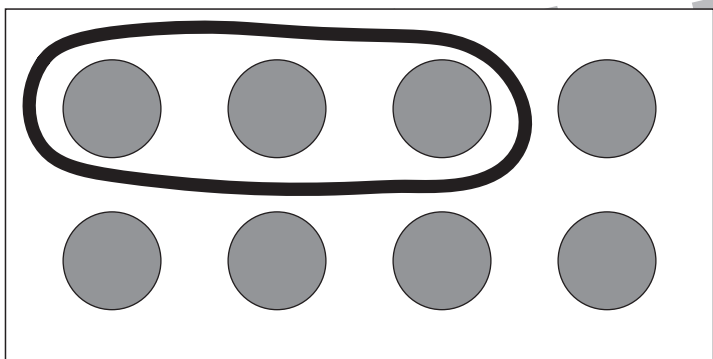

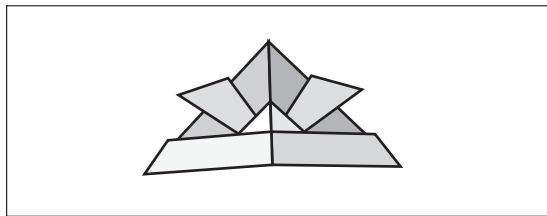
※1. このプリントは、しながわ・目黒こどもスクールのウェブサイトからダウンロードできます。無断複写・引用はご遠慮ください。

※2. このプリントを活用したオンライン授業のスケジュールは、しながわ・目黒こどもスクールのウェブサイトでご確認ください。





四角の中にある絵の音の数を数えて、その数だけ丸を囲みましょう。



※1. このプリントは、しながわ・目黒こどもスクールのウェブサイトでダウンロードができます。無断複写・引用はご遠慮ください。
※2. このプリントを活用したオンライン授業のスケジュールは、しながわ・目黒こどもスクールのウェブサイトでご確認ください。





①と②の問題を読んで、お話通りに色を塗ります。塗るときは階段の白色の部分塗りましょう。


①の四角を見てください。

- 下から 1 段目の階段を赤色のクーピー塗りましょう。
- 下から 3 段目の階段を橙色のクーピーで塗りましょう。
- 上から 2 段目階段を黄色のクーピーで塗りましょう。

②の四角を見てください。

- 上から 1 段目の階段を桃色のクーピーで薄く塗りましょう。
- 下から 4 段目の階段を紫色のクーピーで薄く塗りましょう。
- 上から 3 段目と一番下の階段を黒のクーピーで濃く塗りましょう。

①



②



ICT 教育の小学校受験

※ 1. このプリントは、しながわ・目黒こどもスクールのウェブサイトでダウンロードができます。無断複写・引用はご遠慮ください。

※ 2. このプリントを活用したオンライン授業のスケジュールは、しながわ・目黒こどもスクールのウェブサイトでご確認ください。

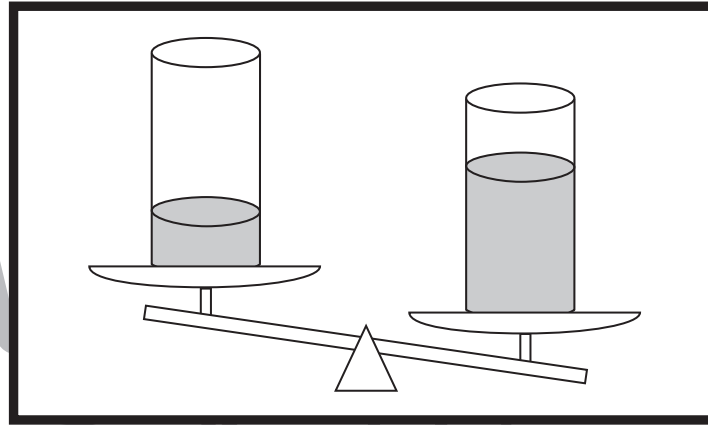


おうちで、やろう。 年中児版

Study at home. 小学校受験の家庭学習教材

推理：重さ8

太い四角の中のコップをシーソーで重さ比べをしました。すると、水が多いコップの方が重くなりました。このお約束でコップを重さ比べをしたとき、一番重いコップに○、二番目に重いコップに△をつけましょう。



①				
②				
③				

※1. このプリントは、しながわ・目黒こどもスクールのウェブサイトでダウンロードができます。無断複写・引用はご遠慮ください。
※2. このプリントを活用したオンライン授業のスケジュールは、しながわ・目黒こどもスクールのウェブサイトでご確認ください。

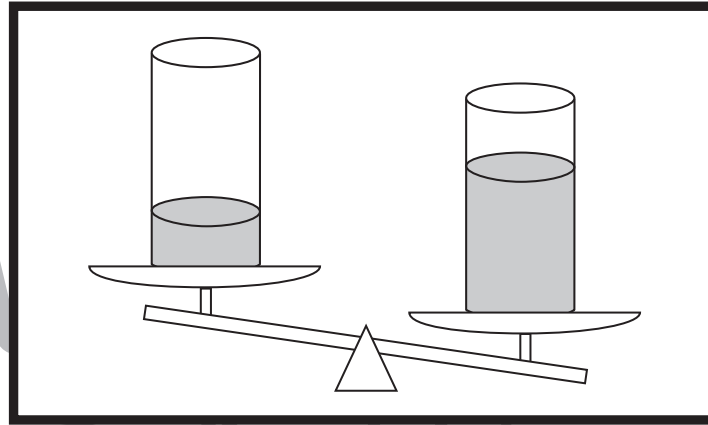


おうちで、やろう。 年中児版

Study at home. 小学校受験の家庭学習教材

推理：重さ9

太い四角の中のコップをシーソーで重さ比べをしました。すると、水が多いコップの方が重くなりました。この約束でコップをそれぞれ重さ比べをしたとき、一番軽いコップに○、二番目に軽いコップに△をつけましょう。



目黒
ール

①				
②				
③				

※1. このプリントは、しながわ・目黒こどもスクールのウェブサイトでダウンロードができます。無断複写・引用はご遠慮ください。
※2. このプリントを活用したオンライン授業のスケジュールは、しながわ・目黒こどもスクールのウェブサイトでご確認ください。



おうちで、やろう。 年中児版

Study at home. 小学校受験の家庭学習教材

数量：加減 17

① ひなさんとなおやくんは夏休みに家族で海にきました。海にもぐると、岩陰にタコが2匹とクマノミが3匹いました。すると、ひなさんが遠くの方を指さして「カメが2匹いるよ。」と言いました。ひなさんとなおやくんが見つけた生き物は合わせて何匹ですか。その数だけ、右の四角に〇をかきましょう。



〇 × 7

② 今日は七夕の日です。ゆかさんとなおやくんはそれぞれ3枚の短冊に1つずつ願い事を書きました。ゆかさんとなおやくんが使った短冊は合わせて何枚になりますか。その数だけ、右の四角に〇をかきましょう。



〇 × 6

③ 今日、ひなさんは家族でバーベキューをするためにスーパーへ買い物にきています。最初にお父さんの好きなお肉を5つとピーマンを3つカゴの中へ入れました。すると、ひなさんが「こんなに買っても食べきれないよ。」と言い、ピーマンを3本野菜コーナーに戻しました。ひなさんたちが買ったものは合わせて、いくつになりますか。その数だけ、右の四角に〇をかきましょう。



〇 × 5

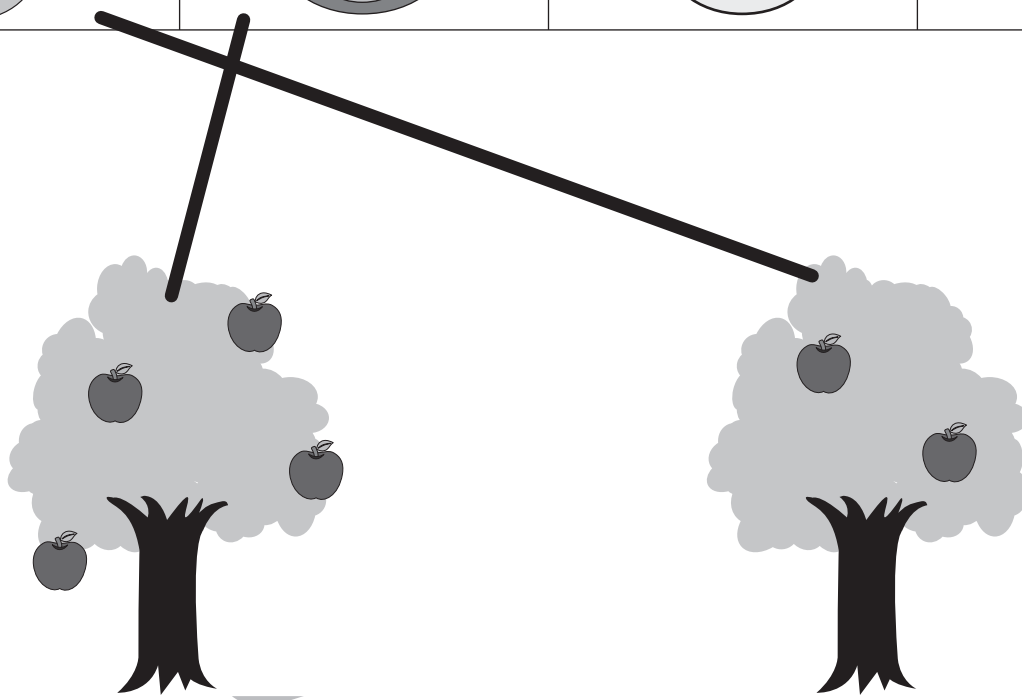




おうちで、やろう。 年中児版

Study at home. 小学校受験の家庭学習教材

数量：計数 29

下の吹き出しの中には動物が欲しいリンゴの数が描かれています。その数と同じ数のリンゴになっている木を見て、動物のいる四角とリンゴの木を線でつなぎましょう。※つなげない木もあります。



※1. このプリントは、しながわ・目黒こどもスクールのウェブサイトでダウンロードができます。無断複写・引用はご遠慮ください。
※2. このプリントを活用したオンライン授業のスケジュールは、しながわ・目黒こどもスクールのウェブサイトでご確認ください。







おうちで、やろう。 年中児版

Study at home. 小学校受験の家庭学習教材

数量：計数 30

下の吹き出しの中にはリスが欲しいどんぐりの数が描かれています。その数と同じ数のどんぐりがなっている木を見て、リスのいる四角とどんぐりの木を線でつなぎましょう。※つなげない木もあります。



※1. このプリントは、しながわ・目黒こどもスクールのウェブサイトでダウンロードができます。無断複写・引用はご遠慮ください。
※2. このプリントを活用したオンライン授業のスケジュールは、しながわ・目黒こどもスクールのウェブサイトでご確認ください。