




# おうちで、やろう。 年中児版

Study at home. 小学校受験の家庭学習教材

## まちがいさがし 30



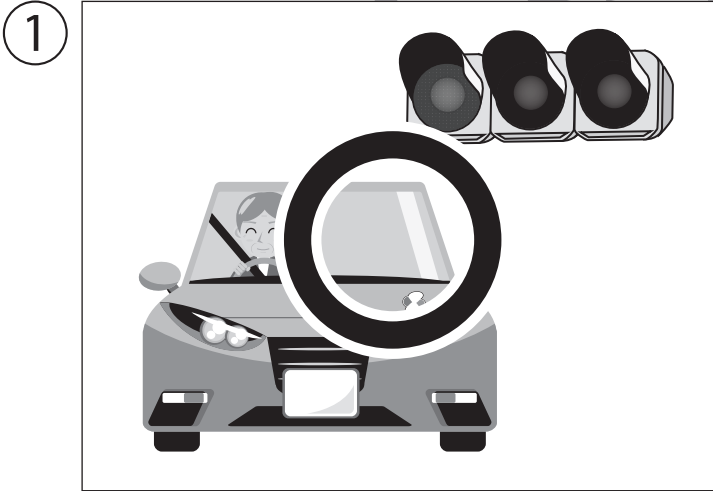
上下の絵を見比べて、変わっているところを4つ探します。見つけたら、下の絵の変わっている部分に○をつけましょう。





①～⑥のお話をきいて、正しいことをしている絵に○をつけましょう。

- ①ゆうすけさんは信号が青色に変わったので車で進みました。
- ②ゆうやくんは車にぶつからないように横断歩道のない場所を自転車で進みました。
- ③ゆみさんは外の景色が見たかったのでバスの窓から顔を出しました。
- ④たけしくんは信号が赤色になったので歩きはじめました。
- ⑤たけしくんは信号が青色になったので横断歩道を歩いて渡りました。
- ⑥たかしさんは車のライトをつけなくて夜道を運転しました。



※1. このプリントは、しながわ・目黒こどもスクールのウェブサイトでダウンロードができます。無断複写・引用はご遠慮ください。  
 ※2. このプリントを活用したオンライン授業のスケジュールは、しながわ・目黒こどもスクールのウェブサイトでご確認ください。



①～⑥のお話をきいて、正しいことをしている絵に○をつけましょう。

- ①たくやくんは朝、咳がでていたのでマスクをせずに学校へ行きました。
- ②まささんは風ごはんに、苦手なものがでてきたので食べずに残しました。
- ③さくらさんは家に帰ってきたので最初に手洗いをしました。
- ④公園から帰ってきたなおやくんとひなさんは、お腹がすいていたのでご飯を食べたあとに手を洗いました。
- ⑤先生が話をしていましたが、ともやくんはお友だちに話かけました。
- ⑥たくやくんは喉が痛く、咳がでていたのでマスクをして出かけました。

①



④



②



⑤



③



⑥



※1. このプリントは、しながわ・目黒こどもスクールのウェブサイトでダウンロードができます。無断複写・引用はご遠慮ください。  
 ※2. このプリントを活用したオンライン授業のスケジュールは、しながわ・目黒こどもスクールのウェブサイトでご確認ください。



# おうちで、やろう。 年中児版

Study at home. 小学校受験の家庭学習教材

推理：系列完成9

下の四角の中のお手本は動物がそれぞれの建物に、ある約束の通り並んでいます。  
?の四角に入る動物を考えて、下のマスの中の動物に○をつけましょう。

病院 →

	→								

← 時計

								←	

スーパーマーケット →

	→								

※1. このプリントは、しながわ・目黒こどもスクールのウェブサイトでダウンロードができます。無断複写・引用はご遠慮ください。  
※2. このプリントを活用したオンライン授業のスケジュールは、しながわ・目黒こどもスクールのウェブサイトでご確認ください。