



おうちで、やろう。 年中児版

Study at home. 小学校受験の家庭学習教材

まちがいさがし 30

別紙「まちがいさがし30(お手本)」と見比べて変わっているところを7つ探します。見つけたら、下の絵の変わっている部分に○をつけましょう。






おうちで、やろう。年中児版






Study at home. 小学校受験の家庭学習教材

数量：すごろく 10

動物たちがすごろく遊びをしています。サイコロを3回ずつ振ったあと、それぞれの動物がとまるマスを考えて○をかきましょう。進むときは動物たちがいるマスから矢印の方向に進みましょう。ゾウのついたマスに○、サルのついたマスに×、ライオンのついたマスに△をかきます。

- ①ゾウはサイコロを投げて3→4→2の順番で目ができました。
- ②サルはサイコロを投げて2→4→2の順番で目ができました。
- ③ライオンはサイコロを投げて6→2→5の順番で目ができました。



								
								
							○	
								
					△			
							×	

※1. このプリントは、しながわ・目黒こどもスクールのウェブサイトでダウンロードができます。無断複写・引用はご遠慮ください。
 ※2. このプリントを活用したオンライン授業のスケジュールは、しながわ・目黒こどもスクールのウェブサイトでご確認ください。




おうちで、やろう。 年中児版









Study at home. 小学校受験の家庭学習教材

数量：すごろく 11

動物たちがすごろく遊びをしています。サイコロを3回ずつ振ったあと、それぞれの動物がとまるマスを考えて○をかきましょう。進むときは動物たちがいるマスから矢印の方向に進みましょう。ゾウのついたマスに○、サルのついたマスに×、ライオンのついたマスに△をかきます。

- ①ゾウはサイコロを投げて5→4→2の順番で目ができました。
- ②サルはサイコロを投げて4→6→2の順番で目ができました。
- ③ライオンはサイコロを投げて6→2→6の順番で目ができました。



※1. このプリントは、しながわ・目黒こどもスクールのウェブサイトでダウンロードができます。無断複写・引用はご遠慮ください。
 ※2. このプリントを活用したオンライン授業のスケジュールは、しながわ・目黒こどもスクールのウェブサイトでご確認ください。

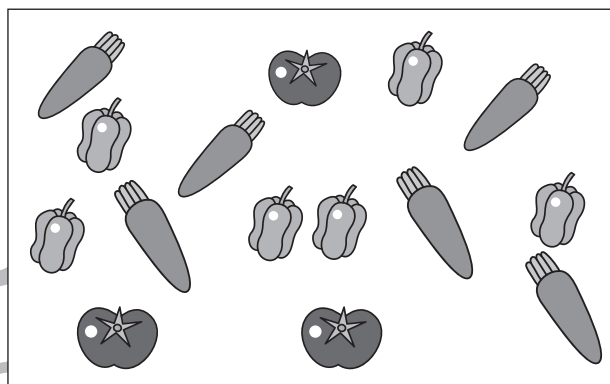


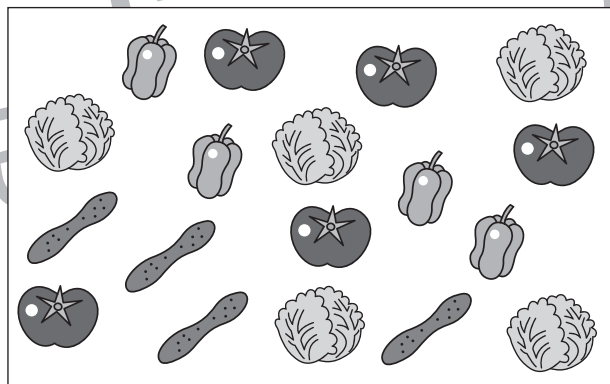

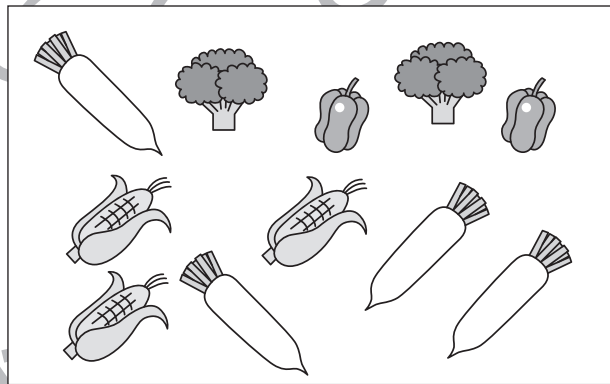





おうちで、やろう。 年中児版

Study at home. 小学校受験の家庭学習教材

数量：対応 5

一番左の四角の中の食べ物が 1 人分です。真ん中の四角の中には何人分の食べ物があるのかを考えて、その数だけ右の四角に○をかきましょう。四角の中には余る絵もあります。



※ 1. このプリントは、しながわ・目黒こどもスクールのウェブサイトでダウンロードができます。無断複写・引用はご遠慮ください。
※ 2. このプリントを活用したオンライン授業のスケジュールは、しながわ・目黒こどもスクールのウェブサイトでご確認ください。












おうちで、やろう。 年中児版

Study at home. 小学校受験の家庭学習教材

数量：対応6

一番左の四角の中の食べ物が1人分です。真ん中の四角の中には何人分の食べ物があるのかを考えて、その数だけ右の四角に○をかきましょう。四角の中には余る絵もあります。



※1. このプリントは、しながわ・目黒こどもスクールのウェブサイトでダウンロードができます。無断複写・引用はご遠慮ください。
※2. このプリントを活用したオンライン授業のスケジュールは、しながわ・目黒こどもスクールのウェブサイトでご確認ください。








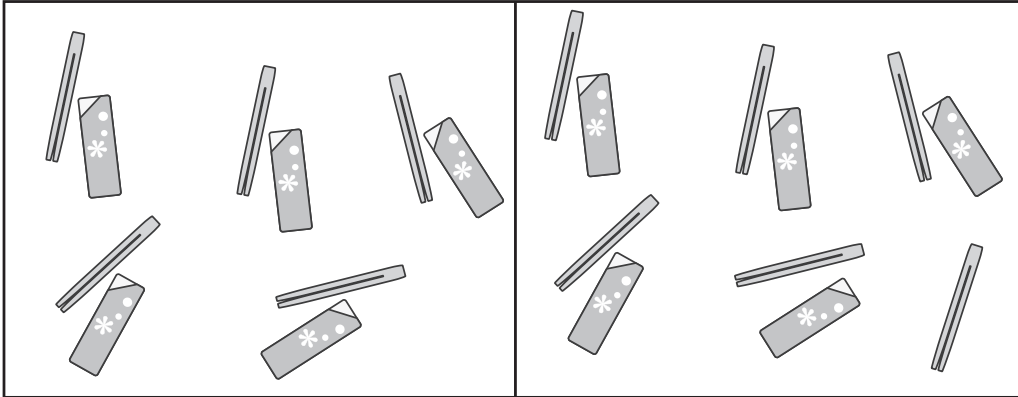


おうちで、やろう。 年中児版

Study at home. 小学校受験の家庭学習教材

数量：同数 8

左と右の四角の中の絵が同じ数のときは○、違う数のときは×を一番右の四角にかきましょう。



※1. このプリントは、しながわ・目黒こどもスクールのウェブサイトでダウンロードができます。無断複写・引用はご遠慮ください。
 ※2. このプリントを活用したオンライン授業のスケジュールは、しながわ・目黒こどもスクールのウェブサイトでご確認ください。



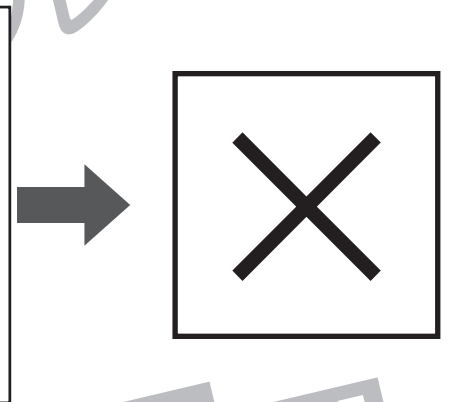

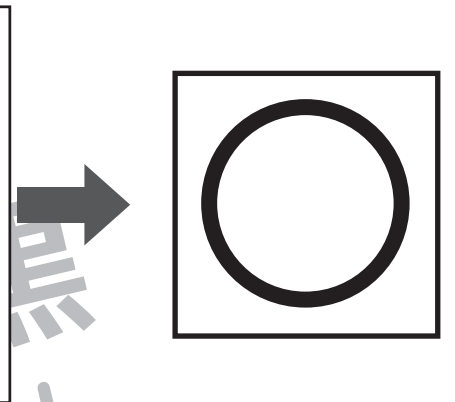
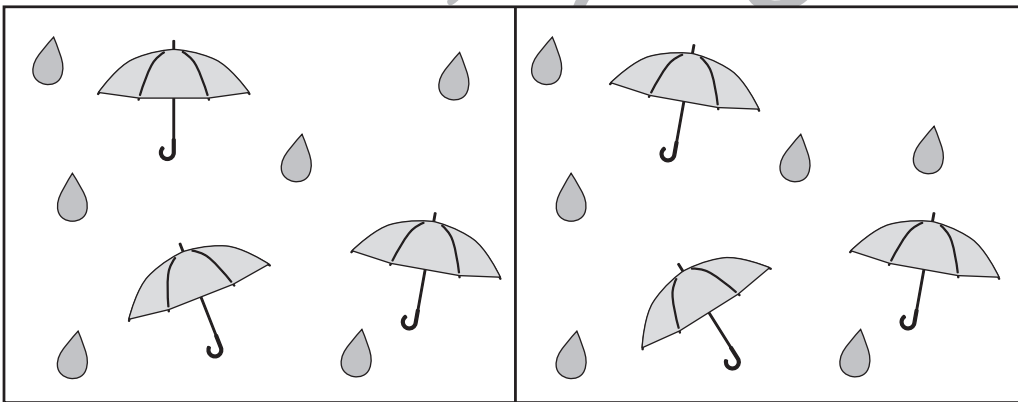
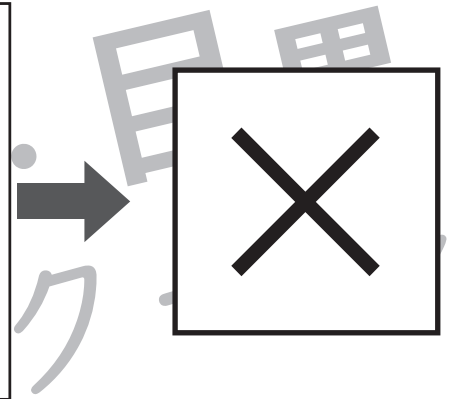
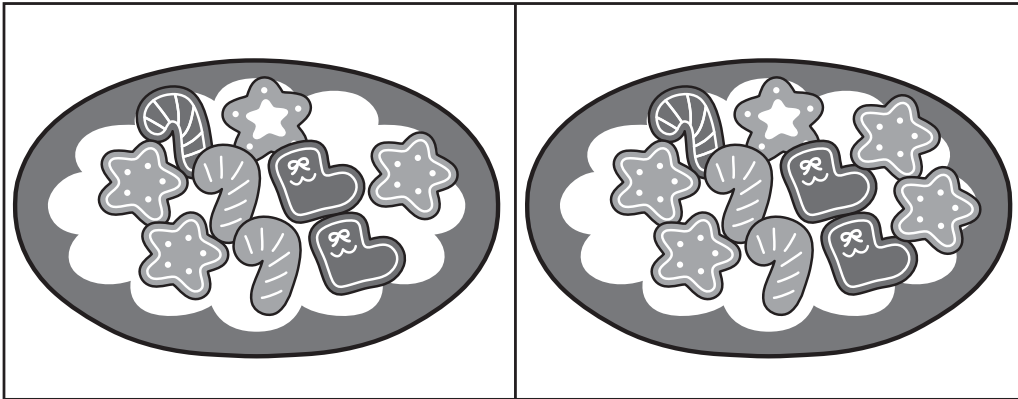


おうちで、やろう。 年中児版

Study at home. 小学校受験の家庭学習教材

数量：同数9

左と右の四角の中の絵が同じ数のときは○、違う数のときは×を一番右の四角にかきましょう。



※1. このプリントは、しながわ・目黒こどもスクールのウェブサイトでダウンロードができます。無断複写・引用はご遠慮ください。
※2. このプリントを活用したオンライン授業のスケジュールは、しながわ・目黒こどもスクールのウェブサイトでご確認ください。

