





上下の絵を見比べて、変わっているところを4つ探します。見つけたら、下の絵の変わっている部分に○をつけましょう。





左の四角が矢印の方向に一度倒れたときの見え方で、正しいものを右の四角の中から見つけて○をつけましょう。

--	--	--	--

--	--	--	--

--	--	--	--

--	--	--	--

※1. このプリントは、しながわ・目黒こどもスクールのウェブサイトでダウンロードができます。無断複写・引用はご遠慮ください。  
 ※2. このプリントを活用したオンライン授業のスケジュールは、しながわ・目黒こどもスクールのウェブサイトでご確認ください。



左の四角が矢印の方向に矢印の数だけ倒れたときの見え方で、正しいものを右の四角の中から見つけて○をつけましょう。

↙ ↘				
-----	--	--	--	--

↙ ↘				
-----	--	--	--	--

↙ ↘ ↙ ↘				
---------	--	--	--	--

↙ ↘ ↙ ↘				
---------	--	--	--	--

※1. このプリントは、しながわ・目黒こどもスクールのウェブサイトでダウンロードができます。無断複写・引用はご遠慮ください。  
 ※2. このプリントを活用したオンライン授業のスケジュールは、しながわ・目黒こどもスクールのウェブサイトでご確認ください。



# おうちで、やろう。 年中児版

Study at home. 小学校受験の家庭学習教材

推理：影 10

左の四角の中は、右の四角の絵が影になってできた絵です。どの絵が影になって重なっているかを考えて、影のない絵を右の四角の中から選んで○をつけましょう。


※1. このプリントは、しながわ・目黒こどもスクールのウェブサイトでダウンロードができます。無断複写・引用はご遠慮ください。

※2. このプリントを活用したオンライン授業のスケジュールは、しながわ・目黒こどもスクールのウェブサイトでご確認ください。



# おうちで、やろう。年中児版

Study at home. 小学校受験の家庭学習教材

推理：影 11

左の四角の中は、右の四角の絵が影になってできた絵です。どの絵が影になって重なっているかを考えて、影にない絵を右の四角の中から選んで○をつけましょう。


※1. このプリントは、しながわ・目黒こどもスクールのウェブサイトでダウンロードができます。無断複写・引用はご遠慮ください。

※2. このプリントを活用したオンライン授業のスケジュールは、しながわ・目黒こどもスクールのウェブサイトでご確認ください。




# おうちで、やろう。 年中児版

Study at home. 小学校受験の家庭学習教材


推理：順位付け6

- ①一番背が高いものに○、一番背が低いものに△をつけましょう。
- ②背が二番目に高い人に○、三番目に高い人に△をつけましょう。

①



②



※1. このプリントは、しながわ・目黒こどもスクールのウェブサイトでダウンロードができます。無断複写・引用はご遠慮ください。  
 ※2. このプリントを活用したオンライン授業のスケジュールは、しながわ・目黒こどもスクールのウェブサイトでご確認ください。



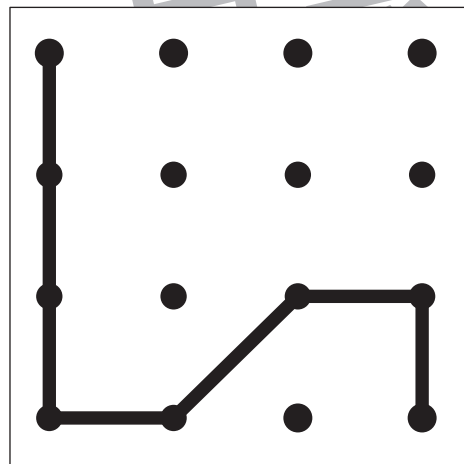
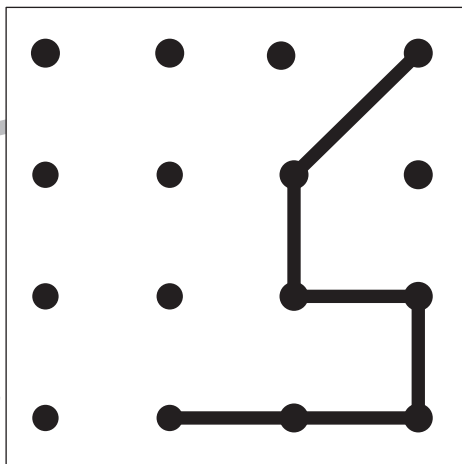
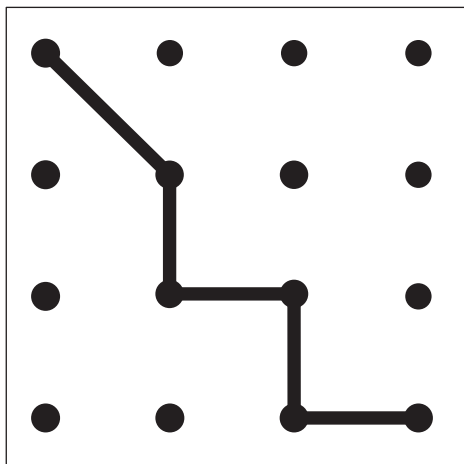
# おうちで、やろう。 年中児版

Study at home. 小学校受験の家庭学習教材

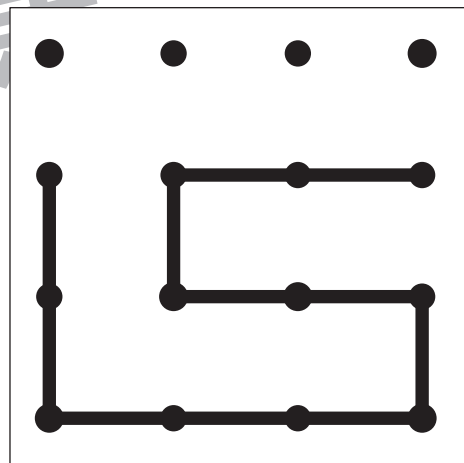
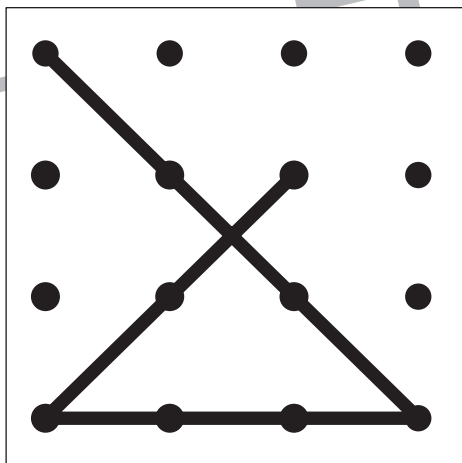
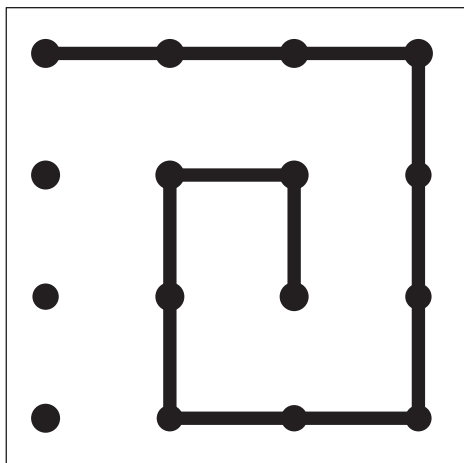
数量：長さ6

四角の中の黒い線を真っ直ぐ伸ばしたとき、一番長くなる線を見つけて、その四角に○をつけましょう。

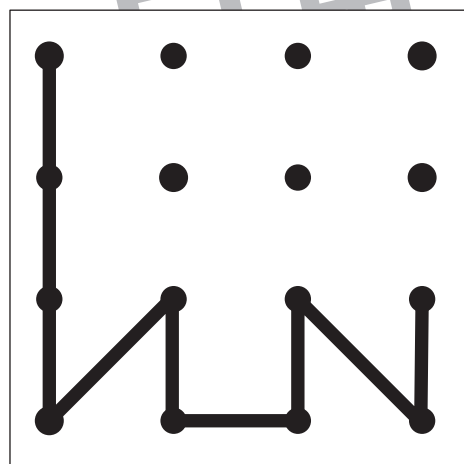
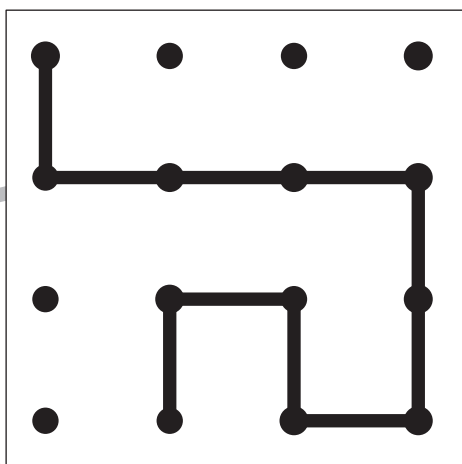
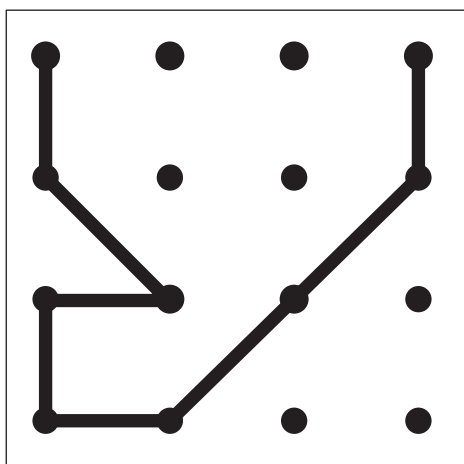
①



②



③



※1. このプリントは、しながわ・目黒こどもスクールのウェブサイトからダウンロードできます。無断複写・引用はご遠慮ください。

※2. このプリントを活用したオンライン授業のスケジュールは、しながわ・目黒こどもスクールのウェブサイトでご確認ください。





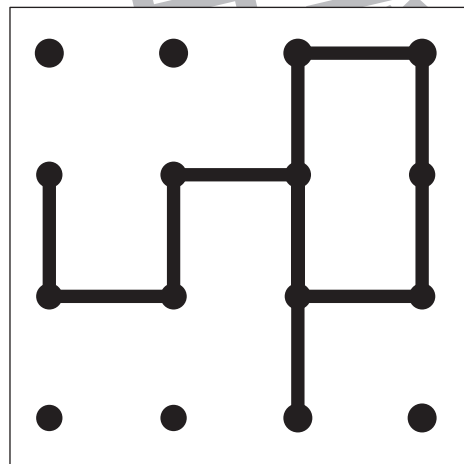
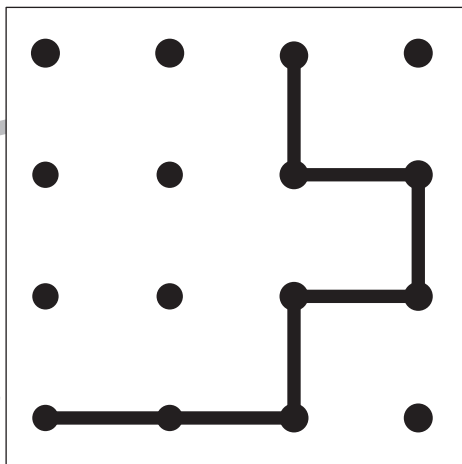
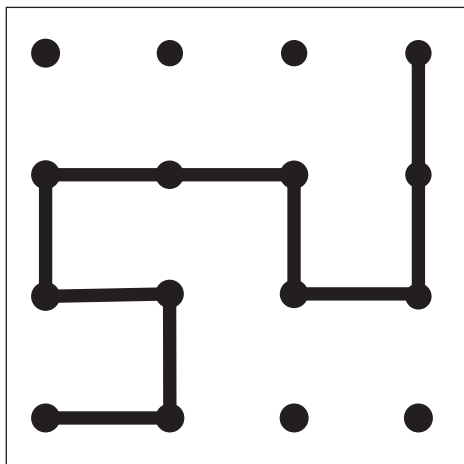
# おうちで、やろう。 年中児版

Study at home. 小学校受験の家庭学習教材

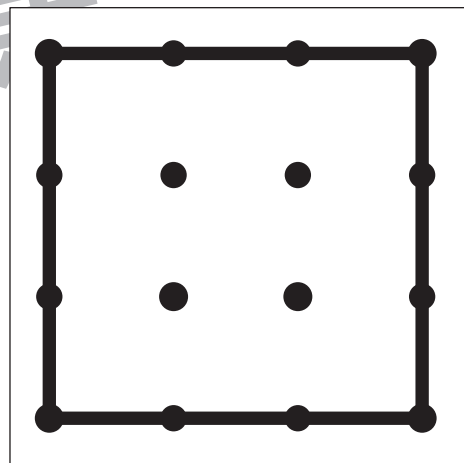
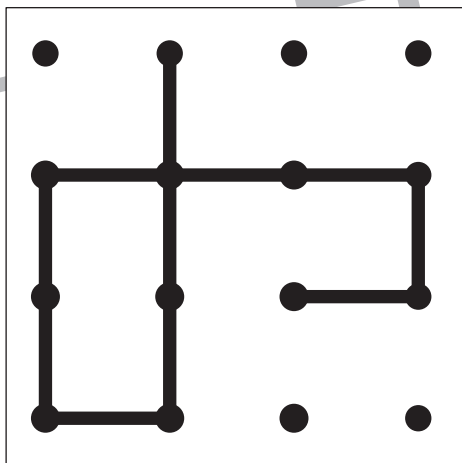
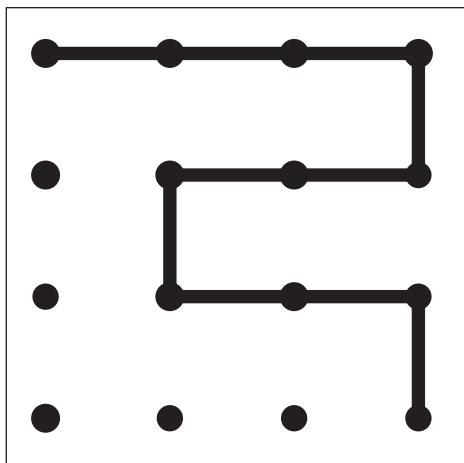
数量：長さ7

四角の中の黒い線を真っ直ぐ伸ばしたとき、一番長くなる線を見つけて、その四角に○をつけましょう。

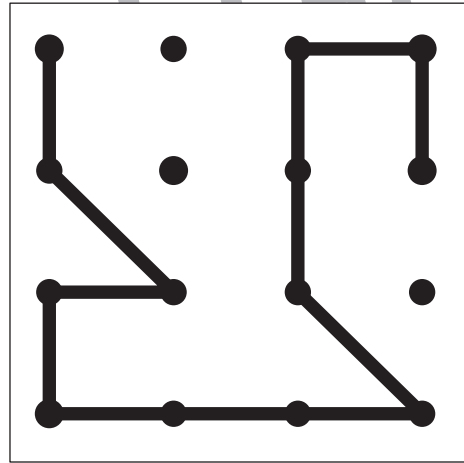
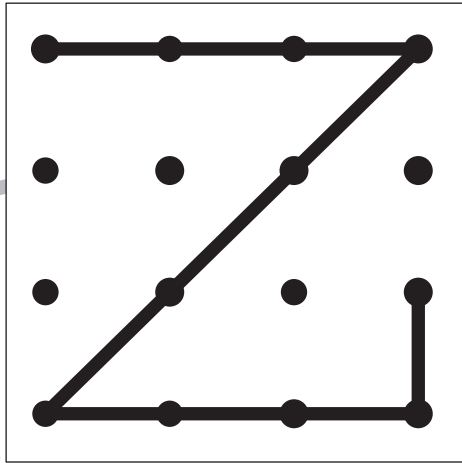
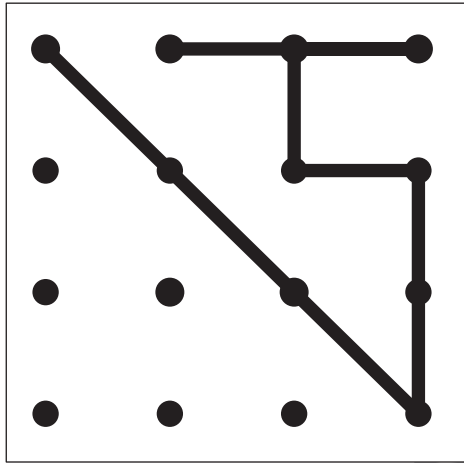
①



②



③



※1. このプリントは、しながわ・目黒こどもスクールのウェブサイトからダウンロードできます。無断複写・引用はご遠慮ください。

※2. このプリントを活用したオンライン授業のスケジュールは、しながわ・目黒こどもスクールのウェブサイトでご確認ください。