




おうちで、やろう。 年中児版

Study at home. 小学校受験の家庭学習教材

言語：言葉5

- ①「たたく」という言葉に合う絵はどれですか。左と右の四角で中間のものを見つけて、四角と四角を線で結びましょう。
- ②「かく」という言葉に合う絵はどれですか。左と右の四角で中間のものを見つけて、四角と四角を線で結びましょう。
- ③「きる」という言葉に合う絵はどれですか。左と右の四角で中間のものを見つけて、四角と四角を線で結びましょう。
- ④「なく」という言葉に合う絵はどれですか。左と右の四角で中間のものを見つけて、四角と四角を線で結びましょう。
- ⑤「かう」という言葉に合う絵はどれですか。左と右の四角で中間のものを見つけて、四角と四角を線で結びましょう。



※1. このプリントは、しながわ・目黒こどもスクールのウェブサイトでダウンロードができます。無断複写・引用はご遠慮ください。

※2. このプリントを活用したオンライン授業のスケジュールは、しながわ・目黒こどもスクールのウェブサイトでご確認ください。


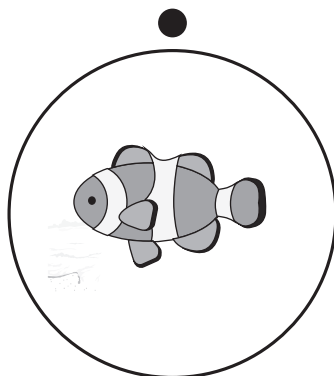

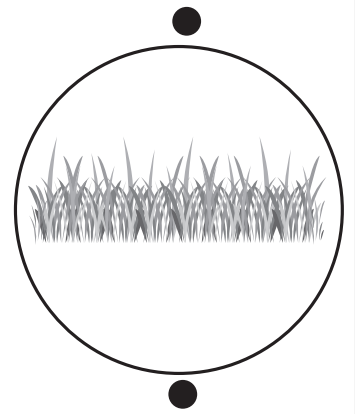
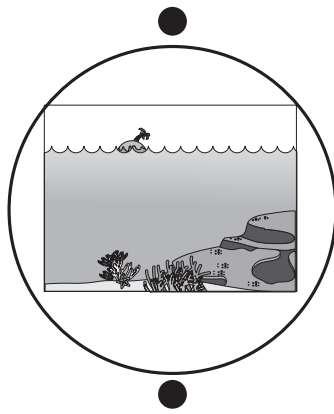


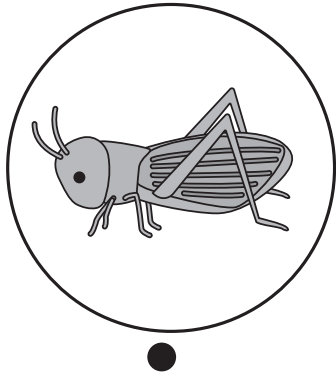


おうちで、やろう。年中児版

Study at home. 小学校受験の家庭学習教材

常識：生物 13

上、下の生き物がいる場所を真ん中の丸の中から見つけて、点と点を線でつなぎましょう。




※1. このプリントは、しながわ・目黒こどもスクールのウェブサイトからダウンロードできます。無断複写・引用はご遠慮ください。
※2. このプリントを活用したオンライン授業のスケジュールは、しながわ・目黒こどもスクールのウェブサイトでご確認ください。



①～⑤の問題を読んで、水やりをする花に○をつけましょう。

- ①女の子から見て、1番目のテーブルの左から1番目の花に茶色のクーピーで○をつけましょう。
- ②女の子から見て、4番目のテーブルの左から2番目の花に緑色のクーピーで○をつけましょう。
- ③女の子から見て、4番目のテーブルの右から1番目の花に黄色のクーピーで○をつけましょう。
- ④女の子から見て、2番目のテーブルの左から3番目の花に青色のクーピーで○をつけましょう。
- ⑤女の子から見て、4番目のテーブルの右から2番目の花に赤色のクーピーで○をつけましょう。



ICT教育の小学校受験

※1. このプリントは、しながわ・目黒こどもスクールのウェブサイトでダウンロードができます。無断複写・引用はご遠慮ください。
※2. このプリントを活用したオンライン授業のスケジュールは、しながわ・目黒こどもスクールのウェブサイトでご確認ください。



おうちで、やろう。 年中児版

Study at home. 小学校受験の家庭学習教材

指示の聞き取り 23

①～⑤の問題を聞いて、チューリップの色を塗りましょう。塗るときは、花の白色部分をはみ出さないように塗りましょう。


①女の子から見て、3段目の花壇の右から7番目のチューリップに茶色のクーピー塗りましょう。

②女の子から見て、2段目の花壇の左から3番目のチューリップに赤色のクーピー塗りましょう。

③女の子から見て、2段目の花壇の右から3番目のチューリップに黄色のクーピー塗りましょう。

④女の子から見て、4段目の花壇の左から6番目のチューリップに青色のクーピー塗りましょう。

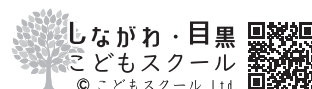
⑤女の子から見て、4段目の花壇の右から6番目のチューリップに緑色のクーピー塗りましょう。



ICT 教育の小学校受験

※1. このプリントは、しながわ・目黒こどもスクールのウェブサイトでダウンロードができます。無断複写・引用はご遠慮ください。

※2. このプリントを活用したオンライン授業のスケジュールは、しながわ・目黒こどもスクールのウェブサイトでご確認ください。







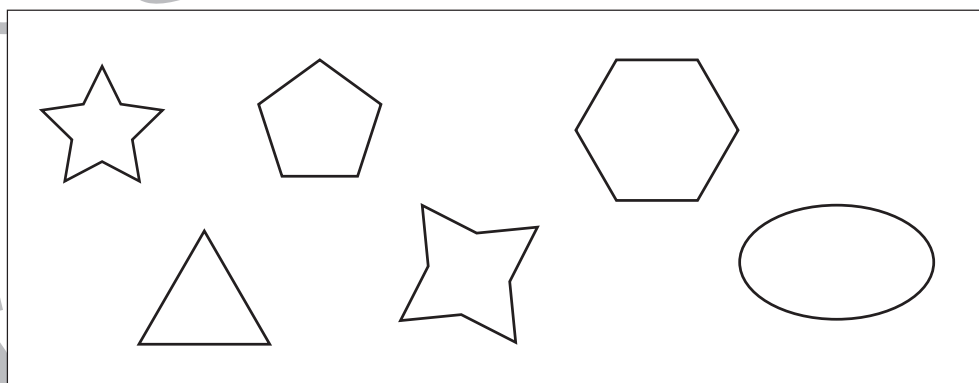
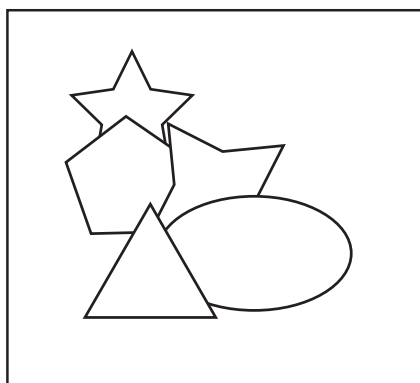
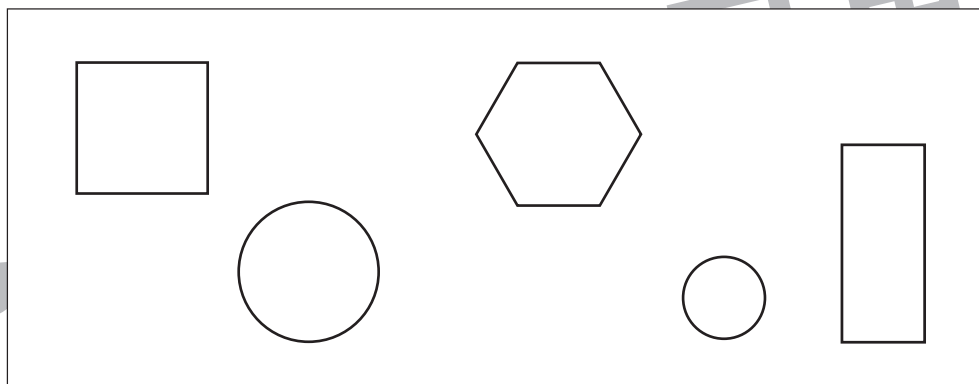
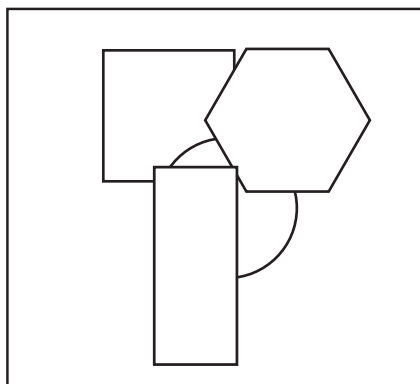


おうちで、やろう。 年中児版

Study at home. 小学校受験の家庭学習教材

図形：重なり7

左の四角の中にはいろいろな形が重なった形があります。使っていない形がどれかを考えて右の四角の中の形に○をつけましょう。



※1. このプリントは、しながわ・目黒こどもスクールのウェブサイトでダウンロードができます。無断複写・引用はご遠慮ください。

※2. このプリントを活用したオンライン授業のスケジュールは、しながわ・目黒こどもスクールのウェブサイトでご確認ください。



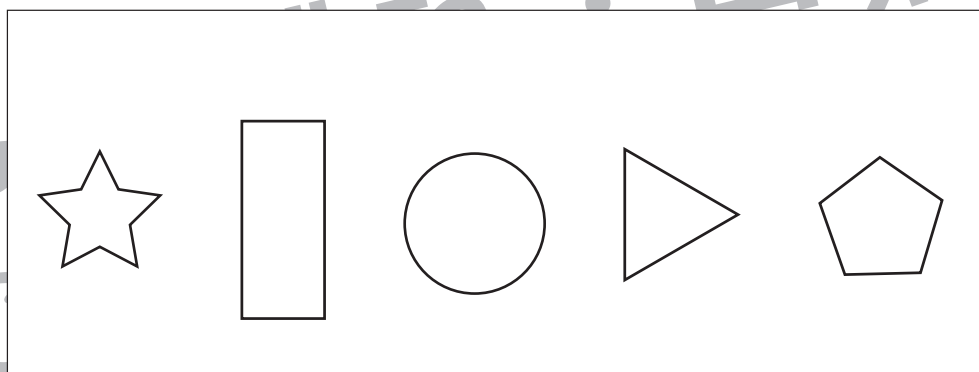

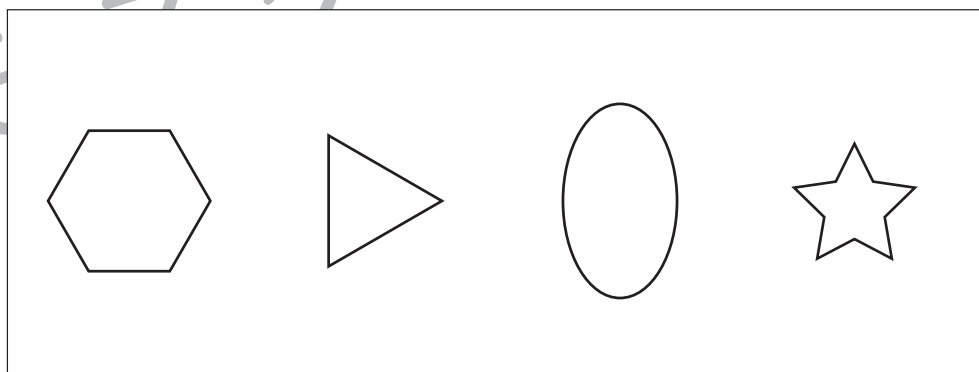

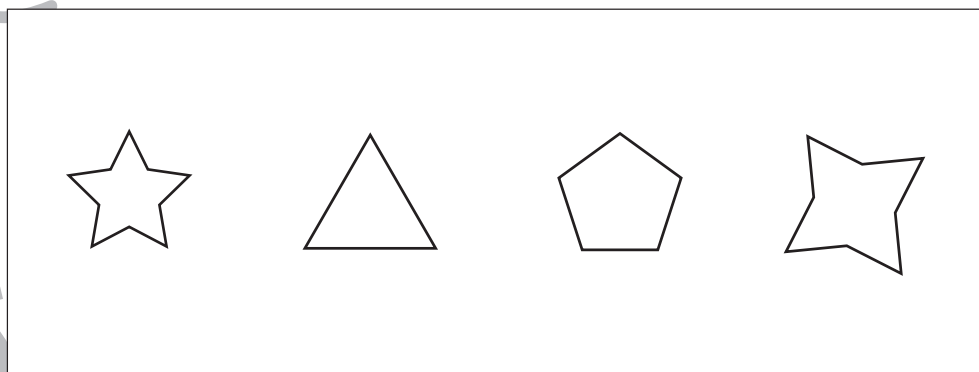
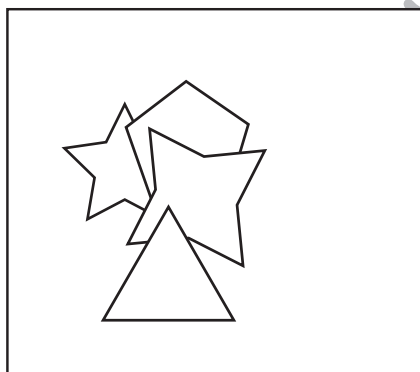
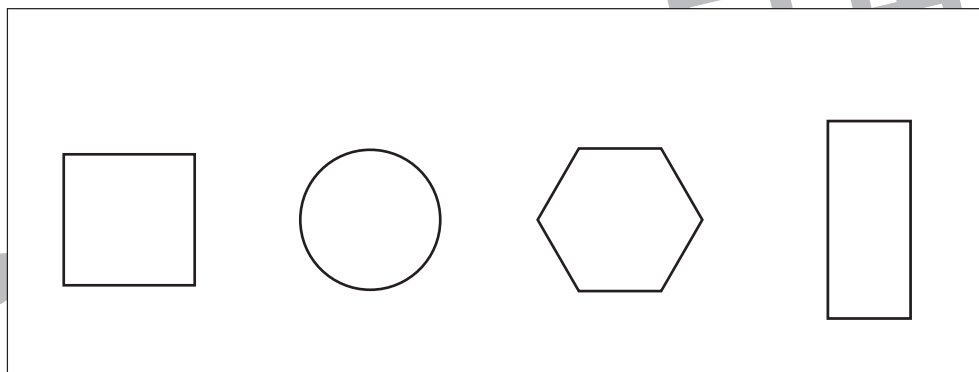
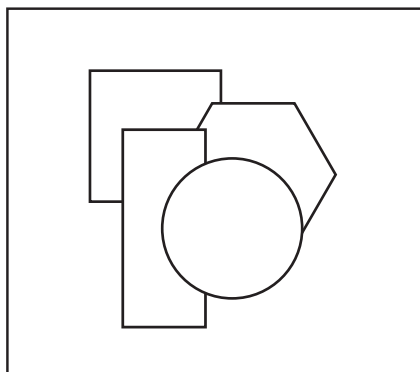


おうちで、やろう。 年中児版

Study at home. 小学校受験の家庭学習教材

図形：重なり8

左の四角の中にはいろいろな形が重なった形があります。下から2番目の形に○をつけましょう。



※1. このプリントは、しながわ・目黒こどもスクールのウェブサイトからダウンロードができます。無断複写・引用はご遠慮ください。
※2. このプリントを活用したオンライン授業のスケジュールは、しながわ・目黒こどもスクールのウェブサイトでご確認ください。



おうちで、やろう。 年中児版

Study at home. 小学校受験の家庭学習教材

数量：計数 31

左と右の四角の中の積み木の数比べて、同じ数の積み木の四角の点と点を線でむすびましょう。

	●	
	●	
	●	
	●	

しながわ
どもス
わ・目
スクー

※1. このプリントは、しながわ・目黒こどもスクールのウェブサイトでダウンロードができます。無断複写・引用はご遠慮ください。
※2. このプリントを活用したオンライン授業のスケジュールは、しながわ・目黒こどもスクールのウェブサイトでご確認ください。





おうちで、やろう。 年中児版

Study at home. 小学校受験の家庭学習教材

数量：計数 32

左と右の四角の中のサイコロの目の数が同じものを見つけて点と点を線でむすびましょう。

※1. このプリントは、しながわ・目黒こどもスクールのウェブサイトでダウンロードができます。無断複写・引用はご遠慮ください。

※2. このプリントを活用したオンライン授業のスケジュールは、しながわ・目黒こどもスクールのウェブサイトでご確認ください。