



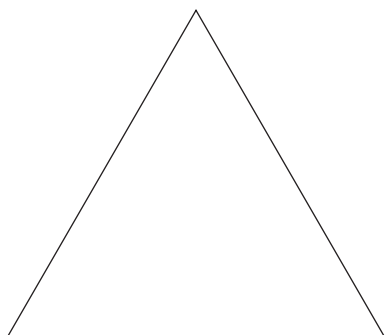


# おうちで、やろう。 年中児版

Study at home. 小学校受験の家庭学習教材

絵画：条件画5

それぞれの形を変身させて絵をかきましょう。

※この問題に解答はありません。



※1. このプリントは、しながわ・目黒こどもスクールのウェブサイトでダウンロードができます。無断複写・引用はご遠慮ください。

※2. このプリントを活用したオンライン授業のスケジュールは、しながわ・目黒こどもスクールのウェブサイトでご確認ください。









# おうちで、やろう。 年中児版

Study at home. 小学校受験の家庭学習教材

巧緻性：模写9

左の四角の中の絵がお手本です。お手本と同じ大きさ、形になるように左の四角にかきましょう。  
※この問題に解答はありません。



※1. このプリントは、しながわ・目黒こどもスクールのウェブサイトからダウンロードできます。無断複写・引用はご遠慮ください。  
※2. このプリントを活用したオンライン授業のスケジュールは、しながわ・目黒こどもスクールのウェブサイトでご確認ください。






# おうちで、やろう。 年中児版

Study at home. 小学校受験の家庭学習教材

処理能力：抹消7

上の太い四角の中の絵がお手本です。下のマスの中からお手本の絵をみつけて斜め線（/）をつけていきます。お手本を見つけるときは、一番上の段の左からはじめて、右端まで見ます。1段目ができたら2段目の左から右へ進み、次に3段目の左から右と順番に印をつけていきます。




※1. このプリントは、しながわ・目黒こどもスクールのウェブサイトでダウンロードができます。無断複写・引用はご遠慮ください。

※2. このプリントを活用したオンライン授業のスケジュールは、しながわ・目黒こどもスクールのウェブサイトでご確認ください。




# おうちで、やろう。 年中児版

Study at home. 小学校受験の家庭学習教材

処理能力：抹消8

上の太い四角の中の絵がお手本です。下のマスの中からお手本の絵をみつけて斜め線（/）をつけていきます。お手本を見つけるときは、一番上の段の左からはじめて、右端まで見ます。1段目ができたら2段目の左から右へ進み、次に3段目の左から右と順番に印をつけていきます。




※1. このプリントは、しながわ・目黒こどもスクールのウェブサイトからダウンロードできます。無断複写・引用はご遠慮ください。

※2. このプリントを活用したオンライン授業のスケジュールは、しながわ・目黒こどもスクールのウェブサイトでご確認ください。

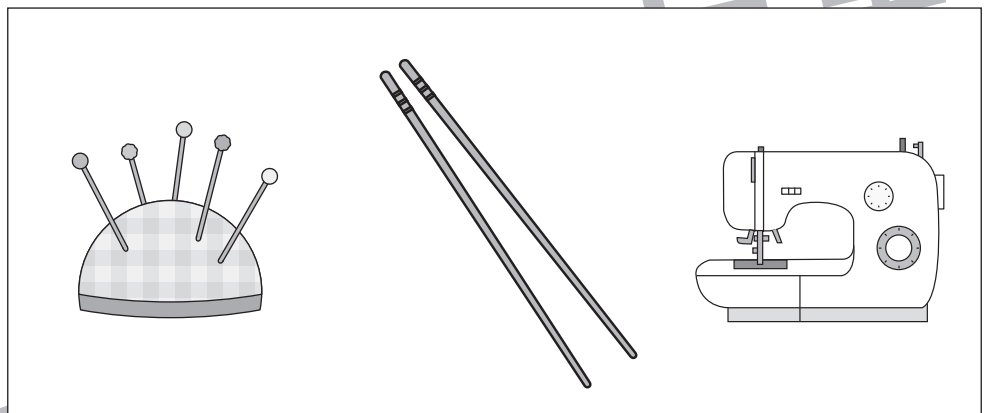
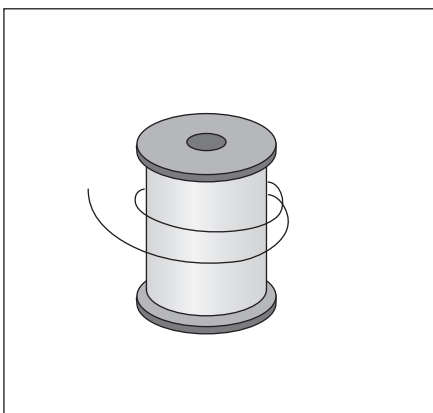
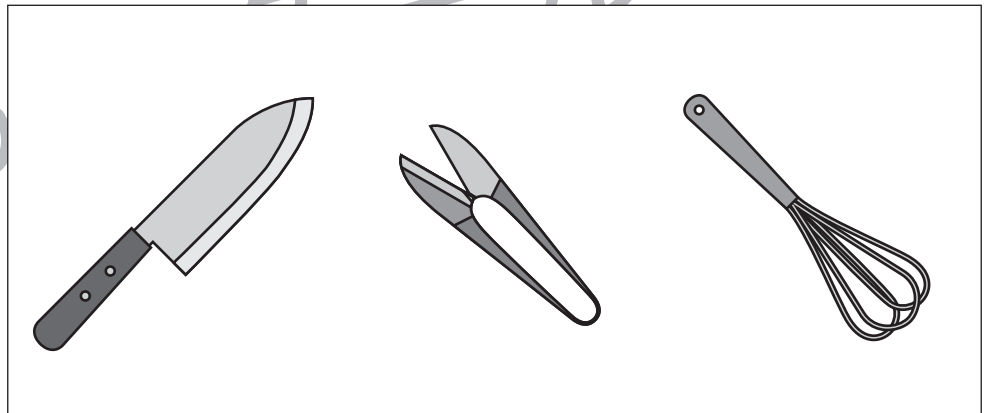
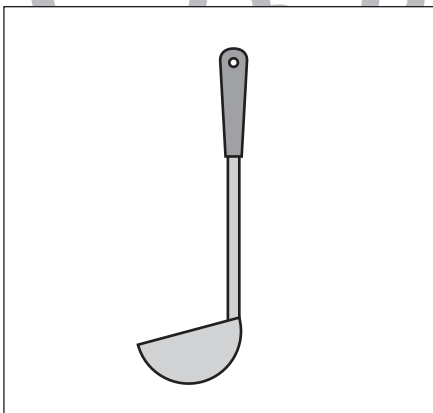


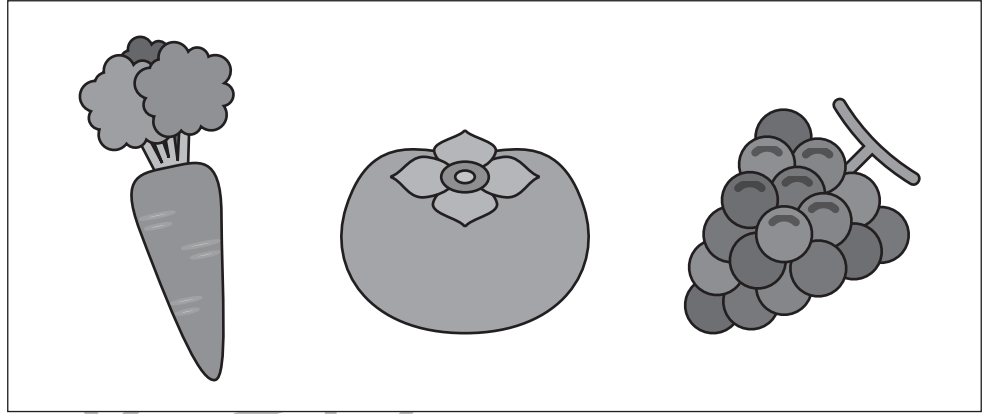



# おうちで、やろう。 年中児版

Study at home. 小学校受験の家庭学習教材

常識：仲間はずれ7

左の四角の中の絵と仲間でないものを、右の四角の中から見つけて○をつけましょう。



※1. このプリントは、しながわ・目黒こどもスクールのウェブサイトからダウンロードができます。無断複写・引用はご遠慮ください。

※2. このプリントを活用したオンライン授業のスケジュールは、しながわ・目黒こどもスクールのウェブサイトでご確認ください。



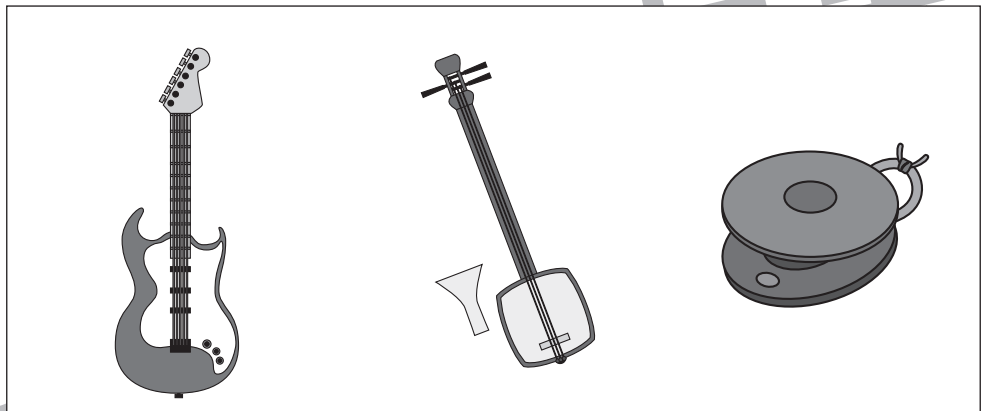

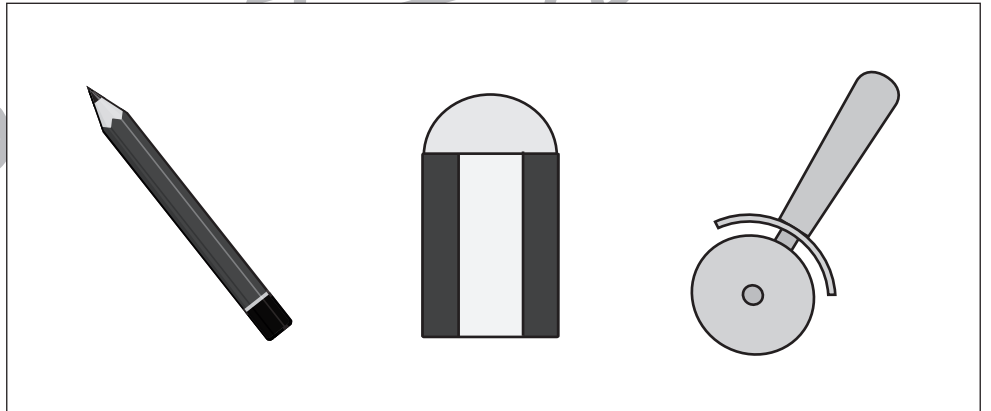
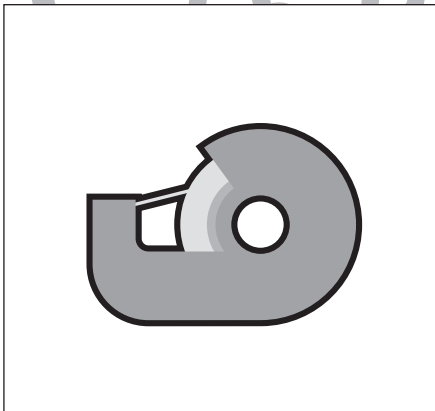
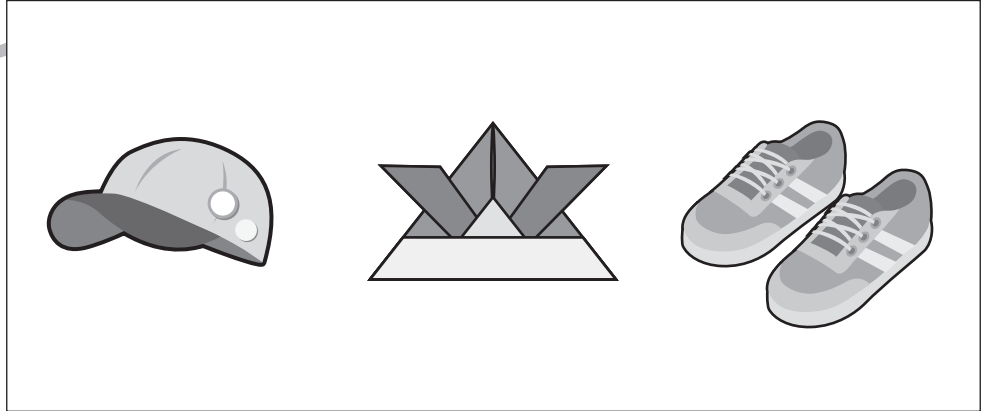
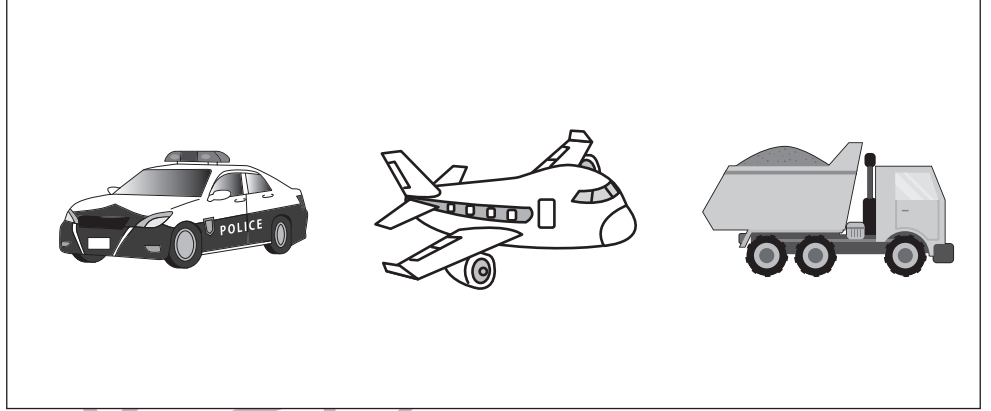
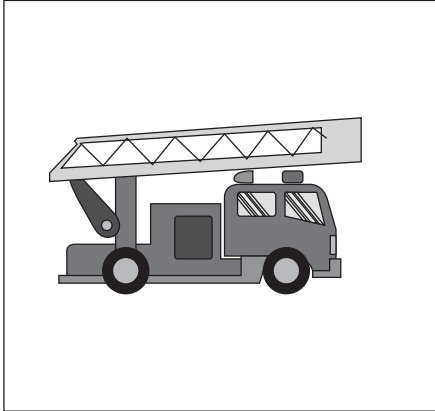


# おうちで、やろう。年中児版

Study at home. 小学校受験の家庭学習教材

## 常識：仲間はずれ8

左の四角の中の絵と仲間でないものを、右の四角の中から見つけて○をつけましょう。



※1. このプリントは、しながわ・目黒こどもスクールのウェブサイトからダウンロードができます。無断複写・引用はご遠慮ください。

※2. このプリントを活用したオンライン授業のスケジュールは、しながわ・目黒こどもスクールのウェブサイトでご確認ください。



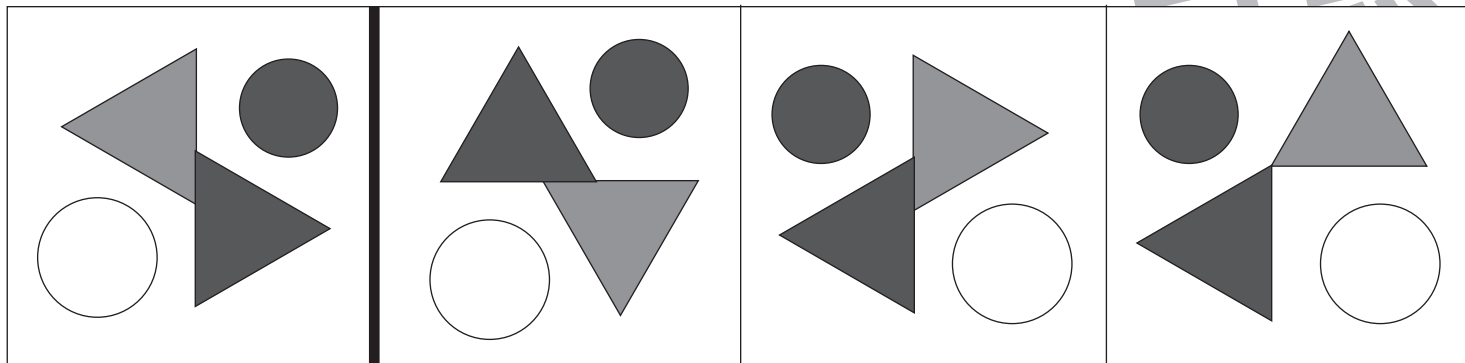
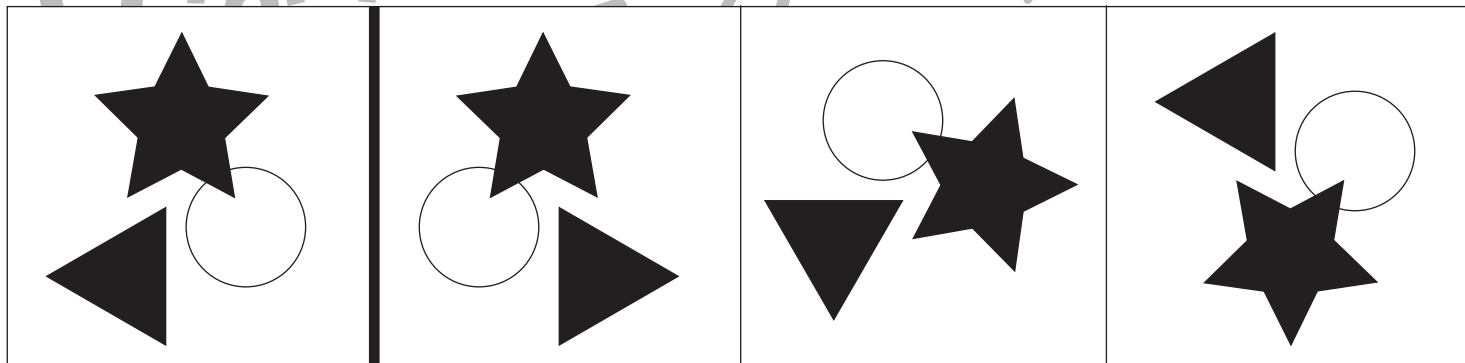
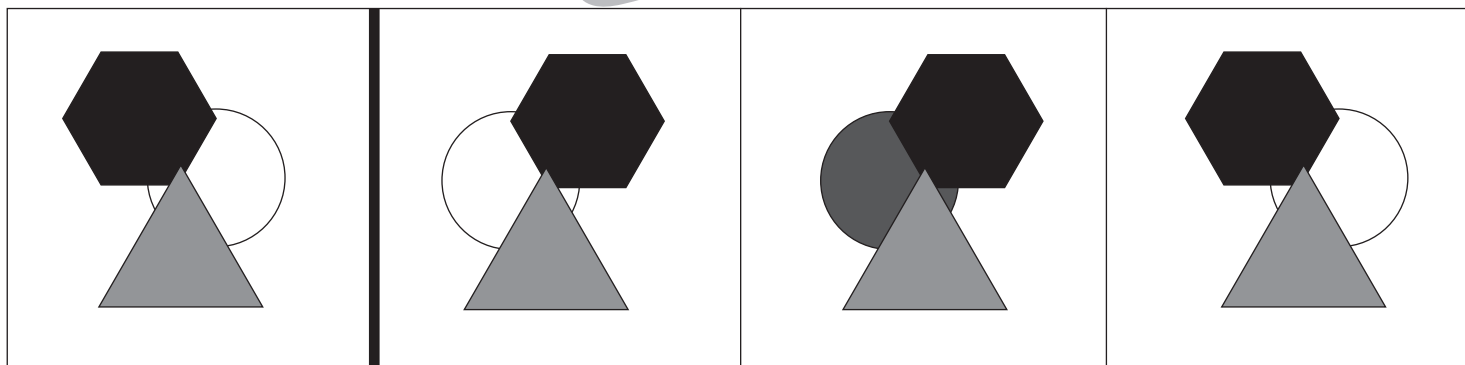
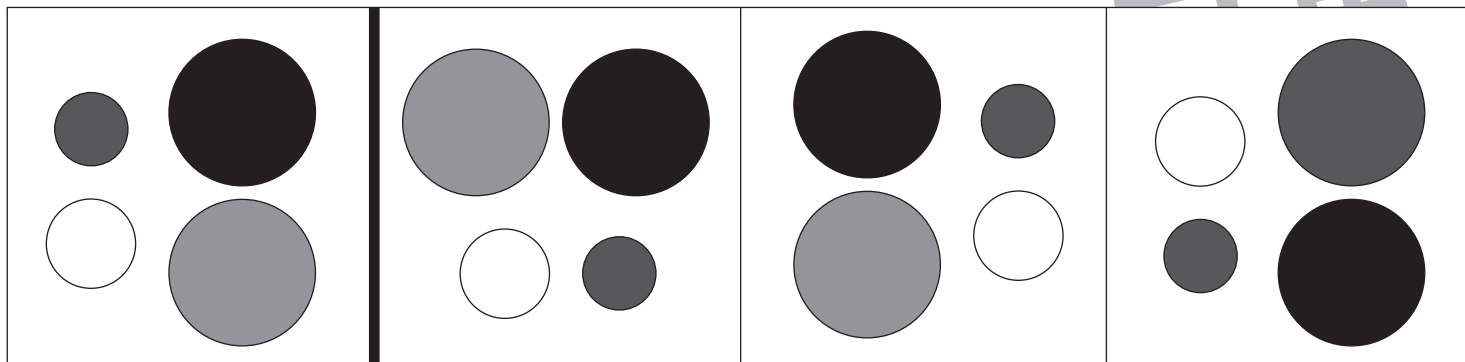


# おうちで、やろう。 年中児版

Study at home. 小学校受験の家庭学習教材

## 図形：鏡5

左の四角の中の絵を太い線の鏡に映すと、右の3つのどの絵になりますか。その絵に○をつけましょう。



※1. このプリントは、しながわ・目黒こどもスクールのウェブサイトでダウンロードができます。無断複写・引用はご遠慮ください。  
 ※2. このプリントを活用したオンライン授業のスケジュールは、しながわ・目黒こどもスクールのウェブサイトでご確認ください。





上下の絵を見比べて、変わっているところを4つ探します。見つけたら、下の絵の変わっている部分に○をつけましょう。

