




# おうちで、やろう。 年中児版

Study at home. 小学校受験の家庭学習教材

## 指示の聞き取り20

- ①～④の話を聞き、正しい場所に印をつけましょう。
- ①イノシシの下のマスに桃色のクーピーで○をかきましょう。
- ②リスの左隣に緑色のクーピーで△をかきましょう。
- ③コアラとネズミの間のマスにオレンジ色のクーピーで□をかきましょう。
- ④ブタの下のマスとサルの上隣のマスに青色のクーピーで×をかきましょう。



※1. このプリントは、しながわ・目黒こどもスクールのウェブサイトでダウンロードができます。無断複写・引用はご遠慮ください。

※2. このプリントを活用したオンライン授業のスケジュールは、しながわ・目黒こどもスクールのウェブサイトでご確認ください。



# おうちで、やろう。 年中児版

Study at home. 小学校受験の家庭学習教材

言語：話の理解 1



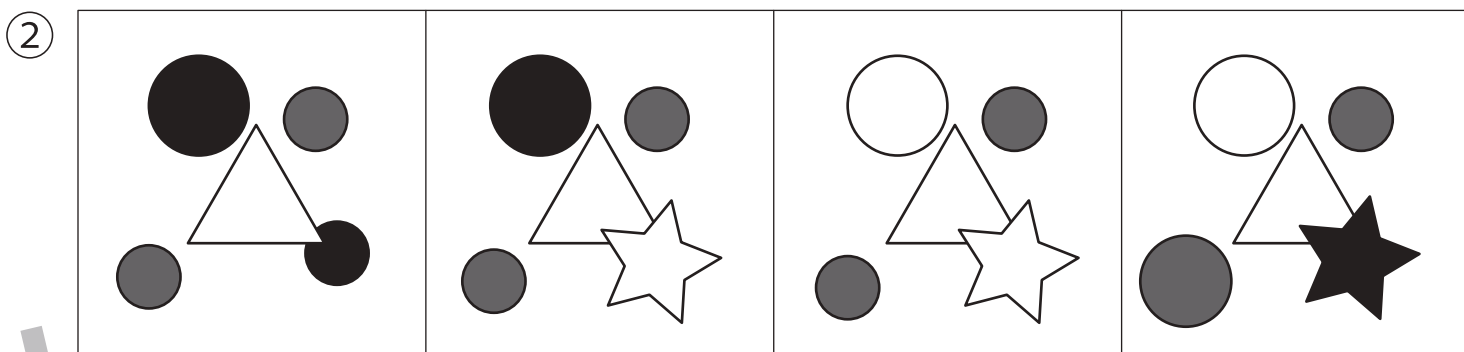

下の①～④のお話を聞いて、それぞれの問題に答えましょう。

①三角のシールを貼っている手紙の絵に○をつけましょう。

②三角形のまわりに灰色の丸が2つと黒色の星がある絵に○をつけましょう。

③丸が6つ重なっている絵に○をつけましょう。

④ハート、丸、三角、四角の形が重なっていて、ハートが一番上にある絵に○をつけましょう。



※1. このプリントは、しながわ・目黒こどもスクールのウェブサイトでダウンロードができます。無断複写・引用はご遠慮ください。

※2. このプリントを活用したオンライン授業のスケジュールは、しながわ・目黒こどもスクールのウェブサイトでご確認ください。






# おうちで、やろう。 年中児版

Study at home. 小学校受験の家庭学習教材

言語：話の理解2

下の①～④のお話を聞いて、それぞれの問題に答えましょう。

- ①「たたく」という言葉に合う絵に○をつけましょう。
- ②鉛筆を持って帽子を被っている人の絵に○をつけましょう。
- ③右に向かって歩いている動物の絵に○をつけましょう。
- ④黒いリボンに一番小さな花飾りがついている帽子の絵に○をつけましょう。



※1. このプリントは、しながわ・目黒こどもスクールのウェブサイトからダウンロードができます。無断複写・引用はご遠慮ください。

※2. このプリントを活用したオンライン授業のスケジュールは、しながわ・目黒こどもスクールのウェブサイトでご確認ください。







# おうちで、やろう。 年中児版

Study at home. 小学校受験の家庭学習教材

図形：鏡3

左の四角の中の絵を鏡に写すと、右の3つのどの絵になりますか。その絵に○をつけましょう。



※1. このプリントは、しながわ・目黒こどもスクールのウェブサイトでダウンロードができます。無断複写・引用はご遠慮ください。  
 ※2. このプリントを活用したオンライン授業のスケジュールは、しながわ・目黒こどもスクールのウェブサイトでご確認ください。

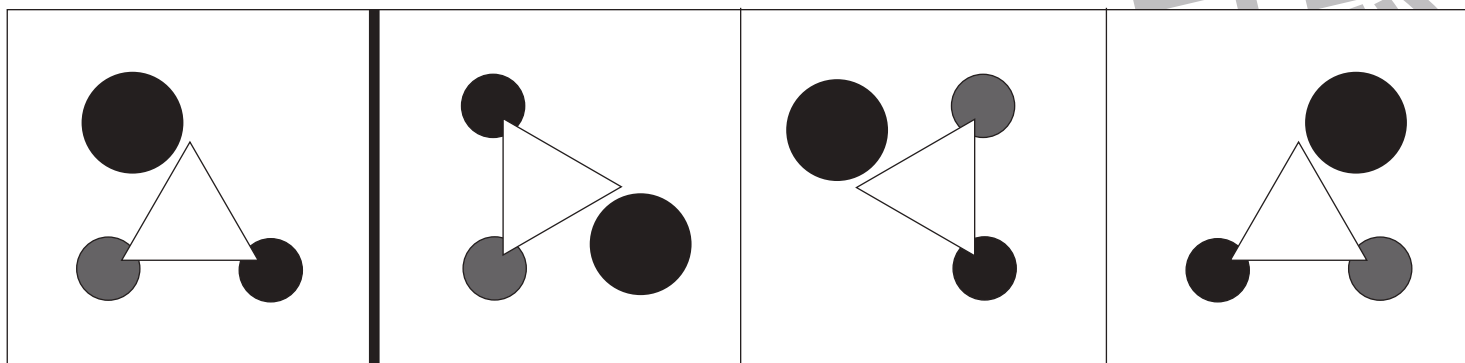

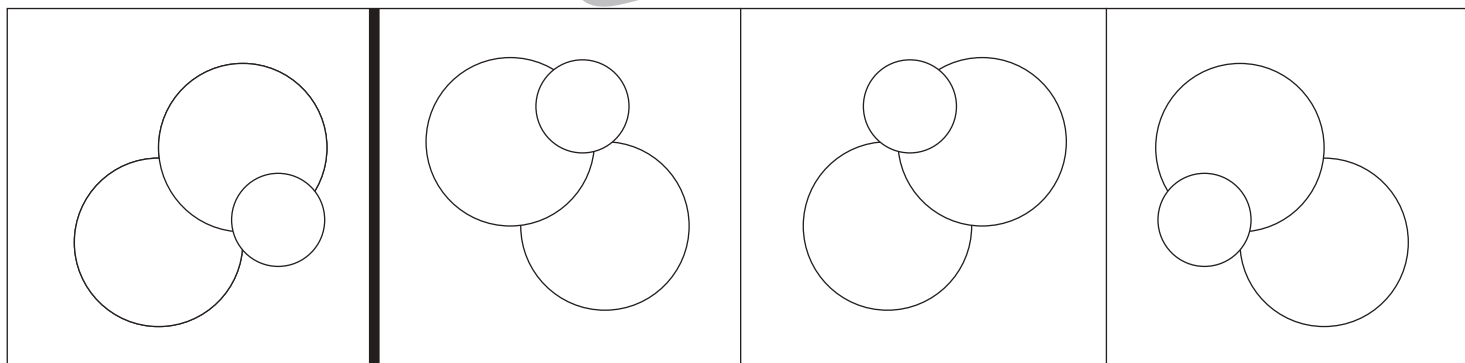
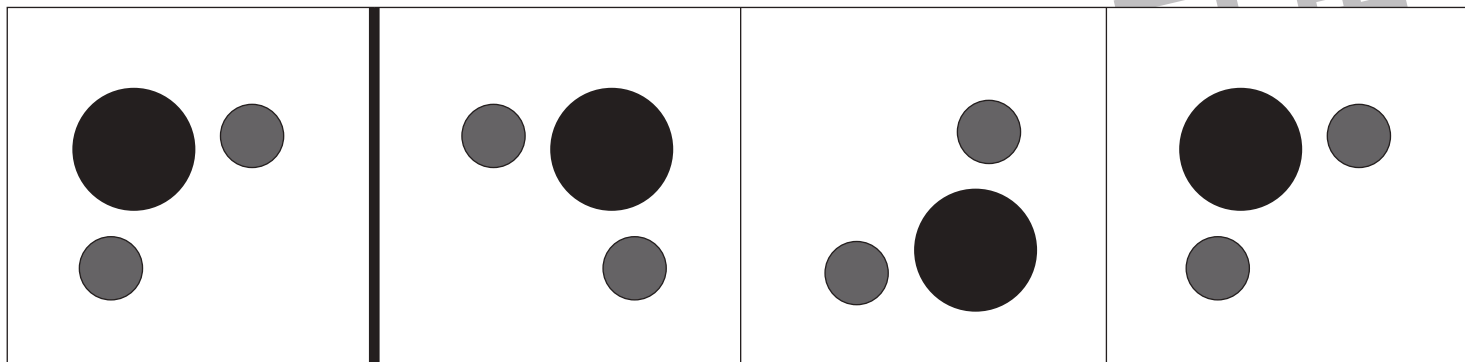


# おうちで、やろう。 年中児版

Study at home. 小学校受験の家庭学習教材

## 図形：鏡4

左の四角の中の絵を鏡に写すと、右の3つのどの絵になりますか。その絵に○をつけましょう。



※1. このプリントは、しながわ・目黒こどもスクールのウェブサイトでダウンロードができます。無断複写・引用はご遠慮ください。  
 ※2. このプリントを活用したオンライン授業のスケジュールは、しながわ・目黒こどもスクールのウェブサイトでご確認ください。


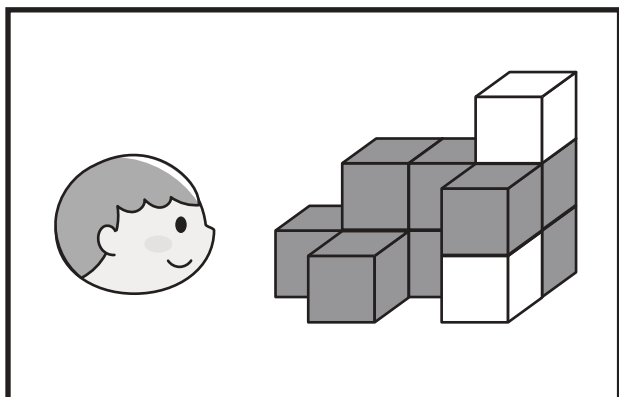







# おうちで、やろう。 年中児版

Study at home. 小学校受験の家庭学習教材

## 推理：四方観察3

左の太い四角の中の積み木がお手本です。このお手本を男の子が左側から見たときの見え方を考えます。  
男の子が見えている灰色の積み木の数だけ右の四角に○をかきましょう。



※1. このプリントは、しながわ・目黒こどもスクールのウェブサイトでダウンロードができます。無断複写・引用はご遠慮ください。  
※2. このプリントを活用したオンライン授業のスケジュールは、しながわ・目黒こどもスクールのウェブサイトでご確認ください。




# おうちで、やろう。 年中児版

Study at home. 小学校受験の家庭学習教材

## 推理：四方観察4

机の上の積み木をにわとり、うさぎ、ぶたが見ています。

にわとり、うさぎ、ぶた、それぞれの場所から積み木を見たとき灰色に見える積み木を考えて、下の四角の中の積み木を塗りましょう。




※1. このプリントは、しながわ・目黒こどもスクールのウェブサイトでダウンロードができます。無断複写・引用はご遠慮ください。

※2. このプリントを活用したオンライン授業のスケジュールは、しながわ・目黒こどもスクールのウェブサイトでご確認ください。




# おうちで、やろう。 年中児版

Study at home. 小学校受験の家庭学習教材

運筆：なぞり1

点線をなぞって、絵を完成させましょう。  
※この問題に解答はありません。



ICT 教育の小学校受験

※1. このプリントは、しながわ・目黒こどもスクールのウェブサイトからダウンロードできます。無断複写・引用はご遠慮ください。  
※2. このプリントを活用したオンライン授業のスケジュールは、しながわ・目黒こどもスクールのウェブサイトでご確認ください。

