



おうちで、やろう。

Study at home. 小学校受験の家庭学習教材

指示の聞き取り 33

このプリントは先生のお話をよく聞いて答える問題になります。

- ①★からスタートして、右に3つ、下に2つ進んでついたマス青色のクーピーで濃く塗ります。
- ②○からスタートして、左に1つ、上に3つ、右に2つ進んでマスを緑のクーピーで濃く塗ります。
- ③◎からスタートして、上に3つ、左に2つ、左斜め下に2つ進んでついたマスをオレンジ色のクーピーで薄く塗ります。
- ④×からスタートして、下に2つ、右斜め下に1つ、左に3つ、下に1つ進んでついたマスを黒のクーピーで薄く塗ります。

			×	
	★			
	○			
				◎

※1. このプリントは、しながわ・目黒こどもスクールのウェブサイトでダウンロードができます。無断複写・引用はご遠慮ください。

※2. このプリントを活用したオンライン授業のスケジュールは、しながわ・目黒こどもスクールのウェブサイトでご確認ください。



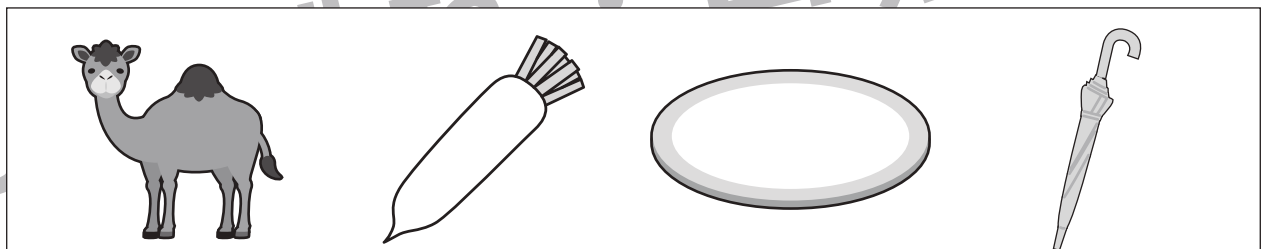
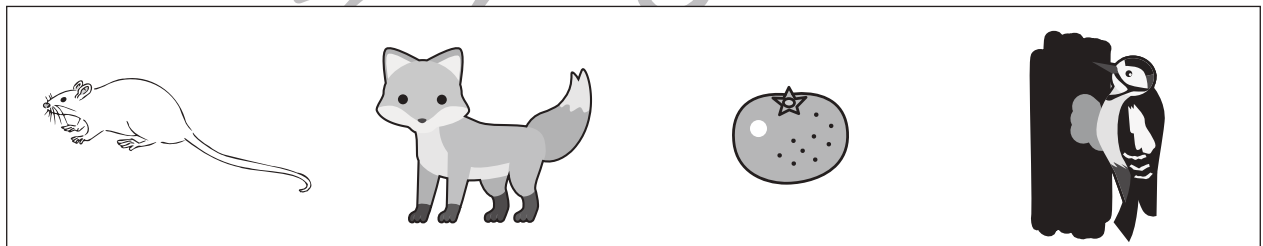
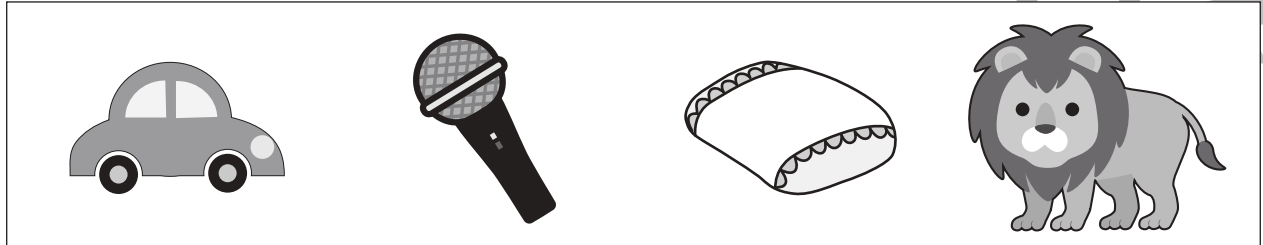


おうちで、やろう。

Study at home. 小学校受験の家庭学習教材

言語：しりとり 23

四角の中の絵をすべて使ってしりとりをします。最後が「ん」で終わるようにつなぐとき、最初になるものはどれですか。その絵に○をつけましょう。



※1. このプリントは、しながわ・目黒こどもスクールのウェブサイトからダウンロードできます。無断複写・引用はご遠慮ください。
※2. このプリントを活用したオンライン授業のスケジュールは、しながわ・目黒こどもスクールのウェブサイトでご確認ください。


















おうちで、やろう。

Study at home. 小学校受験の家庭学習教材

常識：あいさつ1

動物たちがお話をしています。正しいことをお話ししている動物に○をつけましょう。

- ①朝起きて、一番初めにするご挨拶は何でしょう。 ウサギ：おはようございます。 ネコ：こんにちは。 イヌ：こんばんは。
- ②朝ご飯を食べるときにするご挨拶は何でしょう。 ウサギ：おはようございます。 ネコ：いただきます。 イヌ：ごちそうさまでした。
- ③ご飯を食べ終わったときにするご挨拶は何でしょう。 ウサギ：いただきます。 ネコ：ごちそうさまでした。 イヌ：さようなら。
- ④お友達の家遊びに行ったときにするご挨拶は何でしょう。 ウサギ：ごちそうさまでした。 ネコ：さようなら。 イヌ：おじゃまします。
- ⑤夜寝る前にするご挨拶は何でしょう。 ウサギ：おやすみなさい。 ネコ：さようなら。 イヌ：こんばんは。

※1. このプリントは、しながわ・目黒こどもスクールのウェブサイトダウンロードできます。無断複写・引用はご遠慮ください。

※2. このプリントを活用したオンライン授業のスケジュールは、しながわ・目黒こどもスクールのウェブサイトでご確認ください。

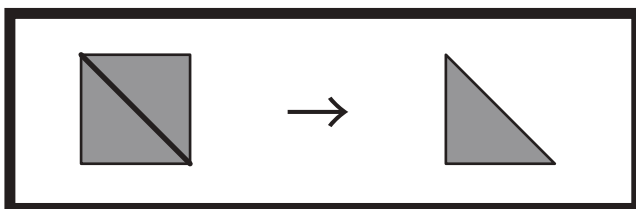


おうちで、やろう。



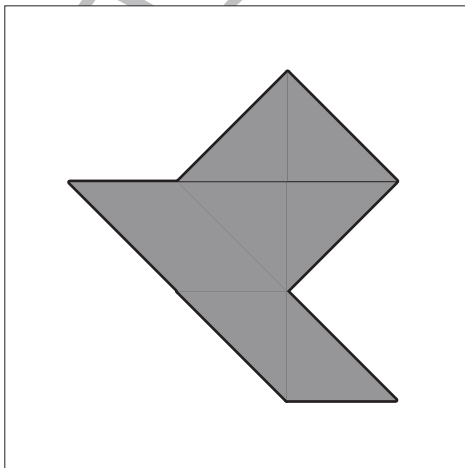

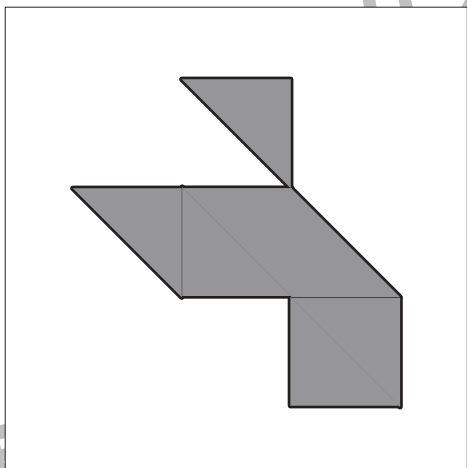
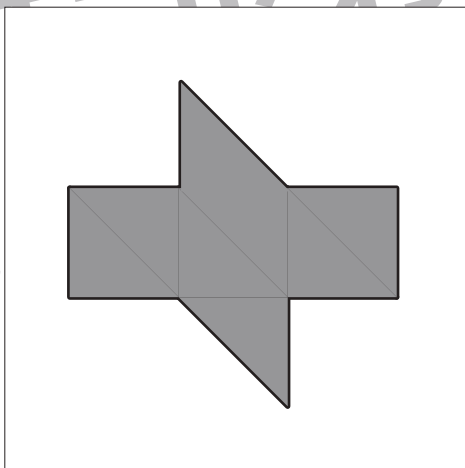
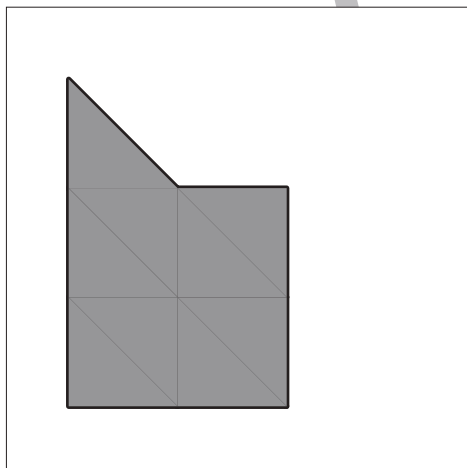
Study at home. 小学校受験の家庭学習教材

図形：三角パズル6

上の太い四角の中の四角を半分にして三角パズルを作りました。この三角パズルを使ってそれぞれの形を作ります。それぞれ形は三角パズルを何枚使えばできるのかを考えて、下の四角の中にその数だけ〇をかきます。



目黒



※1. このプリントは、しながわ・目黒こどもスクールのウェブサイトでダウンロードができます。無断複写・引用はご遠慮ください。
※2. このプリントを活用したオンライン授業のスケジュールは、しながわ・目黒こどもスクールのウェブサイトでご確認ください。






おうちで、やろう。

Study at home. 小学校受験の家庭学習教材


図形：点図形 49

別紙『図形：天図形 49 お手本』を使用します。お手本とまったく同じになるように線をかきます。(この問題に解答はありません。)


①



②



③



※1. このプリントは、しながわ・目黒こどもスクールのウェブサイトでダウンロードができます。無断複写・引用はご遠慮ください。

※2. このプリントを活用したオンライン授業のスケジュールは、しながわ・目黒こどもスクールのウェブサイトでご確認ください。



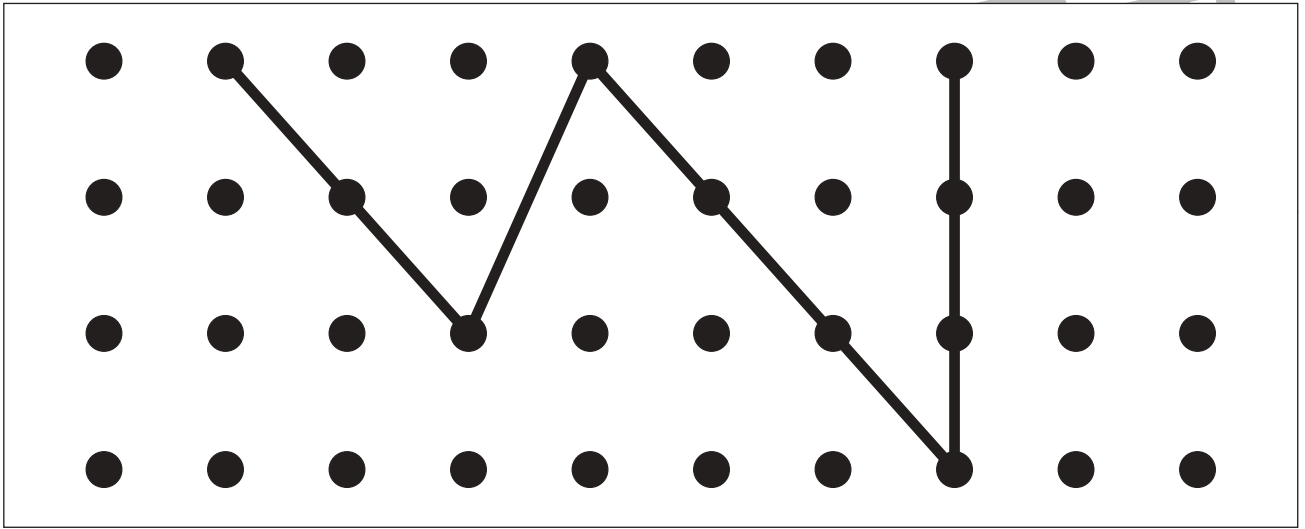
おうちで、やろう。

Study at home. 小学校受験の家庭学習教材

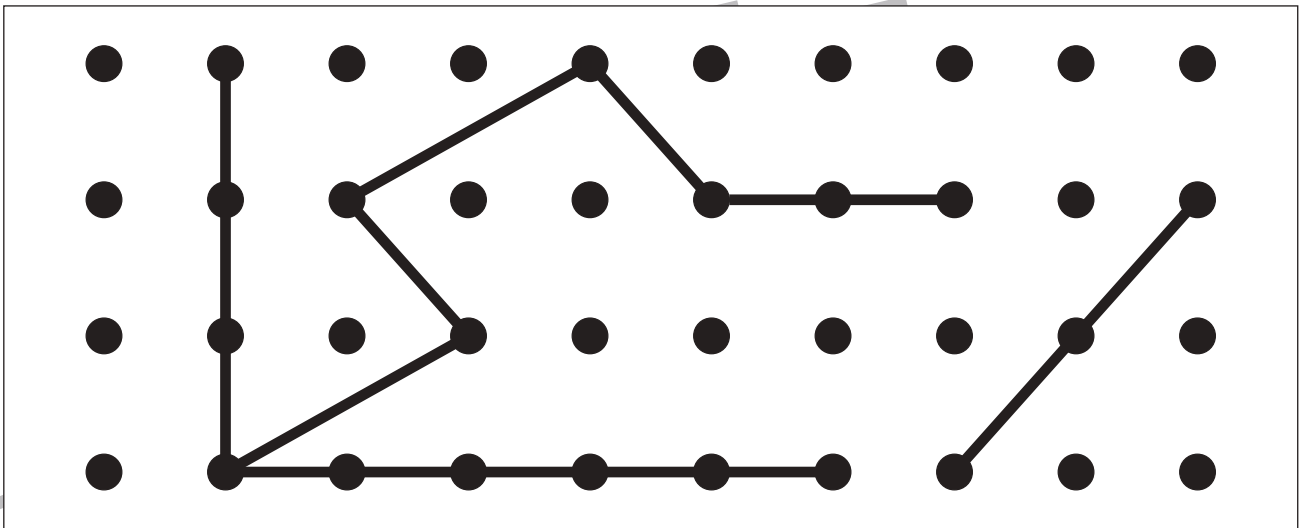
図形：点図形 49 お手本

別紙『別紙図形：点図形 49』を行う際に使用します。お手本を見て、そっくり同じになるようにかきます。
※2023年10月2日(月)のオンライン授業では実施中にお手本を画面で表示します。

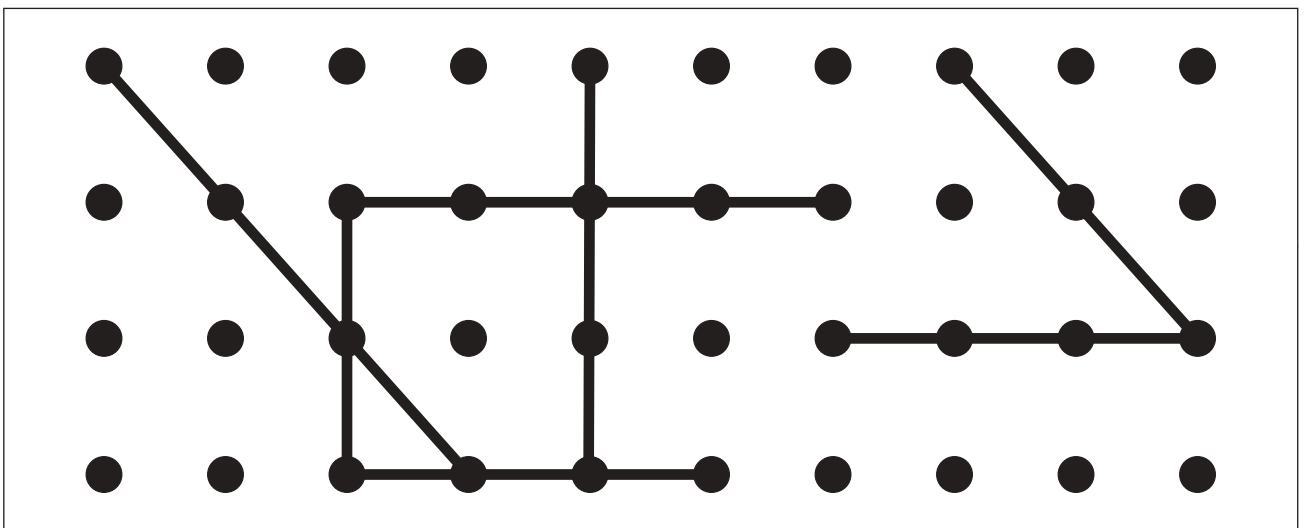
①



②



③



※1. このプリントは、しながわ・目黒こどもスクールのウェブサイトでダウンロードができます。無断複写・引用はご遠慮ください。
※2. このプリントを活用したオンライン授業のスケジュールは、しながわ・目黒こどもスクールのウェブサイトでご確認ください。


















おうちで、やろう。


Study at home. 小学校受験の家庭学習教材











推理：じゃんけん22


上の太い四角が約束です。グーで勝つと1つ、チョキで勝つと2つ、パーで勝つと5つマスを進むことができます。あいこの時は進めません。この約束で★からスタートするとき、キツネがついたマスには○、タヌキがついたマスには△をかきます。













 ○	 ○○	 ○○○○○	  ×
---	--	---	---


					
					

										
--	--	--	--	--	--	--	--	--	--	--

										
---	--	--	--	--	--	--	--	--	--	--

										
---	--	--	--	--	--	--	--	--	--	--

※1. このプリントは、しながわ・目黒こどもスクールのウェブサイトでダウンロードができます。無断複写・引用はご遠慮ください。
※2. このプリントを活用したオンライン授業のスケジュールは、しながわ・目黒こどもスクールのウェブサイトでご確認ください。























おうちで、やろう。

Study at home. 小学校受験の家庭学習教材

















推理：じゃんけん 23

上の太い四角が約束です。グーで勝つと2つ、チョキで勝つと3つ、パーで勝つと4つマスを進むことができます。あいこの時は進めません。この約束で★からスタートするとき、キツネがついたマスには○、タヌキがついたマスには△をかきます。

 ○○	 ○○○	 ○○○○	 ×
--	---	--	---

★										

★										

※1. このプリントは、しながわ・目黒こどもスクールのウェブサイトでダウンロードができます。無断複写・引用はご遠慮ください。
※2. このプリントを活用したオンライン授業のスケジュールは、しながわ・目黒こどもスクールのウェブサイトでご確認ください。



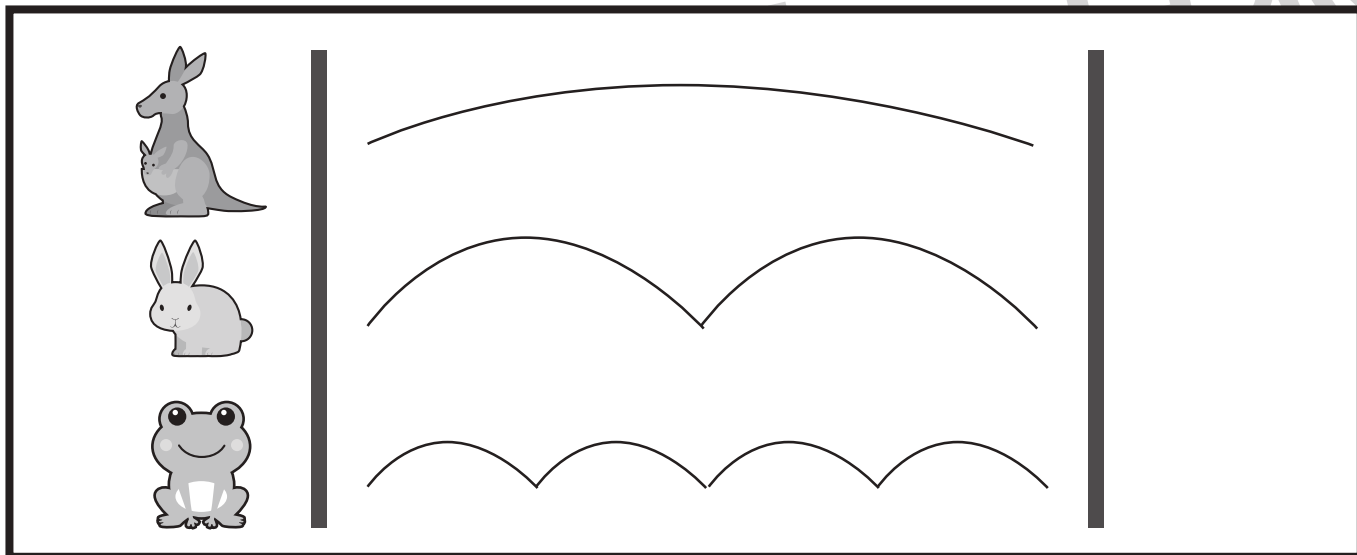
おうちで、やろう。




Study at home. 小学校受験の家庭学習教材




推理：条件推理 41




上の太い四角が約束です。この約束の時、どの動物がどのくらい進めるのか答えます。

- ①カンガルーが左の線からジャンプして絵のところまで進みました。
今カンガルーがいるところまで進むために、ウサギがジャンプする数だけ、ウサギの右の四角に○をかきます。
- ②カンガルーが左の線からジャンプして絵のところまで進みました。
今カンガルーがいるところまで進むためにカエルがジャンプする数だけ、カエルの右の四角に○をかきます。
- ③カエルが左の線からジャンプして絵のところまで進みました。
今カエルがいるところまで進むためにウサギがジャンプする数だけ、ウサギの右の四角に○をかきます。



①   

②   

③   


※1. このプリントは、しながわ・目黒こどもスクールのウェブサイトでダウンロードができます。無断複写・引用はご遠慮ください。
 ※2. このプリントを活用したオンライン授業のスケジュールは、しながわ・目黒こどもスクールのウェブサイトでご確認ください。



おうちで、やろう。

Study at home. 小学校受験の家庭学習教材

上の四角の中の絵の数をかぞえて、下の四角の同じ絵の右にその数より2つ多い数をかきます。
この問題はスピードを意識して取り組む練習をしてみましょう。(1分~1分30秒)



※1. このプリントは、しながわ・目黒こどもスクールのウェブサイトからダウンロードできます。無断複写・引用はご遠慮ください。
※2. このプリントを活用したオンライン授業のスケジュールは、しながわ・目黒こどもスクールのウェブサイトでご確認ください。





おうちで、やろう。

Study at home. 小学校受験の家庭学習教材

絵画：条件画7

「か」で始まるものの絵をできるだけたくさんかきます。紙の向きは縦・横自由です。



※1. このプリントは、しながわ・目黒こどもスクールのウェブサイトダウンロードができます。無断複写・引用はご遠慮ください。
※2. このプリントを活用したオンライン授業のスケジュールは、しながわ・目黒こどもスクールのウェブサイトでご確認ください。