



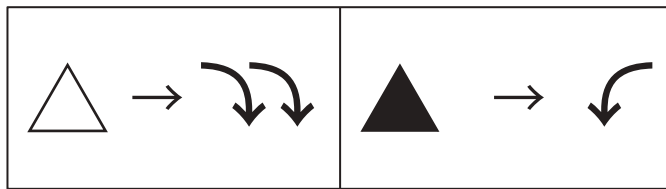
おうちで、よろう。

Study at home. 小学校受験の家庭学習教材

図形：回転 66

上の四角が約束です。△は右に2回、▲は左に1回倒します。

上の四角を△と▲の数だけ倒したときの見え方を考えて下の中から選び、点と点を線で結びます。



Puzzle 1: A square with a diagonal line from top-left to bottom-right. In the top-right triangle, there is a white circle. In the bottom-left triangle, there is a black square. To the right of the square are two white triangles and two black triangles. A black dot is positioned below the square. Below the square are three options for the square after rotations, each with a black dot above it. Option 1: Circle in top-left, square in top-right. Option 2: Square in top-left, circle in bottom-right. Option 3: Circle in bottom-left, diamond in top-right.

Puzzle 2: A square with a diagonal line from top-left to bottom-right. In the top-right triangle, there is a white triangle. In the bottom-left triangle, there is a black triangle. To the right of the square are two white triangles and one black triangle. A black dot is positioned below the square. Below the square are three options for the square after rotations, each with a black dot above it. Option 1: White triangle in top-left, black triangle in bottom-right. Option 2: White triangle in top-right, black triangle in bottom-left. Option 3: White triangle in top-right, black triangle in top-left.

※1. このプリントは、しながわ・目黒こどもスクールのウェブサイトでダウンロードができます。無断複写・引用はご遠慮ください。
 ※2. このプリントを活用したオンライン授業のスケジュールは、しながわ・目黒こどもスクールのウェブサイトでご確認ください。



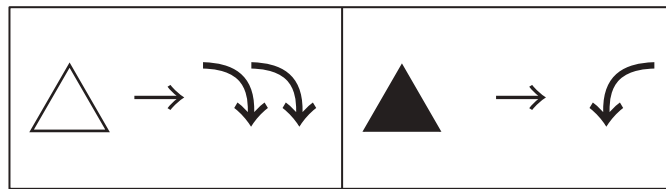
おうちで、やろう。

Study at home. 小学校受験の家庭学習教材

図形：回転 67

上の四角が約束です。△は右に2回、▲は左に1回倒します。

上の四角を△と▲の数だけ倒したときの見え方を考えて下の中から選び、点と点を線で結びます。



Initial state: A square with a dot at the top center. The square is divided into four triangles by two diagonals. The top-left and bottom-right triangles are shaded gray.

Available pieces: 2 white triangles (△), 4 black triangles (▲).

Options:

- Option 1: Square with a dot at the top center. The top-right and bottom-left triangles are shaded gray.
- Option 2: Square with a dot at the top center. The top-left and bottom-right triangles are shaded gray.
- Option 3: Square with a dot at the top center. The top-right and bottom-left triangles are shaded gray.

Initial state: A square with a dot at the top center. The square is divided into four triangles by two diagonals. The top-left and bottom-right triangles are shaded gray.

Available pieces: 3 white triangles (△), 4 black triangles (▲).

Options:

- Option 1: Square with a dot at the top center. The top-right and bottom-left triangles are shaded gray.
- Option 2: Square with a dot at the top center. The top-left and bottom-right triangles are shaded gray.
- Option 3: Square with a dot at the top center. The top-right and bottom-left triangles are shaded gray.

※1. このプリントは、しながわ・目黒こどもスクールのウェブサイトでダウンロードができます。無断複写・引用はご遠慮ください。

※2. このプリントを活用したオンライン授業のスケジュールは、しながわ・目黒こどもスクールのウェブサイトでご確認ください。



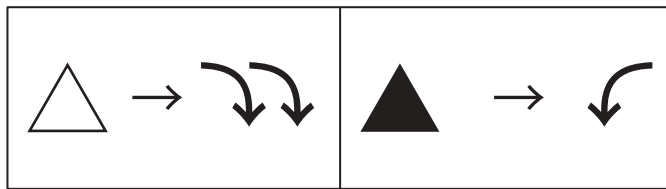
おうちで、やろう。

Study at home. 小学校受験の家庭学習教材

図形：回転 68

上の四角が約束です。△は右に2回、▲は左に1回倒します。

上の四角を△と▲の数だけ倒したときの見え方を考えて下の中から選び、点と点を線で結びます。



○		●
	○	●
●		

●

		●
○	○	
●		○

●		○
	○	
	●	●

		●
●	○	
●		○

○	●	
	○	○
●		●

●

●		○
	○	●
●	○	

○	●	
	○	○
●		●

	○	●
●	○	
○		●

※1. このプリントは、しながわ・目黒こどもスクールのウェブサイトでダウンロードができます。無断複写・引用はご遠慮ください。
 ※2. このプリントを活用したオンライン授業のスケジュールは、しながわ・目黒こどもスクールのウェブサイトでご確認ください。

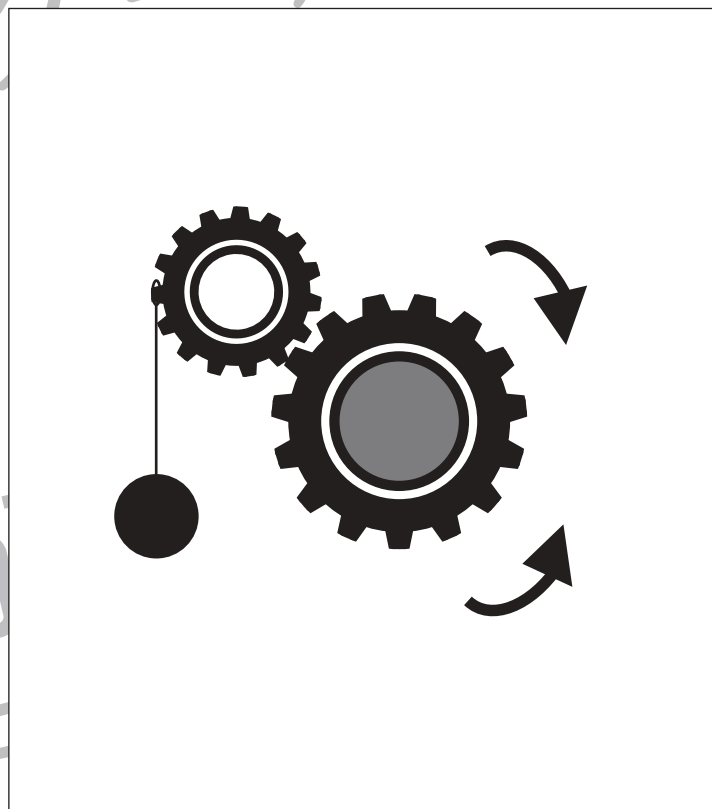

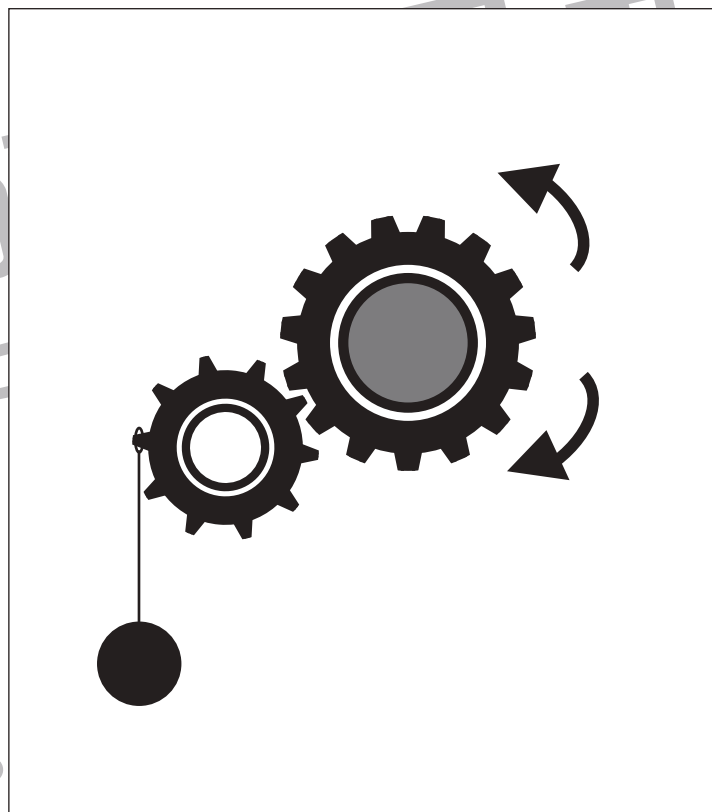



おうちで、やろう。

Study at home. 小学校受験の家庭学習教材

推理：歯車 9

歯車に重りをつるしました。このとき矢印のついている灰色の歯車は左右どちらに回りますか。回る方向の矢印に○をつけます。



※1. このプリントは、しながわ・目黒こどもスクールのウェブサイトでダウンロードができます。無断複写・引用はご遠慮ください。
※2. このプリントを活用したオンライン授業のスケジュールは、しながわ・目黒こどもスクールのウェブサイトでご確認ください。



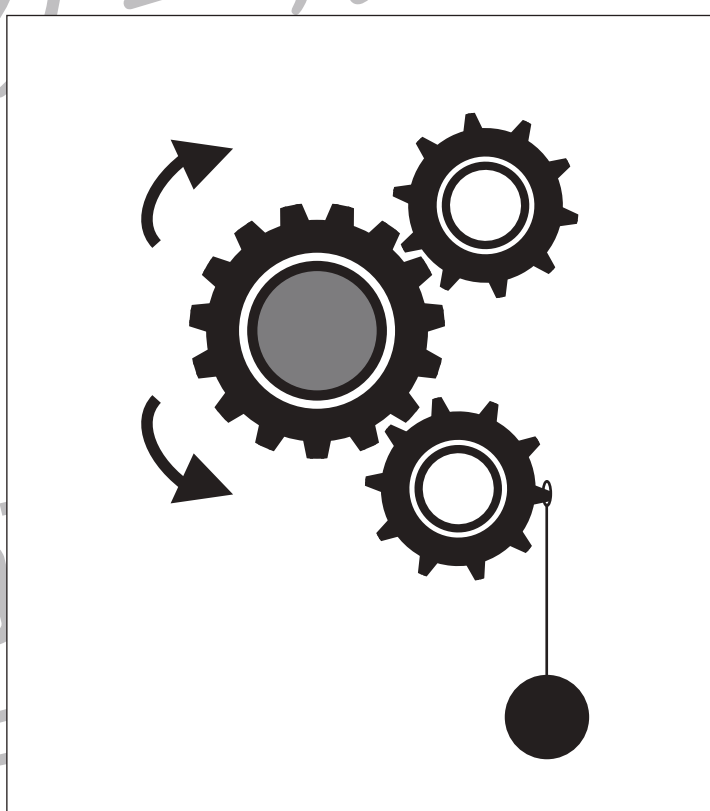





おうちで、やろう。

Study at home. 小学校受験の家庭学習教材

推理：歯車 10

歯車に重りをつるしました。このとき矢印のついている灰色の歯車は左右どちらに回りますか。回る方向の矢印に○をつけます。



※1. このプリントは、しながわ・目黒こどもスクールのウェブサイトでダウンロードができます。無断複写・引用はご遠慮ください。
※2. このプリントを活用したオンライン授業のスケジュールは、しながわ・目黒こどもスクールのウェブサイトでご確認ください。







おうちで、やろう。

Study at home. 小学校受験の家庭学習教材

推理：歯車 11

歯車に重りをつるしました。このとき矢印のついている灰色の歯車は左右どちらに回りますか。回る方向の矢印に○をつけます。



※1. このプリントは、しながわ・目黒こどもスクールのウェブサイトでダウンロードができます。無断複写・引用はご遠慮ください。
※2. このプリントを活用したオンライン授業のスケジュールは、しながわ・目黒こどもスクールのウェブサイトでご確認ください。








おうちで、やろう。

Study at home. 小学校受験の家庭学習教材

推理：水量 19

それぞれの四角の中のコップには水が入っています。

それぞれのコップの水を満タンにしたとき、入れた水の量が2番目に多いコップに○をつけます。



※1. このプリントは、しながわ・目黒こどもスクールのウェブサイトでダウンロードができます。無断複写・引用はご遠慮ください。

※2. このプリントを活用したオンライン授業のスケジュールは、しながわ・目黒こどもスクールのウェブサイトでご確認ください。








おうちで、やろう。

Study at home. 小学校受験の家庭学習教材

推理：水量 20

それぞれの四角の中のコップには水が入っています。

それぞれのコップの水を満タンにしたとき、入れた水の量が2番目に少ないコップに○をつけます。



※1. このプリントは、しながわ・目黒こどもスクールのウェブサイトでダウンロードができます。無断複写・引用はご遠慮ください。

※2. このプリントを活用したオンライン授業のスケジュールは、しながわ・目黒こどもスクールのウェブサイトでご確認ください。






おうちで、やろう。

Study at home. 小学校受験の家庭学習教材

処理：計数 16

上の四角の中の絵の数をかぞえて、その数だけ下の同じ絵の右に○をかきます。
この問題はスピードを意識して取り組む練習をしてみましょう。(1分～1分30秒)



※1. このプリントは、しながわ・目黒こどもスクールのウェブサイトからダウンロードできます。無断複写・引用はご遠慮ください。
※2. このプリントを活用したオンライン授業のスケジュールは、しながわ・目黒こどもスクールのウェブサイトでご確認ください。





おうちで、やろう。

Study at home. 小学校受験の家庭学習教材

処理：計数 17

上の四角の中の絵の数をかぞえて、その数だけ下の同じ絵の右に○をかきます。
この問題はスピードを意識して取り組む練習をしてみましょう。(1分～1分30秒)



※1. このプリントは、しながわ・目黒こどもスクールのウェブサイトからダウンロードできます。無断複写・引用はご遠慮ください。
※2. このプリントを活用したオンライン授業のスケジュールは、しながわ・目黒こどもスクールのウェブサイトでご確認ください。