



# おうちで、やろう。

Study at home. 小学校受験の家庭学習教材





## 記憶：絵の記憶 14 記憶用紙

別紙『記憶 - 絵の記憶 14』を行う際に使用します。記憶用紙は点線で折って(切って)、①、②、③の問題の際にそれぞれ 20 秒間ずつ記憶させてください。記憶する際は問題用紙は裏返しにします。記憶後①、②、③それぞれの問題に答えましょう。






① 1 番右の真ん中の果物に○をつけます。 ② 右から3番目の上から 2 番目の野菜に○をつけます。 ③ 1 番下の段の左から 2 番目のお寿司に○をつけます。

※2023 年 10 月 7 日(月)のオンライン授業では実施中に記憶するものを画面で表示します。








①

②

③

※ 1. このプリントは、しながわ・目黒こどもスクールのウェブサイトからダウンロードできます。無断複写・引用はご遠慮ください。

※ 2. このプリントを活用したオンライン授業のスケジュールは、しながわ・目黒こどもスクールのウェブサイトでご確認ください。



# おうちで、やろう。

Study at home. 小学校受験の家庭学習教材

## 記憶：絵の記憶 14


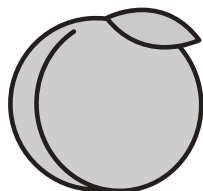

別紙『記憶 - 絵の記憶 14 記憶用紙』を使用します。記憶用紙の形を見た後に①、②、③の問題に取り組みましょう。

① 1 番右の列の真ん中の果物に○をつけます。



② 右から3 番目の上から 2 番目の野菜に○をつけます。

③ 1 番下の段の左から 2 番目のお寿司に○をつけます。


①



②



③



※ 1. このプリントは、しながわ・目黒こどもスクールのウェブサイトでダウンロードができます。無断複写・引用はご遠慮ください。

※ 2. このプリントを活用したオンライン授業のスケジュールは、しながわ・目黒こどもスクールのウェブサイトでご確認ください。



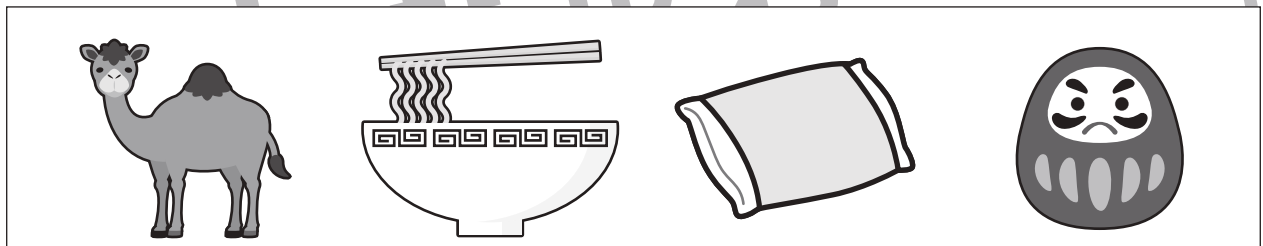





# おうちで、やろう。

Study at home. 小学校受験の家庭学習教材

言語：しりとり24

四角の中の絵をすべて使ってしりとりをします。最後が「ん」で終わるようにつなぐとき、最後から二番目になるものはどれですか。その絵に○をつけましょう。



※1. このプリントは、しながわ・目黒こどもスクールのウェブサイトでダウンロードができます。無断複写・引用はご遠慮ください。  
※2. このプリントを活用したオンライン授業のスケジュールは、しながわ・目黒こどもスクールのウェブサイトでご確認ください。





# おうちで、やろう。


Study at home. 小学校受験の家庭学習教材

推理：条件推理 42

下のルールにしたがって同じ絵を鉛筆でつなげましょう。

## ルール

- ①同じ動物どうしを、線でつなげます。
- ②白い線の間しか線を結ぶことができません。
- ③線は、交わってははいけません。(※1)
- ④全てのマス目に線が通ります。
- ⑤動物のいるマス目は通り抜けることができません。



※1. このプリントは、しながわ・目黒こどもスクールのウェブサイトでダウンロードができます。無断複写・引用はご遠慮ください。  
 ※2. このプリントを活用したオンライン授業のスケジュールは、しながわ・目黒こどもスクールのウェブサイトでご確認ください。



# おうちで、やろう。


Study at home. 小学校受験の家庭学習教材

推理：条件推理 43

下のルールにしたがって同じ絵を鉛筆でつなげましょう。

## ルール

- ①同じ動物どうしを、線でつなげます。
- ②白い線の間しか線を結ぶことができません。
- ③線は、交わってはいけません。(※1)
- ④全てのマス目に線が通ります。
- ⑤動物のいるマス目は通り抜けることができません。



※1. このプリントは、しながわ・目黒こどもスクールのウェブサイトでダウンロードができます。無断複写・引用はご遠慮ください。  
 ※2. このプリントを活用したオンライン授業のスケジュールは、しながわ・目黒こどもスクールのウェブサイトでご確認ください。



# おうちで、やろう。

Study at home. 小学校受験の家庭学習教材

## 数量：足りない数4

左の太い四角の中が一人分のセットです。右の四角の中の絵を一人分のセットにしたとき、足りない数だけ○をかきます。


※1. このプリントは、しながわ・目黒こどもスクールのウェブサイトからダウンロードできます。無断複写・引用はご遠慮ください。

※2. このプリントを活用したオンライン授業のスケジュールは、しながわ・目黒こどもスクールのウェブサイトでご確認ください。



# おうちで、やろう。

Study at home. 小学校受験の家庭学習教材

## 数量：足りない数5

左の太い四角の中が一人分のセットです。右の四角の中の絵を一人分のセットにしたとき、足りない数だけ○をかきます。

--	--	--

--	--	--



※1. このプリントは、しながわ・目黒こどもスクールのウェブサイトからダウンロードできます。無断複写・引用はご遠慮ください。  
 ※2. このプリントを活用したオンライン授業のスケジュールは、しながわ・目黒こどもスクールのウェブサイトでご確認ください。



# おうちで、やろう。

Study at home. 小学校受験の家庭学習教材

数量：分割 24

下の四角の中の果物を四角の上の人数で同じ数ずつ分けるとき、分けられるものを見つけて○をつけます。







※1. このプリントは、しながわ・目黒こどもスクールのウェブサイトでダウンロードができます。無断複写・引用はご遠慮ください。  
 ※2. このプリントを活用したオンライン授業のスケジュールは、しながわ・目黒こどもスクールのウェブサイトでご確認ください。





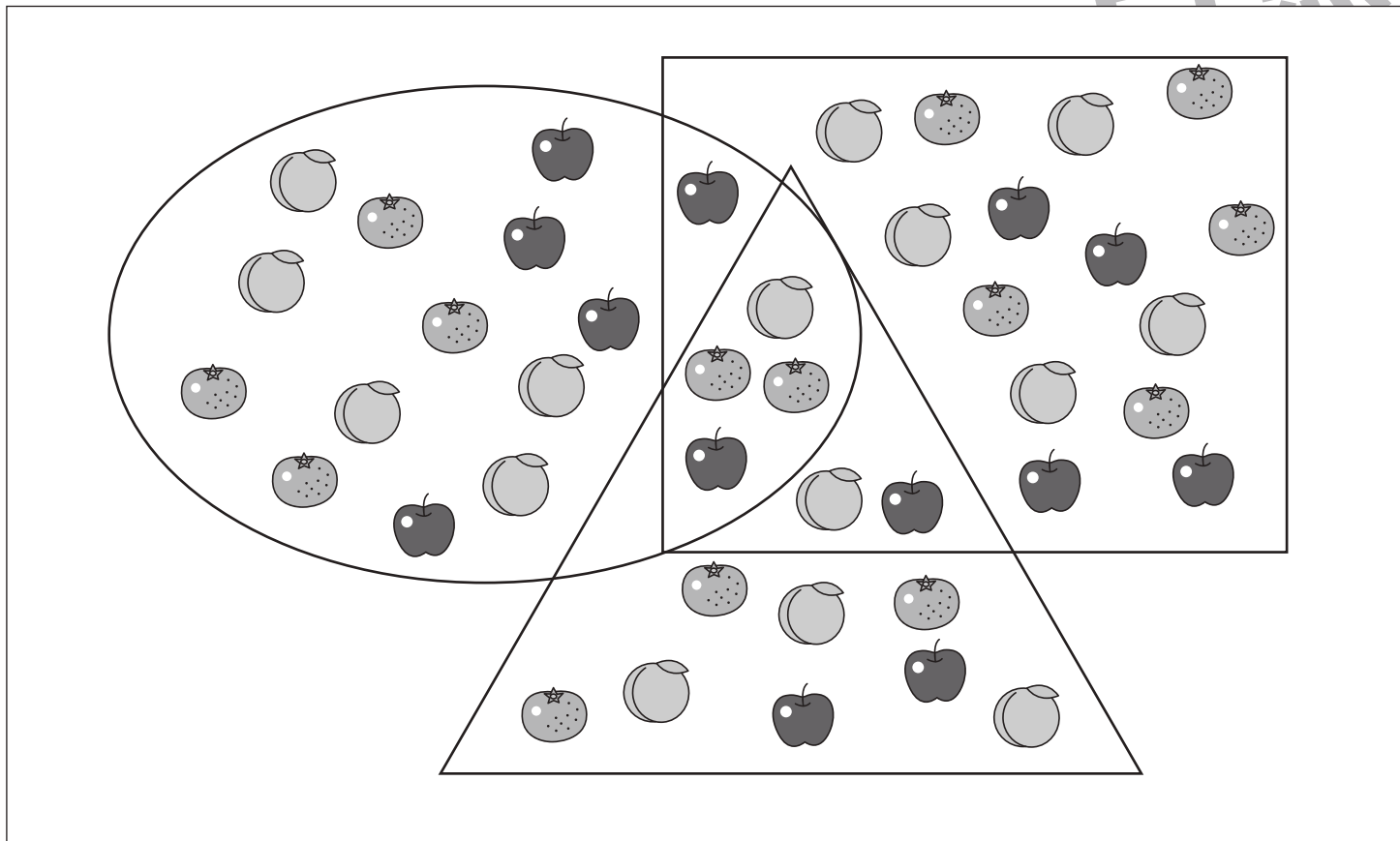
# おうちで、やろう。

Study at home. 小学校受験の家庭学習教材

数量：計数 56

- ①○の中にあるミカンの数だけ○をかきます。
- ②□の中にあるモモの数だけ○をかきます。
- ③□と○が重なっているところにあるリンゴの数だけ○をかきます。
- ④○と△が重なっているところにあるモモの数だけ○をかきます。
- ⑤3つの形が重なっているところにある果物の数だけ○をかきます。

目黒



①
②
③
④
⑤

※1. このプリントは、しながわ・目黒こどもスクールのウェブサイトでダウンロードができます。無断複写・引用はご遠慮ください。  
 ※2. このプリントを活用したオンライン授業のスケジュールは、しながわ・目黒こどもスクールのウェブサイトでご確認ください。




# おうちで、やろう。

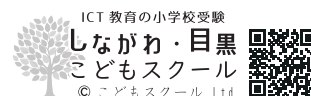
Study at home. 小学校受験の家庭学習教材

処理：運筆 19

壁にぶつからないように●から○まで一本の線をかきます。  
この問題はスピードを意識して取り組む練習をしてみましょう。(1分)  
※クーピー、鉛筆、水性ペンの好きなものを使ってやりましょう。  
※この問題に解答はありません。



※1. このプリントは、しながわ・目黒こどもスクールのウェブサイトでダウンロードができます。無断複写・引用はご遠慮ください。  
※2. このプリントを活用したオンライン授業のスケジュールは、しながわ・目黒こどもスクールのウェブサイトでご確認ください。





# おうちで、やろう。

Study at home. 小学校受験の家庭学習教材

運筆：塗り1

- ①サルの顔の周りの部分を茶色のクーピーで塗ります。
  - ②サルの顔の真ん中の部分をパールオレンジのクーピーで塗ります。
  - ③サルの耳を桃色のクーピーで塗ります。
  - ④キツネの顔を黄色のクーピーで塗ります。
  - ⑤キツネの耳の先を茶色のクーピーで塗ります。
  - ⑥キツネの耳のギザギザの部分を桃色のクーピーで塗ります。
  - ⑦サルとキツネの顔を黒のクーピーでかきます。
- ※塗るときは線からはみ出ないようにしましょう。

