



おうちで、やろう。

Study at home. 小学校受験の家庭学習教材

記憶：絵の記憶 14


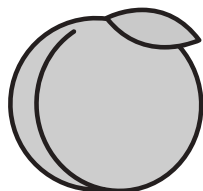

別紙『記憶 - 絵の記憶 14 記憶用紙』を使用します。記憶用紙の形を見た後に①、②、③の問題に取り組みましょう。

① 1番右の列の真ん中の果物に○をつけます。



② 右から3番目の上から2番目の野菜に○をつけます。

③ 1番下の段の左から2番目のお寿司に○をつけます。


①



②



③



※1. このプリントは、しながわ・目黒こどもスクールのウェブサイトでダウンロードができます。無断複写・引用はご遠慮ください。

※2. このプリントを活用したオンライン授業のスケジュールは、しながわ・目黒こどもスクールのウェブサイトでご確認ください。



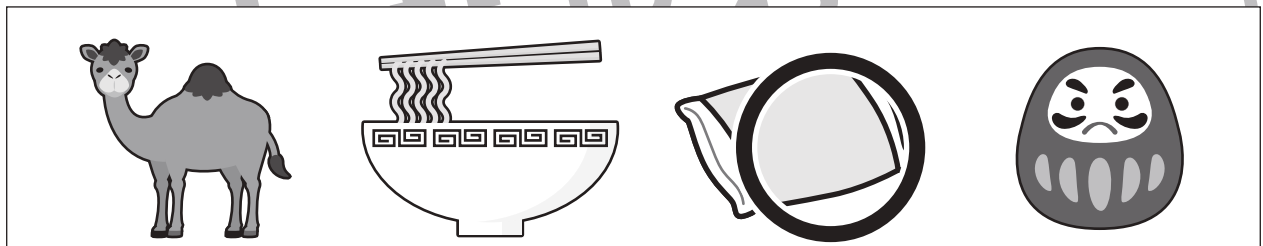





おうちで、やろう。

Study at home. 小学校受験の家庭学習教材

言語：しりとり24

四角の中の絵をすべて使ってしりとりをします。最後が「ん」で終わるようにつなぐとき、最後から二番目になるものはどれですか。その絵に○をつけましょう。



※1. このプリントは、しながわ・目黒こどもスクールのウェブサイトでダウンロードができます。無断複写・引用はご遠慮ください。
※2. このプリントを活用したオンライン授業のスケジュールは、しながわ・目黒こどもスクールのウェブサイトでご確認ください。





おうちで、やろう。

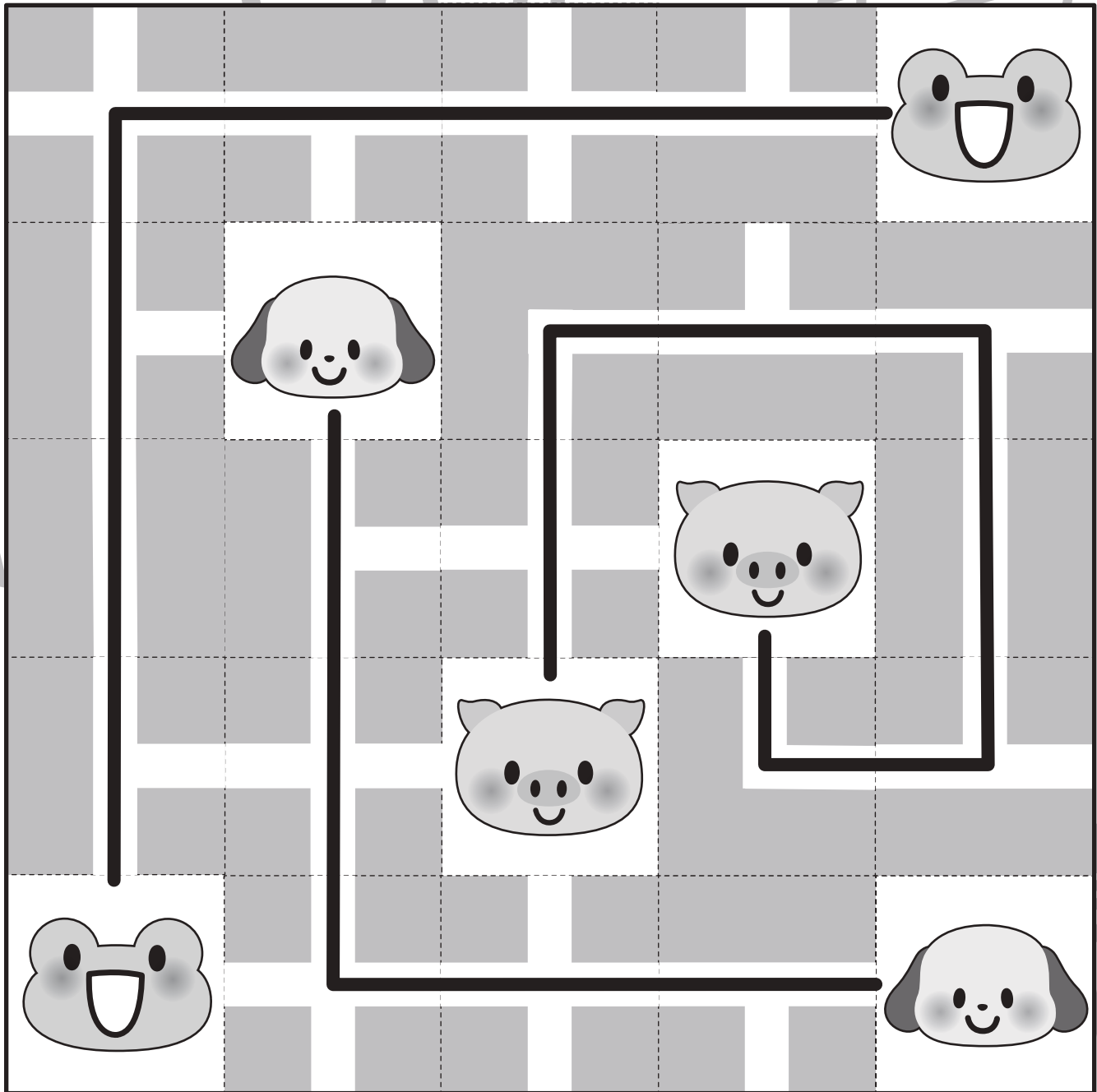
Study at home. 小学校受験の家庭学習教材

推理：条件推理 42

下のルールにしたがって同じ絵を鉛筆でつなげましょう。

ルール

- ①同じ動物どうしを、線でつなげます。
- ②白い線の間しか線を結ぶことができません。
- ③線は、交わってははいけません。(※1)
- ④全てのマス目に線が通ります。
- ⑤動物のいるマス目は通り抜けることができません。



※1. このプリントは、しながわ・目黒こどもスクールのウェブサイトでダウンロードができます。無断複写・引用はご遠慮ください。
 ※2. このプリントを活用したオンライン授業のスケジュールは、しながわ・目黒こどもスクールのウェブサイトでご確認ください。



おうちで、やろう。


Study at home. 小学校受験の家庭学習教材

推理：条件推理 43

下のルールにしたがって同じ絵を鉛筆でつなげましょう。

ルール

- ①同じ動物どうしを、線でつなげます。
- ②白い線の間しか線を結ぶことができません。
- ③線は、交わってはいけません。(※1)
- ④全てのマス目に線が通ります。
- ⑤動物のいるマス目は通り抜けることができません。



※1. このプリントは、しながわ・目黒こどもスクールのウェブサイトでダウンロードができます。無断複写・引用はご遠慮ください。
 ※2. このプリントを活用したオンライン授業のスケジュールは、しながわ・目黒こどもスクールのウェブサイトでご確認ください。



おうちで、やろう。

Study at home. 小学校受験の家庭学習教材

数量：足りない数4

左の太い四角の中が一人分のセットです。右の四角の中の絵を一人分のセットにしたとき、足りない数だけ○をかきます。

		 $\bigcirc \times 5$
--	--	-------------------------

		 $\bigcirc \times 1$
--	--	-------------------------

		 $\bigcirc \times 4$
		 $\bigcirc \times 4$

		 $\bigcirc \times 5$
		 $\bigcirc \times 2$

※1. このプリントは、しながわ・目黒こどもスクールのウェブサイトでダウンロードができます。無断複写・引用はご遠慮ください。
 ※2. このプリントを活用したオンライン授業のスケジュールは、しながわ・目黒こどもスクールのウェブサイトでご確認ください。

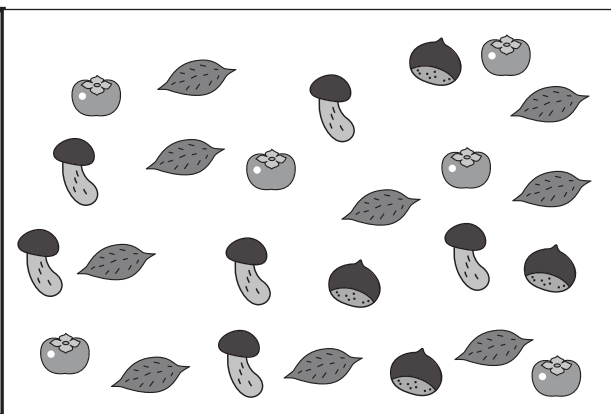

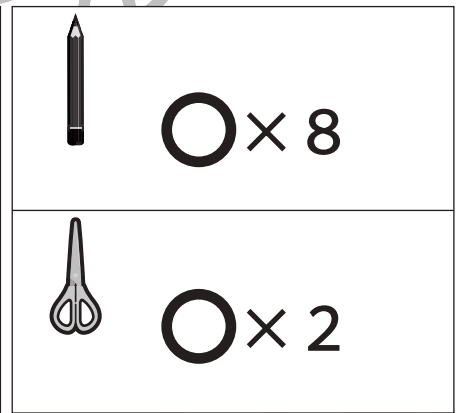
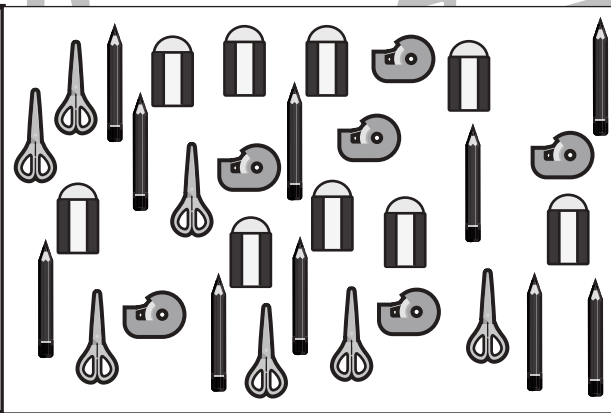
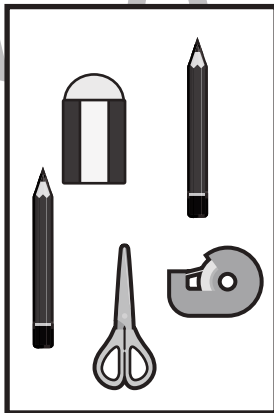

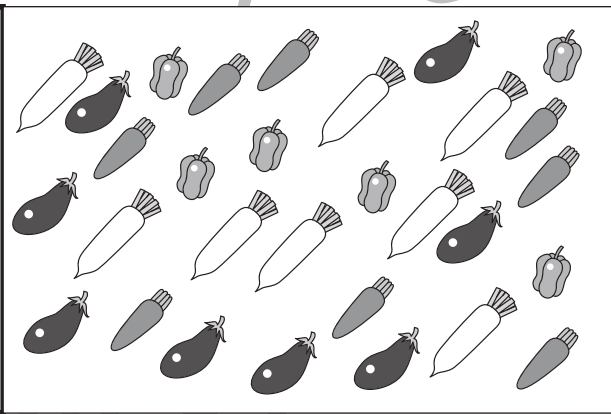
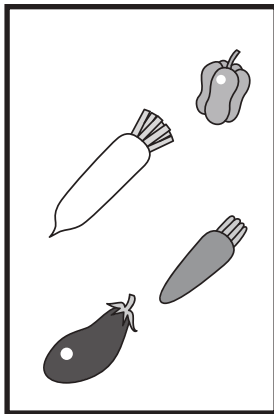





おうちで、やろう。

Study at home. 小学校受験の家庭学習教材

数量：足りない数5

左の太い四角の中が一人分のセットです。右の四角の中の絵を一人分のセットにしたとき、足りない数だけ○をかきます。



※1. このプリントは、しながわ・目黒こどもスクールのウェブサイトでダウンロードができます。無断複写・引用はご遠慮ください。
※2. このプリントを活用したオンライン授業のスケジュールは、しながわ・目黒こどもスクールのウェブサイトでご確認ください。





おうちで、やろう。

Study at home. 小学校受験の家庭学習教材

数量：分割 24

下の四角の中の果物を四角の上の人数で同じ数ずつ分けるとき、分けられるものを見つけて○をつけます。





※1. このプリントは、しながわ・目黒こどもスクールのウェブサイトでダウンロードができます。無断複写・引用はご遠慮ください。
※2. このプリントを活用したオンライン授業のスケジュールは、しながわ・目黒こどもスクールのウェブサイトでご確認ください。



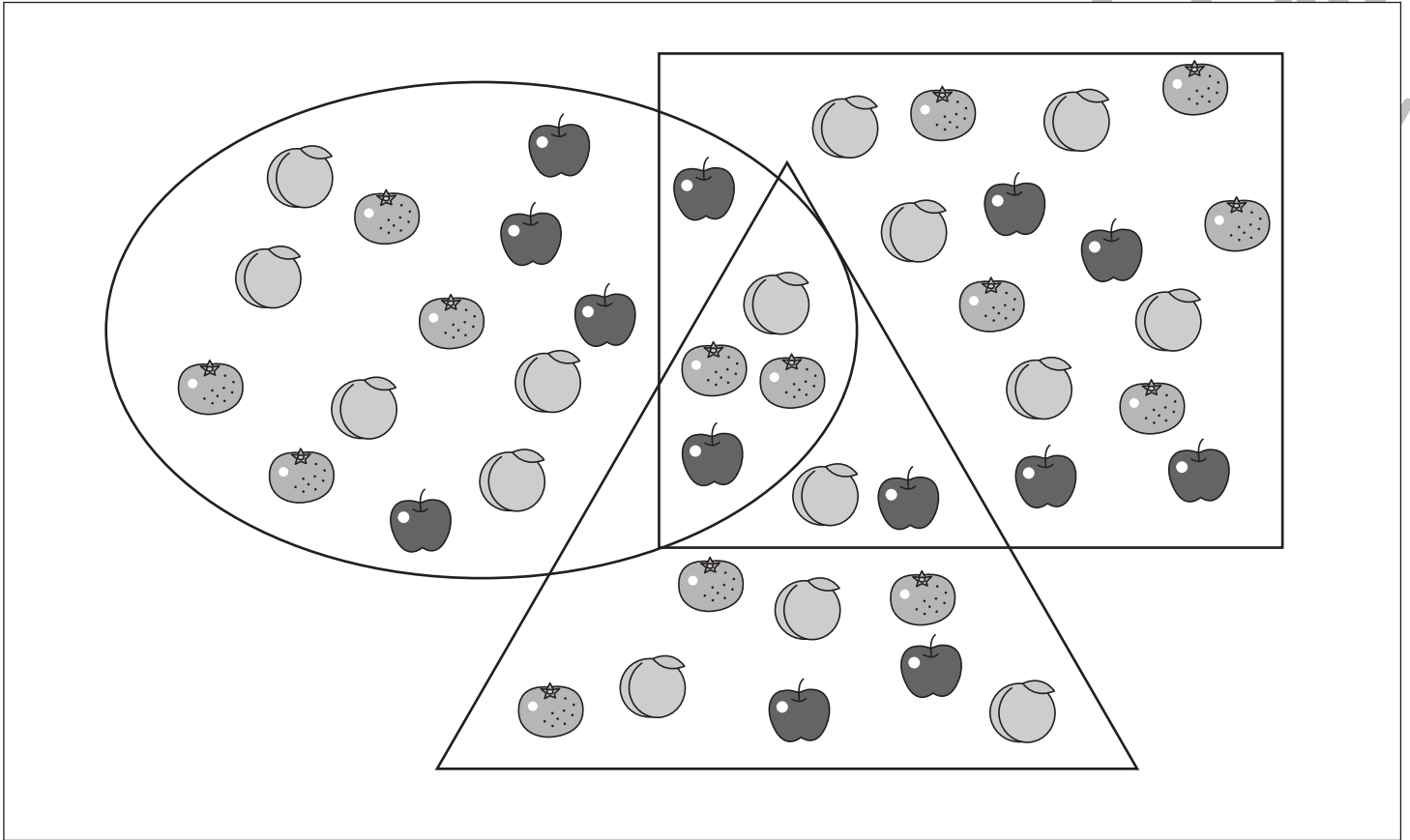


おうちで、やろう。

Study at home. 小学校受験の家庭学習教材

数量：計数 56

- ①○の中にあるミカンの数だけ○をかきます。
- ②□の中にあるモモの数だけ○をかきます。
- ③□と○が重なっているところにあるリンゴの数だけ○をかきます。
- ④○と△が重なっているところにあるモモの数だけ○をかきます。
- ⑤3つの形が重なっているところにある果物の数だけ○をかきます。



① ○ × 6

② ○ × 7

③ ○ × 2

④ ○ × 1

⑤ ○ × 4

