



おうちで、やろう。

Study at home. 小学校受験の家庭学習教材

図形：鏡 39

左のお手本を真ん中の太い線の上に鏡を置いて見た時の見え方を考えます。鏡で映してみた時、白丸の場所のみ右の丸を塗ります。

| | | | | | | |
|--|--|--|--|--|--|--|
| | | | | | | |
| | | | | | | |
| | | | | | | |
| | | | | | | |
| | | | | | | |

※1. このプリントは、しながわ・目黒こどもスクールのウェブサイトでダウンロードができます。無断複写・引用はご遠慮ください。
 ※2. このプリントを活用したオンライン授業のスケジュールは、しながわ・目黒こどもスクールのウェブサイトでご確認ください。



おうちで、やろう。

Study at home. 小学校受験の家庭学習教材

図形：鏡 40

左のお手本を真ん中の太い線の上に鏡を置いて見た時の見え方を考えます。鏡で映してみた時、白丸の場所のみ右の丸を塗ります。

| | | | | | | |
|--|--|--|--|--|--|--|
| | | | | | | |
| | | | | | | |
| | | | | | | |
| | | | | | | |
| | | | | | | |

※1. このプリントは、しながわ・目黒こどもスクールのウェブサイトでダウンロードができます。無断複写・引用はご遠慮ください。
 ※2. このプリントを活用したオンライン授業のスケジュールは、しながわ・目黒こどもスクールのウェブサイトでご確認ください。



おうちで、やろう。

Study at home. 小学校受験の家庭学習教材

図形：鏡 41

左のお手本を真ん中の太い線の上に鏡を置いて見た時の見え方を考えます。鏡で映してみた時、白丸の場所のみ右の丸を塗ります。

| | | | | | | |
|--|--|--|--|--|--|--|
| | | | | | | |
| | | | | | | |
| | | | | | | |
| | | | | | | |
| | | | | | | |
| | | | | | | |

※1. このプリントは、しながわ・目黒こどもスクールのウェブサイトでダウンロードができます。無断複写・引用はご遠慮ください。

※2. このプリントを活用したオンライン授業のスケジュールは、しながわ・目黒こどもスクールのウェブサイトでご確認ください。



おうちで、やろう。

Study at home. 小学校受験の家庭学習教材

推理：積み木 14

左の四角の中の積み木はお手本で黒と白の積み木でできています。お手本の積み木のうち黒い積み木だけをとります。黒い積み木をとったあと、上にあった白い積み木はそのままへ落ちます。この時、残った白い積み木の形を右の四角の中から選んで○をつけます。

| | |
|--|--|
| | |
| | |
| | |
| | |
| | |

※1. このプリントは、しながわ・目黒こどもスクールのウェブサイトでダウンロードができます。無断複写・引用はご遠慮ください。

※2. このプリントを活用したオンライン授業のスケジュールは、しながわ・目黒こどもスクールのウェブサイトでご確認ください。

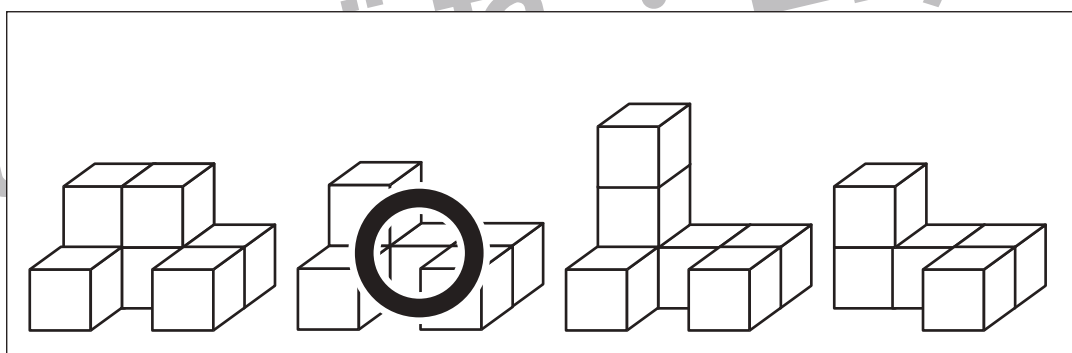
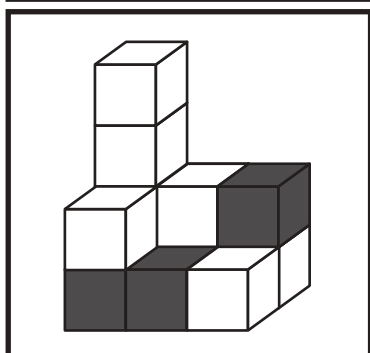
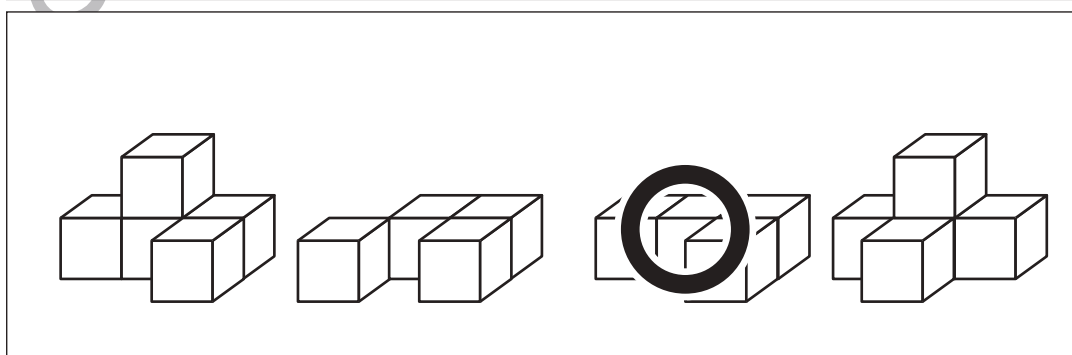
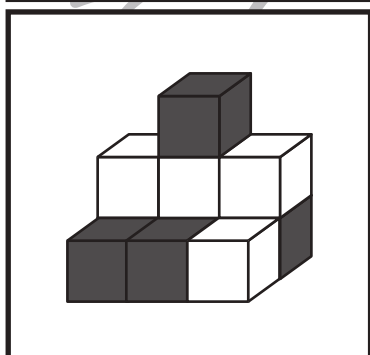
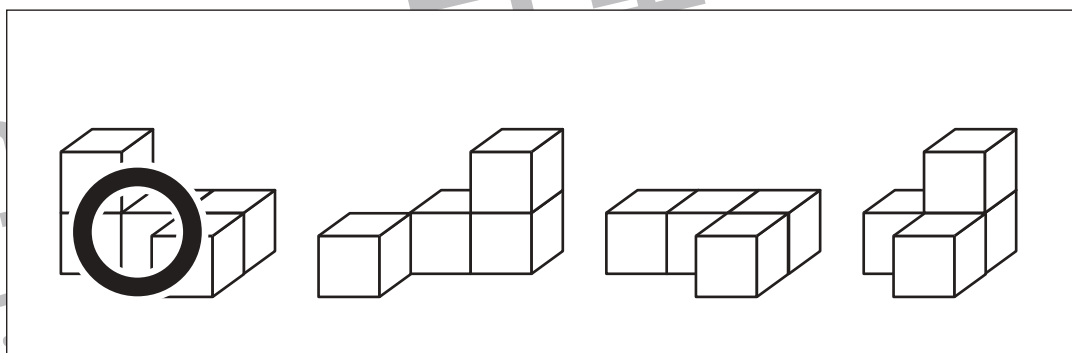
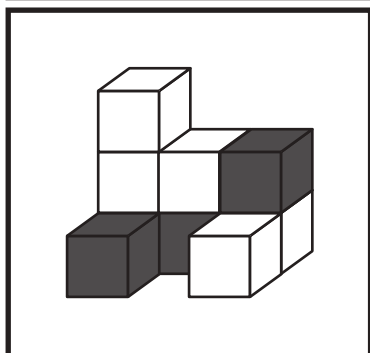
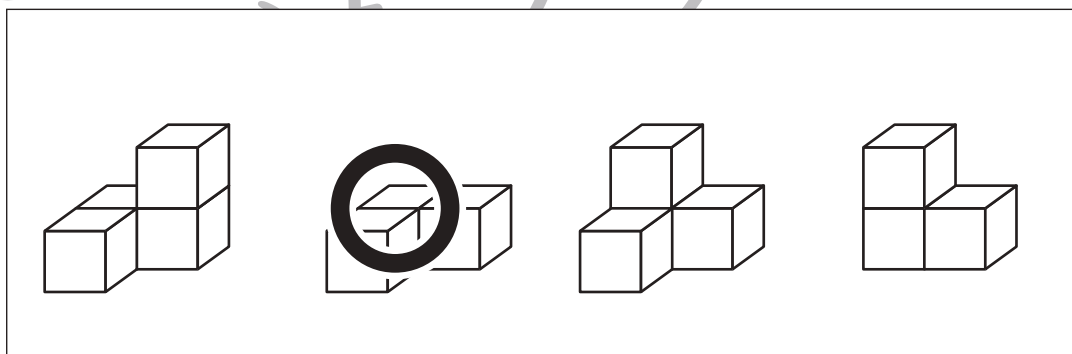
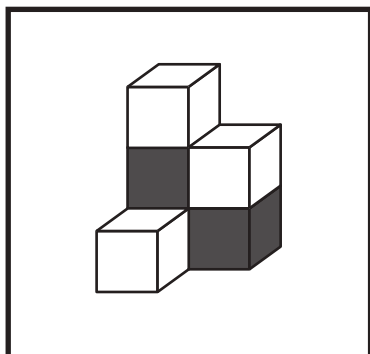
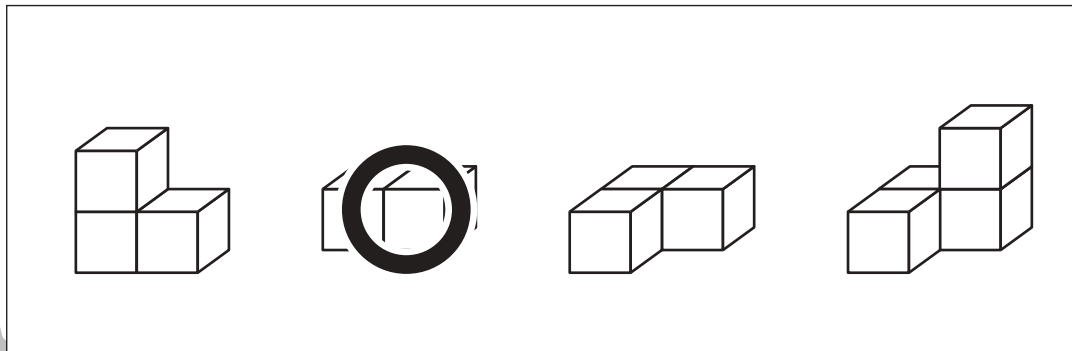
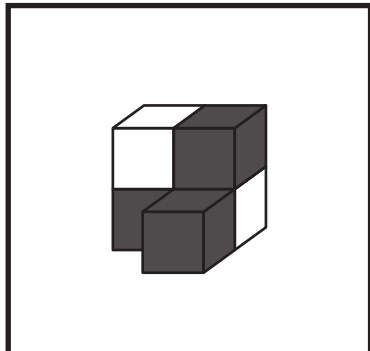


おうちで、やろう。

Study at home. 小学校受験の家庭学習教材

推理：積み木 15

左の四角の中の積み木はお手本で黒と白の積み木でできています。隠れて見えない積み木はすべて黒い積み木です。このとき、お手本の積み木のうち黒い積み木だけをとりず。黒い積み木をとったあと、上にあった白い積み木はそのまま下へ落ちます。この時、残った白い積み木の形を右の四角の中から選んで○をつけます。



※1. このプリントは、しながわ・目黒こどもスクールのウェブサイトでダウンロードができます。無断複写・引用はご遠慮ください。

※2. このプリントを活用したオンライン授業のスケジュールは、しながわ・目黒こどもスクールのウェブサイトでご確認ください。

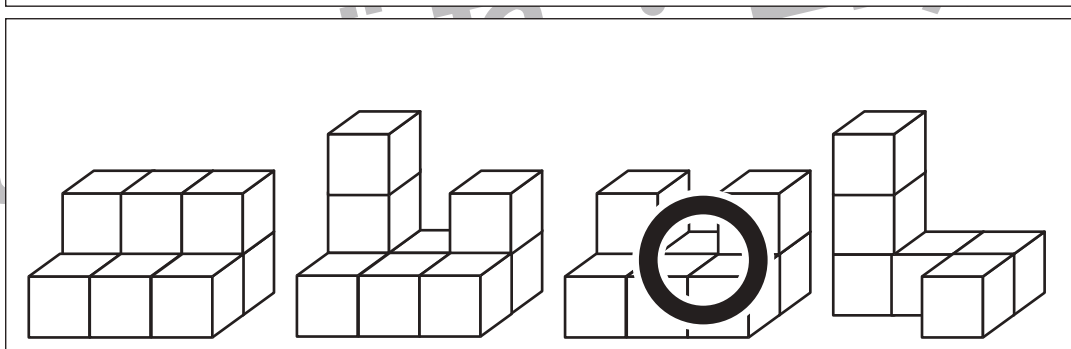
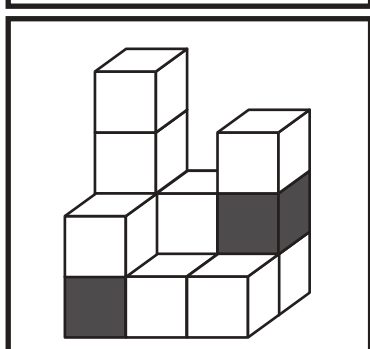
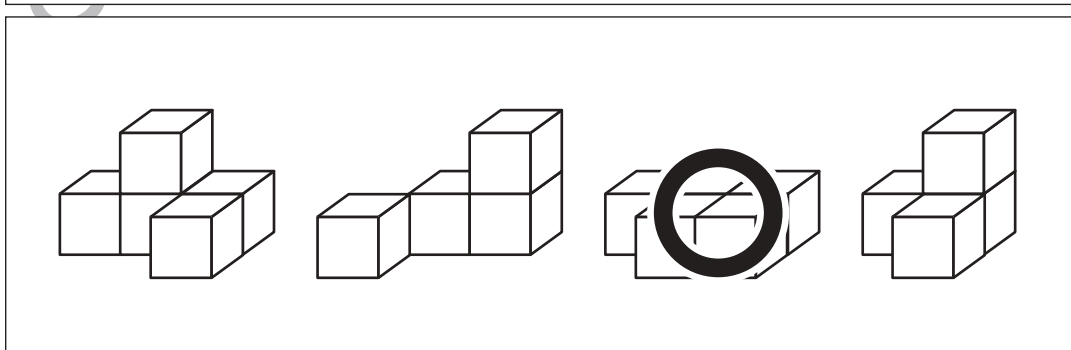

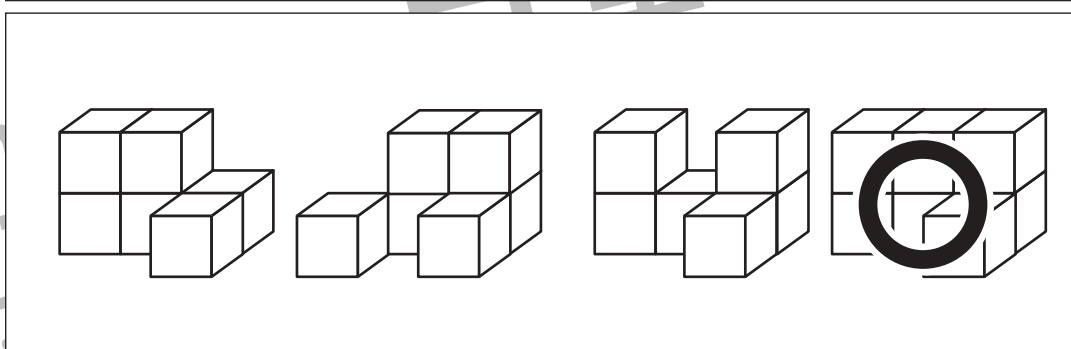
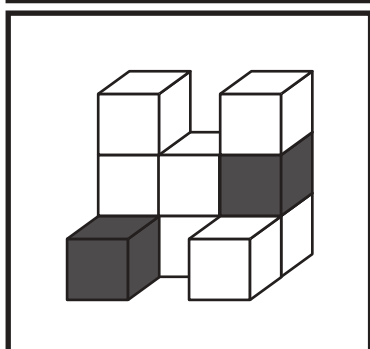
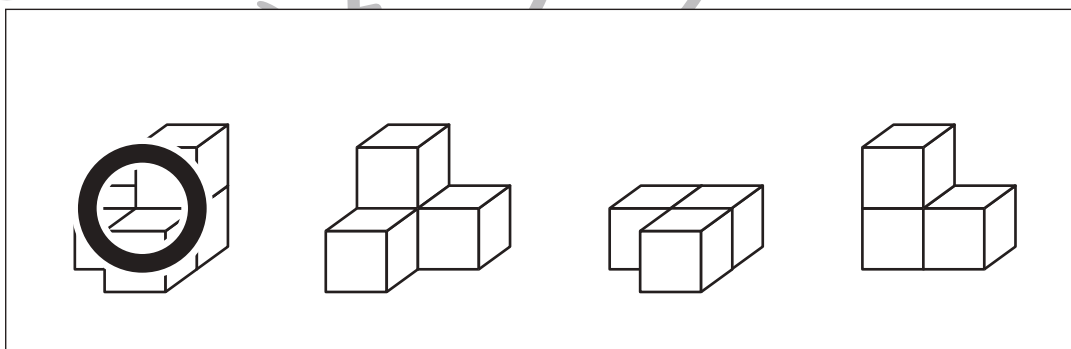
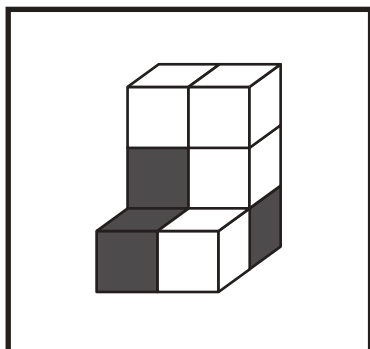
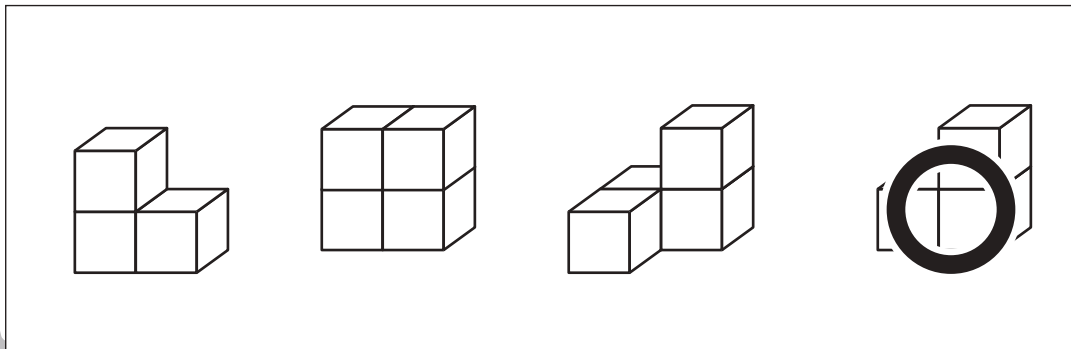
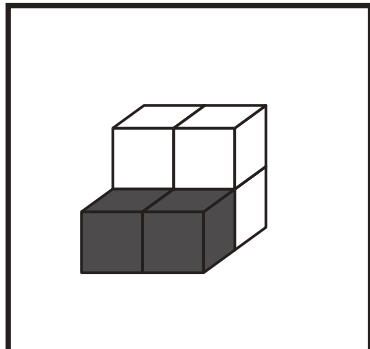


おうちで、やろう。

Study at home. 小学校受験の家庭学習教材

推理：積み木 16

左の四角の中の積み木はお手本で黒と白の積み木でできています。隠れて見えない積み木はすべて黒い積み木です。このとき、お手本の積み木のうち黒い積み木だけをとりず。黒い積み木をとったあと、上にあった白い積み木はそのまま下へ落ちます。この時、残った白い積み木の形を右の四角の中から選んで○をつけます。



※1. このプリントは、しながわ・目黒こどもスクールのウェブサイトからダウンロードができます。無断複写・引用はご遠慮ください。

※2. このプリントを活用したオンライン授業のスケジュールは、しながわ・目黒こどもスクールのウェブサイトでご確認ください。

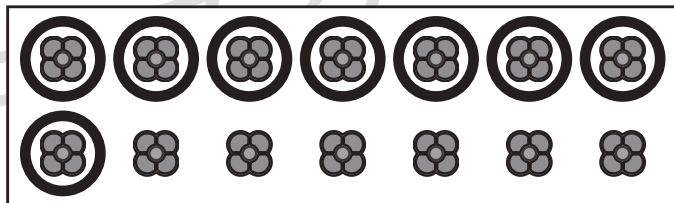
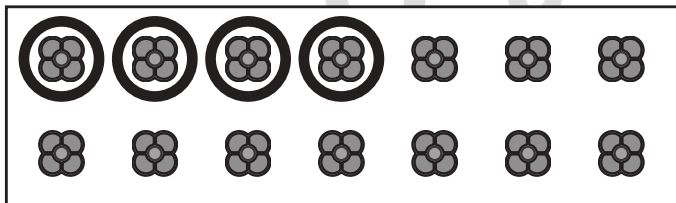
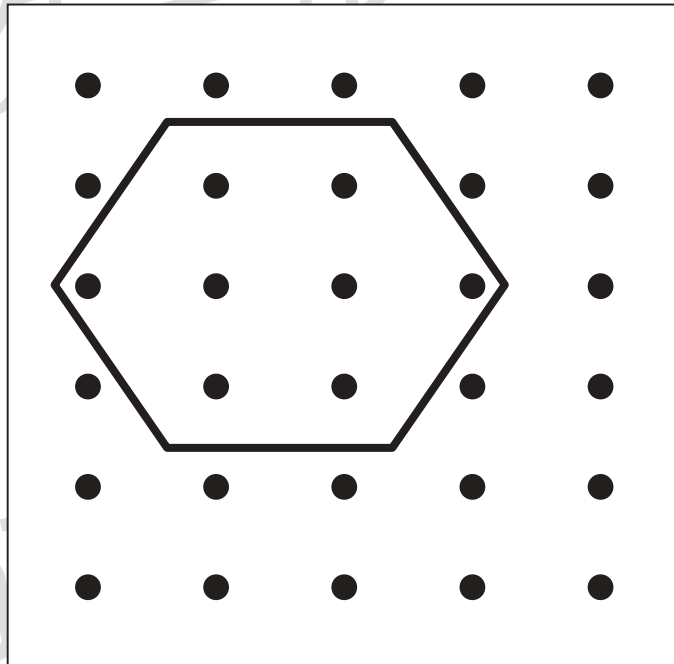

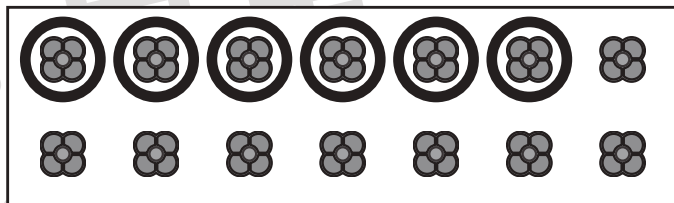
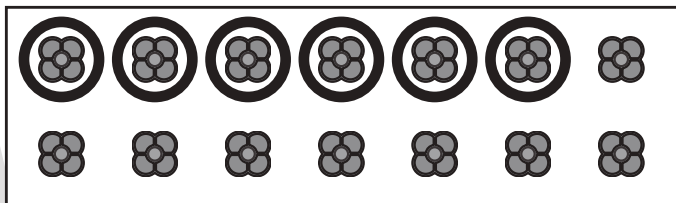
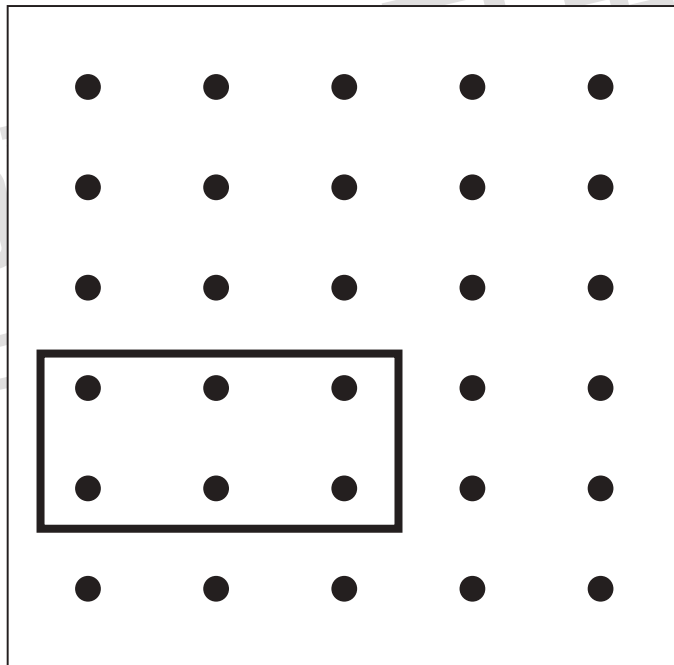
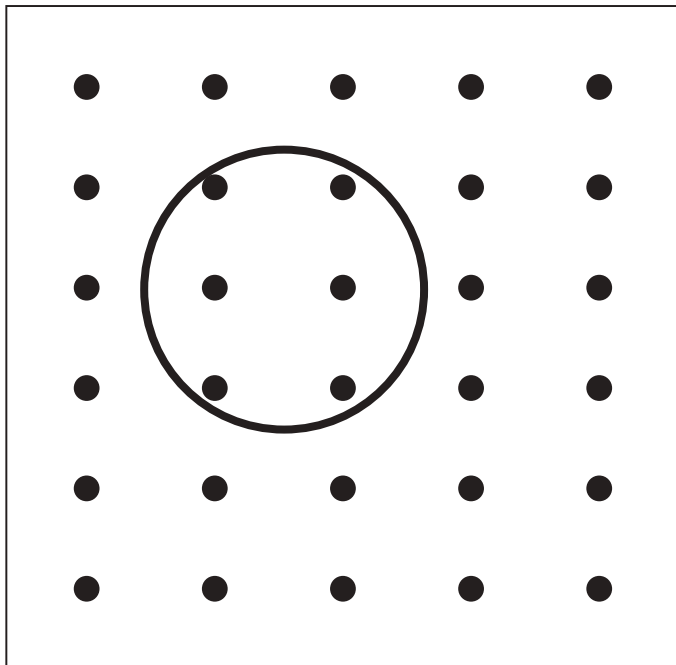


おうちで、よろう。

Study at home. 小学校受験の家庭学習教材

数量：かくれた数 12

黒い点が並んでいますが、形でかくれている所があります。かくれている点の数を数えて、その数だけ下の四角の中のおはじきを一つずつ囲みます。



※1. このプリントは、しながわ・目黒こどもスクールのウェブサイトでダウンロードができます。無断複写・引用はご遠慮ください。
※2. このプリントを活用したオンライン授業のスケジュールは、しながわ・目黒こどもスクールのウェブサイトでご確認ください。



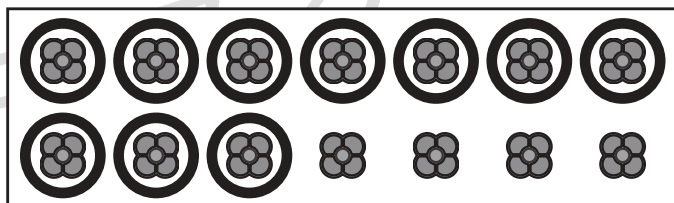
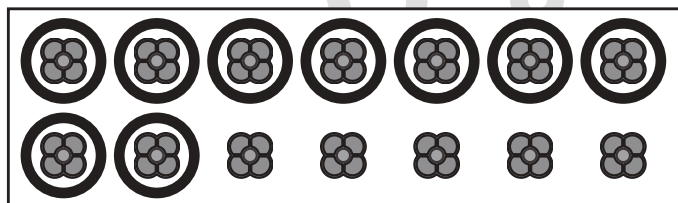
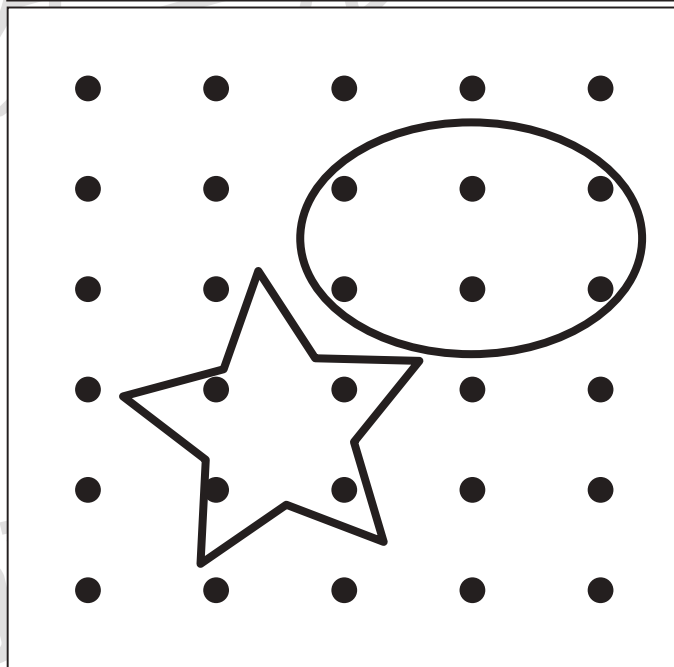
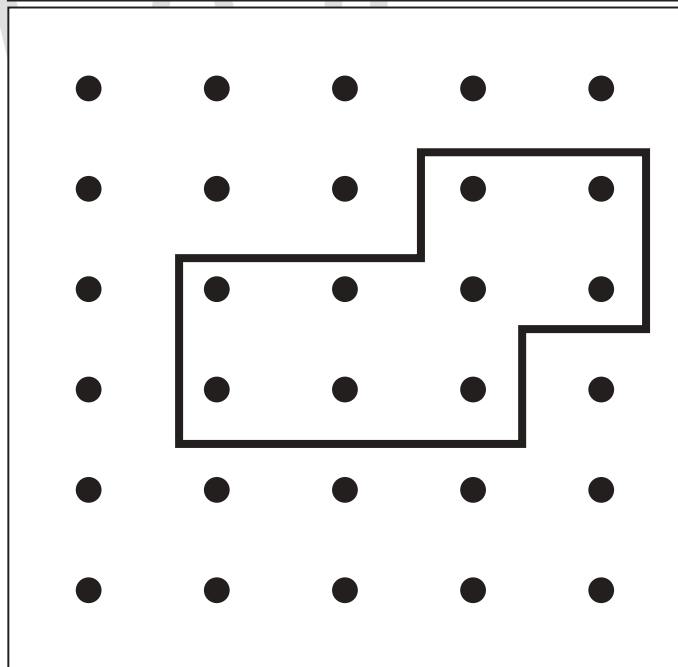
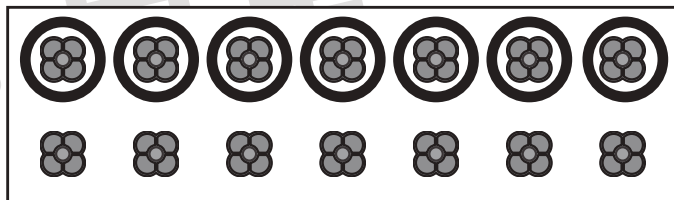
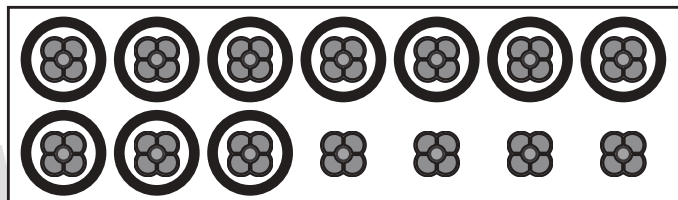
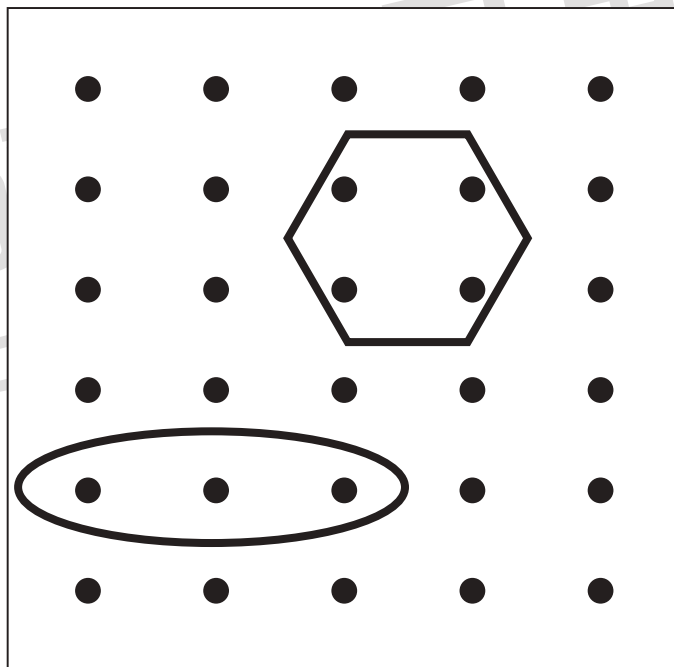



おうちで、やろう。

Study at home. 小学校受験の家庭学習教材

数量：かくれた数 13

黒い点が並んでいますが、形でかくれている所があります。かくれている点の数を数えて、その数だけ下の四角の中のおはじきを一つずつ囲みます。



※1. このプリントは、しながわ・目黒こどもスクールのウェブサイトでダウンロードができます。無断複写・引用はご遠慮ください。
※2. このプリントを活用したオンライン授業のスケジュールは、しながわ・目黒こどもスクールのウェブサイトでご確認ください。

