







おうちで、やろう。

Study at home. 小学校受験の家庭学習教材

指示の聞き取り 34

- ①左から○が黒、青、赤の順番に繰り返し並んでいます。この時、赤の場所を塗ります。
- ②一番左の星だけは青でなぞってから中を塗り、その他の星は黄色でなぞります。
- ③鉛筆で左から四角、三角、丸の順番に繰り返し3回かきます。
- ④鉛筆で右端と左端に丸をかき、その間にその丸よりも小さい丸を同じ大きさで4つかきます。



※1. このプリントは、しながわ・目黒こどもスクールのウェブサイトでダウンロードができます。無断複写・引用はご遠慮ください。
※2. このプリントを活用したオンライン授業のスケジュールは、しながわ・目黒こどもスクールのウェブサイトでご確認ください。








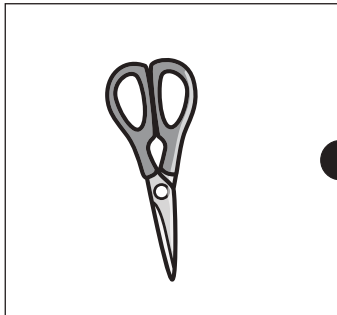




おうちで、やろう。

Study at home. 小学校受験の家庭学習教材

言語：音の理解 45

左の絵の 2 番目の音と右の絵のはじめの音が同じもの同士を線で結びます。



※1. このプリントは、しながわ・目黒こどもスクールのウェブサイトでダウンロードができます。無断複写・引用はご遠慮ください。

※2. このプリントを活用したオンライン授業のスケジュールは、しながわ・目黒こどもスクールのウェブサイトでご確認ください。




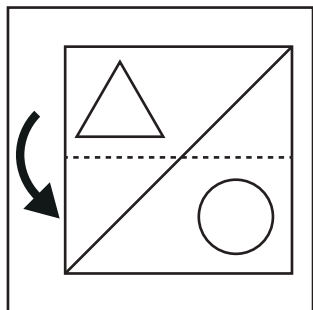
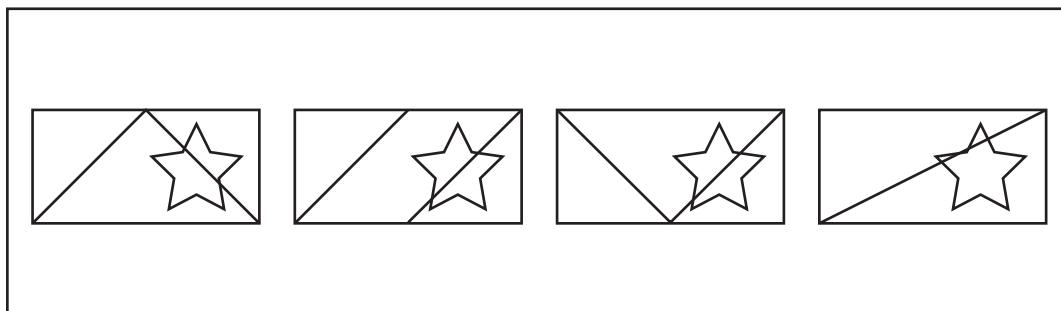
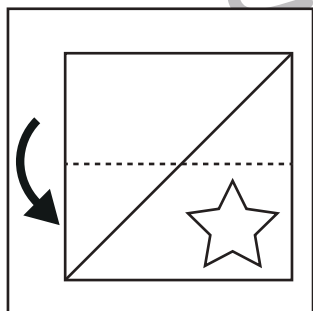
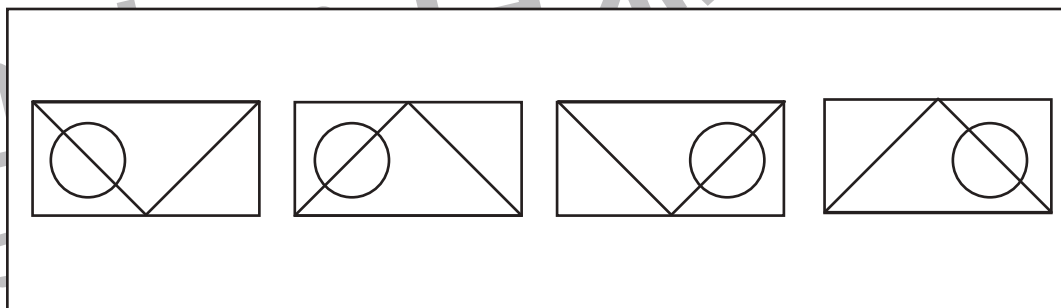
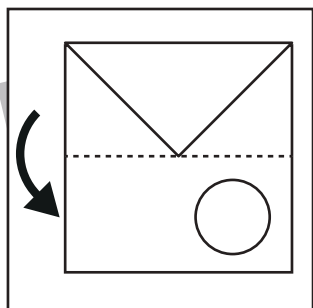
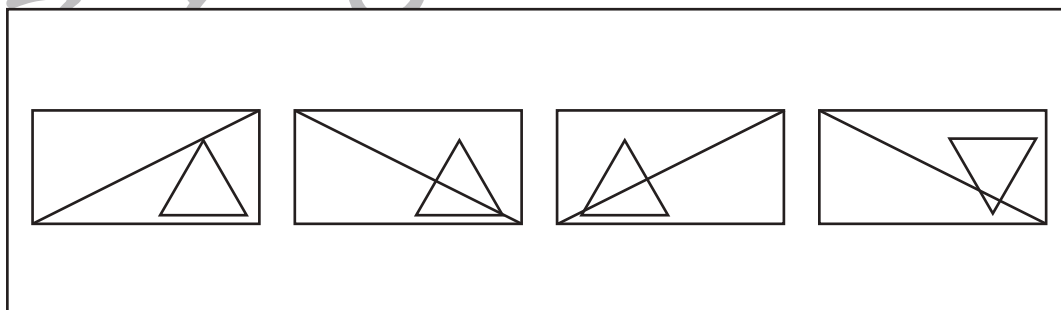
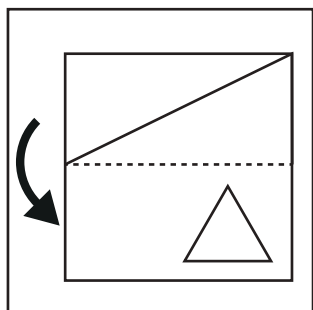
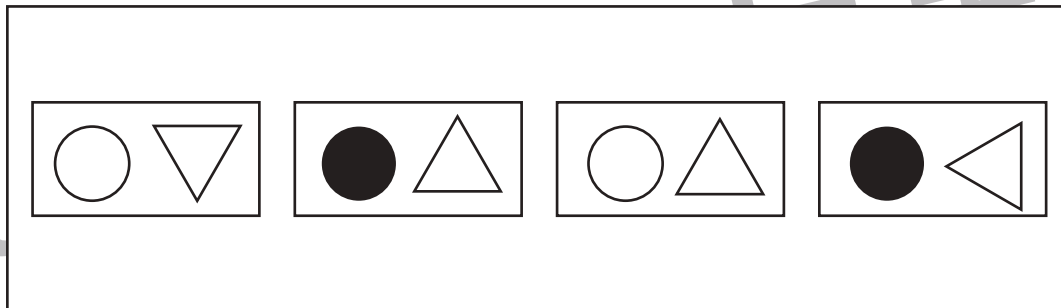
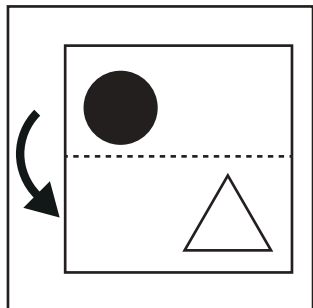


おうちで、やろう。

Study at home. 小学校受験の家庭学習教材

図形：折り重ね 55

左の四角の中の透明な四角を点線で半分に折った時の見え方を考え右の四角の中から正しい形に○をつけます。
透明な四角は回転させたり、裏返しにはいけません。



※1. このプリントは、しながわ・目黒こどもスクールのウェブサイトからダウンロードできます。無断複写・引用はご遠慮ください。
※2. このプリントを活用したオンライン授業のスケジュールは、しながわ・目黒こどもスクールのウェブサイトでご確認ください。



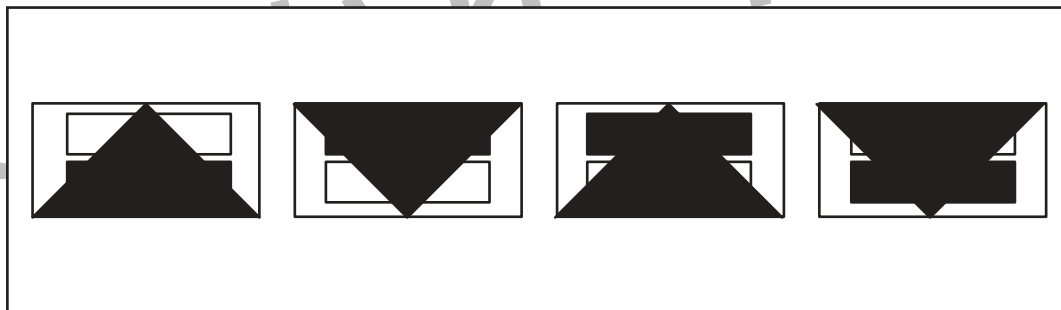
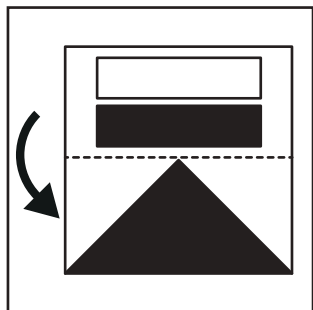
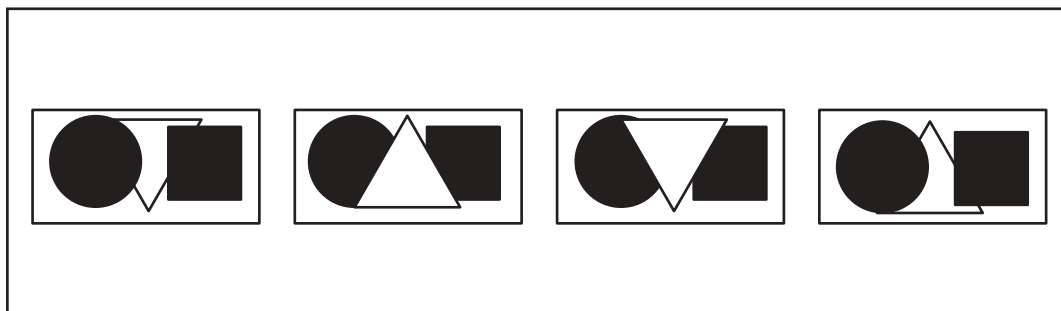
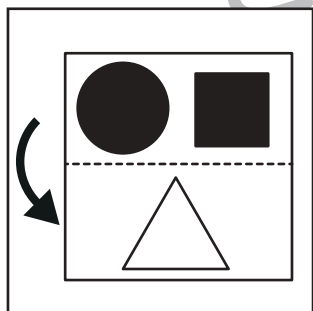
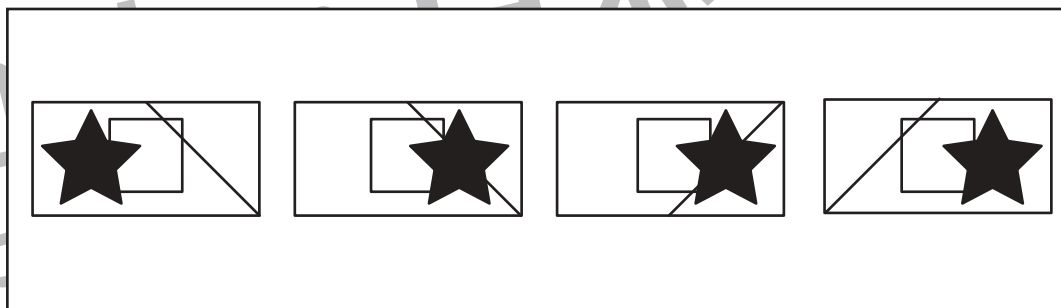
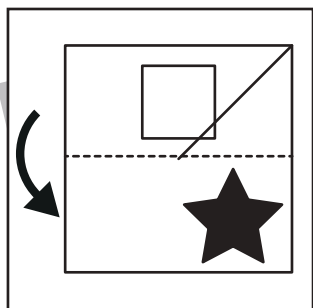
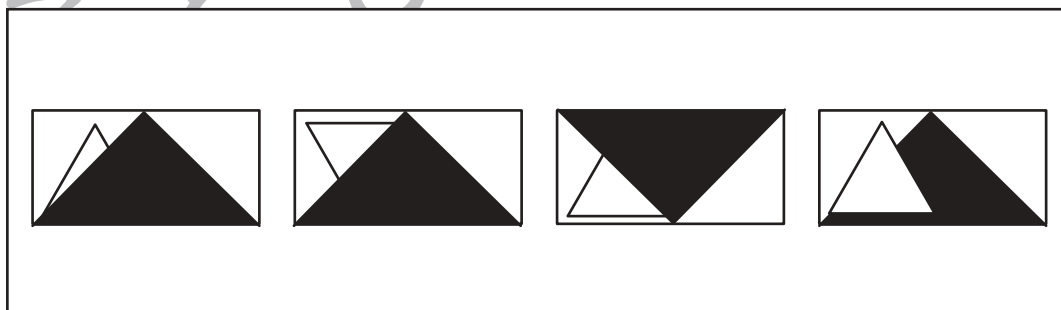
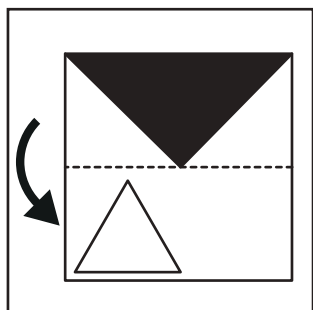
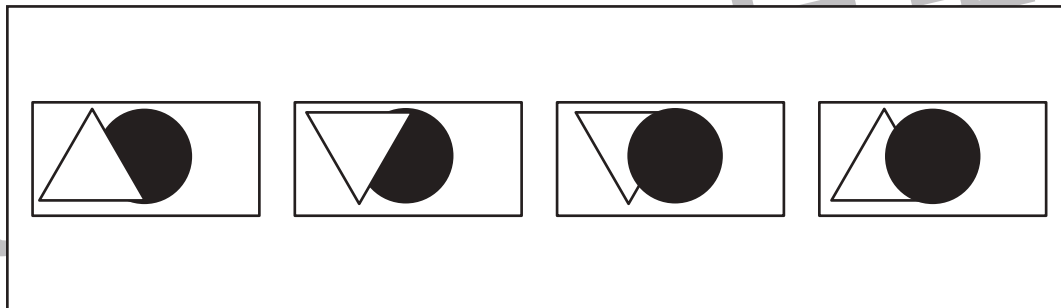
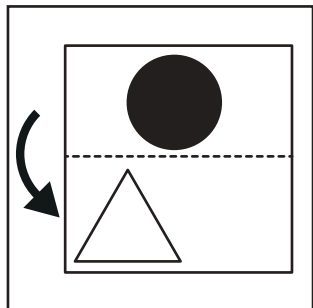


おうちで、やろう。

Study at home. 小学校受験の家庭学習教材

図形：折り重ね 56

左の四角の中の透明な四角を点線で半分に折った時の見え方を考え右の四角の中から正しい形に○をつけます。
透明な四角は回転させたり、裏返しにはいけません。



※1. このプリントは、しながわ・目黒こどもスクールのウェブサイトからダウンロードできます。無断複写・引用はご遠慮ください。
※2. このプリントを活用したオンライン授業のスケジュールは、しながわ・目黒こどもスクールのウェブサイトでご確認ください。





おうちで、やろう。

Study at home. 小学校受験の家庭学習教材

図形：マッチ9

四角の中の形をそれぞれの下にあるマッチで作ります。
全部で何本あれば上の形ができるのかを考えてその数だけ下の四角に○をかきます。

※1. このプリントは、しながわ・目黒こどもスクールのウェブサイトでダウンロードができます。無断複写・引用はご遠慮ください。
 ※2. このプリントを活用したオンライン授業のスケジュールは、しながわ・目黒こどもスクールのウェブサイトでご確認ください。



おうちで、やろう。

Study at home. 小学校受験の家庭学習教材

図形：マッチ 10

四角の中の形をそれぞれの下にあるマッチで作ります。
全部で何本あれば上の形ができるのかを考えてその数だけ下の四角に○をかきます。

※1. このプリントは、しながわ・目黒こどもスクールのウェブサイトでダウンロードができます。無断複写・引用はご遠慮ください。
 ※2. このプリントを活用したオンライン授業のスケジュールは、しながわ・目黒こどもスクールのウェブサイトでご確認ください。

















おうちで、やろう。

Study at home.



推理：ブラックボックス 20


上の太い四角の中が約束です。上の四角のお約束に従って下の四角の中のいちごが箱の中を通り、最後いくつになるかを考え右の四角にその数だけ〇をかきます。




 →  → 	 →  → 
 →  → 	 →  → 

 →  →







 →  →



 →  →  →



 →  →  →



※1. このプリントは、しながわ・目黒こどもスクールのウェブサイトからダウンロードができます。無断複写・引用はご遠慮ください。
 ※2. このプリントを活用したオンライン授業のスケジュールは、しながわ・目黒こどもスクールのウェブサイトでご確認ください。


















おうちで、やろう。




Study at home.





推理：ブラックボックス21





上の太い四角の中が約束です。上の四角のお約束に従って下の四角の中のぶどうが箱の中を通り、最後いくつになるかを考え右の四角にその数だけ〇をかきます。

 →  → 	 →  → 
 →  → 	 →  → 


 →
 
 →
 
 →


 →
 
 →
 
 →


 →
 
 →
 
 →
 
 →


 →
 
 →
 
 →
 
 →

※1. このプリントは、しながわ・目黒こどもスクールのウェブサイトでダウンロードができます。無断複写・引用はご遠慮ください。
 ※2. このプリントを活用したオンライン授業のスケジュールは、しながわ・目黒こどもスクールのウェブサイトでご確認ください。



おうちで、やろう。

Study at home. 小学校受験の家庭学習教材

数量：複合 16

絵をよく見て質問に答えましょう。

- ①りんごはいくつありますか。その数だけ①の四角に○をかきます。
- ②バナナの数をもつ増やすといくつになりますか。その数だけ②の四角に○をかきます。
- ③ぶどうはさくらんぼよりいくつ少ないですか。その数だけ③の四角に○をかきます。
- ④りんごを1つ食べた後、3人のお友だちで同じ数ずつ分けました。1人何こずつもらえますか。その数だけ④の四角に○をかきます。



①	
②	
③	
④	

※1. このプリントは、しながわ・目黒こどもスクールのウェブサイトでダウンロードができます。無断複写・引用はご遠慮ください。
 ※2. このプリントを活用したオンライン授業のスケジュールは、しながわ・目黒こどもスクールのウェブサイトでご確認ください。




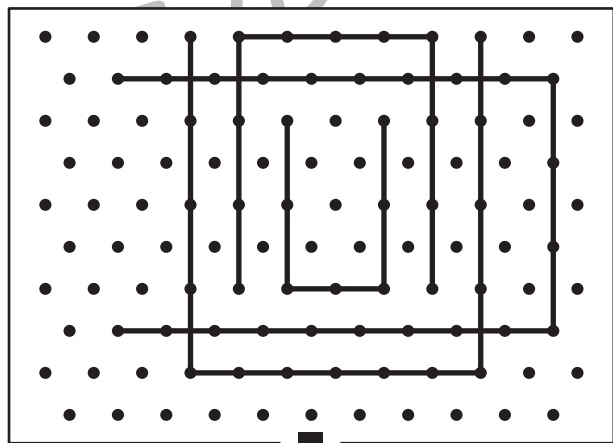

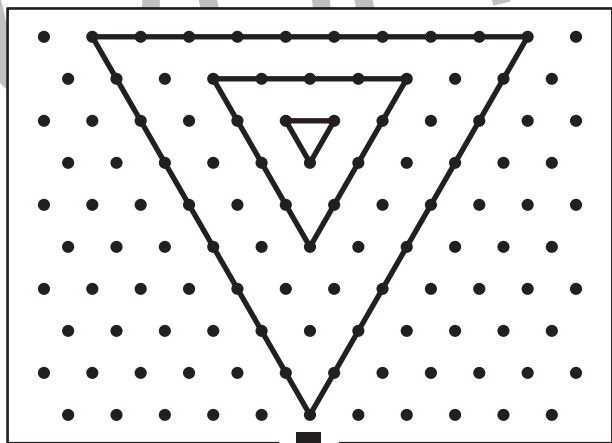

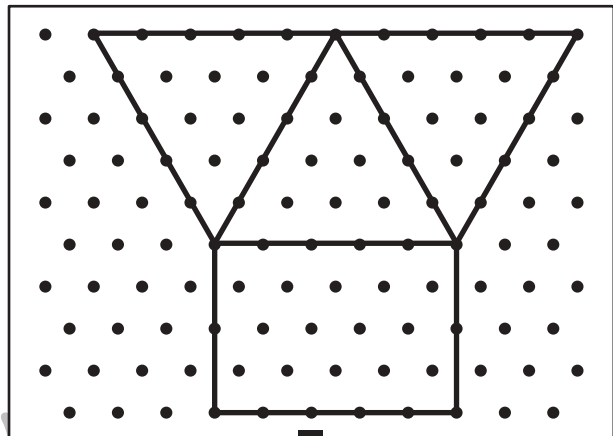

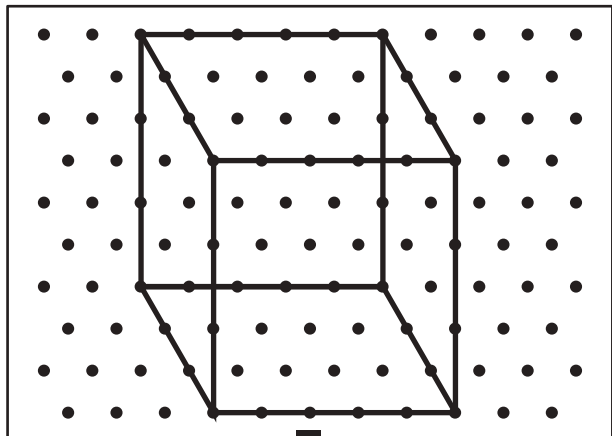


おうちで、やろう。

Study at home. 小学校受験の家庭学習教材

図形：点図形 54

上のお手本と同じになるように下の四角の点と点を結びます。※このプリントに解答はありません。



※1. このプリントは、しながわ・目黒こどもスクールのウェブサイトからダウンロードできます。無断複写・引用はご遠慮ください。

※2. このプリントを活用したオンライン授業のスケジュールは、しながわ・目黒こどもスクールのウェブサイトでご確認ください。

