


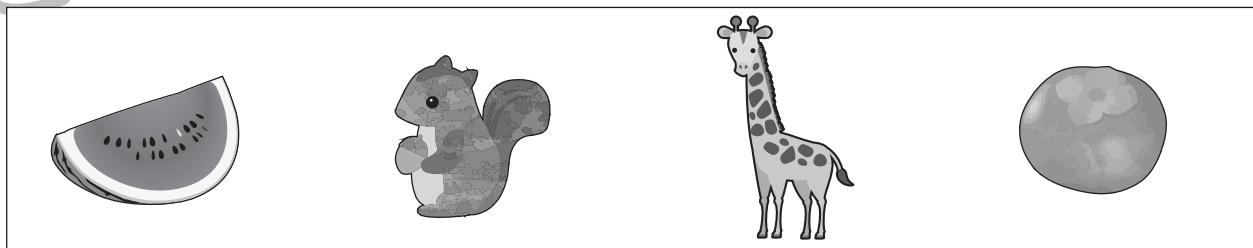


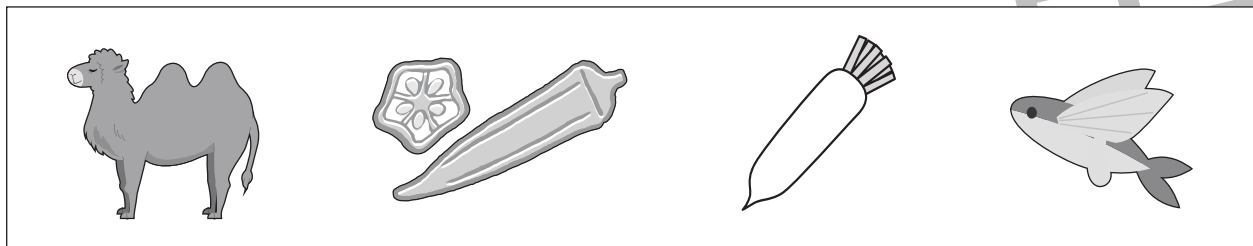


# おうちで、やろう。

Study at home. 小学校受験の家庭学習教材

言語：しりとり 25

四角の中の絵をすべて使ってしりとりをします。最後が「ん」で終わるようにつなぐとき、最初になるものはどれですか。その絵に○をつけましょう。



※1. このプリントは、しながわ・目黒こどもスクールのウェブサイトでダウンロードができます。無断複写・引用はご遠慮ください。

※2. このプリントを活用したオンライン授業のスケジュールは、しながわ・目黒こどもスクールのウェブサイトでご確認ください。





# おうちで、やろう。

Study at home. 小学校受験の家庭学習教材

## 図形：移動 47

左のマスの中の記号を左端にある矢印の上から順番に移動させた後の場所を考えて、右のマスにかきます。

↓  
→

○		
	△	


↓  
↓  
←  
↑

	○		△


↓  
↓

△		○


→  
↑  
←  
←

			○
	△		


↑  
↑  
→

			○
	△		


↑  
→  
→  
↓  
↓

	△		
		○	


←  
↑  
→

	△		
			○


→  
↓  
→  
←  
←

		○	
	△		


→  
←  
←  
↓

		△	
	○		


←  
↓  
↑  
↑  
→

			○
	△		


※1. このプリントは、しながわ・目黒こどもスクールのウェブサイトでダウンロードができます。無断複写・引用はご遠慮ください。  
 ※2. このプリントを活用したオンライン授業のスケジュールは、しながわ・目黒こどもスクールのウェブサイトでご確認ください。



# おうちで、やろう。

Study at home. 小学校受験の家庭学習教材

## 図形：移動 48

左のマスの中の記号を左端にある矢印の上から順番に移動させた後の場所を考えて、右のマスにかきます。

→ ↙

○	△		

↙ ↓ → →

		△	
○			

→ ↓

△			
○			

← ↙ → →

		○	
	△		

↑ ↗ →

		△	○

↑ ↙ → ↑ ↓

△			
			○

→ ↙ ↘

○			
△			

↗ → ↑ ↑ ↙

△			
	○		

↑ ↙ ↘ ↑

○			
	△		

← ↙ ↘ ↓ → ↗

△			
		○	

※1. このプリントは、しながわ・目黒こどもスクールのウェブサイトでダウンロードができます。無断複写・引用はご遠慮ください。  
 ※2. このプリントを活用したオンライン授業のスケジュールは、しながわ・目黒こどもスクールのウェブサイトでご確認ください。



# おうちで、やろう。

Study at home. 小学校受験の家庭学習教材

## 図形：重ね点図形 25

右と左の2つの四角をぴったり重ねた時の見え方を考えて、矢印の右の四角に線をかきます。

		▶	
		▶	
		▶	
		▶	
		▶	

※1. このプリントは、しながわ・目黒こどもスクールのウェブサイトでダウンロードができます。無断複写・引用はご遠慮ください。  
 ※2. このプリントを活用したオンライン授業のスケジュールは、しながわ・目黒こどもスクールのウェブサイトでご確認ください。



# おうちで、やろう。

Study at home. 小学校受験の家庭学習教材

## 推理：じゃんけん 22

黒の矢印から初めて、じゃんけんで勝つほうの手へ進みます。太い口の中まで進んで、たどり着いた手に○をかきます。斜めに進むことはできません。

Diagram illustrating a 4x4 grid puzzle for Rock-Paper-Scissors. The grid contains hand icons representing Rock (拳), Paper (手), and Scissors (指). A thick black border highlights the starting point and the path taken. Arrows indicate the direction of movement.

**Grid 1 (Left):**

拳	手	手	手
指	指	拳	指
手	拳	指	拳
指	手	指	拳

**Grid 2 (Right):**

拳	手	拳	指
指	手	手	拳
拳	拳	指	手
指	拳	手	拳

**Grid 3 (Bottom):**

手	指	指	手	指	拳
指	拳	手	拳	手	拳
手	手	拳	指	拳	手
指	指	拳	指	拳	指
拳	手	手	指	手	手
手	拳	指	拳	手	指
指	指	手	指	拳	手

※1. このプリントは、しながわ・目黒こどもスクールのウェブサイトでダウンロードができます。無断複写・引用はご遠慮ください。  
※2. このプリントを活用したオンライン授業のスケジュールは、しながわ・目黒こどもスクールのウェブサイトでご確認ください。





# おうちで、やろう。

Study at home. 小学校受験の家庭学習教材

数量：加減 44

- ①1-1 あきさんは4つ、弟は2つ、妹は3つ栗を拾いました。3人合わせていくつ拾いましたか。その数だけ●をまとめて囲みます。  
1-2 そのあと、栗を3つ拾い、拾った栗を3人で同じ数ずつ分けました。1人分はいくつですか。その数だけ●をまとめて囲みます。
- ②2-1 やまとくんは駄菓子屋さんで飴を10個買いました。あたりが出たので4個お店の人からもらいました。やまとくんはいくつ飴を持っていますか。その数だけ●をまとめて囲みます。  
2-2 駄菓子屋さんから帰る途中、まさとくんななこさんに会いました。やまとくんは2人に3つずつ飴を分けてあげました。やまとくんは今いくつ飴を持っていますか。その数だけ●をまとめて囲みましょう。

①-1



①-2



②-1



②-2





# おうちで、やろう。

Study at home. 小学校受験の家庭学習教材

数量：同数 18

左の四角がお手本です。

お手本のタイルと同じ数のタイルを右の四角の中から見つけて○をつけます。

--	--	--	--

--	--	--	--

--	--	--	--

--	--	--	--

--	--	--	--

※1. このプリントは、しながわ・目黒こどもスクールのウェブサイトでダウンロードができます。無断複写・引用はご遠慮ください。

※2. このプリントを活用したオンライン授業のスケジュールは、しながわ・目黒こどもスクールのウェブサイトでご確認ください。

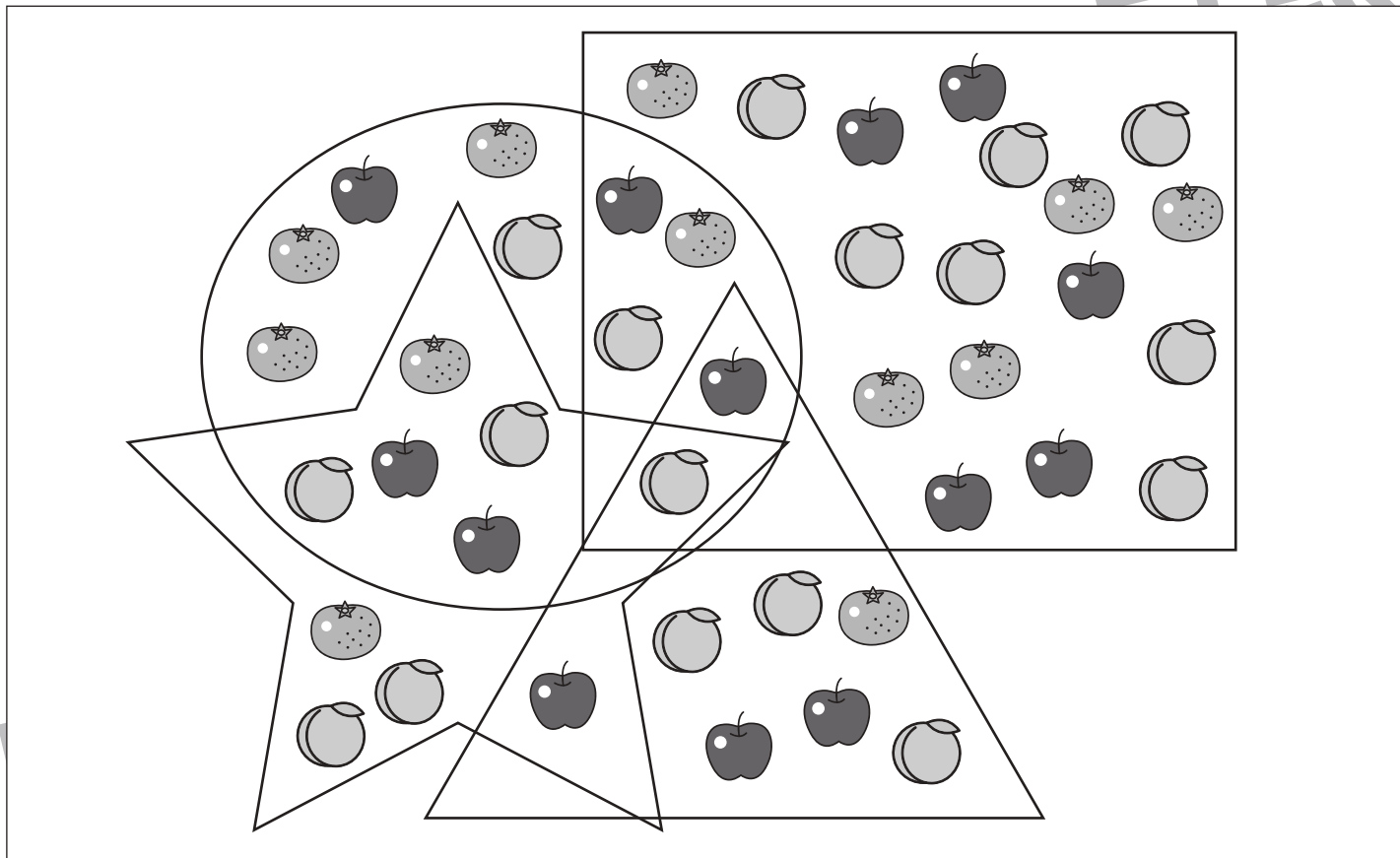


# おうちで、やろう。

Study at home. 小学校受験の家庭学習教材

数量：計数 57

- ①○の中にあるミカン数だけ○をかきます。
- ②□の中にある桃とリンゴの違いの数だけ○をかきます。
- ③□と○が重なっているところにある果物の数だけ○をかきます。
- ④○と☆が重なっているところにある桃の数だけ○をかきます。
- ⑤4つの形が重なっているところにある果物は何か。その果物に○をつけます。



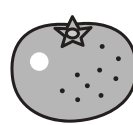
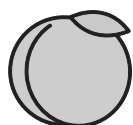
①

②

③

④

⑤



※1. このプリントは、しながわ・目黒こどもスクールのウェブサイトでダウンロードができます。無断複写・引用はご遠慮ください。  
 ※2. このプリントを活用したオンライン授業のスケジュールは、しながわ・目黒こどもスクールのウェブサイトでご確認ください。





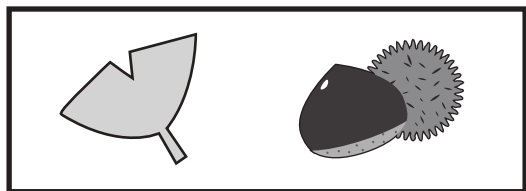
# おうちで、やろう。

Study at home. 小学校受験の家庭学習教材

処理能力：抹消7

上の太い四角の中がお手本です。下のマスに絵がたくさん並んでいます。この中でお手本の絵と同じ絵に○をつけます。ただし、進む方向は左上のイチョウからはじめて右へ進み、右端まできたら2段目の左から右へと順番に進みます。

※お手本の点線をなぞってから先に進みましょう。




ICT 教育の小学校受験

※1. このプリントは、しながわ・目黒こどもスクールのウェブサイトでダウンロードができます。無断複写・引用はご遠慮ください。

※2. このプリントを活用したオンライン授業のスケジュールは、しながわ・目黒こどもスクールのウェブサイトでご確認ください。





# おうちで、やろう。

Study at home. 小学校受験の家庭学習教材

処理：運筆 23

壁にぶつからないように●から○まで一本の線をかきます。  
この問題はスピードを意識して取り組む練習をしてみましょう。(1分)  
※クーピー、鉛筆、水性ペンの好きなものを使ってやりましょう。  
※この問題に解答はありません。



※1. このプリントは、しながわ・目黒こどもスクールのウェブサイトでダウンロードができます。無断複写・引用はご遠慮ください。  
※2. このプリントを活用したオンライン授業のスケジュールは、しながわ・目黒こどもスクールのウェブサイトでご確認ください。