

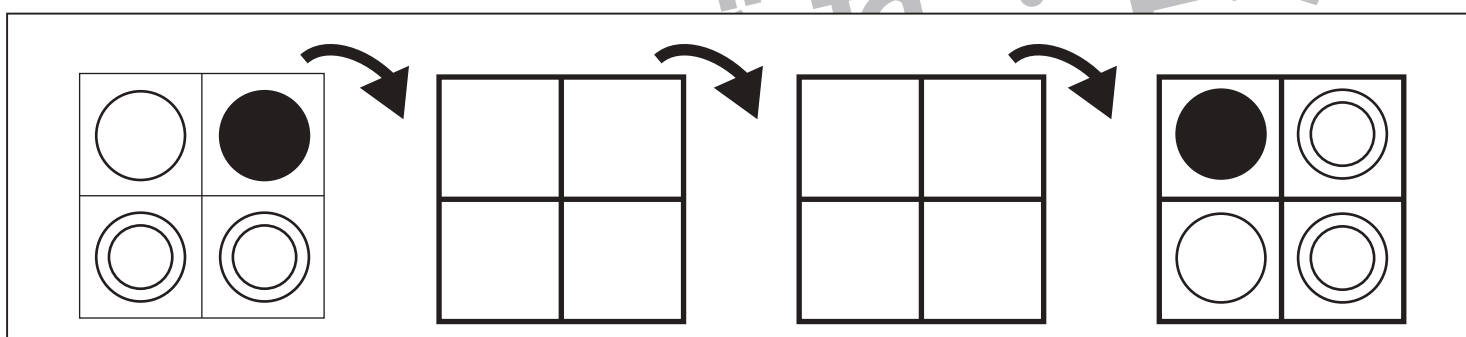
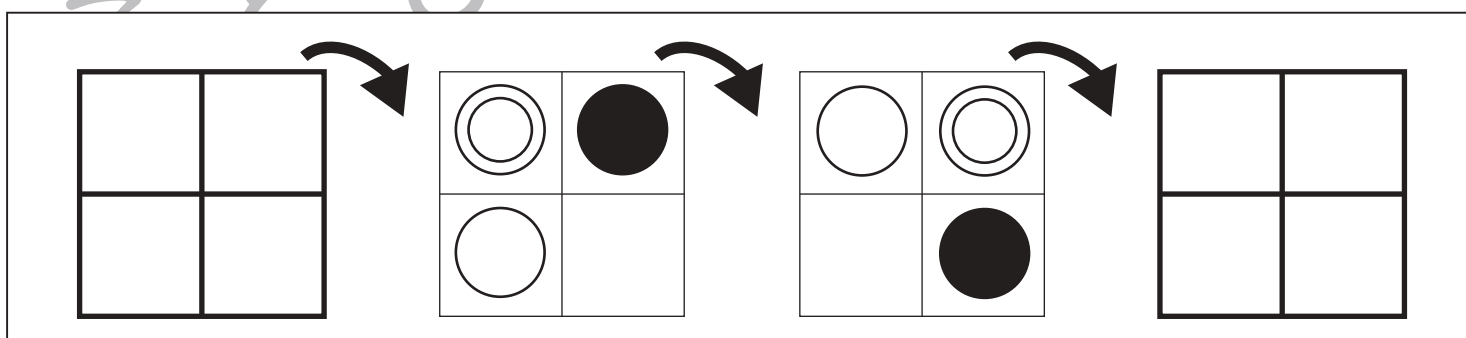
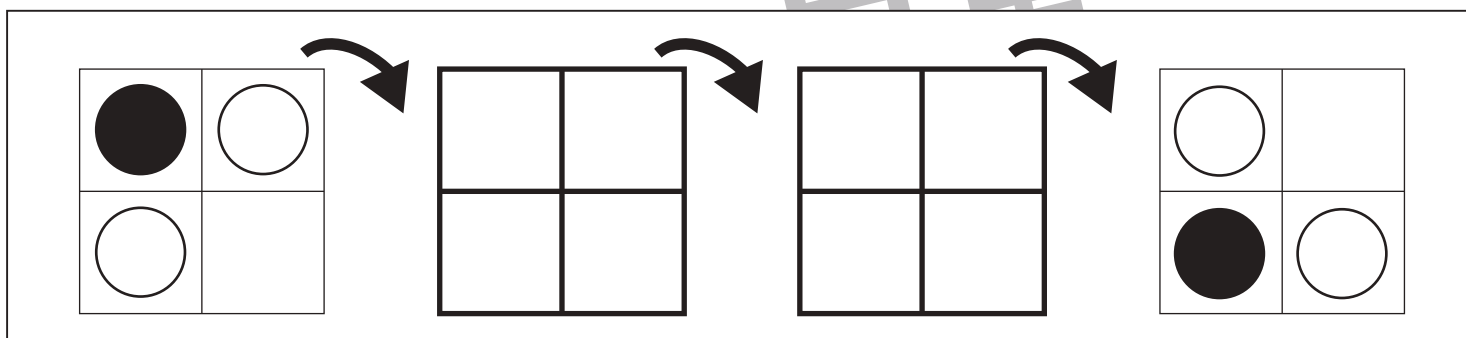
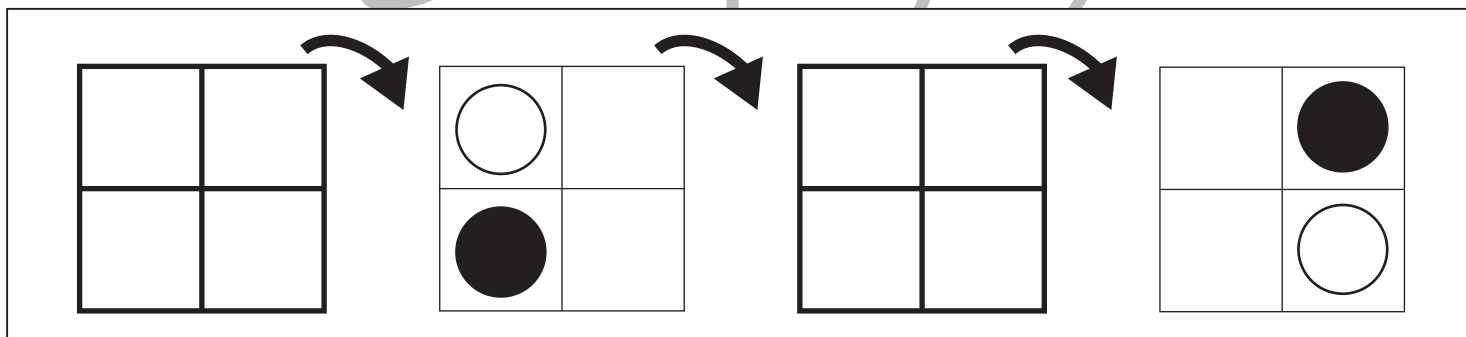
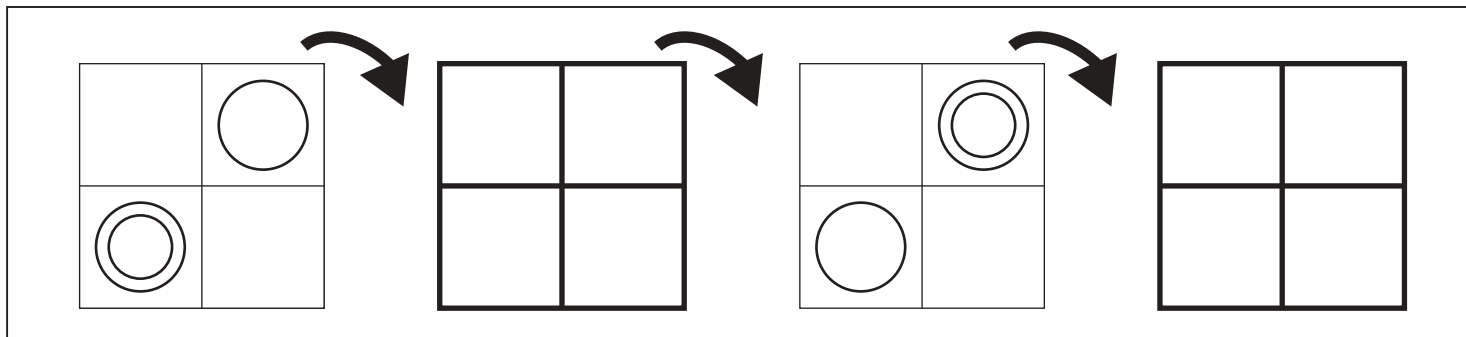


おうちで、やろう。

Study at home. 小学校受験の家庭学習教材

図形：回転 73

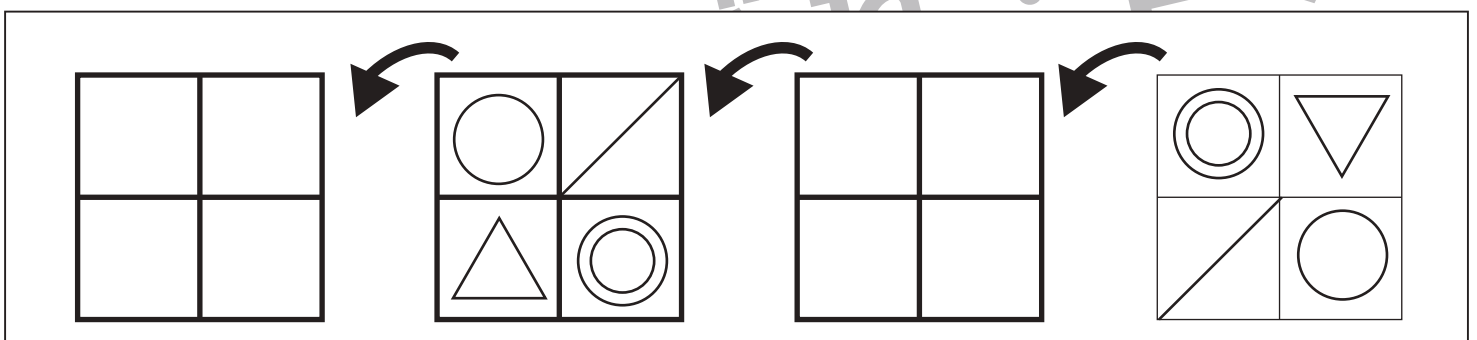
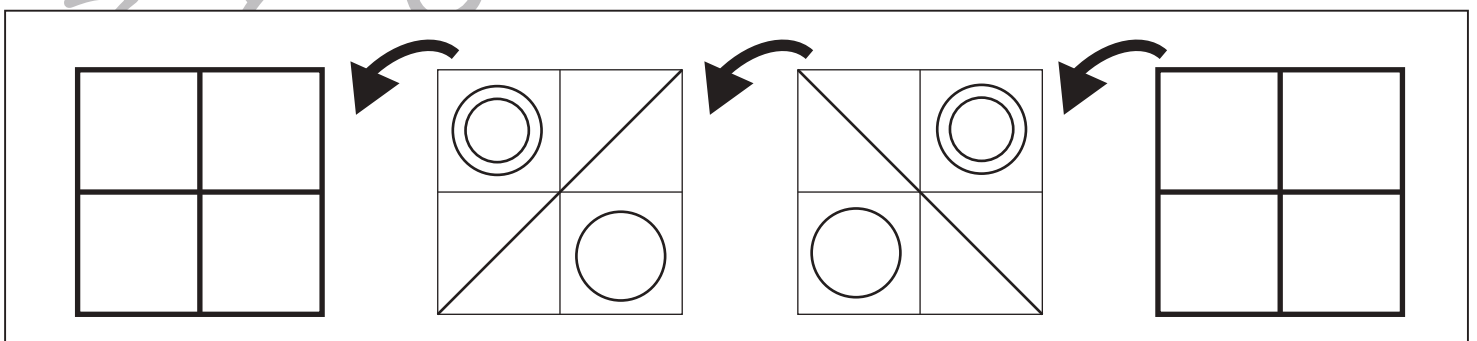
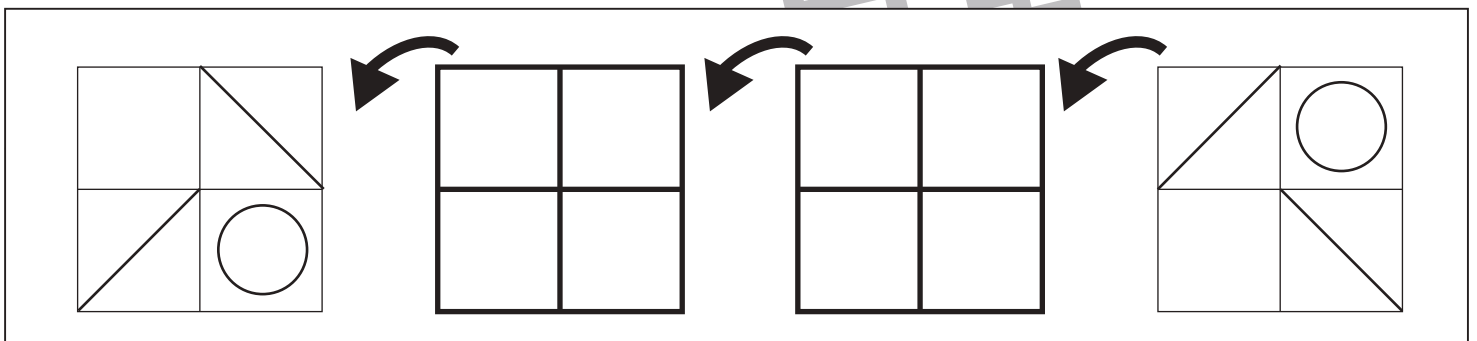
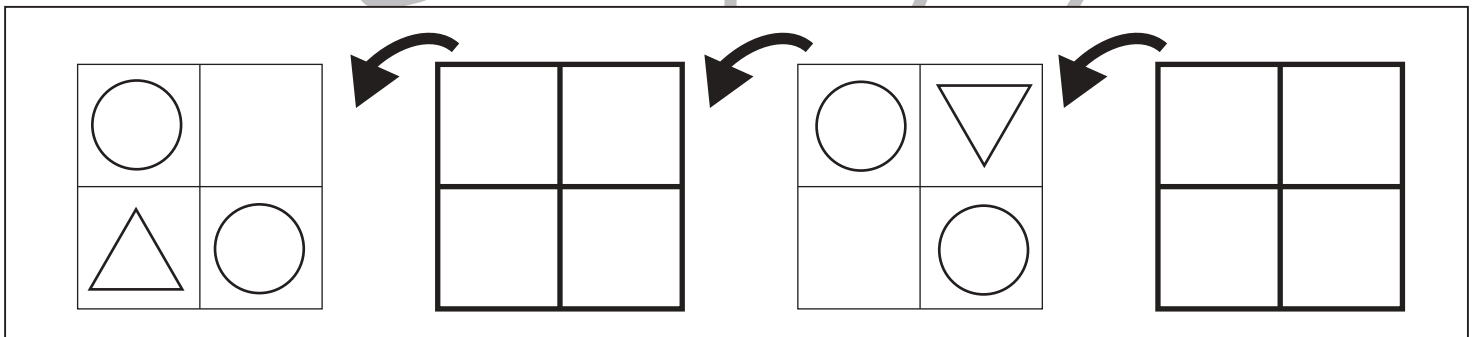
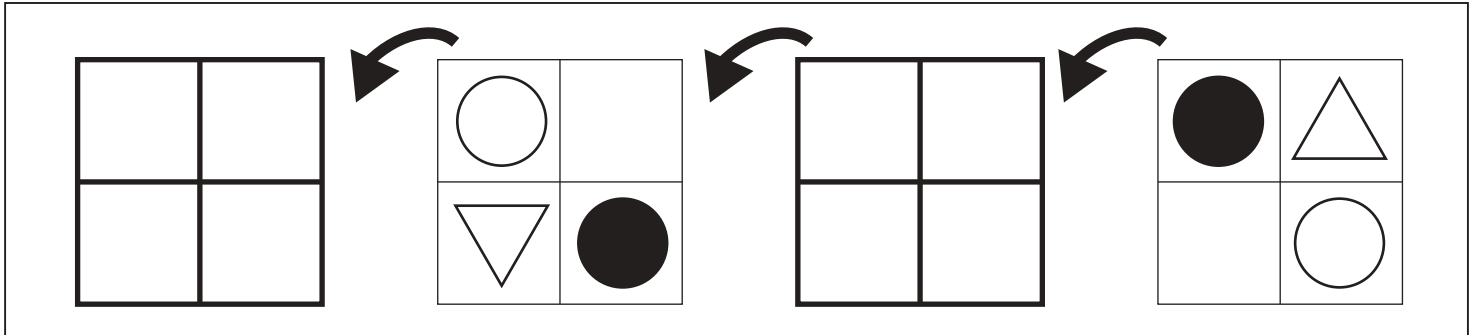
四角を矢印の方向へ倒したときの様子が順番に並んでいます。空いている四角の見え方を考えてかきます。



※1. このプリントは、しながわ・目黒こどもスクールのウェブサイトでダウンロードができます。無断複写・引用はご遠慮ください。
 ※2. このプリントを活用したオンライン授業のスケジュールは、しながわ・目黒こどもスクールのウェブサイトでご確認ください。



四角を矢印の方向へ倒したときの様子が順番に並んでいます。空いている四角の見え方を考えてかきます。

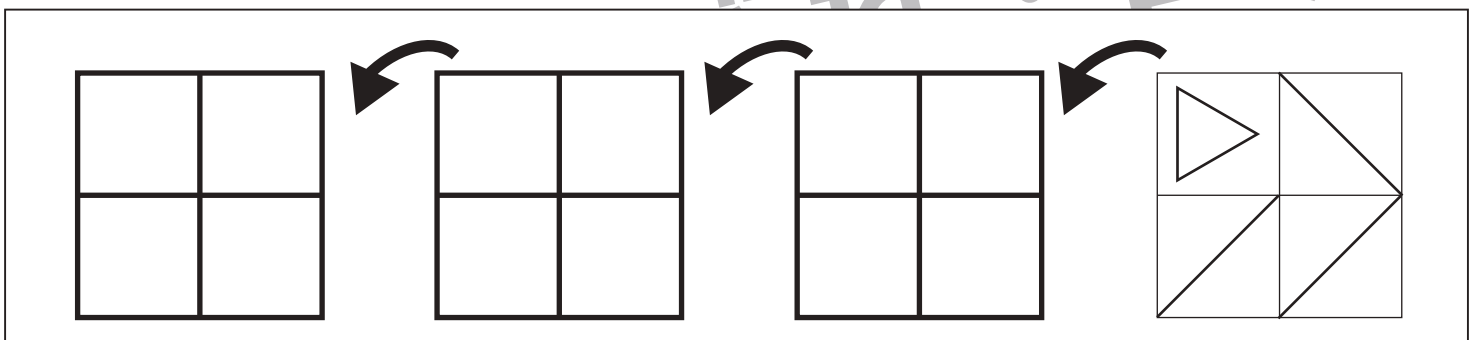
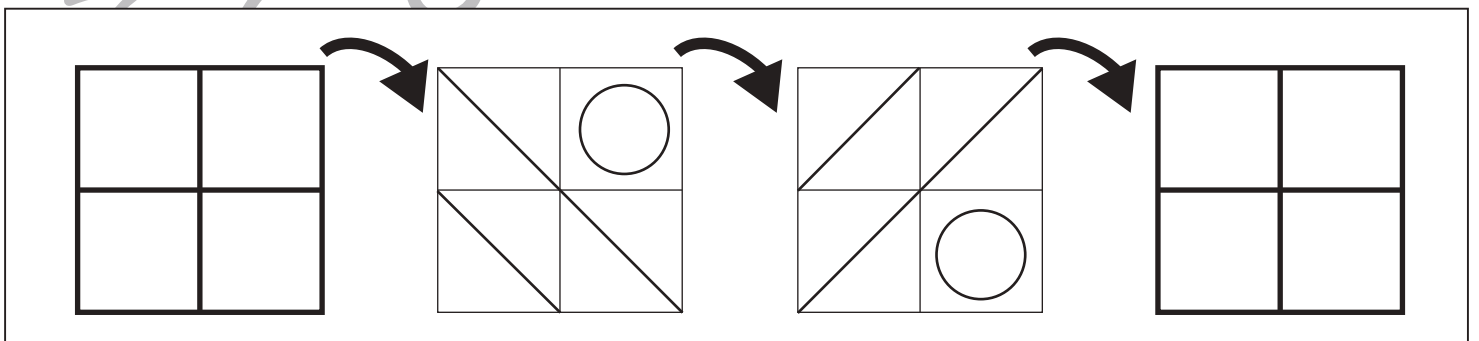
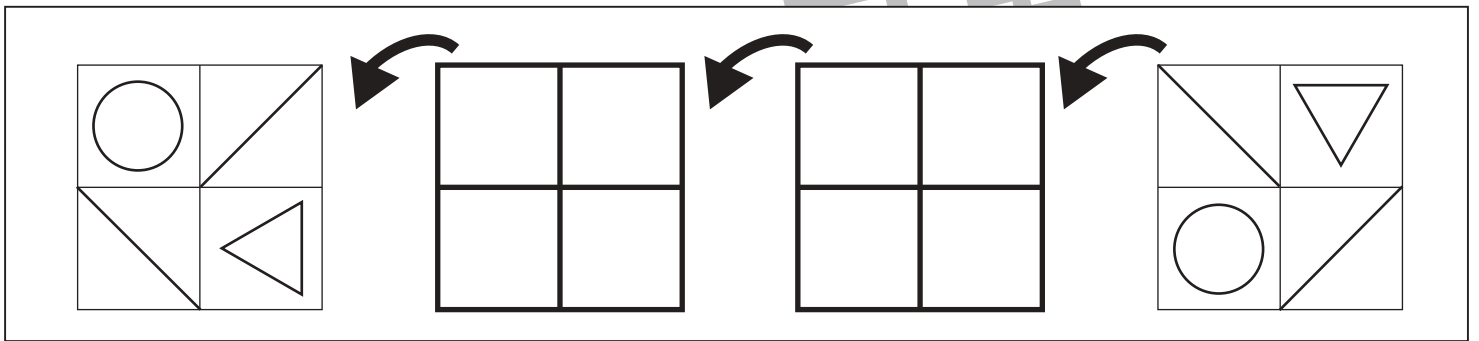
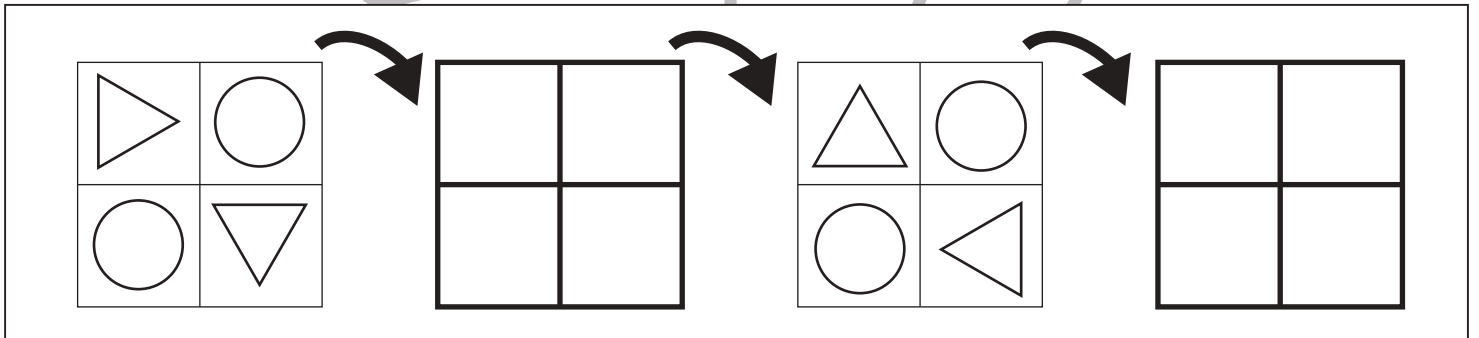
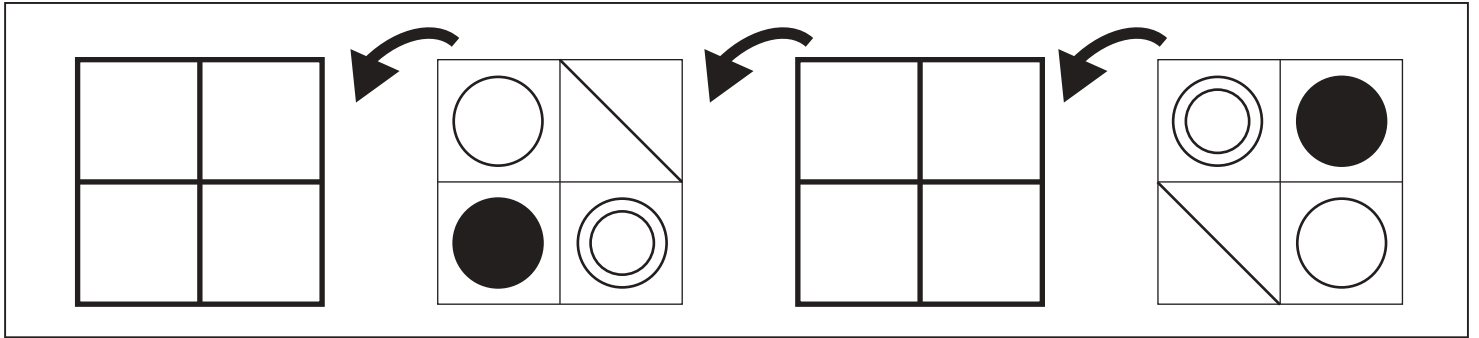


※1. このプリントは、しながわ・目黒こどもスクールのウェブサイトからダウンロードできます。無断複写・引用はご遠慮ください。

※2. このプリントを活用したオンライン授業のスケジュールは、しながわ・目黒こどもスクールのウェブサイトでご確認ください。



四角を矢印の方向へ倒したときの様子が順番に並んでいます。空いている四角の見え方を考えてかきます。



※1. このプリントは、しながわ・目黒こどもスクールのウェブサイトからダウンロードできます。無断複写・引用はご遠慮ください。
 ※2. このプリントを活用したオンライン授業のスケジュールは、しながわ・目黒こどもスクールのウェブサイトでご確認ください。




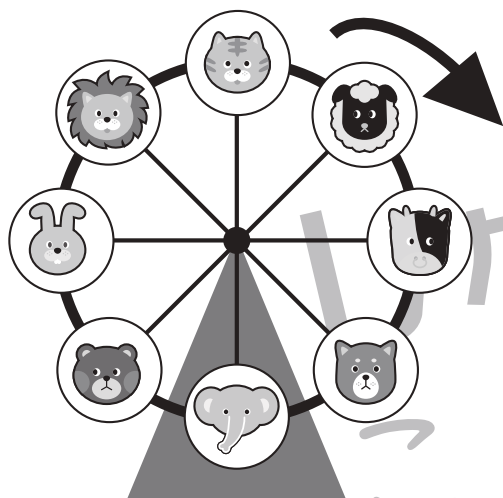

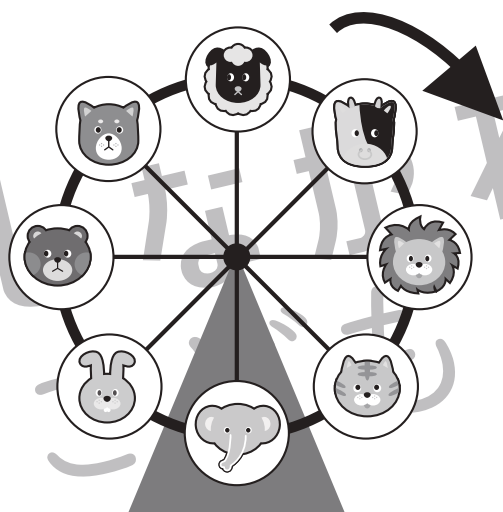

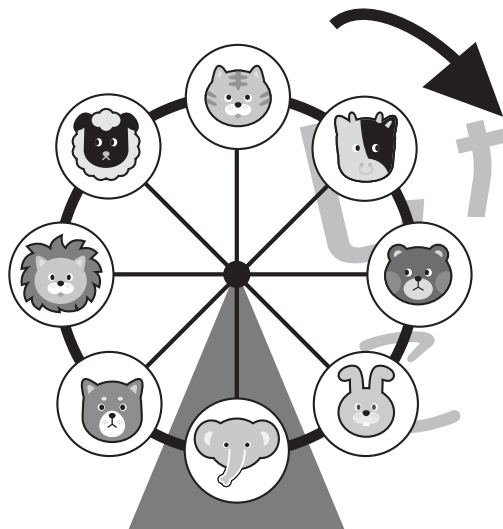
おうちで、やろう。

Study at home. 小学校受験の家庭学習教材

推理：観覧車 10

動物たちが観覧車に乗っており、矢印の方向に回っています。

それぞれ左の観覧車のゴンドラが右の観覧車のゴンドラになったとき、それぞれの印の場所のゴンドラに乗っている動物を考えて右の四角の中にそれぞれの印をつけます。



※1. このプリントは、しながわ・目黒こどもスクールのウェブサイトでダウンロードができます。無断複写・引用はご遠慮ください。

※2. このプリントを活用したオンライン授業のスケジュールは、しながわ・目黒こどもスクールのウェブサイトでご確認ください。






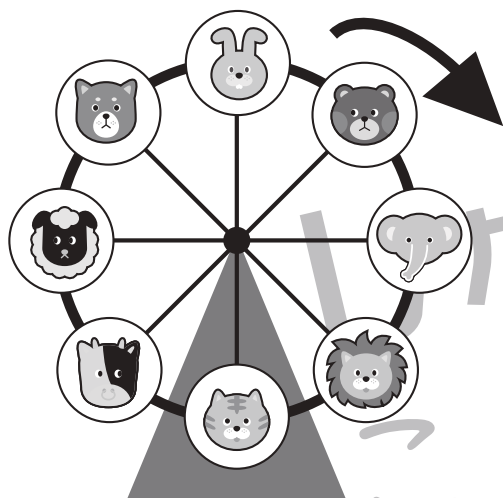
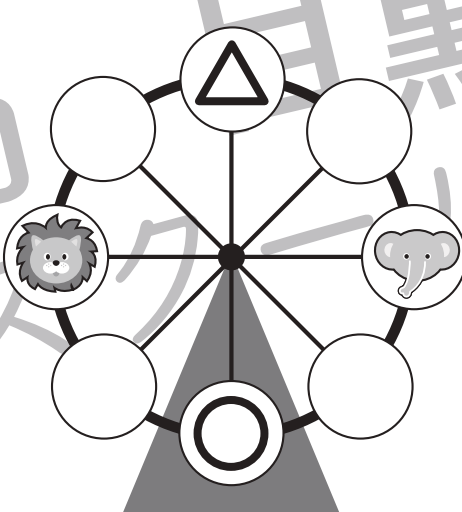

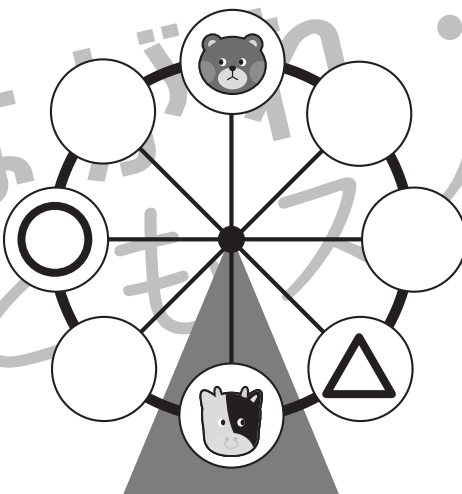

おうちで、やろう。

Study at home. 小学校受験の家庭学習教材

推理：観覧車 11

動物たちが観覧車に乗っており、矢印の方向に回っています。

それぞれ左の観覧車のゴンドラが右の観覧車のゴンドラになったとき、それぞれの印の場所のゴンドラに乗っている動物を考えて右の四角の中にそれぞれの印をつけます。



※1. このプリントは、しながわ・目黒こどもスクールのウェブサイトでダウンロードができます。無断複写・引用はご遠慮ください。

※2. このプリントを活用したオンライン授業のスケジュールは、しながわ・目黒こどもスクールのウェブサイトでご確認ください。






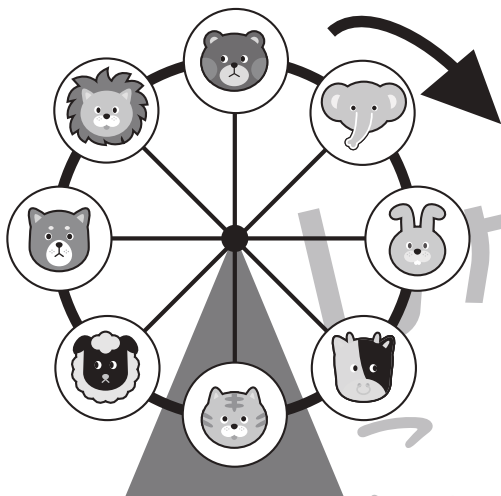

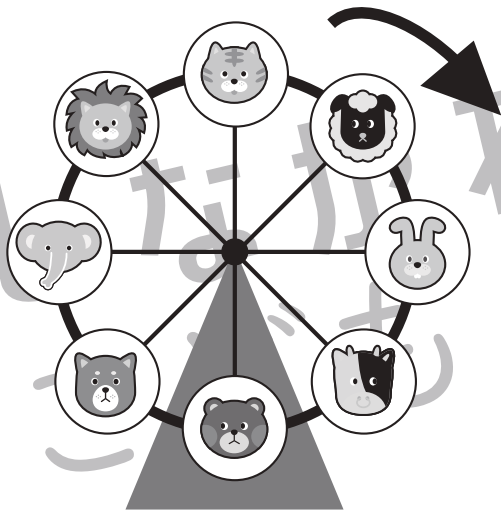
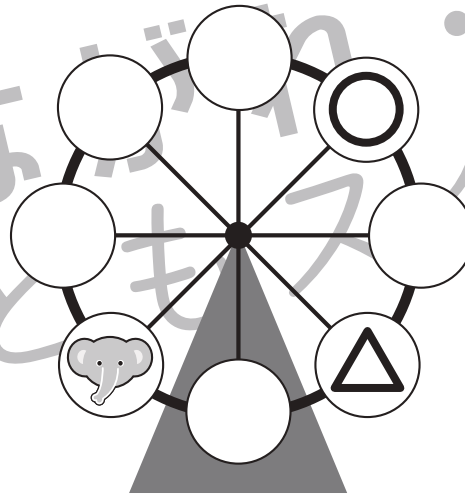

おうちで、やろう。

Study at home. 小学校受験の家庭学習教材

推理：観覧車 12

動物たちが観覧車に乗っており、矢印の方向に回っています。

それぞれ左の観覧車のゴンドラが右の観覧車のゴンドラ場所になったとき、それぞれの印の場所のゴンドラに乗っている動物を考えて右の四角の中にそれぞれの印をつけます。



※1. このプリントは、しながわ・目黒こどもスクールのウェブサイトでダウンロードができます。無断複写・引用はご遠慮ください。

※2. このプリントを活用したオンライン授業のスケジュールは、しながわ・目黒こどもスクールのウェブサイトでご確認ください。






おうちで、やろう。

Study at home. 小学校受験の家庭学習教材

処理：計数 19

上の四角の中の形の数をかぞえて、その数だけ下の同じ絵の右に○をかきます。
形は重なっているものもありますので、しっかり探しましょう。








※1. このプリントは、しながわ・目黒こどもスクールのウェブサイトでダウンロードができます。無断複写・引用はご遠慮ください。
※2. このプリントを活用したオンライン授業のスケジュールは、しながわ・目黒こどもスクールのウェブサイトでご確認ください。










おうちで、やろう。

Study at home. 小学校受験の家庭学習教材

□頭試問 10

下の絵は遊園地の乗り物の絵です。下の質問に答えましょう。お子さまが答えたことは保護者の方が記入してください。
※この問題に解答はありません。



①上の絵の中で一番はじめに行ってみたいところはどこですか。理由もお話しましょう。

②上の絵の中で行ってみたいくないところはどこですか。理由もお話しましょう。

③観覧車に乗ることになったら、誰と乗りたいですか。2人のお名前を教えてください。

④上の乗り物に1回乗るには1人2枚チケットが必要です。あなたは10枚のチケットを持って遊園地に来ました。持っているチケットをどうやって使いますか。

※1. このプリントは、しながわ・目黒こどもスクールのウェブサイトでダウンロードができます。無断複写・引用はご遠慮ください。

※2. このプリントを活用したオンライン授業のスケジュールは、しながわ・目黒こどもスクールのウェブサイトでご確認ください。






おうちで、やろう。

Study at home. 小学校受験の家庭学習教材

□頭試問 11

いろいろなお手伝いの絵を見て下の質問に答えましょう。お子さまが答えたことは保護者の方が記入してください。

※この問題に解答はありません。



①上の中であなたがやったことがあるお手伝いはなんですか。

②上の中であなたがやったことのないお手伝いはなんですか。

③上の中でいつもお母さんやお父さんがしていて大変だと思うものはどれですか。
どんなところが大変なのかもお話してください。

④お料理のお手伝いをするときに、家族の誰と何を作りたいですか。

※1. このプリントは、しながわ・目黒こどもスクールのウェブサイトでダウンロードができます。無断複写・引用はご遠慮ください。

※2. このプリントを活用したオンライン授業のスケジュールは、しながわ・目黒こどもスクールのウェブサイトでご確認ください。








おうちで、やろう。

Study at home. 小学校受験の家庭学習教材

□頭試問 12

天気の色を見て下の質問に答えましょう。お子さまが答えたことは保護者の方が記入してください。
※この問題に解答はありません。



①今日の天気はどんな天気ですか。

②晴れているときに、外で何をして遊ぶのが好きですか。

③雪の日にはどんな服装で外に出かけますか。

④虹を見たことがありますか。どんなときに虹が出るとおもいますか。

⑤今日は遊園地に行く日です。朝起きると雨が降っていました。あなたはどんな気持ちですか。