







おうちで、やろう。

Study at home. 小学校受験の家庭学習教材

指示の聞き取り 35

このプリントは先生のお話をよく聞いて答える問題になります。

- ①★からスタートして、下に4つ、右に1つ、上に1つ進んだマスに青のクーピーで薄く塗ります。
- ②○からスタートして、上に1つ、左に3つ、下に4つ、左に1つ進んだマスに黄色のクーピーで濃く塗ります。
- ③◎からスタートして、右に1つ、左に3つ、右斜め上に2つ、上に1つ進んだマスに緑で濃く塗ります。
- ④×からスタートして、下に1つ、左斜め下に1つ、左斜め上に2つ、右に2つ、右斜め下に2つ進んだマスに黒で薄く塗ります。

		緑で濃く 塗る		
				
				
	青で薄く 塗る			
黄色で濃く 塗る				黒で薄く 塗る

※1. このプリントは、しながわ・目黒こどもスクールのウェブサイトでダウンロードができます。無断複写・引用はご遠慮ください。
 ※2. このプリントを活用したオンライン授業のスケジュールは、しながわ・目黒こどもスクールのウェブサイトでご確認ください。



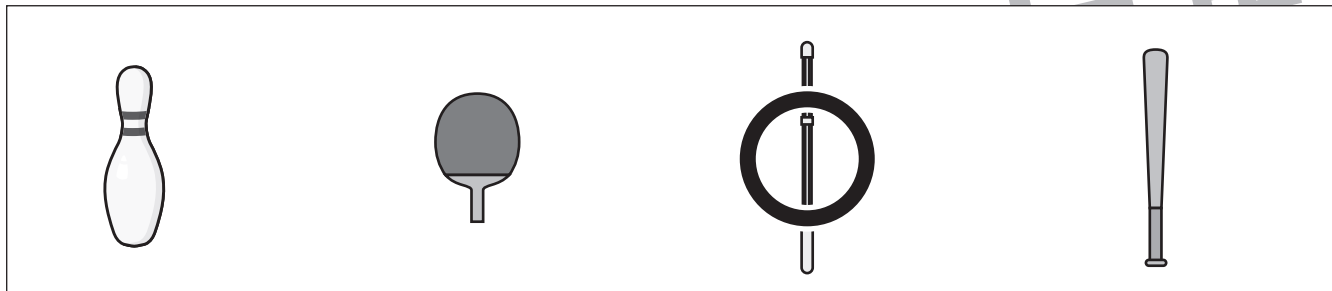
おうちで、やろう。

Study at home. 小学校受験の家庭学習教材


常識：スポーツ8

- ① ボールを使わないスポーツの道具に○をつけます。
- ② ボールを転がしておこなうスポーツの道具に○をつけます。
- ③ 雪がないとできないスポーツの道具に○をつけます。
- ④ 11人対11人でおこなうスポーツの道具に○をつけます。


①



②



③



④



※1. このプリントは、しながわ・目黒こどもスクールのウェブサイトでダウンロードができます。無断複写・引用はご遠慮ください。
※2. このプリントを活用したオンライン授業のスケジュールは、しながわ・目黒こどもスクールのウェブサイトでご確認ください。



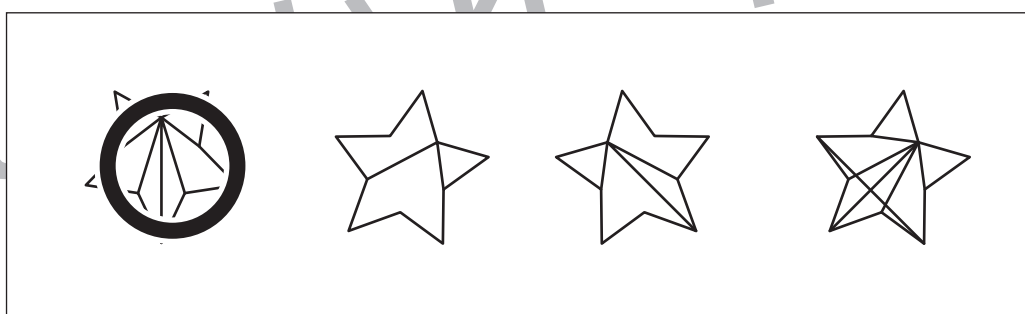

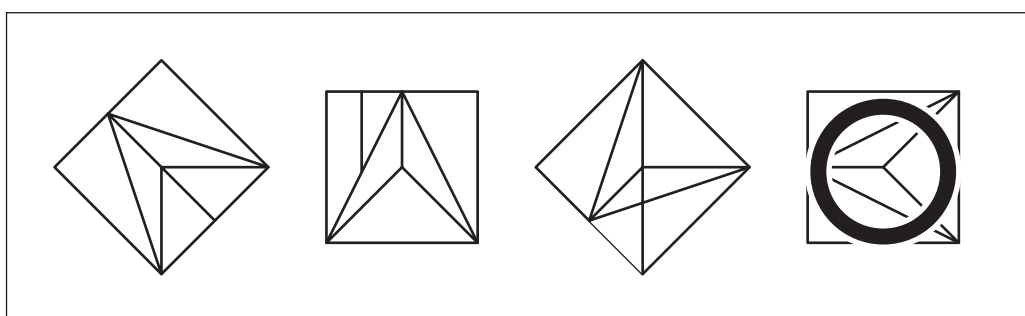
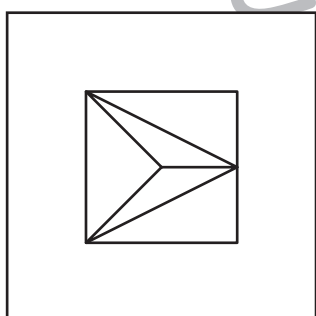
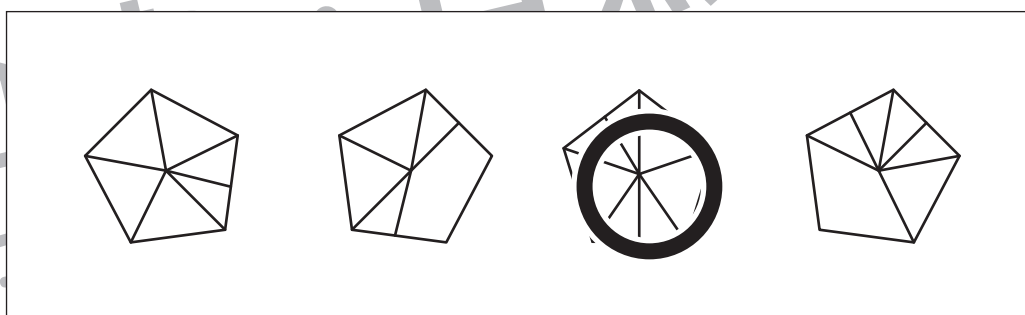
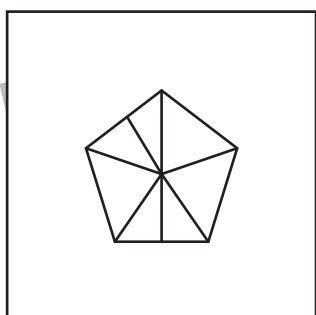
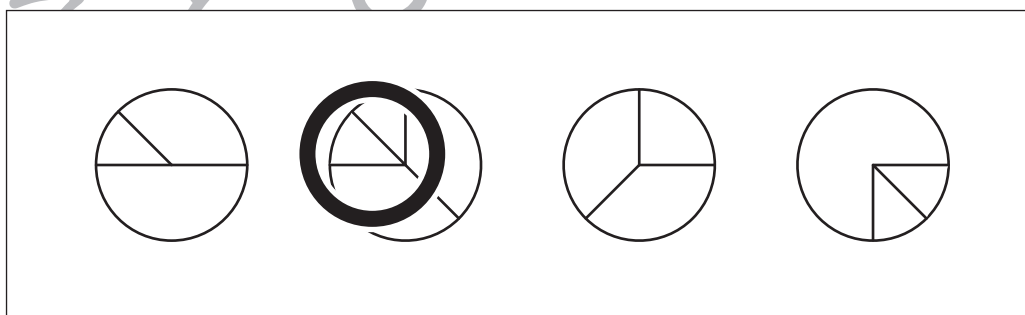
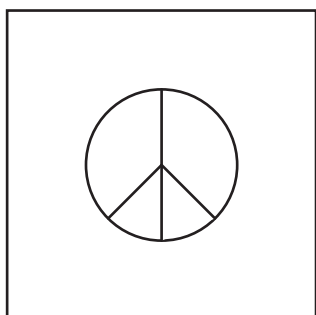
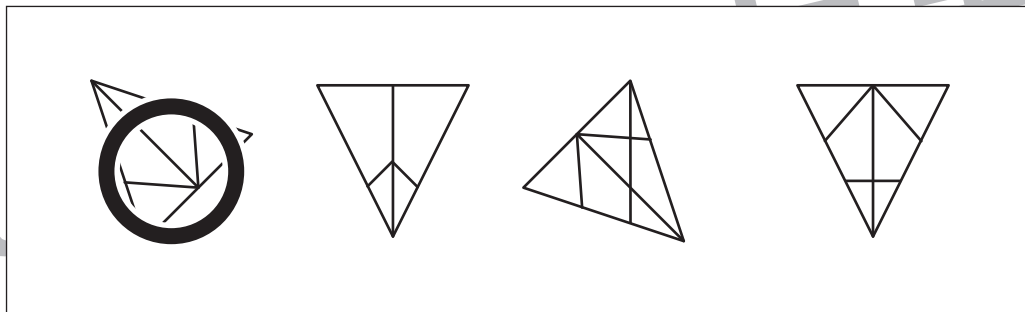
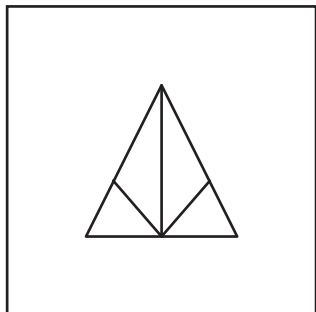


おうちで、やろう。

Study at home. 小学校受験の家庭学習教材

図形：同図形 21

左の四角の形を右の四角から見つけて○をつけます。回転をさせてもよいですが裏返しにはできません。



※1. このプリントは、しながわ・目黒こどもスクールのウェブサイトからダウンロードできます。無断複写・引用はご遠慮ください。

※2. このプリントを活用したオンライン授業のスケジュールは、しながわ・目黒こどもスクールのウェブサイトでご確認ください。





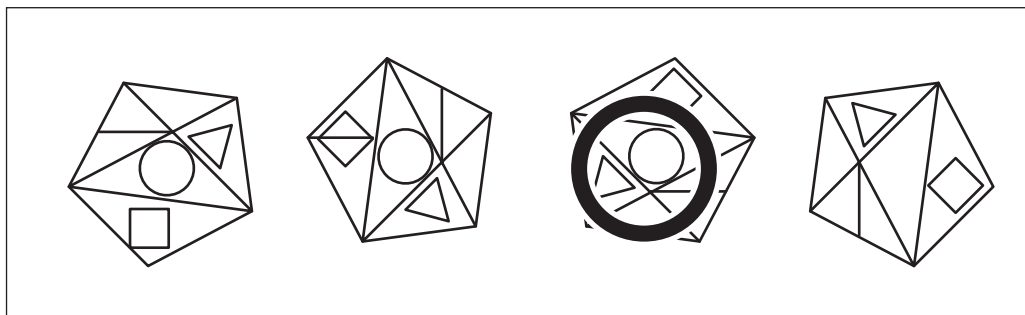
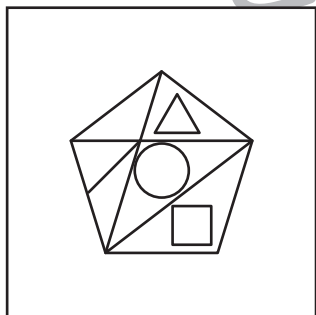
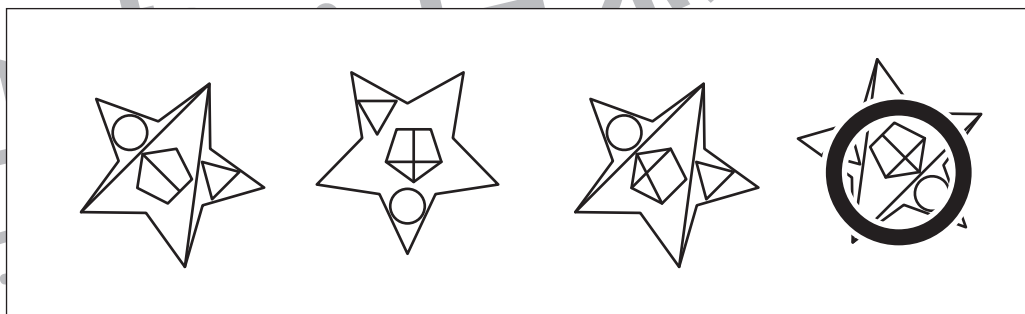







おうちで、やろう。

Study at home. 小学校受験の家庭学習教材

図形：同図形 22

左の四角の形を右の四角から見つけて○をつけます。回転をさせてもよいですが裏返しにはできません。



※1. このプリントは、しながわ・目黒こどもスクールのウェブサイトからダウンロードできます。無断複写・引用はご遠慮ください。
※2. このプリントを活用したオンライン授業のスケジュールは、しながわ・目黒こどもスクールのウェブサイトでご確認ください。





おうちで、やろう。

Study at home. 小学校受験の家庭学習教材

数量：多少 20

- ① 1番下の段の黒が1番多い形に○をつけます。
- ② 1番上の段の黒が1番多い形に○をつけます。
- ③ 1番下の段の黒が1番少ない形に○をつけます。
- ④ 真ん中の段の黒が1番少ない形に○をつけます。

①

②

③

④

※1. このプリントは、しながわ・目黒こどもスクールのウェブサイトでダウンロードができます。無断複写・引用はご遠慮ください。
 ※2. このプリントを活用したオンライン授業のスケジュールは、しながわ・目黒こどもスクールのウェブサイトでご確認ください。



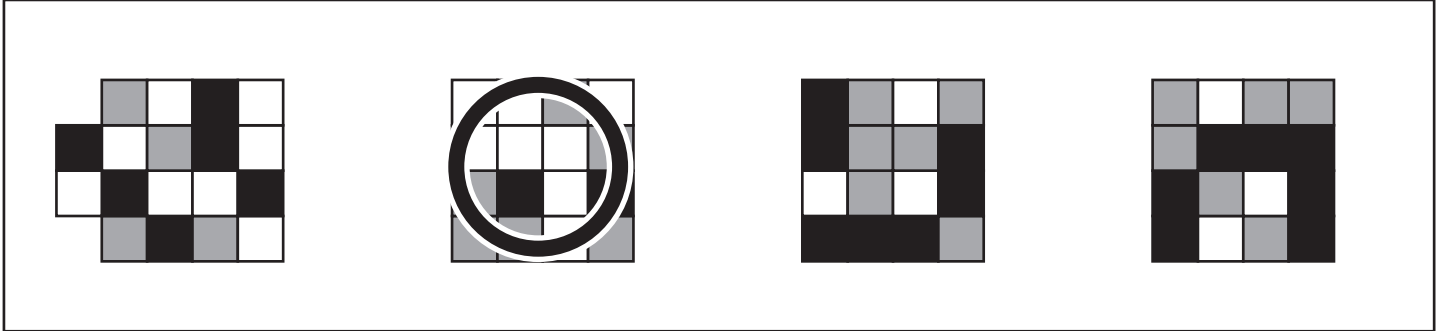
おうちで、やろう。

Study at home. 小学校受験の家庭学習教材

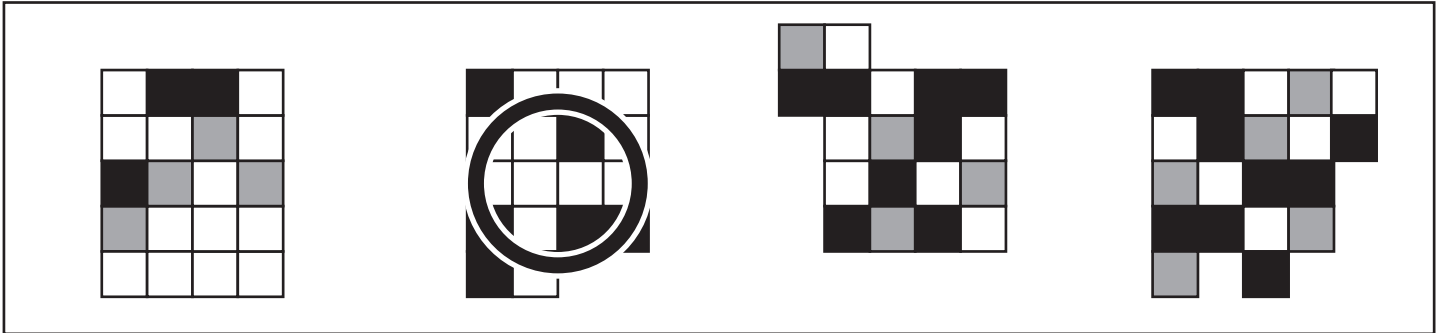
数量：多少 21

- ① 1番下の段の灰色が1番多い形に○をつけます。
- ② 1番上の段の白が1番多い形に○をつけます。
- ③ 下から2段目の灰色が1番少ない形に○をつけます。
- ④ 真ん中の段の黒が1番少ない形に○をつけます。

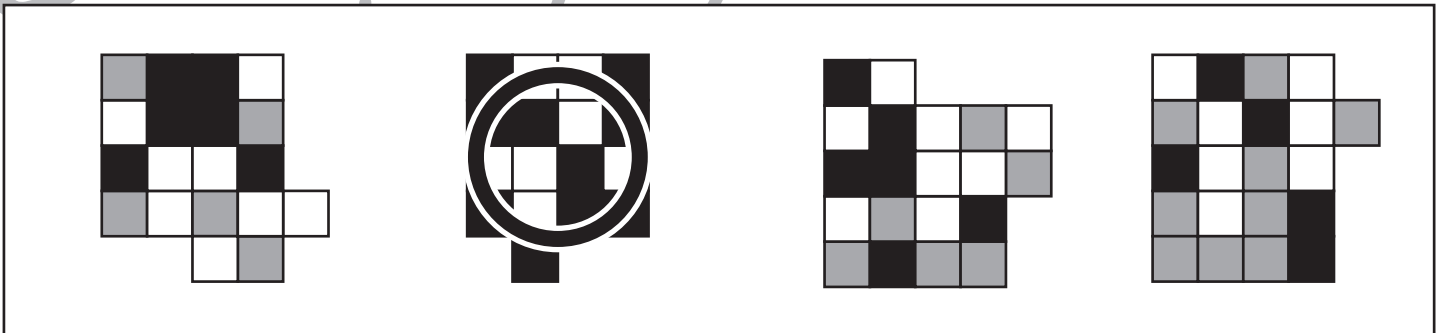
①



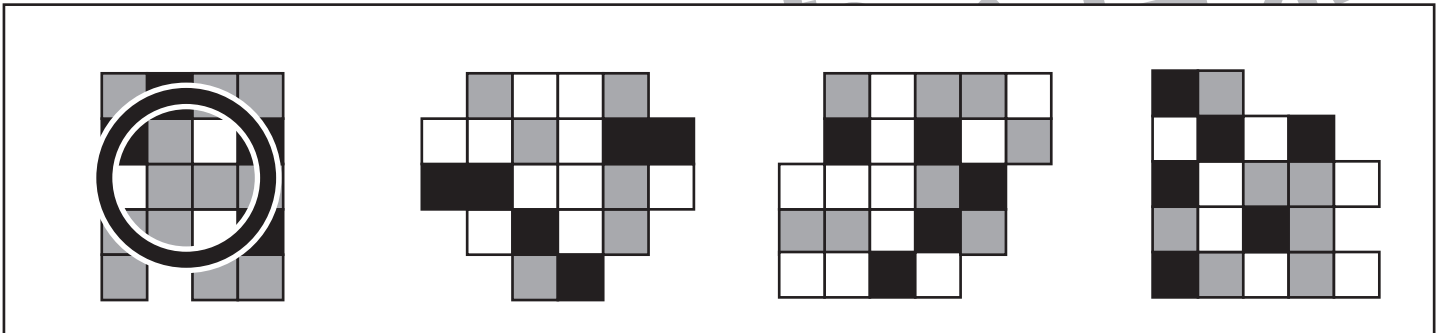
②



③



④



※1. このプリントは、しながわ・目黒こどもスクールのウェブサイトでダウンロードができます。無断複写・引用はご遠慮ください。
 ※2. このプリントを活用したオンライン授業のスケジュールは、しながわ・目黒こどもスクールのウェブサイトでご確認ください。



おうちで、やろう。

Study at home. 小学校受験の家庭学習教材

数量：分割 25

左の四角の中にあるクッキーを右の四角の中に並んでいるお友だちに分けます。矢印の順番に女の子には1枚ずつ、男の子には2枚ずつ分けたとき、一番最後にもらえる子は誰ですか。その子に○をつけます。

→

←

→

→

←

※1. このプリントは、しながわ・目黒こどもスクールのウェブサイトでダウンロードができます。無断複写・引用はご遠慮ください。

※2. このプリントを活用したオンライン授業のスケジュールは、しながわ・目黒こどもスクールのウェブサイトでご確認ください。



おうちで、やろう。

Study at home. 小学校受験の家庭学習教材

数量：分割 26

左の四角の中にあるクッキーとあめを右の四角の中に並んでいるお友だちに分けます。矢印の順番に女の子と男の子にクッキーを2枚、あめを1つつつ分けたときに一番最後にもらえる子は誰ですか。その子に○をつけます。

※1. このプリントは、しながわ・目黒こどもスクールのウェブサイトでダウンロードができます。無断複写・引用はご遠慮ください。
 ※2. このプリントを活用したオンライン授業のスケジュールは、しながわ・目黒こどもスクールのウェブサイトでご確認ください。



おうちで、やろう。

Study at home. 小学校受験の家庭学習教材

図形：重ね回転 11

左の2枚の四角は透明な板です。2枚の四角を重ねた後、右に1度倒した見え方を考えて右の四角にかきます。

※1. このプリントは、しながわ・目黒こどもスクールのウェブサイトでダウンロードができます。無断複写・引用はご遠慮ください。

※2. このプリントを活用したオンライン授業のスケジュールは、しながわ・目黒こどもスクールのウェブサイトでご確認ください。




おうちで、やろう。

Study at home. 小学校受験の家庭学習教材

処理：計数 19


上の四角の中の絵の数をかぞえて、その数だけ下の四角の同じ絵の四角に○をかきます。
この問題はスピードを意識して取り組む練習をしてみましょう。



○×8



○×10



○×8



○×11