





# おうちで、やろう。

Study at home. 小学校受験の家庭学習教材

常識：季節 23

左端の絵と同じ季節の絵には○、左端の絵の季節の一つ前の季節の絵には△をつけます。



※1. このプリントは、しながわ・目黒こどもスクールのウェブサイトでダウンロードができます。無断複写・引用はご遠慮ください。  
 ※2. このプリントを活用したオンライン授業のスケジュールは、しながわ・目黒こどもスクールのウェブサイトでご確認ください。

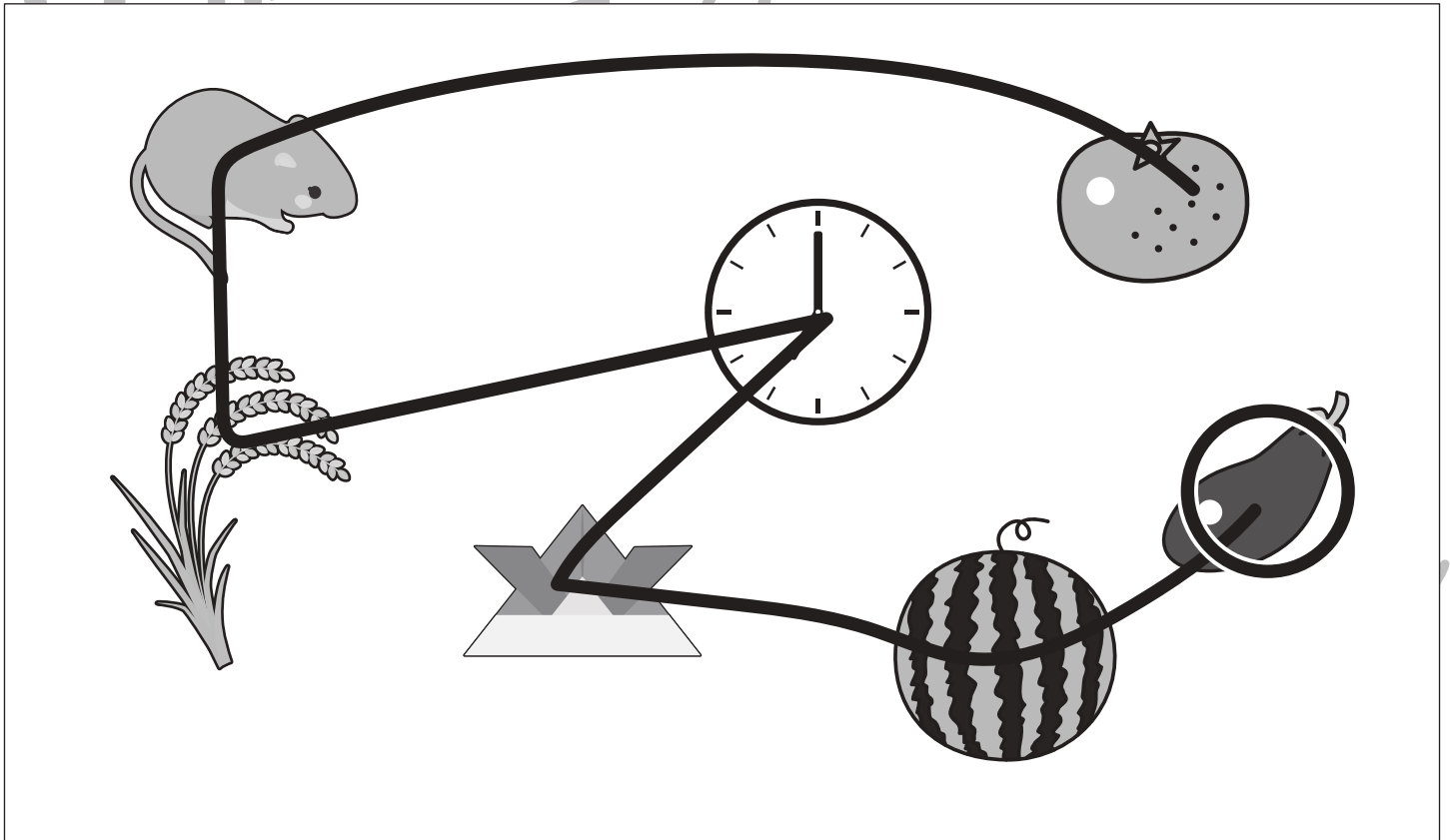
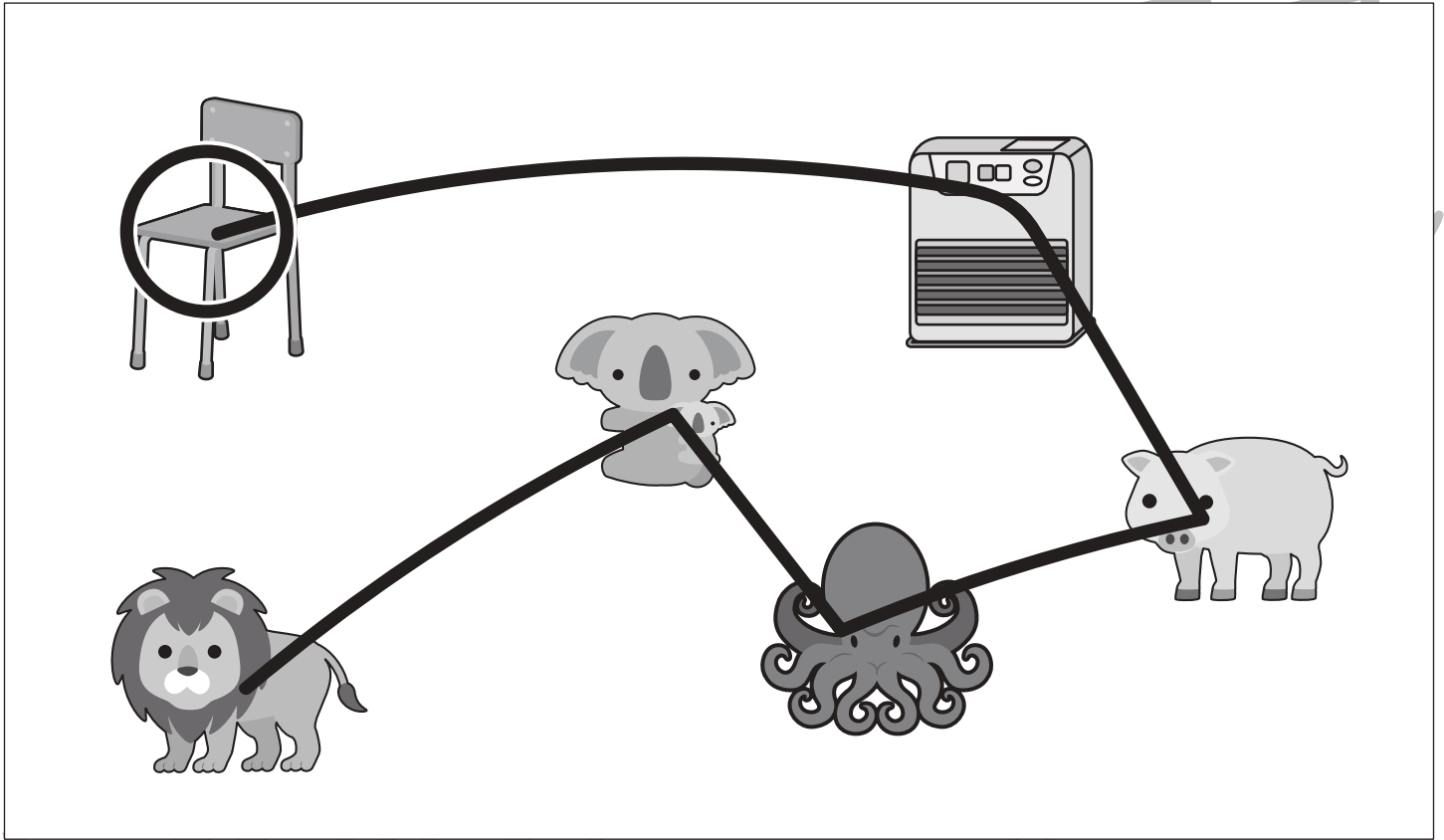


# おうちで、やろう。

Study at home. 小学校受験の家庭学習教材

言語：しりとり 26

四角の中の絵をすべて使ってしりとりをします。最後が「ん」で終わるように線をつないだ時、最初にくる絵は何ですか。その絵を○で囲みます。



※1. このプリントは、しながわ・目黒こどもスクールのウェブサイトでダウンロードができます。無断複写・引用はご遠慮ください。

※2. このプリントを活用したオンライン授業のスケジュールは、しながわ・目黒こどもスクールのウェブサイトでご確認ください。

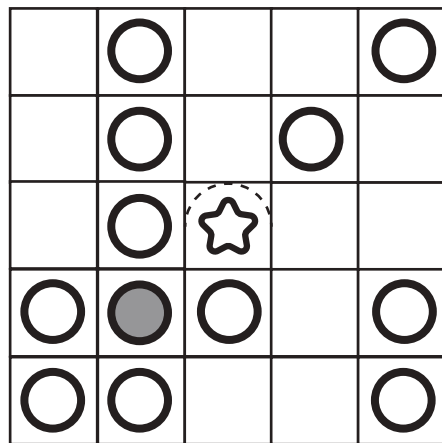
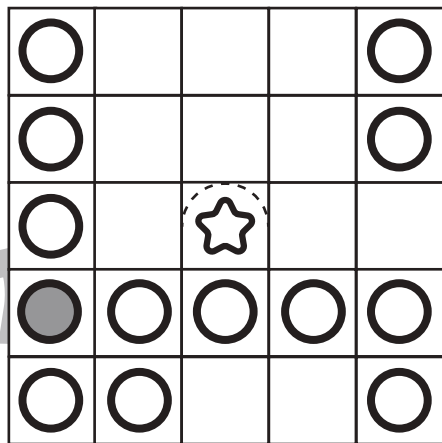
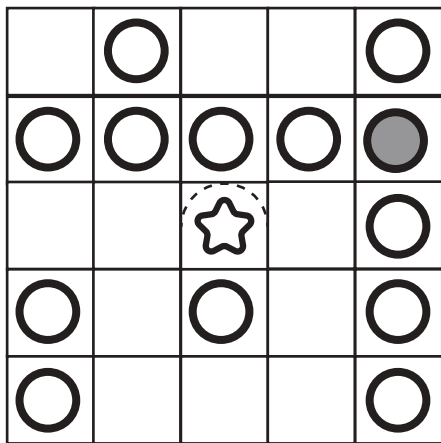
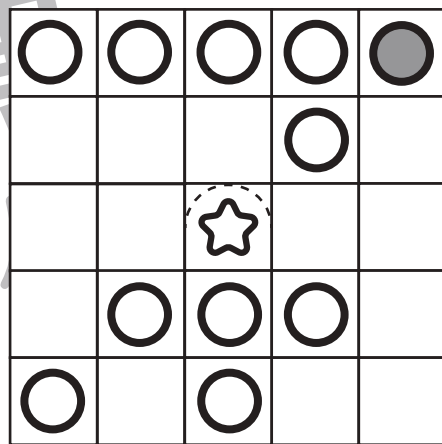
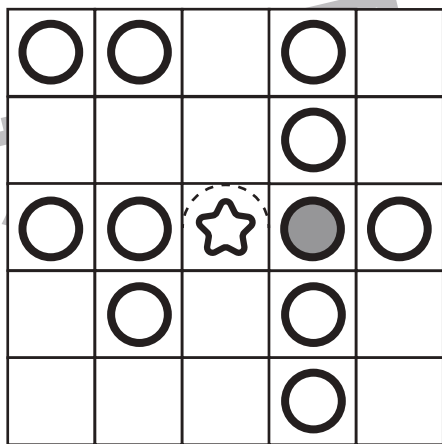
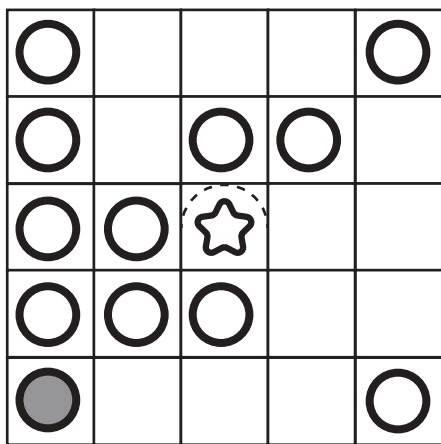
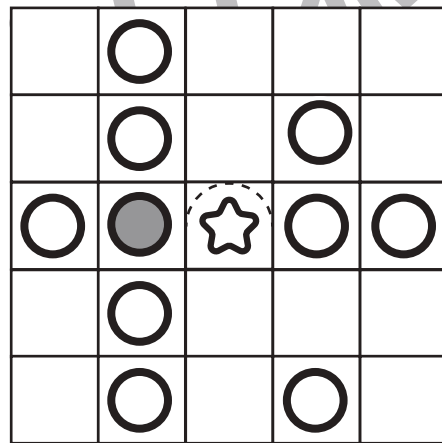
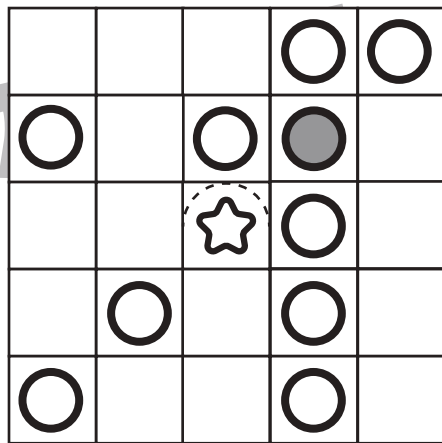
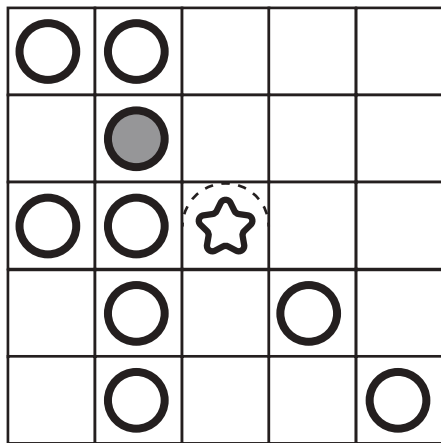


# おうちで、やろう。

Study at home. 小学校受験の家庭学習教材

図形：ビンゴ9

真ん中は星のマークで枠が埋まっています。空いているどこかのマスに○を1つかくと、縦・横・斜めのどこかにマークが5つ並び列が2つできます。どこのマスかを考えてそのマスに○をかきます。



※1. このプリントは、しながわ・目黒こどもスクールのウェブサイトでダウンロードができます。無断複写・引用はご遠慮ください。  
※2. このプリントを活用したオンライン授業のスケジュールは、しながわ・目黒こどもスクールのウェブサイトでご確認ください。







# おうちで、やろう。

Study at home. 小学校受験の家庭学習教材

## 推理：高さ1

四角の中には家族やお友達が並んでいます。高い順から並び変えたとき、2番目に大きい人に○、2番目に小さい人に△をつけます。



※1. このプリントは、しながわ・目黒こどもスクールのウェブサイトからダウンロードができます。無断複写・引用はご遠慮ください。  
※2. このプリントを活用したオンライン授業のスケジュールは、しながわ・目黒こどもスクールのウェブサイトでご確認ください。

























# おうちで、やろう。

Study at home. 小学校受験の家庭学習教材

数量：余る数 13

左の四角の中の動物たちで真ん中の四角の中の食べ物を同じ数だけ分けます。余った食べ物の数だけ右の四角に○をかきます。

		 ○ × 2  ○ × 1 
		 ○ × 3  ○ × 2  ○ × 3
		 ○ × 1  ○ × 2  ○ × 2
		 ○ × 3  ○ × 3  ○ × 3

※1. このプリントは、しながわ・目黒こどもスクールのウェブサイトからダウンロードできます。無断複写・引用はご遠慮ください。

※2. このプリントを活用したオンライン授業のスケジュールは、しながわ・目黒こどもスクールのウェブサイトでご確認ください。



# おうちで、やろう。

Study at home. 小学校受験の家庭学習教材

数量：加減 45

男の子と女の子がそれぞれ飴を持っています。じゃんけんをして勝ったら負けた方から1つ飴がもらえます。男の子と女の子が持っている飴はいくつ違いますか。その数だけ右の四角に○をかきます。

				$\bigcirc \times 5$
				$\bigcirc \times 4$
				$\bigcirc \times 3$
				$\bigcirc \times 4$

※1. このプリントは、しながわ・目黒こどもスクールのウェブサイトでダウンロードができます。無断複写・引用はご遠慮ください。

※2. このプリントを活用したオンライン授業のスケジュールは、しながわ・目黒こどもスクールのウェブサイトでご確認ください。



# おうちで、やろう。

Study at home. 小学校受験の家庭学習教材

数量：加減 46

男の子と女の子がそれぞれ飴を持っています。じゃんけんをして勝ったら負けた方から2つ飴がもらえます。男の子と女の子が持っている飴はいくつ違いますか。その数だけ右の四角に○をかきます。

				$\bigcirc \times 4$
				$\bigcirc \times 5$
				$\bigcirc \times 3$
				$\bigcirc \times 6$

※1. このプリントは、しながわ・目黒こどもスクールのウェブサイトでダウンロードができます。無断複写・引用はご遠慮ください。

※2. このプリントを活用したオンライン授業のスケジュールは、しながわ・目黒こどもスクールのウェブサイトでご確認ください。




# おうちで、やろう。

Study at home. 小学校受験の家庭学習教材

数量：計数 58

- ①クマが魚を釣っています。海に泳いでいる魚を4匹釣ったら残り何匹になりますか。その数だけ○をかきます。
- ②クマ3匹でおにぎりを仲良く同じ数で分けます。それぞれいくつずつもらえますか。その数だけ○をかきます。
- ③黒いクマは貝殻を3つ持っています。砂浜に落ちている貝殻を3つ拾うと、全部でいくつになりますか。その数だけ○をかきます。
- ④カモメが4羽飛んで行ったあと、2羽帰ってきました。今、カモメは何羽いますか。その数だけ○をかきます。
- ⑤カニが海の中から3匹やってきて、砂の中に隠れていた2匹も出てきました。砂浜にいるカニは全部で何匹ですか。その数だけ○をかきます。



① ○ × 5

② ○ × 3

③ ○ × 6

④ ○ × 2

⑤ ○ × 7

※1. このプリントは、しながわ・目黒こどもスクールのウェブサイトでダウンロードができます。無断複写・引用はご遠慮ください。  
 ※2. このプリントを活用したオンライン授業のスケジュールは、しながわ・目黒こどもスクールのウェブサイトでご確認ください。