


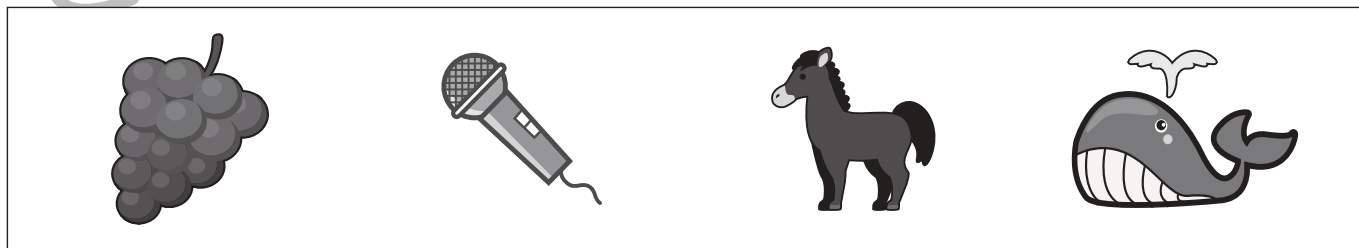





おうちで、やろう。

Study at home. 小学校受験の家庭学習教材

言語：しりとり 27

四角の中の絵を使ってしりとりをします。すべての絵を使うときはじめから2番目になるものはどれですか。その絵に○をつけましょう。



※1. このプリントは、しながわ・目黒こどもスクールのウェブサイトでダウンロードができます。無断複写・引用はご遠慮ください。
※2. このプリントを活用したオンライン授業のスケジュールは、しながわ・目黒こどもスクールのウェブサイトでご確認ください。



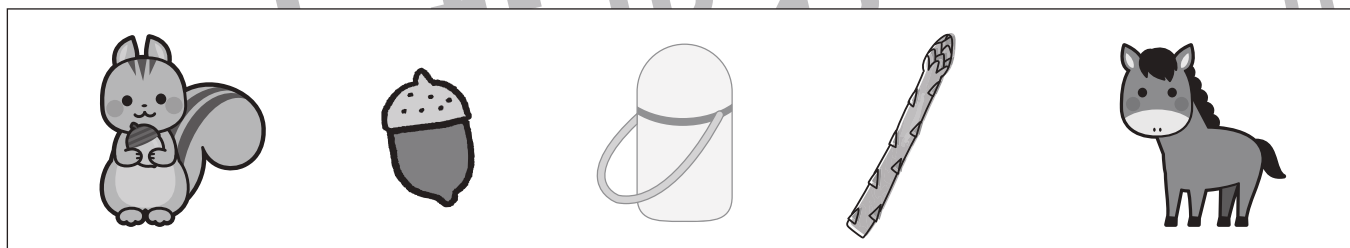






おうちで、やろう。

Study at home. 小学校受験の家庭学習教材

言語：しりとり 28

四角の中のものにしりとりをします。できるだけ長くしりとりをしたとき、使わないものに○をつけます。



※1. このプリントは、しながわ・目黒こどもスクールのウェブサイトでダウンロードができます。無断複写・引用はご遠慮ください。
※2. このプリントを活用したオンライン授業のスケジュールは、しながわ・目黒こどもスクールのウェブサイトでご確認ください。




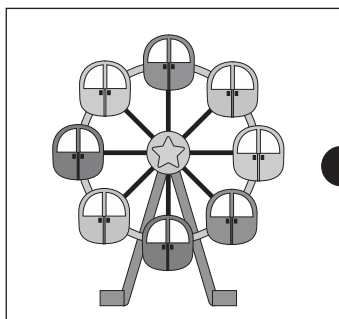








おうちで、やろう。

Study at home. 小学校受験の家庭学習教材

言語：音の理解 45

左と右の四角の中の名前のおわりの音と同じもの同士を線で結びます。



※1. このプリントは、しながわ・目黒こどもスクールのウェブサイトでダウンロードができます。無断複写・引用はご遠慮ください。

※2. このプリントを活用したオンライン授業のスケジュールは、しながわ・目黒こどもスクールのウェブサイトでご確認ください。










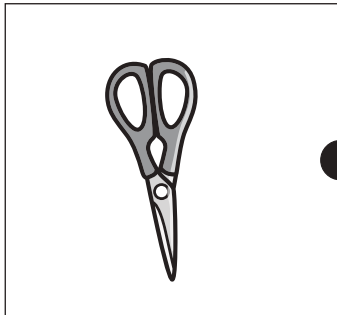




おうちで、やろう。

Study at home. 小学校受験の家庭学習教材

言語：音の理解 46

左の絵の2番目の音と右の絵のはじめの音が同じもの同士を線で結びます。



※1. このプリントは、しながわ・目黒こどもスクールのウェブサイトでダウンロードができます。無断複写・引用はご遠慮ください。
※2. このプリントを活用したオンライン授業のスケジュールは、しながわ・目黒こどもスクールウェブサイトでご確認ください。



おうちで、やろう。

Study at home. 小学校受験の家庭学習教材

図形：移動 49

左のマスの中の記号を左端にある矢印の上から順番に移動させた後の場所を考えて、右のマスにかきます。

↑
→

↗
↗
→
→

→
↗

↓
↗
↗
↑

↗
←
←
←

↑
↗
↘
↘
↘

↗
→
→
↑

→
←
↘
↘
↘
↗

↑
←
←
↓

↑
↗
↓
↘
↗
↘

※1. このプリントは、しながわ・目黒こどもスクールのウェブサイトからダウンロードできます。無断複写・引用はご遠慮ください。
 ※2. このプリントを活用したオンライン授業のスケジュールは、しながわ・目黒こどもスクールのウェブサイトでご確認ください。



おうちで、やろう。

Study at home. 小学校受験の家庭学習教材

図形：移動 50

左のマスの中の記号を左端にある矢印の上から順番に移動させた後の場所を考えて、右のマスにかきます。

※1. このプリントは、しながわ・目黒こどもスクールのウェブサイトでダウンロードができます。無断複写・引用はご遠慮ください。
 ※2. このプリントを活用したオンライン授業のスケジュールは、しながわ・目黒こどもスクールのウェブサイトでご確認ください。



おうちで、やろう。

Study at home. 小学校受験の家庭学習教材

図形：回転鏡 12

左の四角のマスを鏡に映した時の見え方を考えて、真ん中の四角にかきます。その後その形を矢印の方向へ1回倒した時の見え方を考えて一番右のマスのマスにかきます。

			↘	
--	--	--	---	--

			↘	
--	--	--	---	--

			↘	
--	--	--	---	--

			↘	
--	--	--	---	--

			↘	
--	--	--	---	--

※1. このプリントは、しながわ・目黒こどもスクールのウェブサイトからダウンロードができます。無断複写・引用はご遠慮ください。

※2. このプリントを活用したオンライン授業のスケジュールは、しながわ・目黒こどもスクールのウェブサイトでご確認ください。



おうちで、やろう。

Study at home. 小学校受験の家庭学習教材

図形：回転鏡 13

左の四角のマスを鏡に映した時の見え方を考えて、真ん中の四角にかきます。その後その形を矢印の方向へ1回倒した時の見え方を考えて一番右のマスのマスにかきます。

			↘	
--	--	--	---	--

			↘	
--	--	--	---	--

			↘	
--	--	--	---	--

			↘	
--	--	--	---	--

			↘	
--	--	--	---	--

※1. このプリントは、しながわ・目黒こどもスクールのウェブサイトでダウンロードができます。無断複写・引用はご遠慮ください。

※2. このプリントを活用したオンライン授業のスケジュールは、しながわ・目黒こどもスクールのウェブサイトでご確認ください。


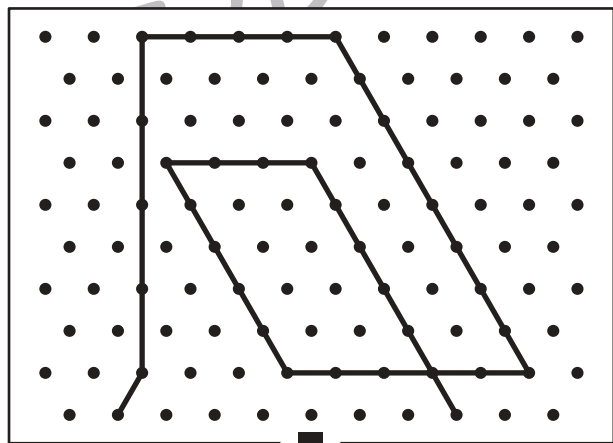

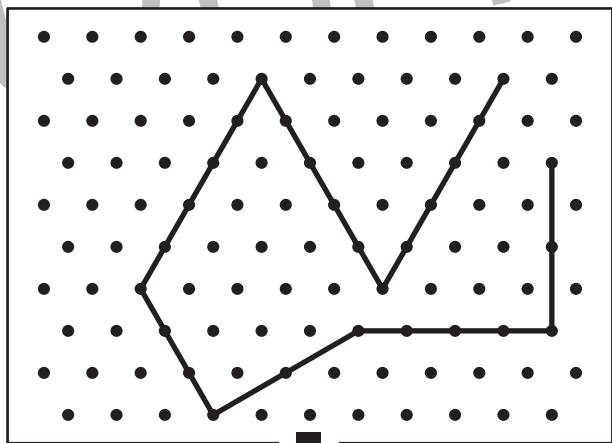

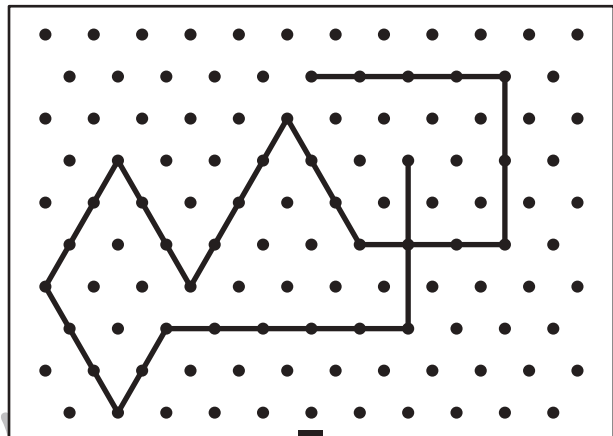

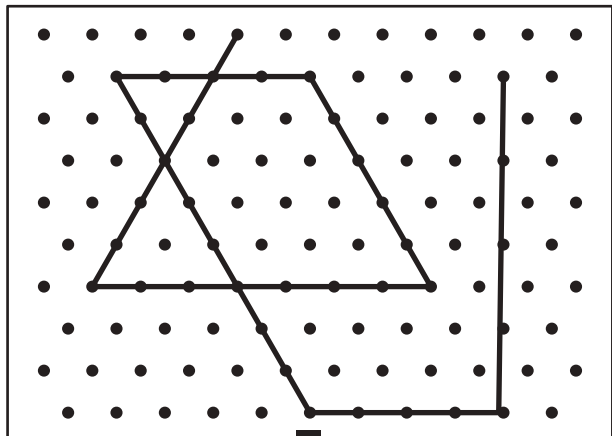


おうちで、やろう。

Study at home. 小学校受験の家庭学習教材

図形：点図形 55

上のお手本と同じになるように下の四角の点と点を結びます。※このプリントに解答はありません。



※1. このプリントは、しながわ・目黒こどもスクールのウェブサイトでダウンロードができます。無断複写・引用はご遠慮ください。

※2. このプリントを活用したオンライン授業のスケジュールは、しながわ・目黒こどもスクールのウェブサイトでご確認ください。




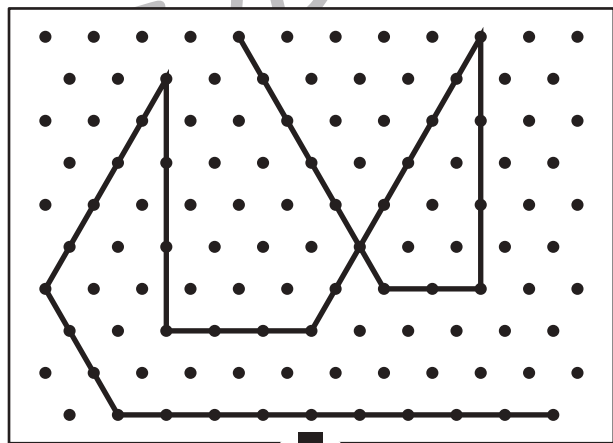

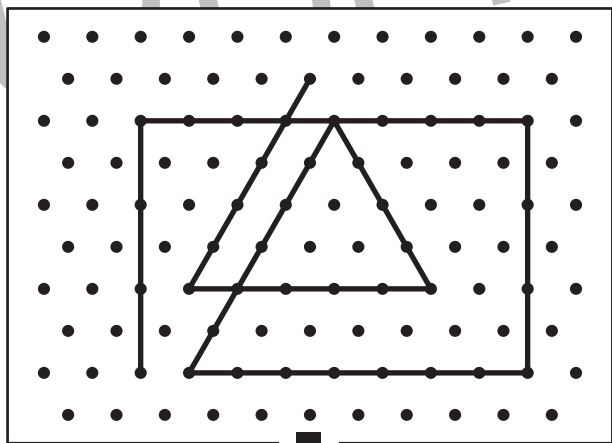

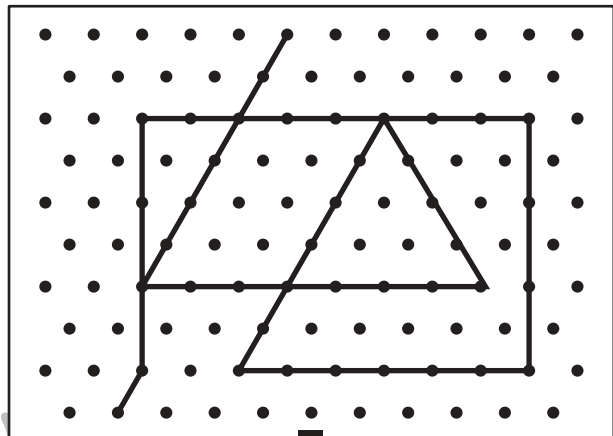

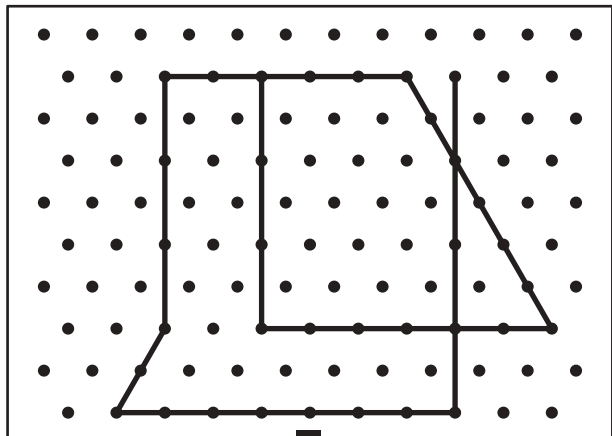


おうちで、よろう。

Study at home. 小学校受験の家庭学習教材

図形：点図形 56

上のお手本と同じになるように下の四角の点と点を結びます。※このプリントに解答はありません。



※1. このプリントは、しながわ・目黒こどもスクールのウェブサイトからダウンロードできます。無断複写・引用はご遠慮ください。

※2. このプリントを活用したオンライン授業のスケジュールは、しながわ・目黒こどもスクールのウェブサイトでご確認ください。

