



おうちで、やろう。

Study at home. 小学校受験の家庭学習教材

図形：折り重ね 57

真ん中の太い線で折り重ねたときの見え方を考えます。このとき黒のマスの隠れないで見えている○を見つけて、下の四角に○をかきます。

※1. このプリントは、しながわ・目黒こどもスクールのウェブサイトでダウンロードができます。無断複写・引用はご遠慮ください。

※2. このプリントを活用したオンライン授業のスケジュールは、しながわ・目黒こどもスクールのウェブサイトでご確認ください。



おうちで、やろう。

Study at home. 小学校受験の家庭学習教材

図形：折り重ね 58

真ん中の太い線で折り重ねたときの見え方を考えます。このとき黒のマスの隠れないで見えている○を見つけて、下の四角に○をかきます。

The puzzle consists of 12 grids arranged in a 3x4 grid. Each grid is a 3x3 grid with a horizontal fold line between the top and bottom rows. The top row of each grid contains three white circles. The bottom row contains three white circles. The middle row is partially blacked out in various patterns. Below each grid is a 3x3 grid where the user is to draw the visible circles from the bottom row of the folded grid.

※1. このプリントは、しながわ・目黒こどもスクールのウェブサイトでダウンロードができます。無断複写・引用はご遠慮ください。

※2. このプリントを活用したオンライン授業のスケジュールは、しながわ・目黒こどもスクールのウェブサイトでご確認ください。



おうちで、やろう。

Study at home. 小学校受験の家庭学習教材

図形：折り重ね 59

真ん中の太い線で折り重ねたときの見え方を考えます。このとき黒のマスの隠れないで見えている○を見つけて、下の四角に○をかきます。

※1. このプリントは、しながわ・目黒こどもスクールのウェブサイトでダウンロードができます。無断複写・引用はご遠慮ください。

※2. このプリントを活用したオンライン授業のスケジュールは、しながわ・目黒こどもスクールのウェブサイトでご確認ください。

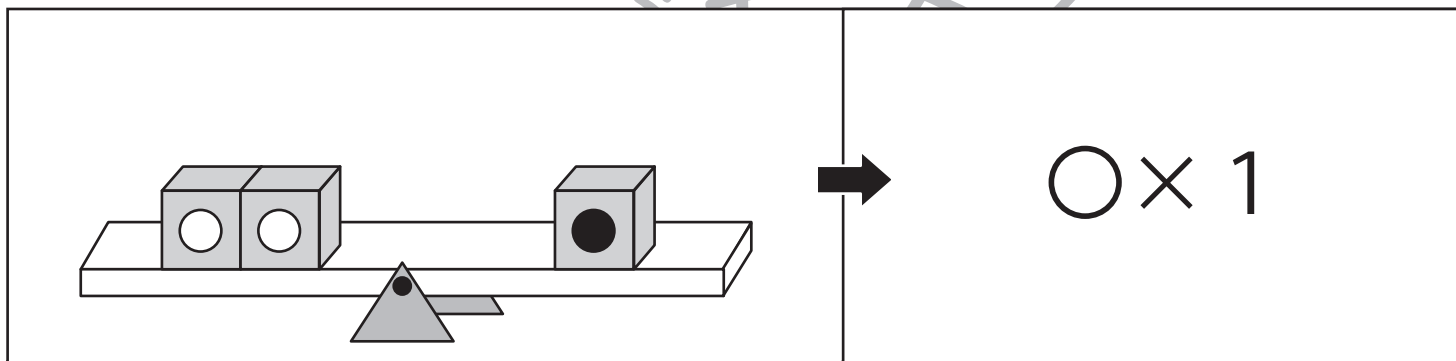
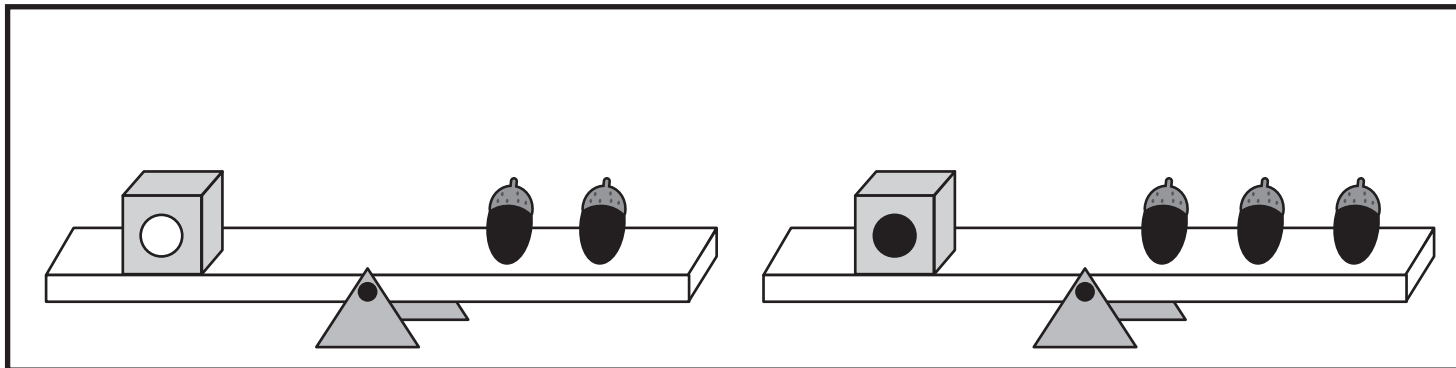


おうちで、やろう。

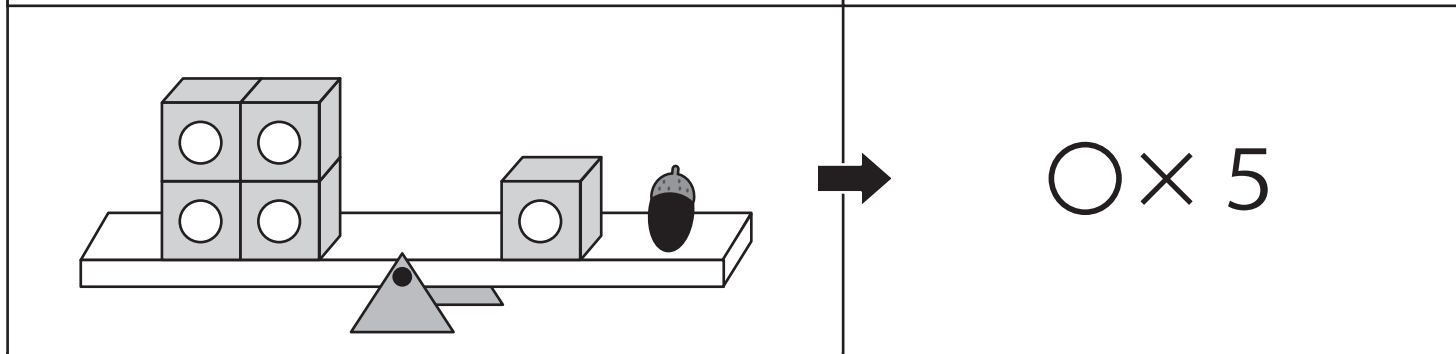
Study at home. 小学校受験の家庭学習教材

数量：置き換え 10

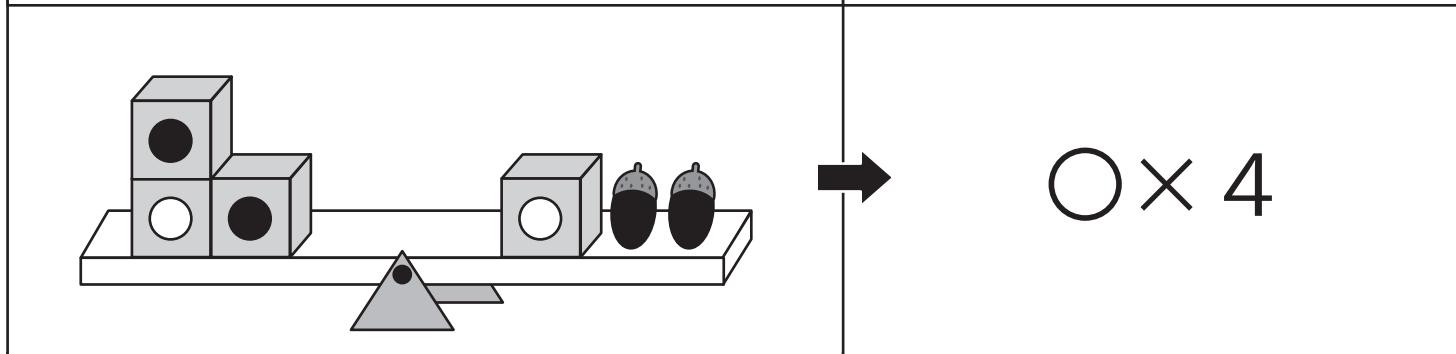
上の太い四角の中がお約束です。記号のついた箱はいくつかのドングリと同じ重さで吊り合っています。下のシーソーが吊り合うためには右側にあといくつのドングリを乗せればよいかを考えて、その数だけ矢印の右の四角に○をかきます。



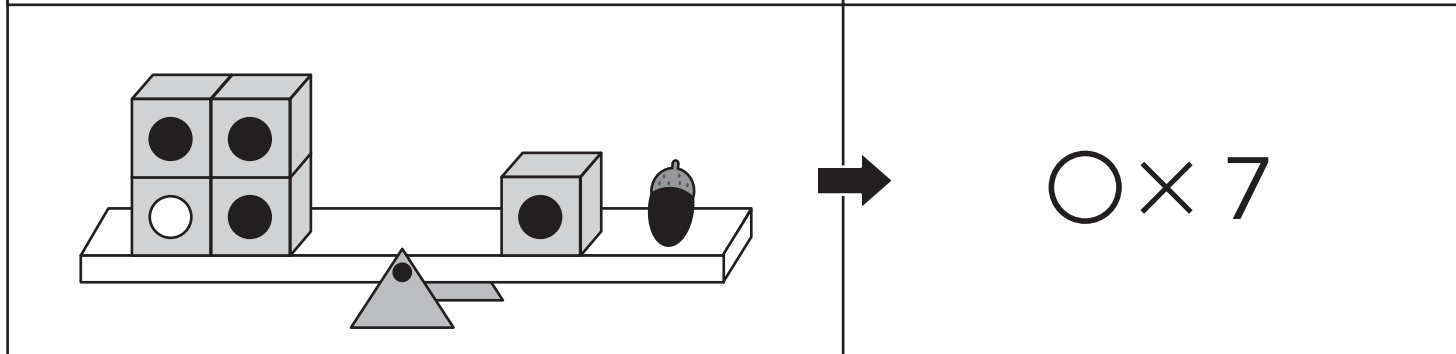
$$\bigcirc \times 1$$



$$\bigcirc \times 5$$



$$\bigcirc \times 4$$



$$\bigcirc \times 7$$

※1. このプリントは、しながわ・目黒こどもスクールのウェブサイトでダウンロードができます。無断複写・引用はご遠慮ください。

※2. このプリントを活用したオンライン授業のスケジュールは、しながわ・目黒こどもスクールのウェブサイトでご確認ください。



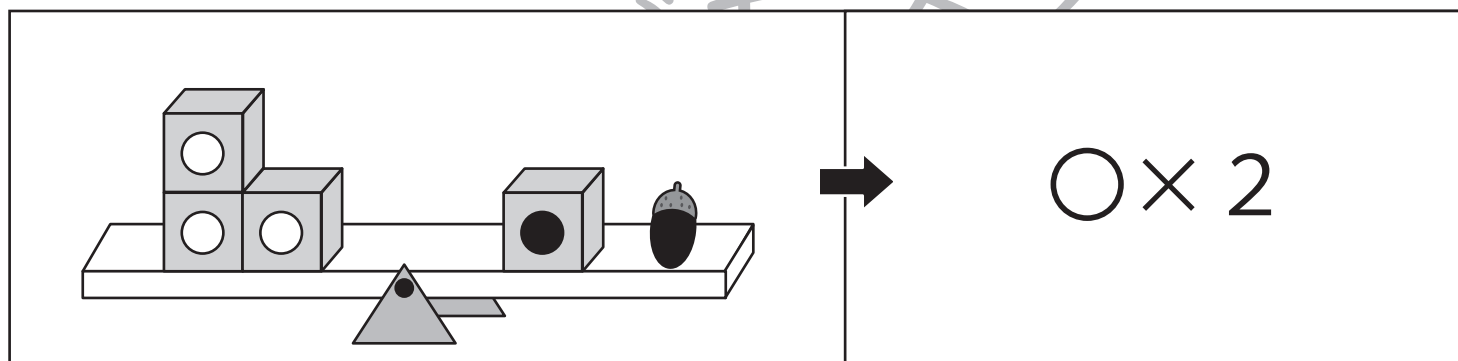
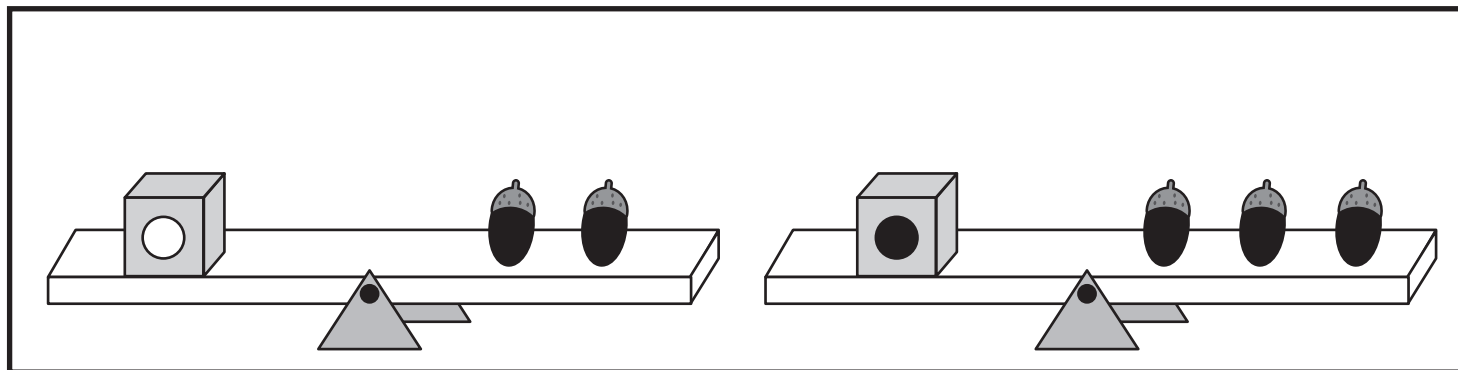


おうちで、やろう。

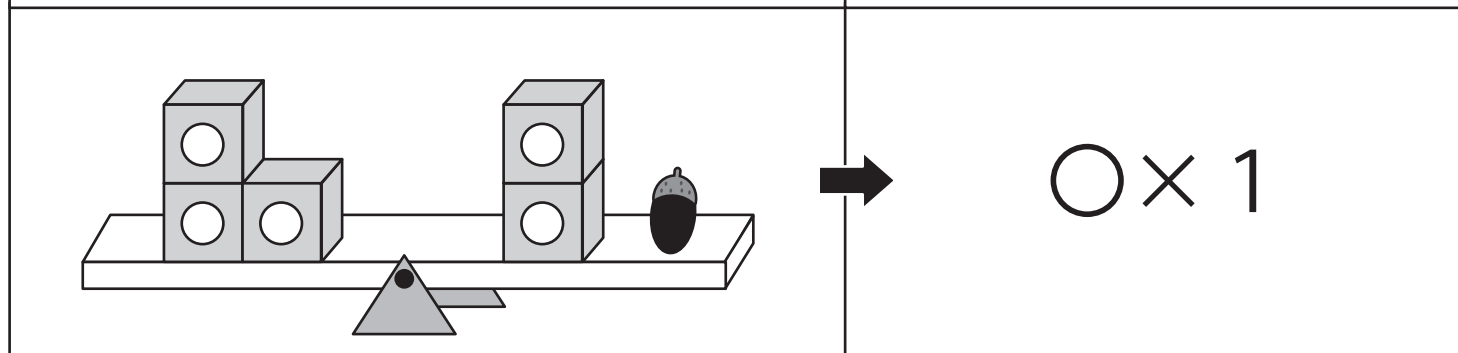
Study at home. 小学校受験の家庭学習教材

推理：重さ 26

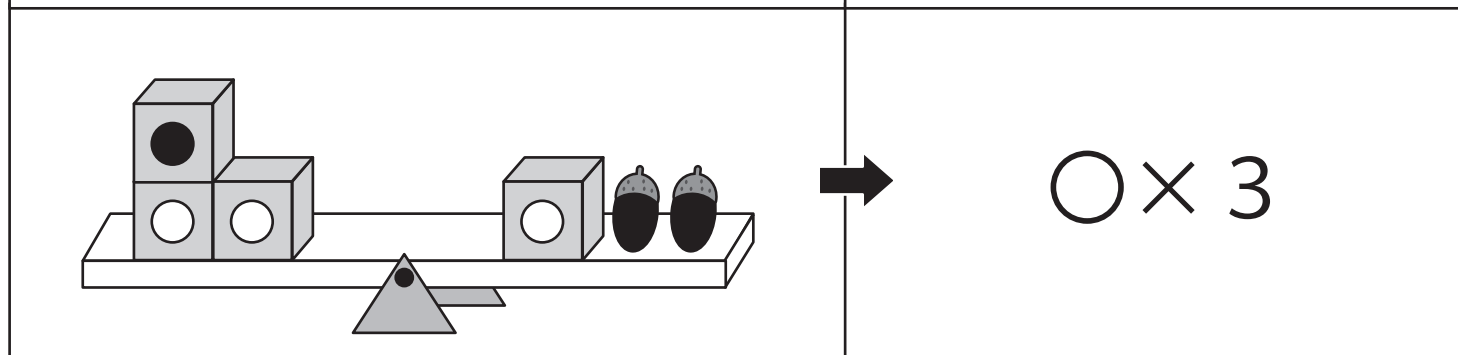
上の太い四角の中がお約束です。記号のついた箱はいくつかのドングリと同じ重さで吊り合っています。下のシーソーが吊り合うためには右側にあといくつのドングリを乗せればよいかを考えて、その数だけ矢印の右の四角に○をかきます。



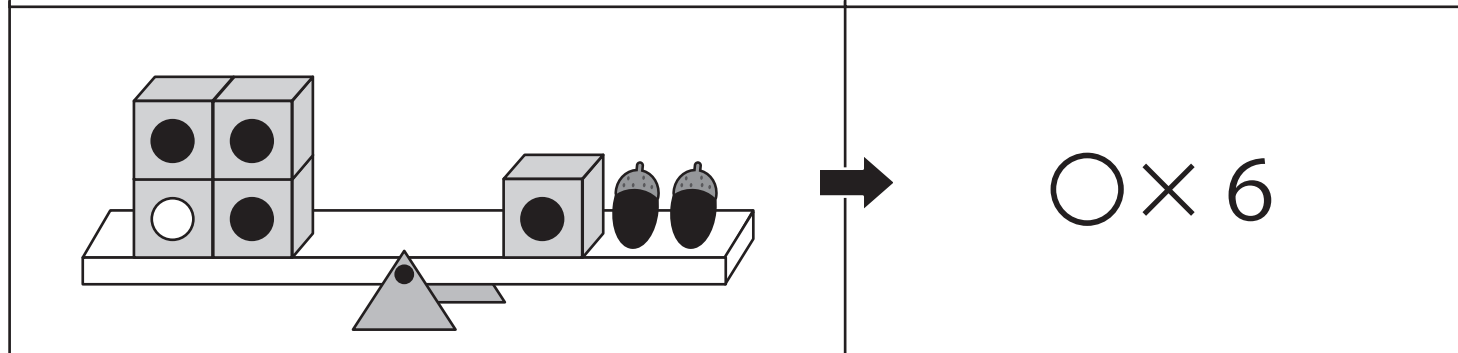
$$\bigcirc \times 2$$



$$\bigcirc \times 1$$



$$\bigcirc \times 3$$



$$\bigcirc \times 6$$

※1. このプリントは、しながわ・目黒こどもスクールのウェブサイトでダウンロードができます。無断複写・引用はご遠慮ください。

※2. このプリントを活用したオンライン授業のスケジュールは、しながわ・目黒こどもスクールのウェブサイトでご確認ください。

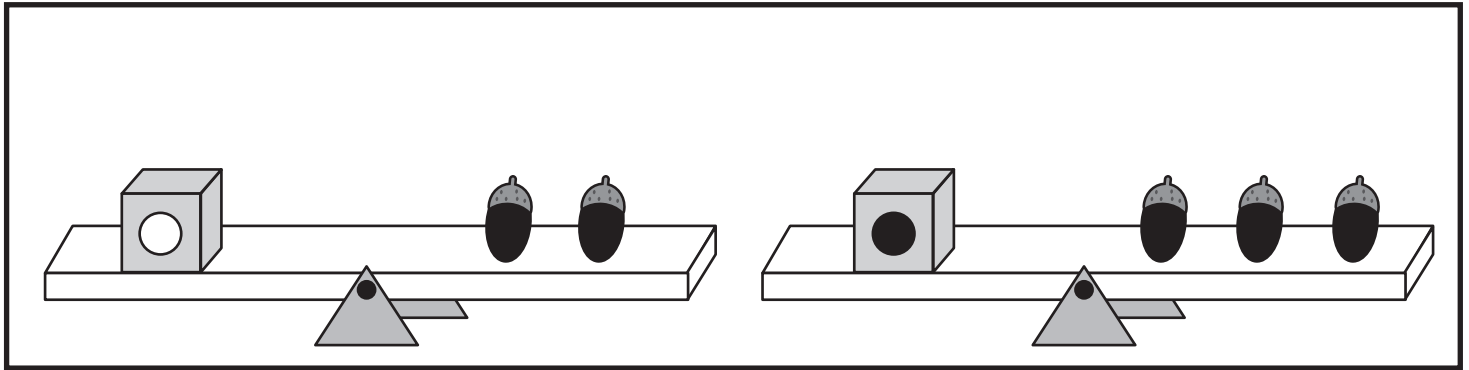


おうちで、やろう。

Study at home. 小学校受験の家庭学習教材

推理：重さ27

上の太い四角の中がお約束です。記号のついた箱はいくつかのドングリと同じ重さで吊り合っています。下のシーソーが釣り合うためには右側にあといくつのドングリを乗せればよいかを考えて、その数だけ矢印の右の四角に○をかきます。



	→ ○ × 3
--	---------

	→ ○ × 4
--	---------

	→ ○ × 5
--	---------

	→ ○ × 10
--	----------

※1. このプリントは、しながわ・目黒こどもスクールのウェブサイトでダウンロードができます。無断複写・引用はご遠慮ください。

※2. このプリントを活用したオンライン授業のスケジュールは、しながわ・目黒こどもスクールのウェブサイトでご確認ください。



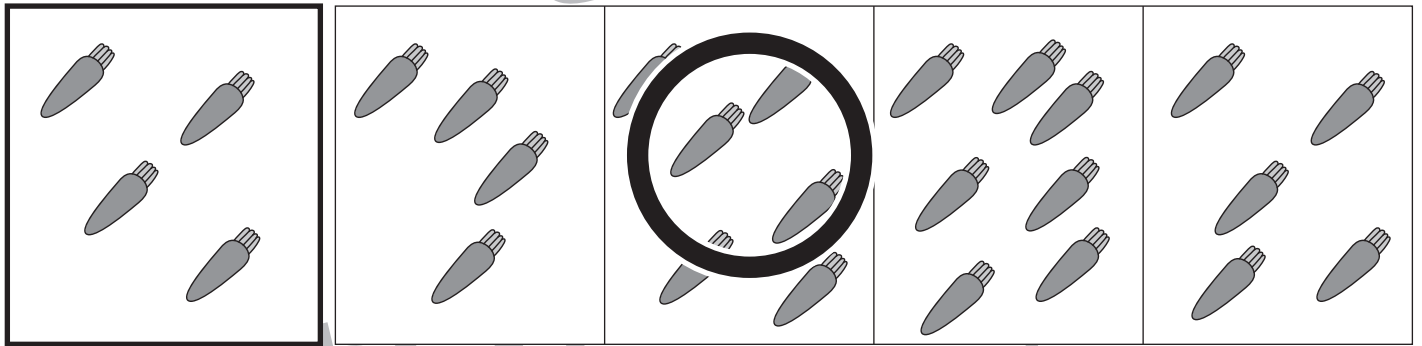
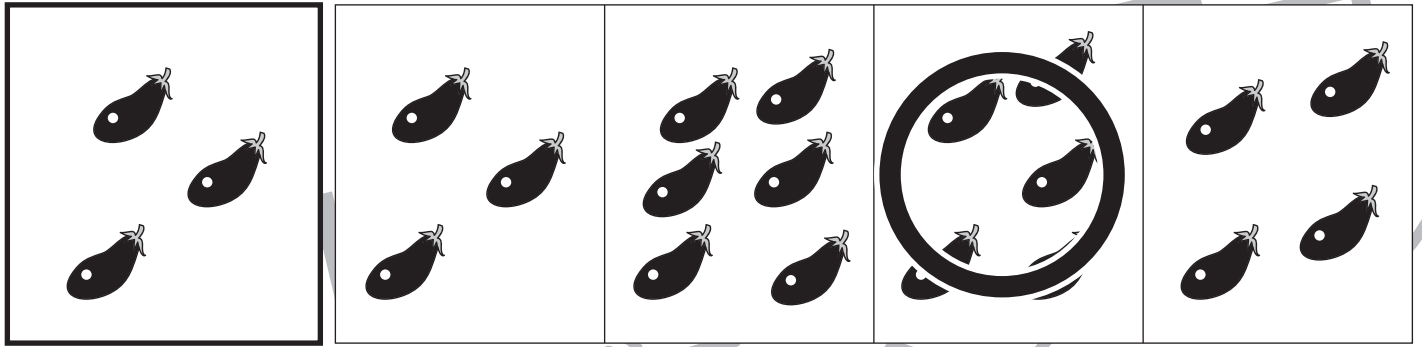


おうちで、やろう。

Study at home. 小学校受験の家庭学習教材

数量：加減 47

左の太い四角の中の数より2つ多い四角を右の4つの中から選んで○をつけます。



※1. このプリントは、しながわ・目黒こどもスクールのウェブサイトでダウンロードができます。無断複写・引用はご遠慮ください。
 ※2. このプリントを活用したオンライン授業のスケジュールは、しながわ・目黒こどもスクールのウェブサイトでご確認ください。

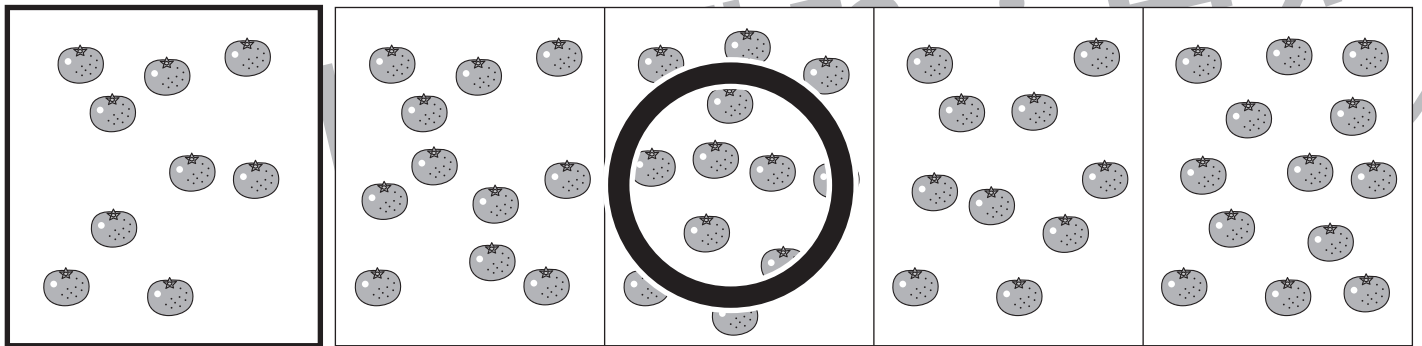
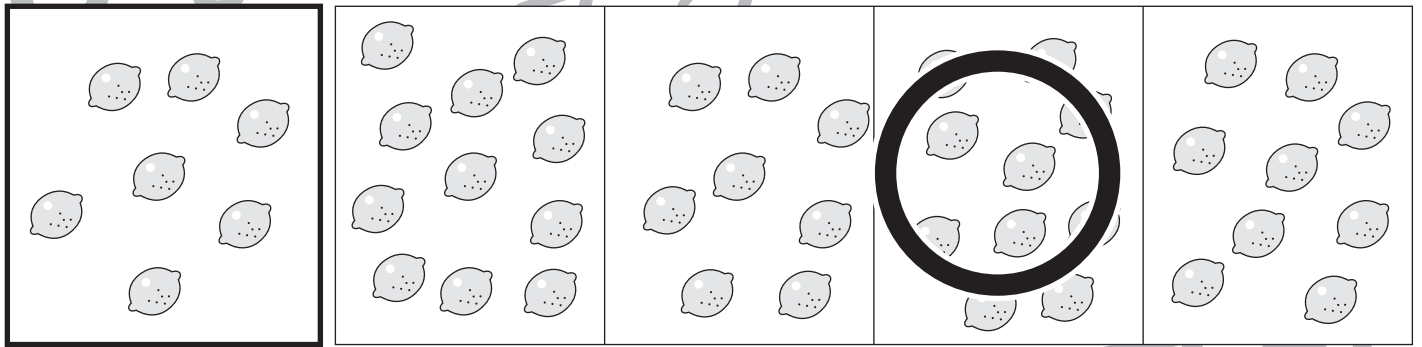

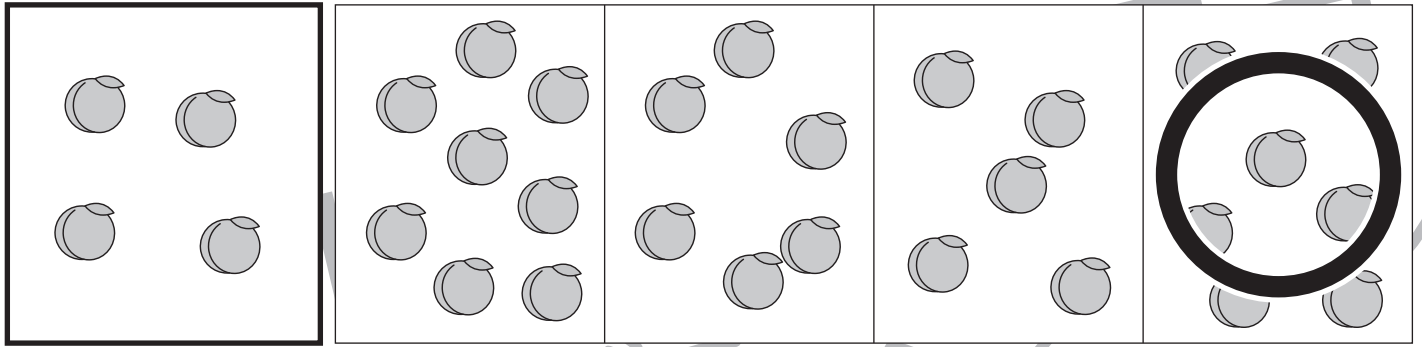


おうちで、やろう。

Study at home. 小学校受験の家庭学習教材

数量：加減 48

左の太い四角の中の数より3つ多い四角を右の4つの中から選んで○をつけます。



※1. このプリントは、しながわ・目黒こどもスクールのウェブサイトでダウンロードができます。無断複写・引用はご遠慮ください。
 ※2. このプリントを活用したオンライン授業のスケジュールは、しながわ・目黒こどもスクールのウェブサイトでご確認ください。