



おうちで、よろう。

Study at home. 小学校受験の家庭学習教材

図形：回転鏡 14

左の四角のマスに鏡に映した時の見え方を考えて、真ん中の四角にかきます。その後その形を矢印の方向へ1回倒した時の見え方を考えて一番右のマスにかきます。

<table border="1" style="width: 100%; height: 100%; border-collapse: collapse;"> <tr><td style="text-align: center;">●</td><td style="text-align: center;">○</td><td></td></tr> <tr><td></td><td></td><td></td></tr> <tr><td style="text-align: center;">▷</td><td style="text-align: center;">●</td><td style="text-align: center;">○</td></tr> </table>	●	○					▷	●	○		<table border="1" style="width: 100%; height: 100%; border-collapse: collapse;"> <tr><td></td><td></td><td></td></tr> <tr><td></td><td></td><td></td></tr> <tr><td></td><td></td><td></td></tr> </table>										↘	<table border="1" style="width: 100%; height: 100%; border-collapse: collapse;"> <tr><td></td><td></td><td></td></tr> <tr><td></td><td></td><td></td></tr> <tr><td></td><td></td><td></td></tr> </table>									
●	○																														
▷	●	○																													

<table border="1" style="width: 100%; height: 100%; border-collapse: collapse;"> <tr><td style="text-align: center;">●</td><td></td><td style="text-align: center;">○</td></tr> <tr><td></td><td style="text-align: center;">▷</td><td style="text-align: center;">●</td></tr> <tr><td></td><td style="text-align: center;">□</td><td></td></tr> </table>	●		○		▷	●		□			<table border="1" style="width: 100%; height: 100%; border-collapse: collapse;"> <tr><td></td><td></td><td></td></tr> <tr><td></td><td></td><td></td></tr> <tr><td></td><td></td><td></td></tr> </table>										↘	<table border="1" style="width: 100%; height: 100%; border-collapse: collapse;"> <tr><td></td><td></td><td></td></tr> <tr><td></td><td></td><td></td></tr> <tr><td></td><td></td><td></td></tr> </table>									
●		○																													
	▷	●																													
	□																														

<table border="1" style="width: 100%; height: 100%; border-collapse: collapse;"> <tr><td style="text-align: center;">▷</td><td></td><td style="text-align: center;">◁</td></tr> <tr><td style="text-align: center;">▷</td><td></td><td></td></tr> <tr><td></td><td style="text-align: center;">□</td><td></td></tr> </table>	▷		◁	▷				□			<table border="1" style="width: 100%; height: 100%; border-collapse: collapse;"> <tr><td></td><td></td><td></td></tr> <tr><td></td><td></td><td></td></tr> <tr><td></td><td></td><td></td></tr> </table>										↘	<table border="1" style="width: 100%; height: 100%; border-collapse: collapse;"> <tr><td></td><td></td><td></td></tr> <tr><td></td><td></td><td></td></tr> <tr><td></td><td></td><td></td></tr> </table>									
▷		◁																													
▷																															
	□																														

<table border="1" style="width: 100%; height: 100%; border-collapse: collapse;"> <tr><td style="text-align: center;">▷</td><td></td><td style="text-align: center;">○</td></tr> <tr><td></td><td></td><td style="text-align: center;">▷</td></tr> <tr><td style="text-align: center;">□</td><td style="text-align: center;">●</td><td></td></tr> </table>	▷		○			▷	□	●			<table border="1" style="width: 100%; height: 100%; border-collapse: collapse;"> <tr><td></td><td></td><td></td></tr> <tr><td></td><td></td><td></td></tr> <tr><td></td><td></td><td></td></tr> </table>										↘	<table border="1" style="width: 100%; height: 100%; border-collapse: collapse;"> <tr><td></td><td></td><td></td></tr> <tr><td></td><td></td><td></td></tr> <tr><td></td><td></td><td></td></tr> </table>									
▷		○																													
		▷																													
□	●																														

<table border="1" style="width: 100%; height: 100%; border-collapse: collapse;"> <tr><td style="text-align: center;">●</td><td></td><td style="text-align: center;">○</td></tr> <tr><td style="text-align: center;">▷</td><td></td><td style="text-align: center;">●</td></tr> <tr><td style="text-align: center;">○</td><td style="text-align: center;">□</td><td></td></tr> </table>	●		○	▷		●	○	□			<table border="1" style="width: 100%; height: 100%; border-collapse: collapse;"> <tr><td></td><td></td><td></td></tr> <tr><td></td><td></td><td></td></tr> <tr><td></td><td></td><td></td></tr> </table>										↘	<table border="1" style="width: 100%; height: 100%; border-collapse: collapse;"> <tr><td></td><td></td><td></td></tr> <tr><td></td><td></td><td></td></tr> <tr><td></td><td></td><td></td></tr> </table>									
●		○																													
▷		●																													
○	□																														

※1. このプリントは、しながわ・目黒こどもスクールのウェブサイトでダウンロードができます。無断複写・引用はご遠慮ください。

※2. このプリントを活用したオンライン授業のスケジュールは、しながわ・目黒こどもスクールのウェブサイトでご確認ください。



おうちで、やろう。

Study at home. 小学校受験の家庭学習教材

図形：回転鏡 15

左の四角のマスに鏡に映した時の見え方を考えて、真ん中の四角にかきます。その後その形を矢印の方向へ1回倒した時の見え方を考えて一番右のマスにかきます。

	○	●					↘			
	△									
○	●									

○		△					↘			
	●									
□		●								

		△					↘			
△	□									
	△									

□		●					↘			
▽		△								
	○									

○	□	●					↘			
		△								
●		○								

※1. このプリントは、しながわ・目黒こどもスクールのウェブサイトでダウンロードができます。無断複写・引用はご遠慮ください。

※2. このプリントを活用したオンライン授業のスケジュールは、しながわ・目黒こどもスクールのウェブサイトでご確認ください。



おうちで、やろう。

Study at home. 小学校受験の家庭学習教材

図形：回転鏡 16

左の四角のマスに鏡に映した時の見え方を考えて、真ん中の四角にかきます。その後その形を矢印の方向へ1回倒した時の見え方を考えて一番右のマスにかきます。

			↘	
--	--	--	---	--

			↘	
--	--	--	---	--

			↘	
--	--	--	---	--

			↘	
--	--	--	---	--

			↘	
--	--	--	---	--

※1. このプリントは、しながわ・目黒こどもスクールのウェブサイトでダウンロードができます。無断複写・引用はご遠慮ください。

※2. このプリントを活用したオンライン授業のスケジュールは、しながわ・目黒こどもスクールのウェブサイトでご確認ください。



おうちで、やろう。

Study at home. 小学校受験の家庭学習教材

図形：重ね 51

それぞれの四角は透明です。左と右の2つの四角をぴったり重ねるとすべてのマスが灰色になります。この約束のとき、右の四角のどのマスが灰色なら、すべてのマスが灰色になるのかを考えてそのマスを塗ります。

※1. このプリントは、しながわ・目黒こどもスクールのウェブサイトでダウンロードができます。無断複写・引用はご遠慮ください。

※2. このプリントを活用したオンライン授業のスケジュールは、しながわ・目黒こどもスクールのウェブサイトでご確認ください。



おうちで、やろう。

Study at home. 小学校受験の家庭学習教材

図形：重ね 52

それぞれの四角は透明です。左と右の2つの四角をぴったり重ねるとすべてのマスが灰色になります。この約束のとき、右の四角のどのマスが灰色なら、すべてのマスが灰色になるのかを考えてそのマスを塗ります。

※1. このプリントは、しながわ・目黒こどもスクールのウェブサイトからダウンロードできます。無断複写・引用はご遠慮ください。

※2. このプリントを活用したオンライン授業のスケジュールは、しながわ・目黒こどもスクールのウェブサイトでご確認ください。



おうちで、やろう。

Study at home. 小学校受験の家庭学習教材

図形：重ね 53

それぞれの四角は透明です。左と右の2つの四角をぴったり重ねるとすべてのマスが灰色になります。この約束のとき、右の四角のどのマスが灰色なら、すべてのマスが灰色になるのかを考えてそのマスを塗ります。

※1. このプリントは、しながわ・目黒こどもスクールのウェブサイトでダウンロードができます。無断複写・引用はご遠慮ください。

※2. このプリントを活用したオンライン授業のスケジュールは、しながわ・目黒こどもスクールのウェブサイトでご確認ください。

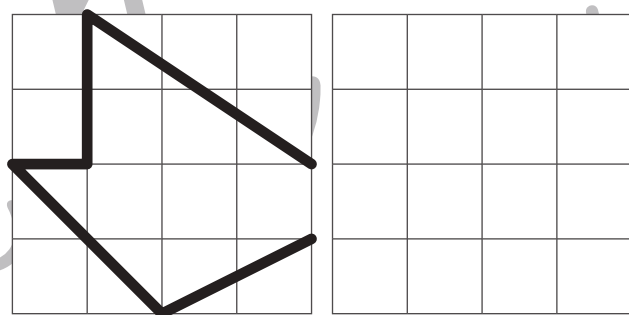
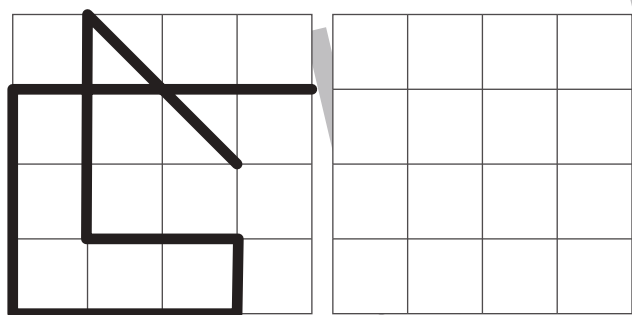
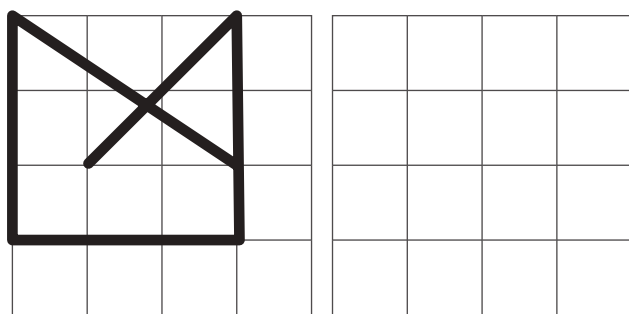
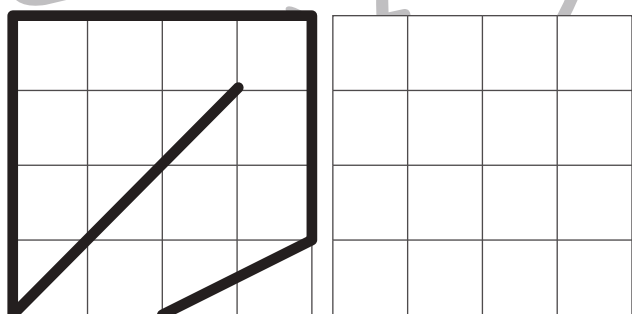
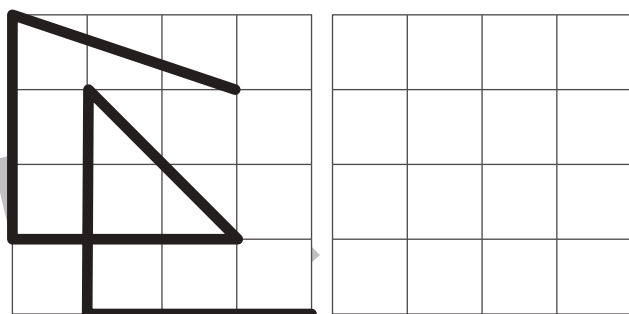
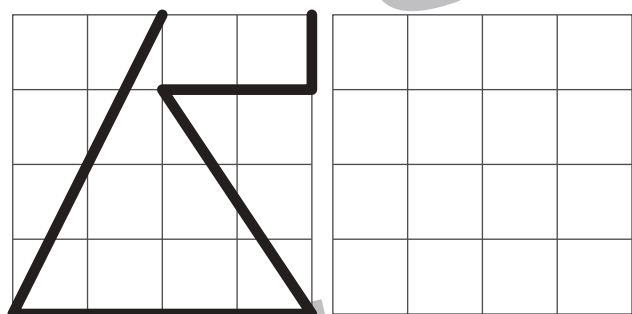

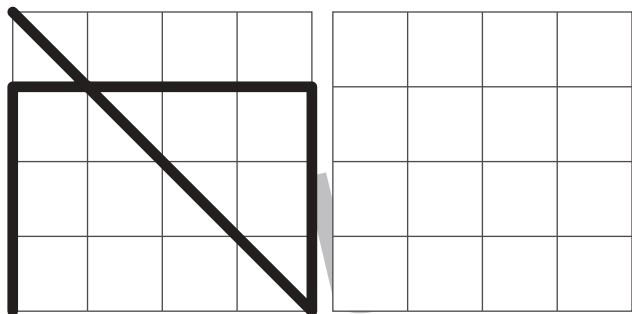


おうちで、やろう。

Study at home. 小学校受験の家庭学習教材

運筆：模写 34

左のお手本と同じになるように右のマスに線をかきます。
※この問題に解答はありません。



※1. このプリントは、しながわ・目黒こどもスクールのウェブサイトでダウンロードができます。無断複写・引用はご遠慮ください。
※2. このプリントを活用したオンライン授業のスケジュールは、しながわ・目黒こどもスクールのウェブサイトでご確認ください。



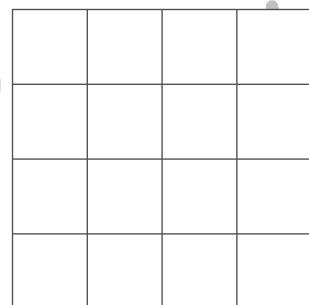
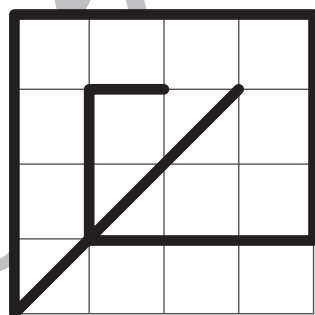
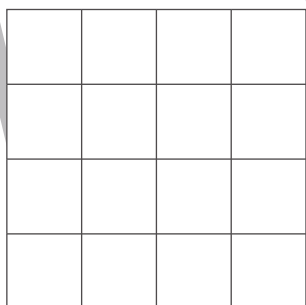
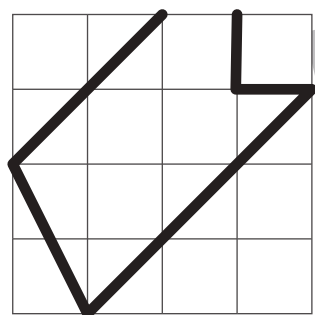

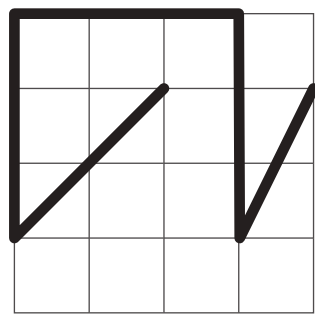



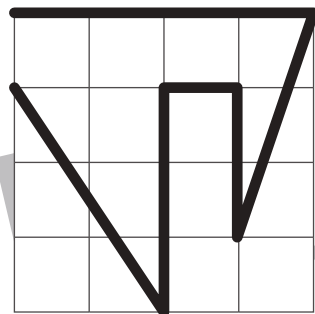

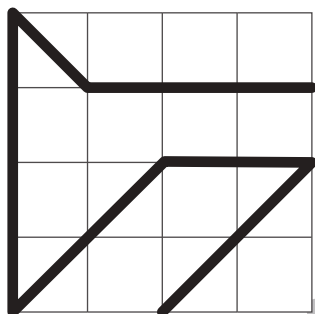

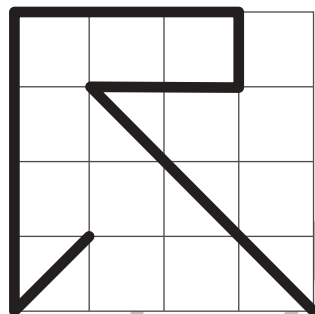
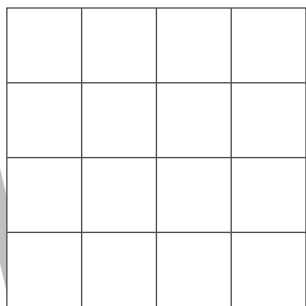
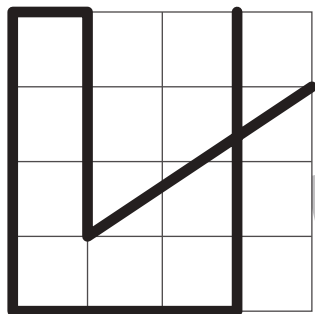


おうちで、やろう。

Study at home. 小学校受験の家庭学習教材

運筆：模写 35

左のお手本と同じになるように右のマスに線をかきます。
※この問題に解答はありません。



※1. このプリントは、しながわ・目黒こどもスクールのウェブサイトでダウンロードができます。無断複写・引用はご遠慮ください。
※2. このプリントを活用したオンライン授業のスケジュールは、しながわ・目黒こどもスクールのウェブサイトでご確認ください。



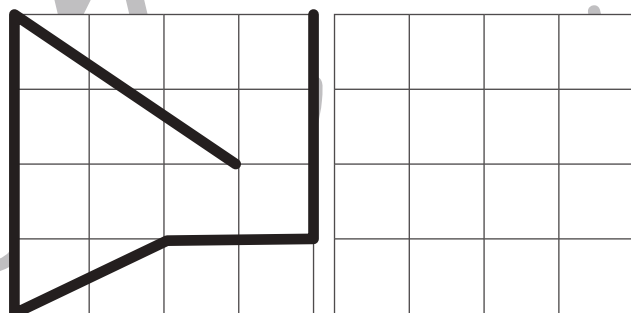

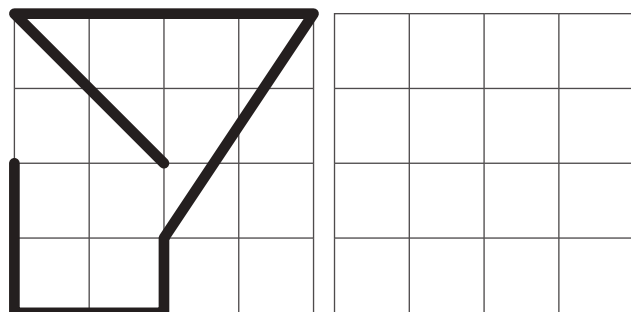
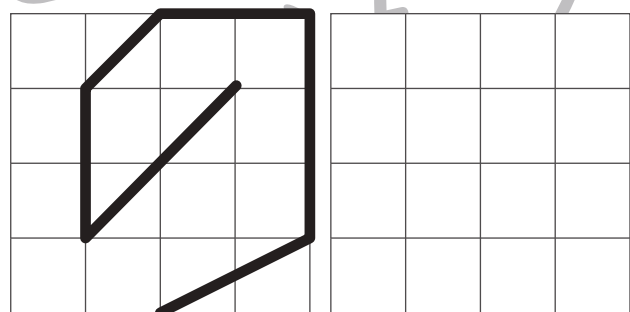
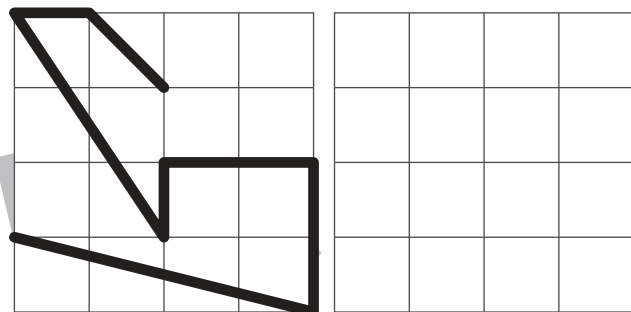

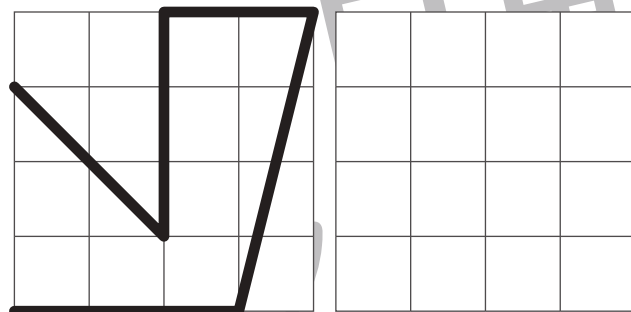



おうちで、やろう。

Study at home. 小学校受験の家庭学習教材

運筆：模写 36

左のお手本と同じになるように右のマスに線をかきます。
※この問題に解答はありません。



※1. このプリントは、しながわ・目黒こどもスクールのウェブサイトでダウンロードができます。無断複写・引用はご遠慮ください。
※2. このプリントを活用したオンライン授業のスケジュールは、しながわ・目黒こどもスクールのウェブサイトでご確認ください。








おうちで、やろう。

Study at home. 小学校受験の家庭学習教材

運筆：模写 37

左のお手本と同じ顔を右の四角に描きます。大きさや形に気を付けて描きましょう
※クーピー、鉛筆、ラッシュンペンなどいろいろな筆記具で描いてみましょう。
※この問題に解答はありません。



※1. このプリントは、しながわ・目黒こどもスクールのウェブサイトでダウンロードができます。無断複写・引用はご遠慮ください。
※2. このプリントを活用したオンライン授業のスケジュールは、しながわ・目黒こどもスクールのウェブサイトでご確認ください。