


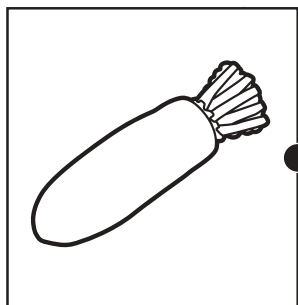
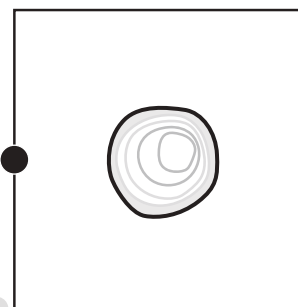
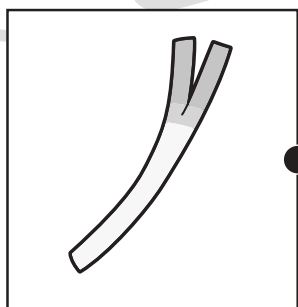
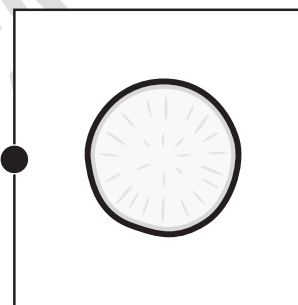
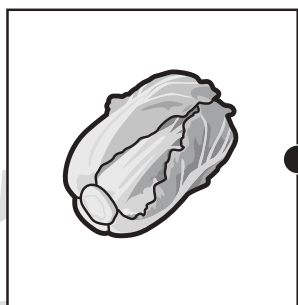
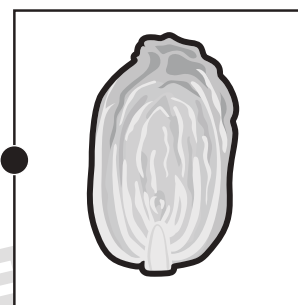
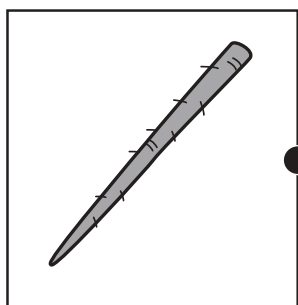
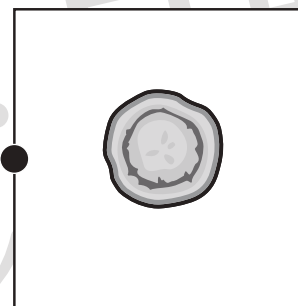
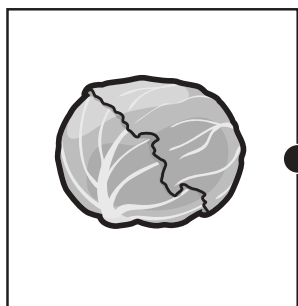


おうちで、やろう。

Study at home. 小学校受験の家庭学習教材

常識：断面図 10

左は野菜、右は野菜を半分に切ったときの絵です。同じもの同士の点と点を線で結びます。



※1. このプリントは、しながわ・目黒こどもスクールのウェブサイトでダウンロードができます。無断複写・引用はご遠慮ください。

※2. このプリントを活用したオンライン授業のスケジュールは、しながわ・目黒こどもスクールのウェブサイトでご確認ください。



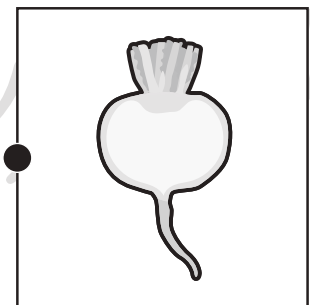

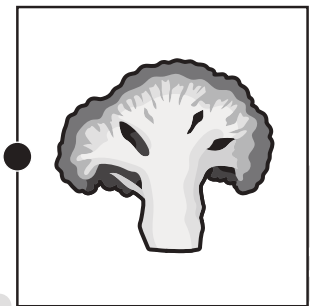

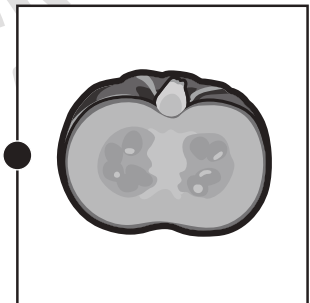

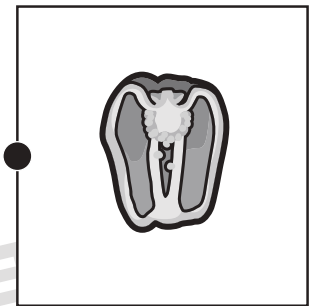

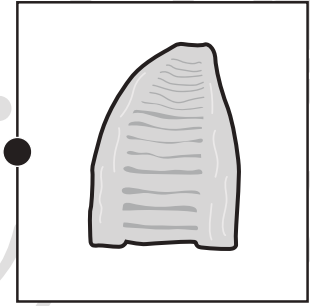



おうちで、やろう。

Study at home. 小学校受験の家庭学習教材

常識：断面図 11

左は野菜、右は野菜を半分に切ったときの絵です。同じもの同士の点と点を線で結びます。



※1. このプリントは、しながわ・目黒こどもスクールのウェブサイトでダウンロードができます。無断複写・引用はご遠慮ください。
※2. このプリントを活用したオンライン授業のスケジュールは、しながわ・目黒こどもスクールのウェブサイトでご確認ください。



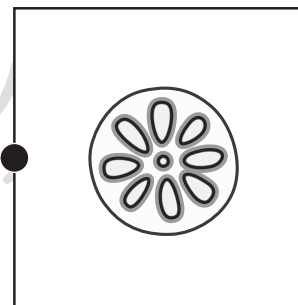

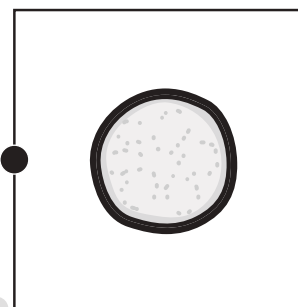
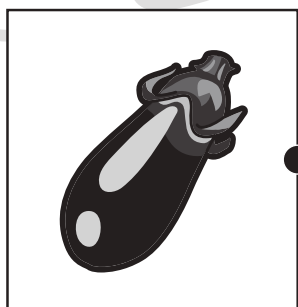

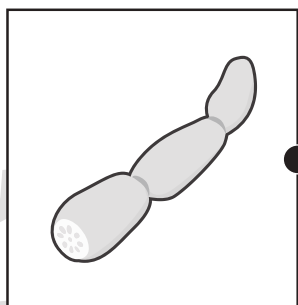
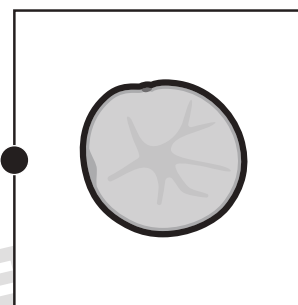
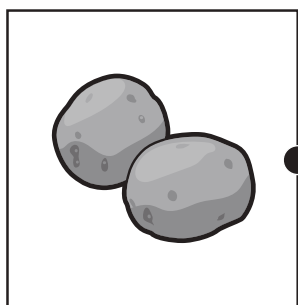

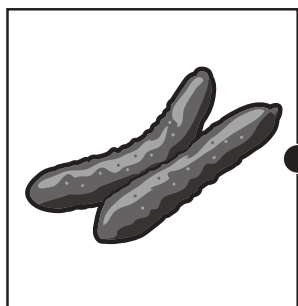


おうちで、やろう。

Study at home. 小学校受験の家庭学習教材

常識：断面図 12

左は野菜、右は野菜を半分に切ったときの絵です。同じもの同士の点と点を線で結びます。



※1. このプリントは、しながわ・目黒こどもスクールのウェブサイトでダウンロードができます。無断複写・引用はご遠慮ください。

※2. このプリントを活用したオンライン授業のスケジュールは、しながわ・目黒こどもスクールのウェブサイトでご確認ください。





おうちで、やろう。

Study at home. 小学校受験の家庭学習教材

図形：鏡 36

左のお手本を真ん中の太い線の上に鏡を置いて見た時の見え方を考えます。鏡で映してみた時、黒丸の場所のみ右の丸を塗ります。

※1. このプリントは、しながわ・目黒こどもスクールのウェブサイトでダウンロードができます。無断複写・引用はご遠慮ください。
 ※2. このプリントを活用したオンライン授業のスケジュールは、しながわ・目黒こどもスクールのウェブサイトでご確認ください。



おうちで、やろう。

Study at home. 小学校受験の家庭学習教材

図形：鏡 37

左のお手本を真ん中の太い線の上に鏡を置いて見た時の見え方を考えます。鏡で映してみた時、黒丸の場所のみ右の丸を塗ります。

※1. このプリントは、しながわ・目黒こどもスクールのウェブサイトでダウンロードができます。無断複写・引用はご遠慮ください。
 ※2. このプリントを活用したオンライン授業のスケジュールは、しながわ・目黒こどもスクールのウェブサイトでご確認ください。



おうちで、やろう。

Study at home. 小学校受験の家庭学習教材

図形：鏡 38

左のお手本を真ん中の太い線の上に鏡を置いて見た時の見え方を考えます。鏡で映してみた時、黒丸の場所のみ右の丸を塗ります。

※1. このプリントは、しながわ・目黒こどもスクールのウェブサイトでダウンロードができます。無断複写・引用はご遠慮ください。
 ※2. このプリントを活用したオンライン授業のスケジュールは、しながわ・目黒こどもスクールのウェブサイトでご確認ください。



おうちで、よろう。

Study at home. 小学校受験の家庭学習教材

図形：点図形 50

左のお手本には黒い線と点線があります。このうち点線の形だけを右に線でかきます。

※1. このプリントは、しながわ・目黒こどもスクールのウェブサイトでダウンロードができます。無断複写・引用はご遠慮ください。

※2. このプリントを活用したオンライン授業のスケジュールは、しながわ・目黒こどもスクールのウェブサイトでご確認ください。



おうちで、やろう。

Study at home. 小学校受験の家庭学習教材

図形：点図形51

左のお手本には黒い線と点線があります。このうち点線の形だけを右に線でかきます。

※1. このプリントは、しながわ・目黒こどもスクールのウェブサイトでダウンロードができます。無断複写・引用はご遠慮ください。

※2. このプリントを活用したオンライン授業のスケジュールは、しながわ・目黒こどもスクールのウェブサイトでご確認ください。




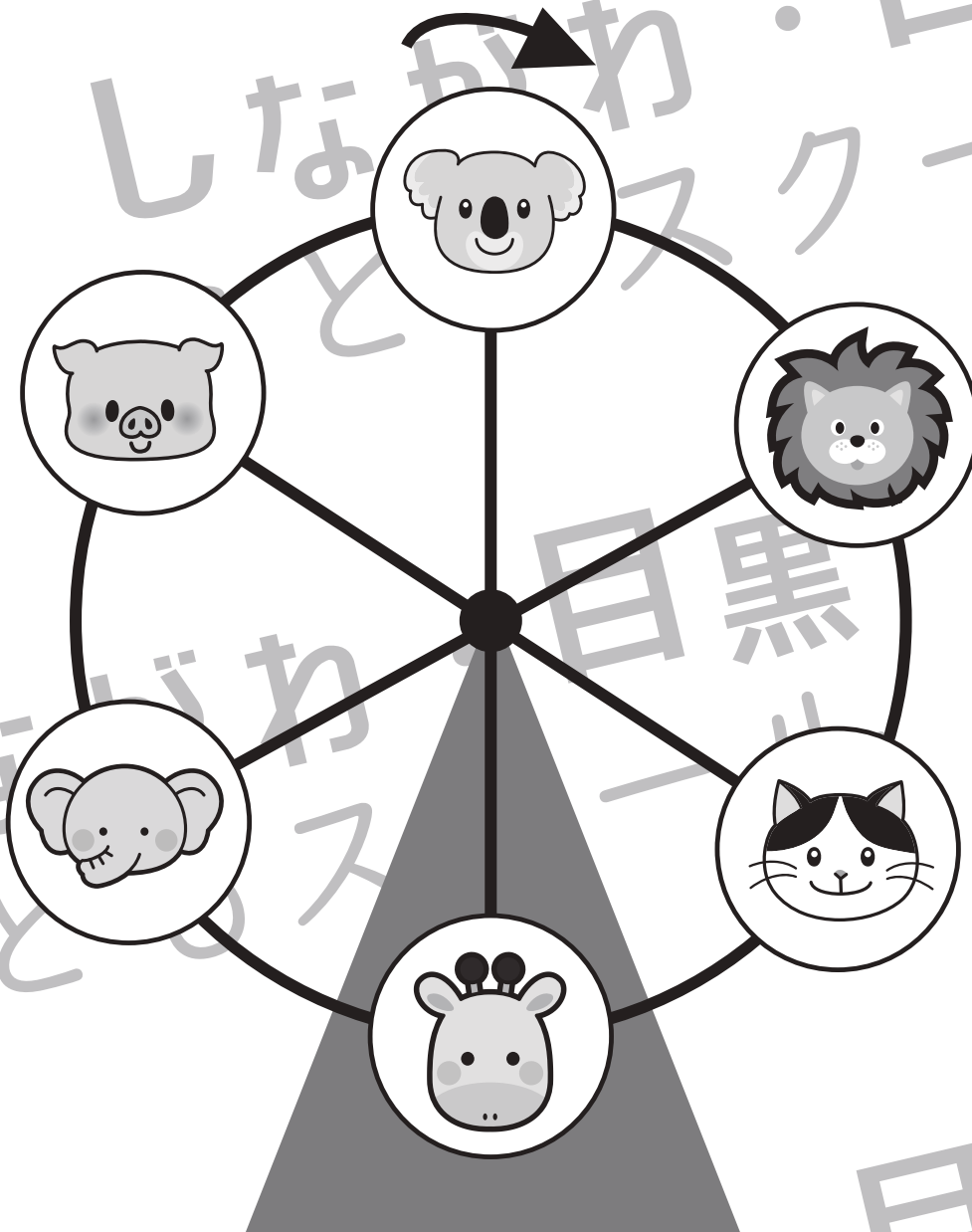
おうちで、やろう。

Study at home. 小学校受験の家庭学習教材

推理：観覧車 8

動物たちが観覧車に乗って、観覧車は矢印の方向へ回ります。

- ①ライオンのゴンドラが一番下に来た時、一番上になるゴンドラに乗っている動物の四角に○をかきます。
- ②ゾウのゴンドラが一番上に来た時、一番下になるゴンドラに乗っている動物の四角に△をかきます。
- ③キリンのゴンドラが一番下に来た時、一番上になるゴンドラに乗っている動物の四角に×をかきます。
- ④ゾウがブタの場所に来た時、一番下になるゴンドラに乗っている動物の四角に□をかきます。
- ⑤ネコのゴンドラがキリンの場所に来た時、一番上になるゴンドラに乗っている動物の四角に●をかきます。



※1. このプリントは、しながわ・目黒こどもスクールのウェブサイトからダウンロードできます。無断複写・引用はご遠慮ください。
 ※2. このプリントを活用したオンライン授業のスケジュールは、しながわ・目黒こどもスクールのウェブサイトでご確認ください。




おうちで、やろう。







Study at home. 小学校受験の家庭学習教材

推理：観覧車 9

動物たちが観覧車に乗って、観覧車は矢印の方向へ回ります。

- ①ライオンのゴンドラが1つ動いた時、一番下になるゴンドラに乗っている動物の四角に○をかきます。
- ②ブタのゴンドラが2つ動いた時、一番上になるゴンドラに乗っている動物の四角に△をかきます。
- ③コアラのゴンドラが3つ動いた時、一番下になるゴンドラに乗っている動物の四角に×をかきます。
- ④キリンのゴンドラが2つ動いた時、一番下になるゴンドラに乗っている動物の四角に□をかきます。
- ⑤ネコのゴンドラが4つ動いた時、一番下になるゴンドラに乗っている動物の四角に●をかきます。



※1. このプリントは、しながわ・目黒こどもスクールのウェブサイトからダウンロードできます。無断複写・引用はご遠慮ください。
 ※2. このプリントを活用したオンライン授業のスケジュールは、しながわ・目黒こどもスクールのウェブサイトでご確認ください。