

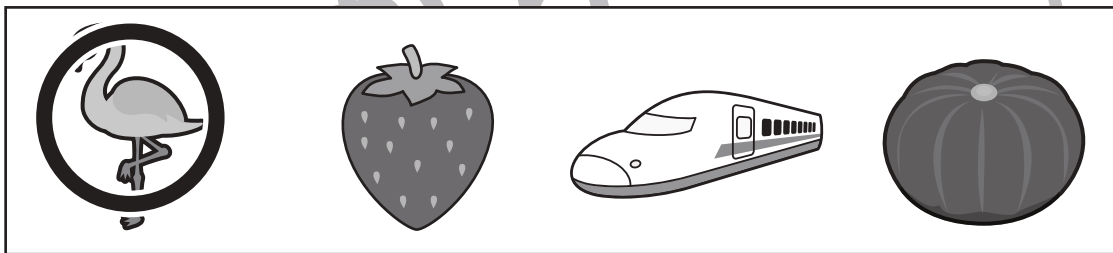

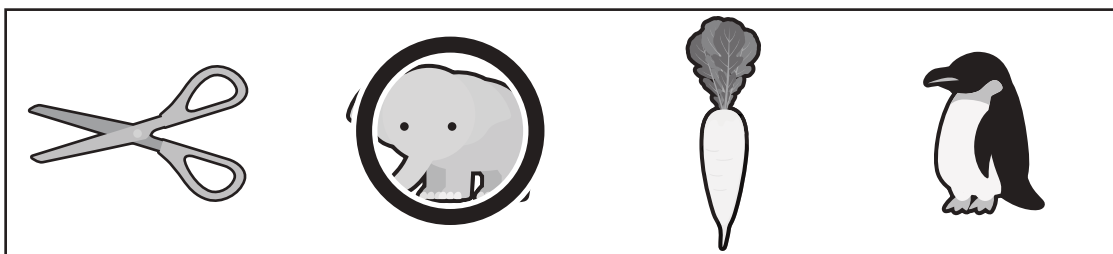



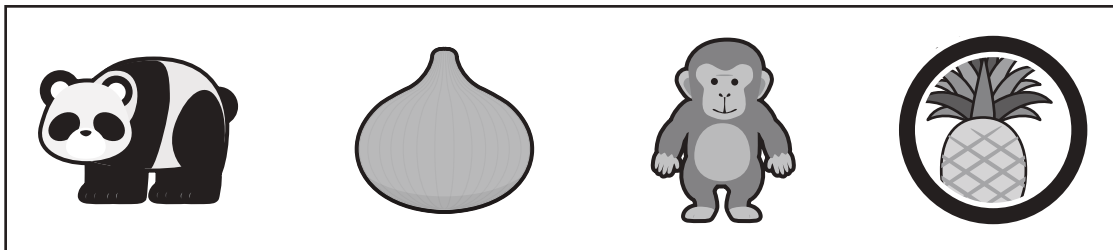



おうちで、やろう。

Study at home. 小学校受験の家庭学習教材

言語：音の数 43

左の四角の中の絵の音と右の四角の中の1つの絵の音の数を合わせると10になるものを右の四角から見つけて○をつけます。



※1. このプリントは、しながわ・目黒こどもスクールのウェブサイトでダウンロードができます。無断複写・引用はご遠慮ください。
※2. このプリントを活用したオンライン授業のスケジュールは、しながわ・目黒こどもスクールのウェブサイトでご確認ください。





おうちで、やろう。

Study at home. 小学校受験の家庭学習教材

図形：重ね回転 10

左の2枚の四角は透明な板です。2枚の四角を重ねた後、右に1度倒した見え方を考えて右の四角にかきます。

※1. このプリントは、しながわ・目黒こどもスクールのウェブサイトでダウンロードができます。無断複写・引用はご遠慮ください。

※2. このプリントを活用したオンライン授業のスケジュールは、しながわ・目黒こどもスクールのウェブサイトでご確認ください。



おうちで、やろう。

Study at home. 小学校受験の家庭学習教材

図形：回転鏡 10

左の四角のマスに鏡に映した時の見え方を考えて、真ん中の四角にかきます。その後その形を矢印の方向へ1回倒した時の見え方を考えて一番右のマスにかきます。

			↘	
--	--	--	---	--

			↘	
--	--	--	---	--

			↘	
--	--	--	---	--

			↘	
--	--	--	---	--

			↘	
--	--	--	---	--

※1. このプリントは、しながわ・目黒こどもスクールのウェブサイトからダウンロードできます。無断複写・引用はご遠慮ください。

※2. このプリントを活用したオンライン授業のスケジュールは、しながわ・目黒こどもスクールのウェブサイトでご確認ください。



おうちで、よろう。

Study at home. 小学校受験の家庭学習教材

図形：回転鏡 11

左の四角のマスに鏡に映した時の見え方を考えて、真ん中の四角にかきます。その後その形を矢印の方向へ1回倒した時の見え方を考えて一番右のマスにかきます。

			↘	
--	--	--	---	--

			↘	
--	--	--	---	--

			↘	
--	--	--	---	--

			↘	
--	--	--	---	--

			↘	
--	--	--	---	--

※1. このプリントは、しながわ・目黒こどもスクールのウェブサイトからダウンロードできます。無断複写・引用はご遠慮ください。

※2. このプリントを活用したオンライン授業のスケジュールは、しながわ・目黒こどもスクールのウェブサイトでご確認ください。




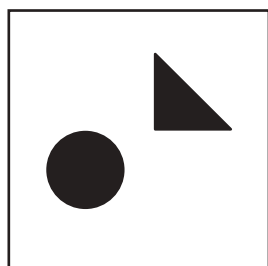
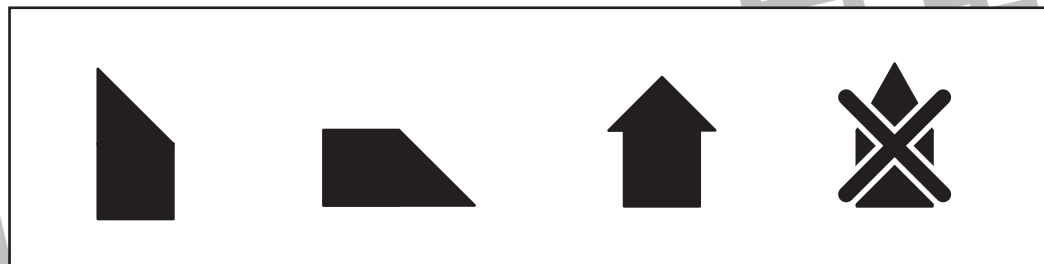



おうちで、やろう。

Study at home. 小学校受験の家庭学習教材

図形：構成 32

左の四角にはばらばらのブロックがあります。このブロックをくっつけたときにできない形を右の四角の中から選んで×をつけます。ばらばらのブロックは回転はさせてもよいですが裏返しにはできません。



※1. このプリントは、しながわ・目黒こどもスクールのウェブサイトからダウンロードできます。無断複写・引用はご遠慮ください。
※2. このプリントを活用したオンライン授業のスケジュールは、しながわ・目黒こどもスクールのウェブサイトでご確認ください。






おうちで、やろう。


Study at home. 小学校受験の家庭学習教材

数量：多少 18


四つの四角の中には動物の絵が描いてあります。一番多い動物と一番少ない動物の数の違いだけ絵の下のマス目に○をかきます。




<input type="text"/>	<input type="text"/>	<input type="text"/>	<input type="text"/>	<input type="text"/>	<input type="text"/>	<input type="text"/>	<input type="text"/>	<input type="text"/>	<input type="text"/>
----------------------	----------------------	----------------------	----------------------	----------------------	----------------------	----------------------	----------------------	----------------------	----------------------



<input type="text"/>	<input type="text"/>	<input type="text"/>	<input type="text"/>	<input type="text"/>	<input type="text"/>	<input type="text"/>	<input type="text"/>	<input type="text"/>	<input type="text"/>
----------------------	----------------------	----------------------	----------------------	----------------------	----------------------	----------------------	----------------------	----------------------	----------------------



<input type="text"/>	<input type="text"/>	<input type="text"/>	<input type="text"/>	<input type="text"/>	<input type="text"/>	<input type="text"/>	<input type="text"/>	<input type="text"/>	<input type="text"/>
----------------------	----------------------	----------------------	----------------------	----------------------	----------------------	----------------------	----------------------	----------------------	----------------------



<input type="text"/>	<input type="text"/>	<input type="text"/>	<input type="text"/>	<input type="text"/>	<input type="text"/>	<input type="text"/>	<input type="text"/>	<input type="text"/>	<input type="text"/>
----------------------	----------------------	----------------------	----------------------	----------------------	----------------------	----------------------	----------------------	----------------------	----------------------

※1. このプリントは、しながわ・目黒こどもスクールのウェブサイトでダウンロードができます。無断複写・引用はご遠慮ください。
 ※2. このプリントを活用したオンライン授業のスケジュールは、しながわ・目黒こどもスクールのウェブサイトでご確認ください。



おうちで、やろう。

Study at home. 小学校受験の家庭学習教材

数量：多少 19

四角の中には果物の絵が描いてあります。一番多い果物と一番少ない果物の数の違いだけ絵の下のマス目に○をかきます。

○	○	○	○							

○	○	○	○	○							

○	○	○	○							

○	○	○	○								

※1. このプリントは、しながわ・目黒こどもスクールのウェブサイトからダウンロードできます。無断複写・引用はご遠慮ください。
 ※2. このプリントを活用したオンライン授業のスケジュールは、しながわ・目黒こどもスクールのウェブサイトでご確認ください。


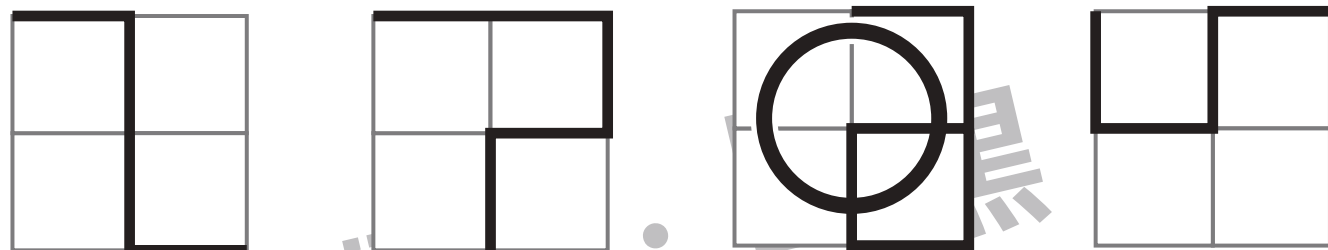
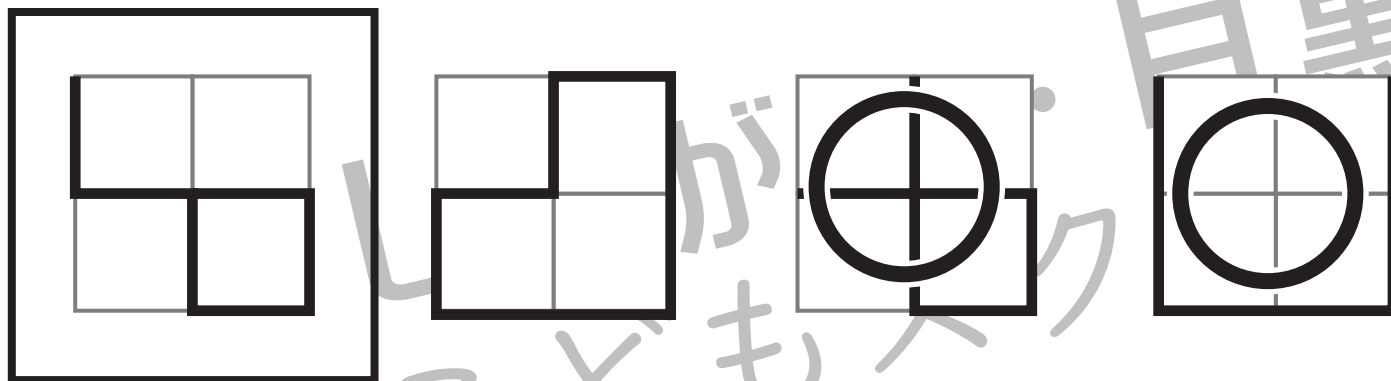


おうちで、やろう。

Study at home. 小学校受験の家庭学習教材

数量：長さ5

左上の太い四角の中の線の長さを考えます。このお手本の長さと同じ長さを見つけて○をつけます。



※1. このプリントは、しながわ・目黒こどもスクールのウェブサイトでダウンロードができます。無断複写・引用はご遠慮ください。
 ※2. このプリントを活用したオンライン授業のスケジュールは、しながわ・目黒こどもスクールのウェブサイトでご確認ください。




おうちで、よろう。

Study at home. 小学校受験の家庭学習教材

数量：長さ6

左上の太い四角の中の線の長さを考えます。このお手本の長さよりも長い線を見つけて○をつけます。



※1. このプリントは、しながわ・目黒こどもスクールのウェブサイトでダウンロードができます。無断複写・引用はご遠慮ください。
 ※2. このプリントを活用したオンライン授業のスケジュールは、しながわ・目黒こどもスクールのウェブサイトでご確認ください。