



おうちで、やろう。

Study at home. 小学校受験の家庭学習教材

記憶：絵の記憶 16 記憶用紙

別紙『記憶 - 絵の記憶 16』を行う際に使用します。記憶用紙は点線で折って(切って)、①、②、③の問題の際にそれぞれ 20 秒間ずつ記憶させてください。記憶する際は問題用紙は裏返しにします。記憶後①、②、③それぞれの問題に答えましょう。

①②③お手本と同じになるようにマスの中を塗ったり、記号をかいたりします。

※2023 年 10 月 30 日(月)のオンライン授業では実施中に記憶するものを画面で表示します。

①

②

	○		
			○

③

□			
			□

※1. このプリントは、しながわ・目黒こどもスクールのウェブサイトでダウンロードができます。無断複写・引用はご遠慮ください。

※2. このプリントを活用したオンライン授業のスケジュールは、しながわ・目黒こどもスクールのウェブサイトでご確認ください。



おうちで、やろう。

Study at home. 小学校受験の家庭学習教材

記憶：絵の記憶 16

別紙『記憶 - 絵の記憶 16 記憶用紙』を使用します。記憶用紙の形を見た後に①、②、③の問題に取り組みましょう。

①②③お手本と同じになるようにマスの中を塗ったり、記号をかいたりします。(この問題に解答はありません。)

①

②

③

※1. このプリントは、しながわ・目黒こどもスクールのウェブサイトでダウンロードができます。無断複写・引用はご遠慮ください。

※2. このプリントを活用したオンライン授業のスケジュールは、しながわ・目黒こどもスクールのウェブサイトでご確認ください。











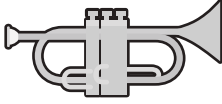

おうちで、やろう。




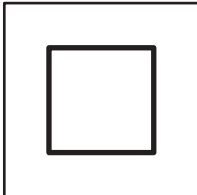

Study at home. 小学校受験の家庭学習教材



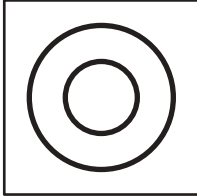


言語：しりとり 29


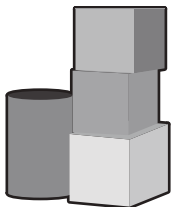





左から順番にしりとりをします。記号のある四角の中に入る絵を下の四角の中から選んで、それぞれの四角の中の記号をつけます。


 →
 
 →
 
 →
 
 →
 


 →
 
 →
 
 →
 
 →
 


 →
 
 →
 
 →
 
 →
 


 →
 
 →
 
 →
 
 →
 

※1. このプリントは、しながわ・目黒こどもスクールのウェブサイトからダウンロードできます。無断複写・引用はご遠慮ください。

※2. このプリントを活用したオンライン授業のスケジュールは、しながわ・目黒こどもスクールのウェブサイトでご確認ください。




おうちで、やろう。

Study at home. 小学校受験の家庭学習教材

言語：音の理解 47

下の大きな四角の中で、「ヨット」のようなつまる音が入っているものには○、「だいこん」のようなにごる音や「ばびぶべぼ」がつくものには△、「ちゃ・ちゅ・ちょ」のような小さい「ゃ・ゅ・ょ」がつくものには□をつけます。



※1. このプリントは、しながわ・目黒こどもスクールのウェブサイトでダウンロードができます。無断複写・引用はご遠慮ください。

※2. このプリントを活用したオンライン授業のスケジュールは、しながわ・目黒こどもスクールのウェブサイトでご確認ください。



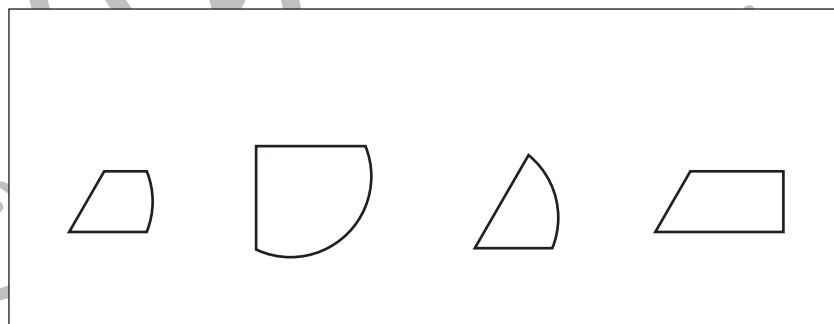

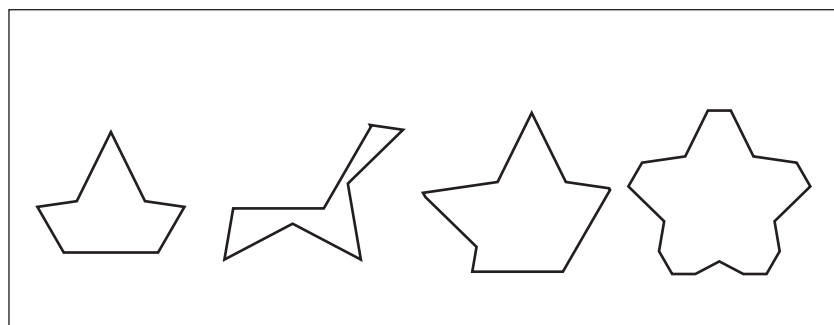

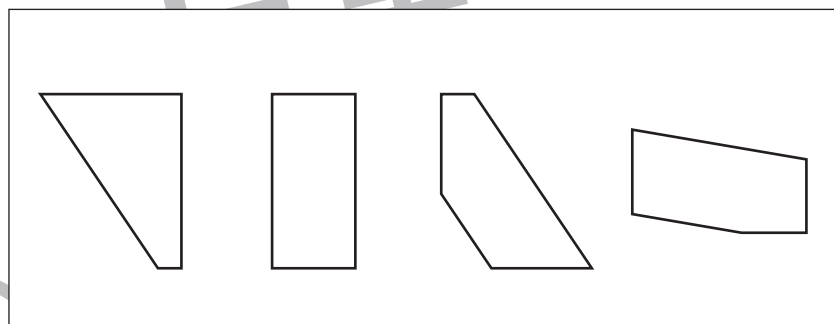
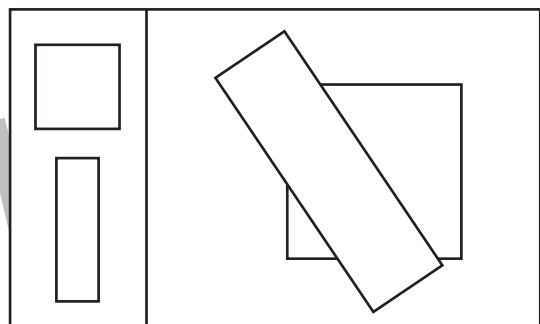
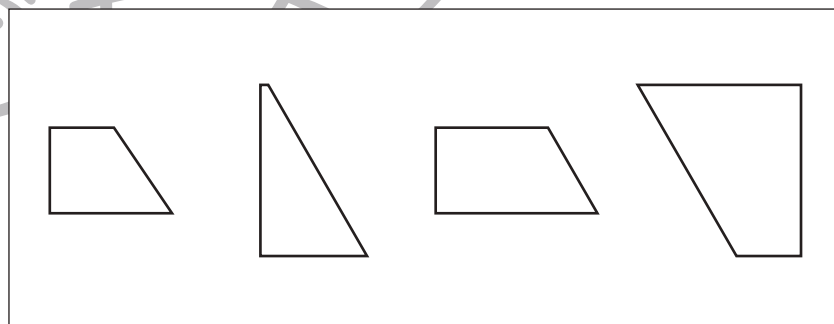

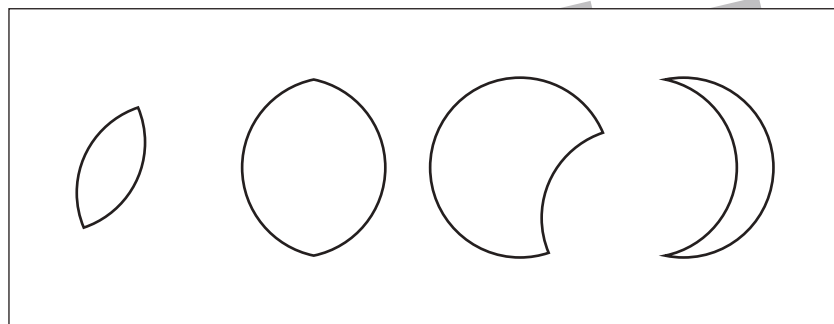
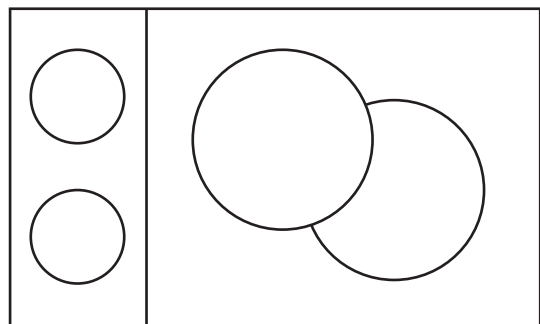


おうちで、やろう。

Study at home. 小学校受験の家庭学習教材

図形：重なり 22

左の四角の中にはいくつかの形が重なっています。重なっている場所の形として正しいものを右の四角の中から選んで○をつけます。



※1. このプリントは、しながわ・目黒こどもスクールのウェブサイトからダウンロードできます。無断複写・引用はご遠慮ください。

※2. このプリントを活用したオンライン授業のスケジュールは、しながわ・目黒こどもスクールのウェブサイトでご確認ください。



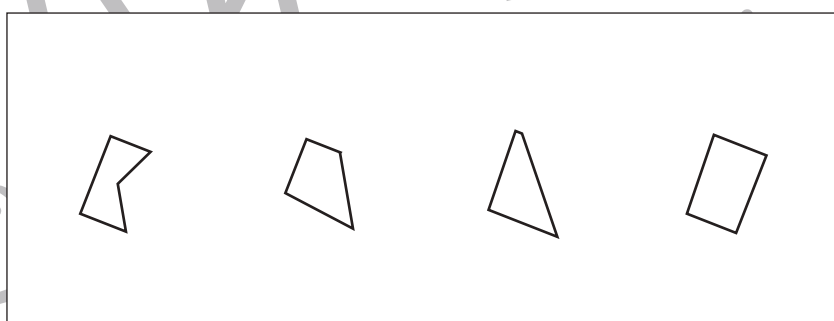

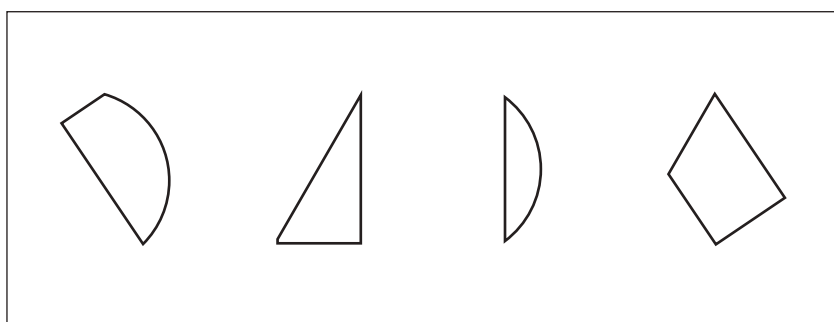

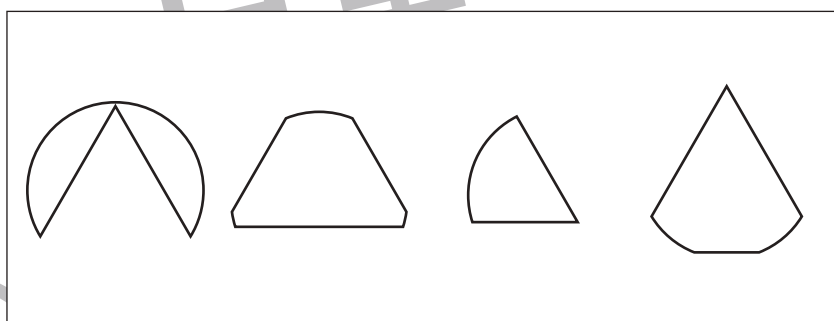

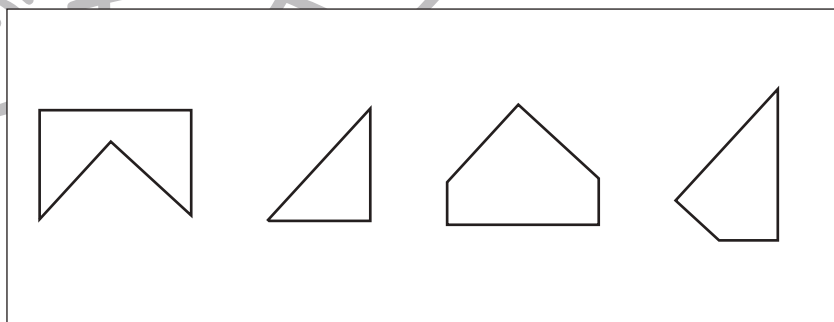
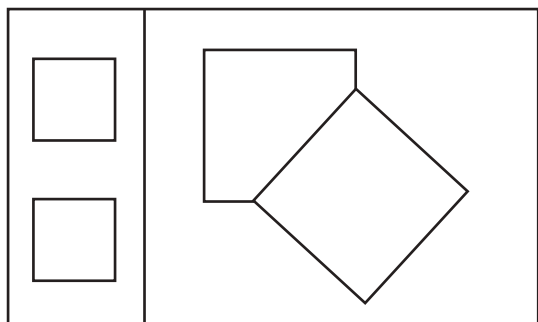

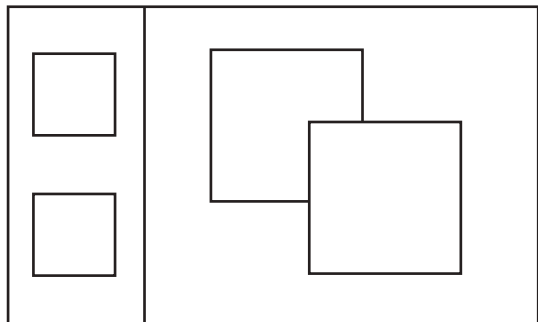


おうちで、やろう。

Study at home. 小学校受験の家庭学習教材

図形：重なり 23

左の四角の中にはいくつかの形が重なっています。重なっている場所の形として正しいものを右の四角の中から選んで○をつけます。



※1. このプリントは、しながわ・目黒こどもスクールのウェブサイトでダウンロードができます。無断複写・引用はご遠慮ください。
※2. このプリントを活用したオンライン授業のスケジュールは、しながわ・目黒こどもスクールのウェブサイトでご確認ください。



おうちで、やろう。

Study at home. 小学校受験の家庭学習教材

常識：行事 11

四角の中にはいろいろな行事の絵があります。春の行事の絵には○、秋の行事の絵には△をかきます。



※1. このプリントは、しながわ・目黒こどもスクールのウェブサイトからダウンロードできます。無断複写・引用はご遠慮ください。

※2. このプリントを活用したオンライン授業のスケジュールは、しながわ・目黒こどもスクールのウェブサイトでご確認ください。










おうちで、やろう。

Study at home. 小学校受験の家庭学習教材

推理：水量 21

それぞれの四角の中のコップには水が入っています。

それぞれのコップをいっぱいにするとき、一番たくさん水を入れなくてはいけないコップはどれですか。そのコップに○をつけます。



※1. このプリントは、しながわ・目黒こどもスクールのウェブサイトでダウンロードができます。無断複写・引用はご遠慮ください。

※2. このプリントを活用したオンライン授業のスケジュールは、しながわ・目黒こどもスクールのウェブサイトでご確認ください。





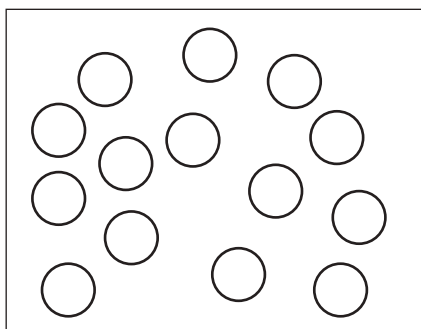



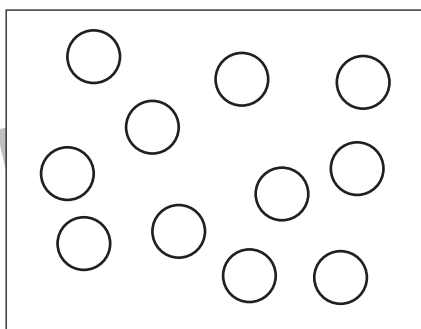

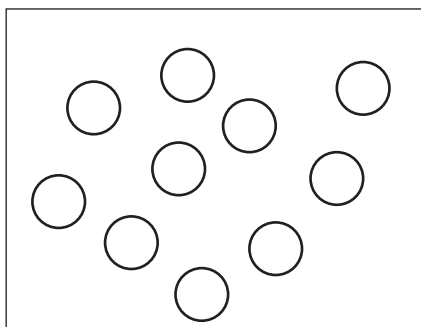


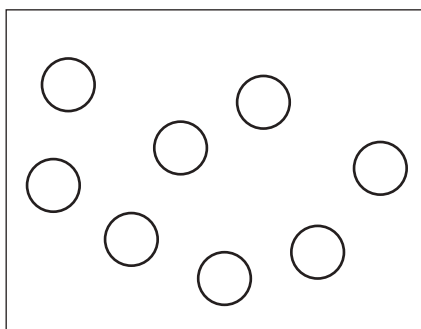


おうちで、やろう。

Study at home. 小学校受験の家庭学習教材

数量：足りない数6

左の四角の中の○と真ん中の四角の●は数が違います。2つの○を同じ数にすると、●はあといくつ必要ですか。その数だけ一番右の四角の中に○をかきます。



※1. このプリントは、しながわ・目黒こどもスクールのウェブサイトでダウンロードができます。無断複写・引用はご遠慮ください。

※2. このプリントを活用したオンライン授業のスケジュールは、しながわ・目黒こどもスクールのウェブサイトでご確認ください。





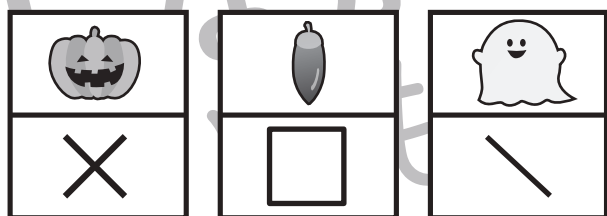
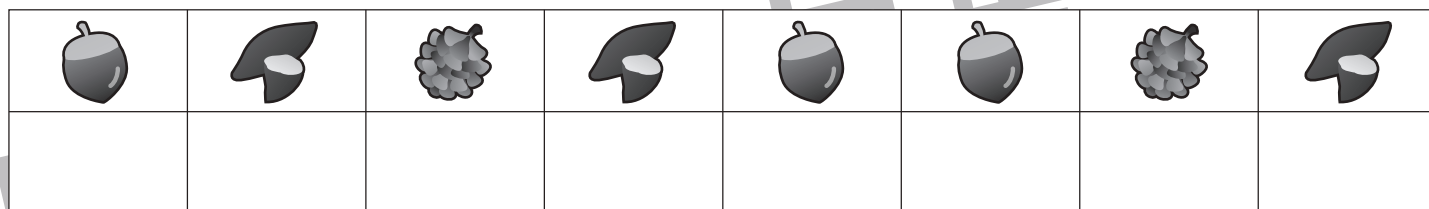
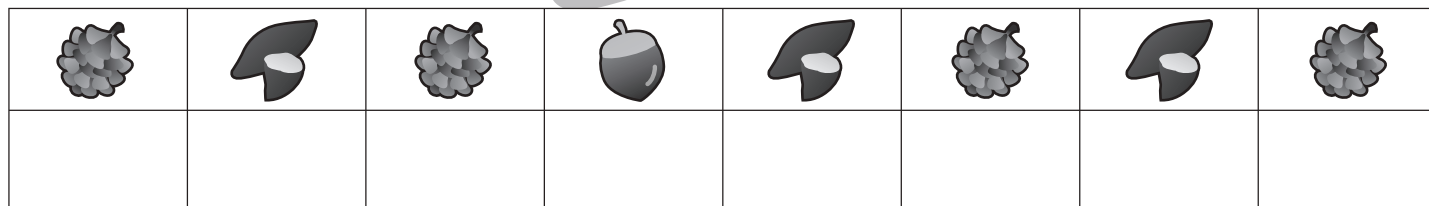
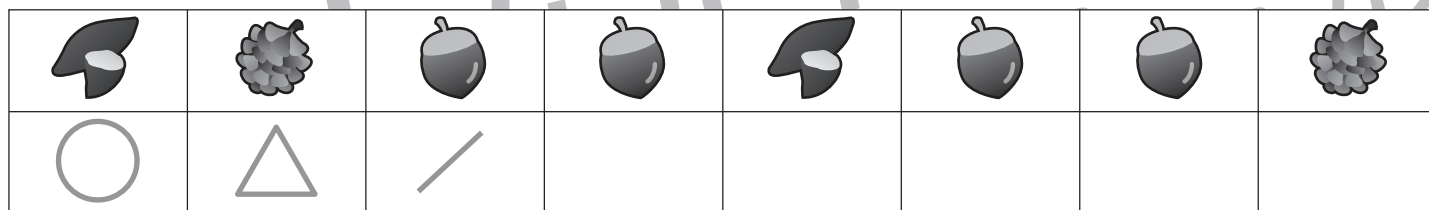



おうちで、やろう。

Study at home. 小学校受験の家庭学習教材

処理能力：置き換え 9

上の太い四角の中の絵がお手本です。上の絵の時に下の四角にそれぞれの記号をかきます。問題は一番上の段の左からはじめて、右端まで見ます。1段目ができたら2段目の左から右。次に3段目の左から右と順番に記号をかきます。この問題はできるだけ早く記号をつけます。それぞれ1分以内を目指し取り組みましょう。



※1. このプリントは、しながわ・目黒こどもスクールのウェブサイトでダウンロードができます。無断複写・引用はご遠慮ください。
 ※2. このプリントを活用したオンライン授業のスケジュールは、しながわ・目黒こどもスクールのウェブサイトでご確認ください。



おうちで、やろう。

Study at home. 小学校受験の家庭学習教材


処理：運筆 24

壁にぶつからないように●から○まで一本の線をかきます。

この問題はスピードを意識して取り組む練習をしてみましょう。(1分)

※クーピー、鉛筆、水性ペンの好きなものを使ってやりましょう。

※この問題に解答はありません。



※1. このプリントは、しながわ・目黒こどもスクールのウェブサイトでダウンロードができます。無断複写・引用はご遠慮ください。

※2. このプリントを活用したオンライン授業のスケジュールは、しながわ・目黒こどもスクールのウェブサイトでご確認ください。