


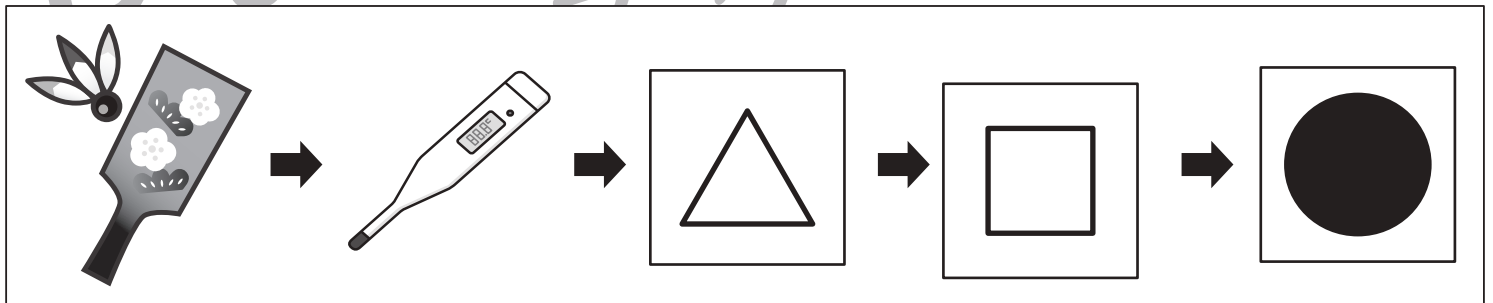
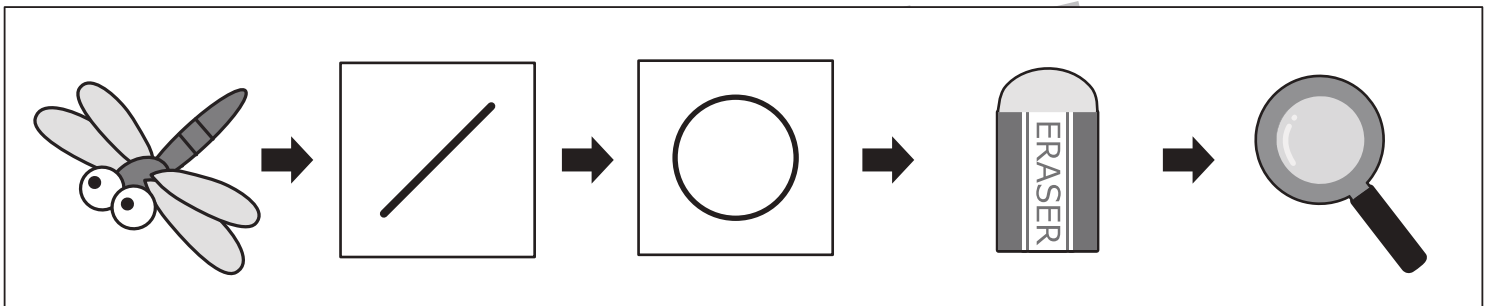
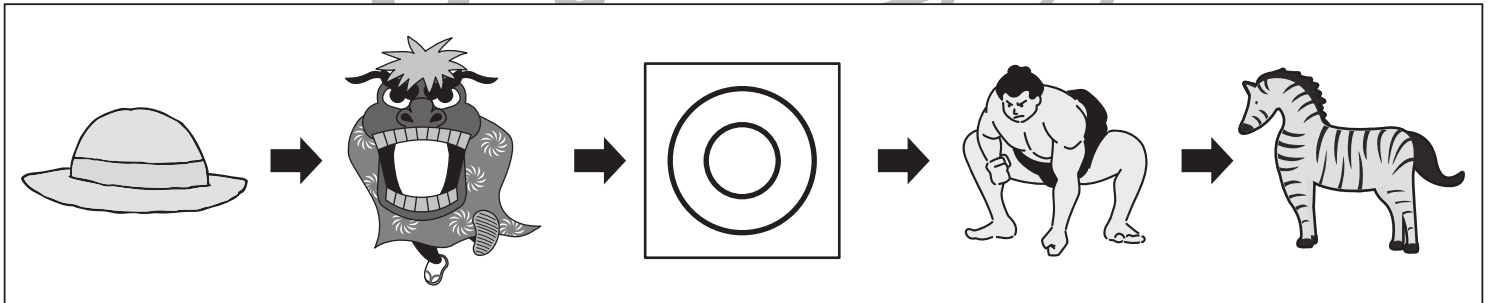
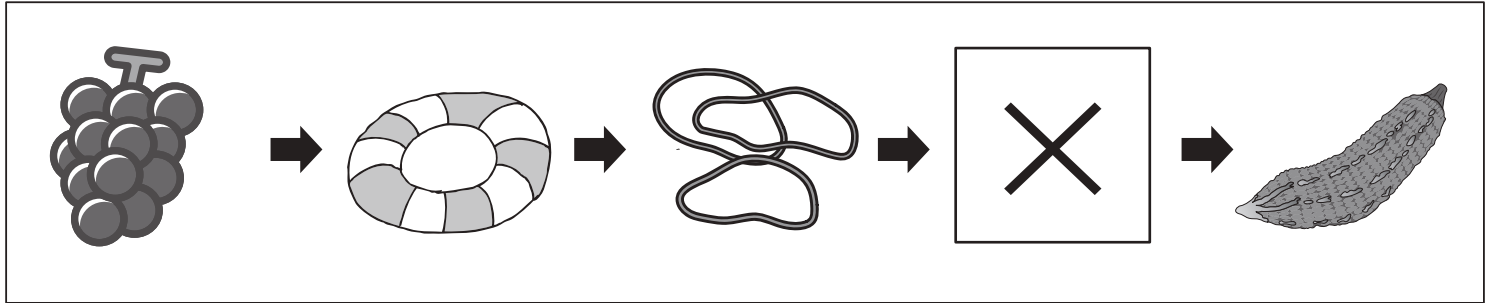


おうちで、やろう。

Study at home. 小学校受験の家庭学習教材

言語：しりとり 30

左から順番にしりとりをします。記号のある四角の中に入る絵を下の四角の中から選んで、それぞれの四角の中の記号をつけます。



※1. このプリントは、しながわ・目黒こどもスクールのウェブサイトでダウンロードができます。無断複写・引用はご遠慮ください。
 ※2. このプリントを活用したオンライン授業のスケジュールは、しながわ・目黒こどもスクールのウェブサイトでご確認ください。





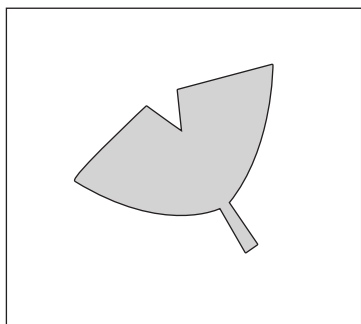

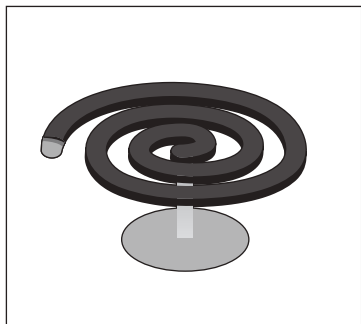


おうちで、やろう。

Study at home. 小学校受験の家庭学習教材

常識：季節 24

左の四角の中の絵の次の季節の絵を右の四角の中から選んで○をつけます。



※1. このプリントは、しながわ・目黒こどもスクールのウェブサイトでダウンロードができます。無断複写・引用はご遠慮ください。
※2. このプリントを活用したオンライン授業のスケジュールは、しながわ・目黒こどもスクールのウェブサイトでご確認ください。



おうちで、やろう。

Study at home. 小学校受験の家庭学習教材

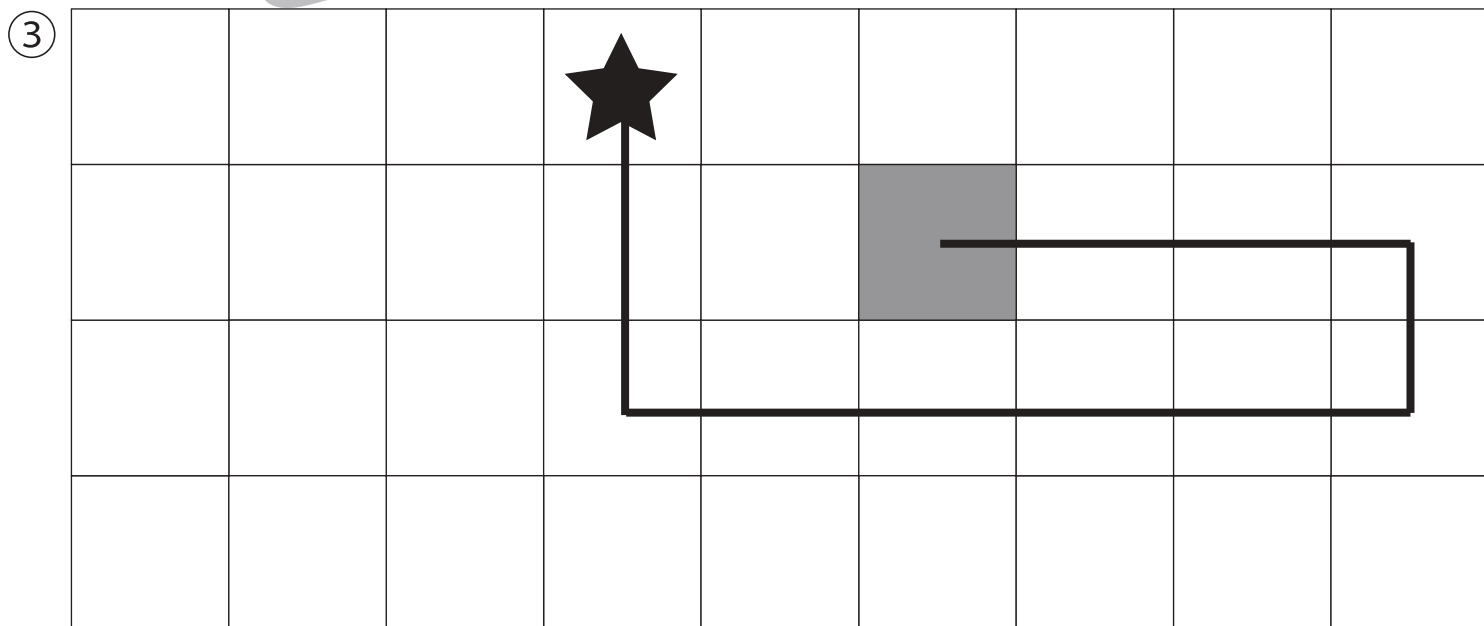
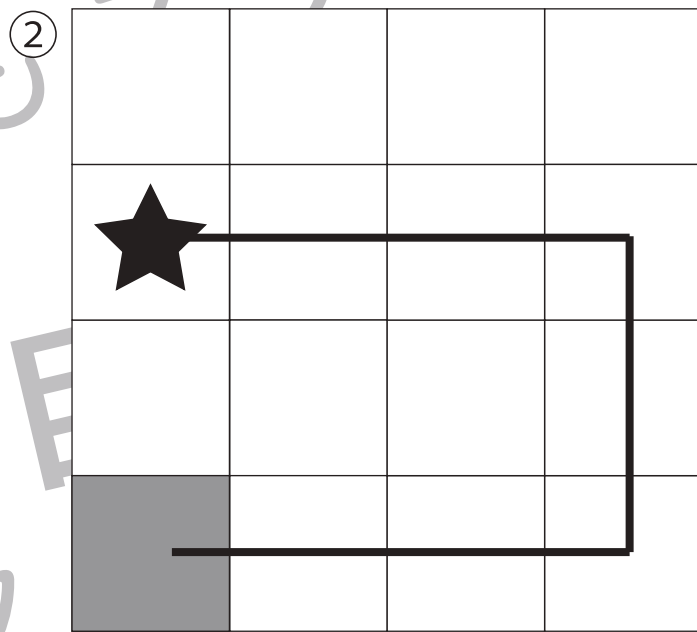
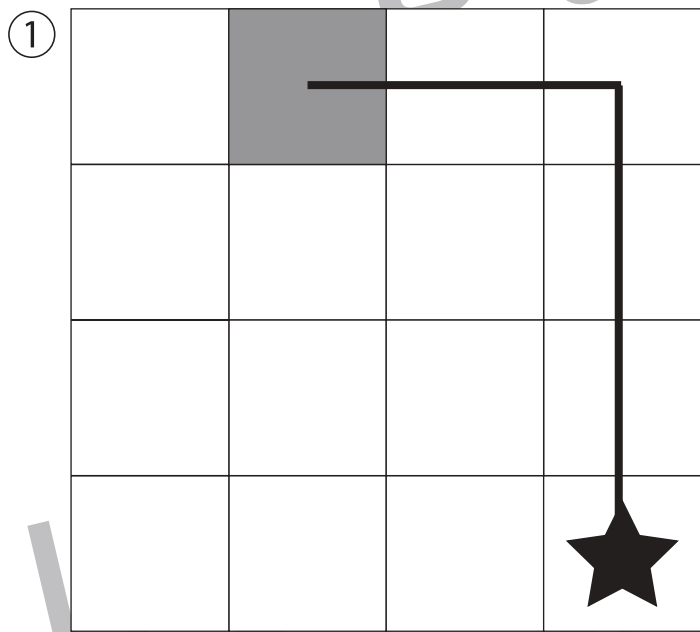
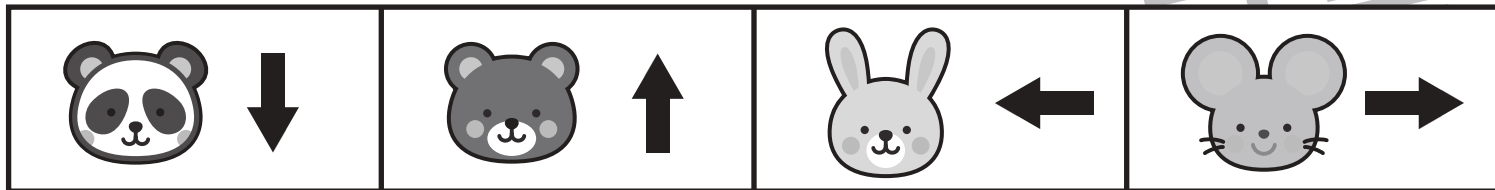
図形：移動 53

上の四角が約束です。★から動物たちがリンゴを食べた数だけそれぞれの矢印の方向へ進み、最後に着いたマス塗りします。

①クマがリンゴを3個、ウサギが2個食べました。

②ネズミがリンゴを3個、パンダが2個、ウサギが3個食べました。

③パンダがリンゴを2個、ネズミが5個、クマが1個、ウサギが3個食べました。



※1. このプリントは、しながわ・目黒こどもスクールのウェブサイトでダウンロードができます。無断複写・引用はご遠慮ください。

※2. このプリントを活用したオンライン授業のスケジュールは、しながわ・目黒こどもスクールのウェブサイトでご確認ください。



おうちで、やろう。









Study at home. 小学校受験の家庭学習教材

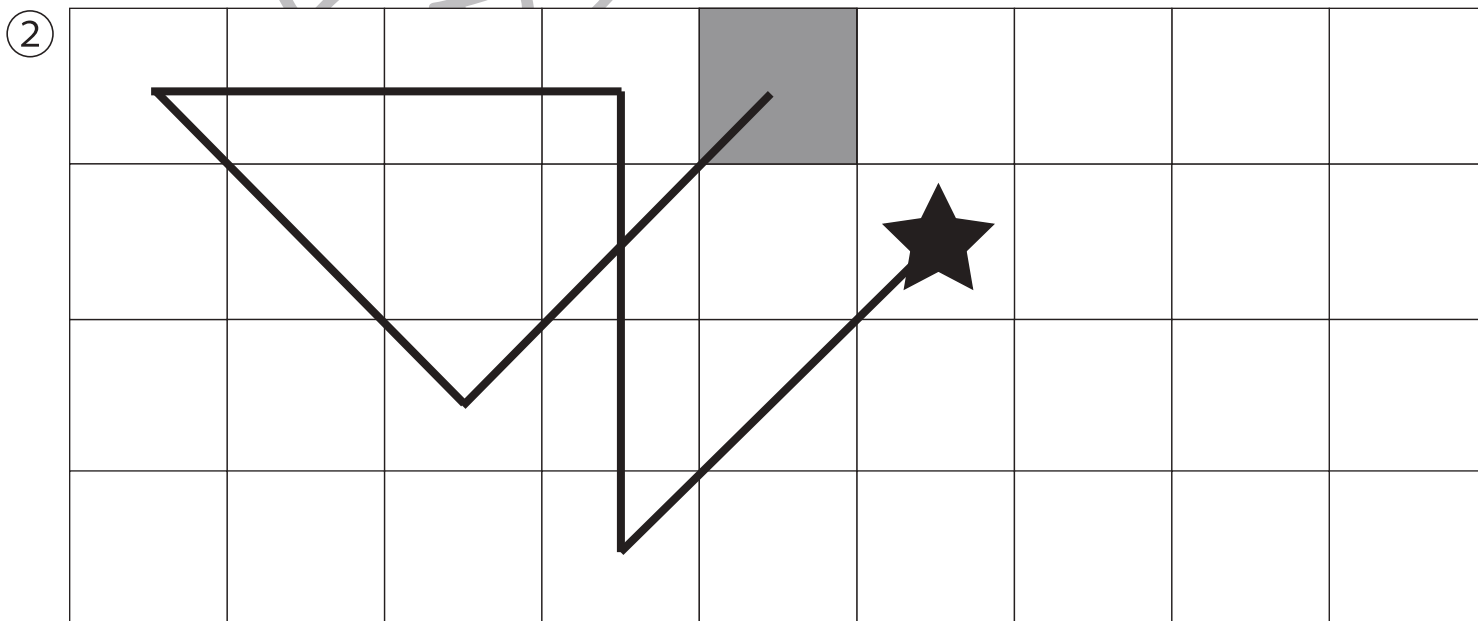
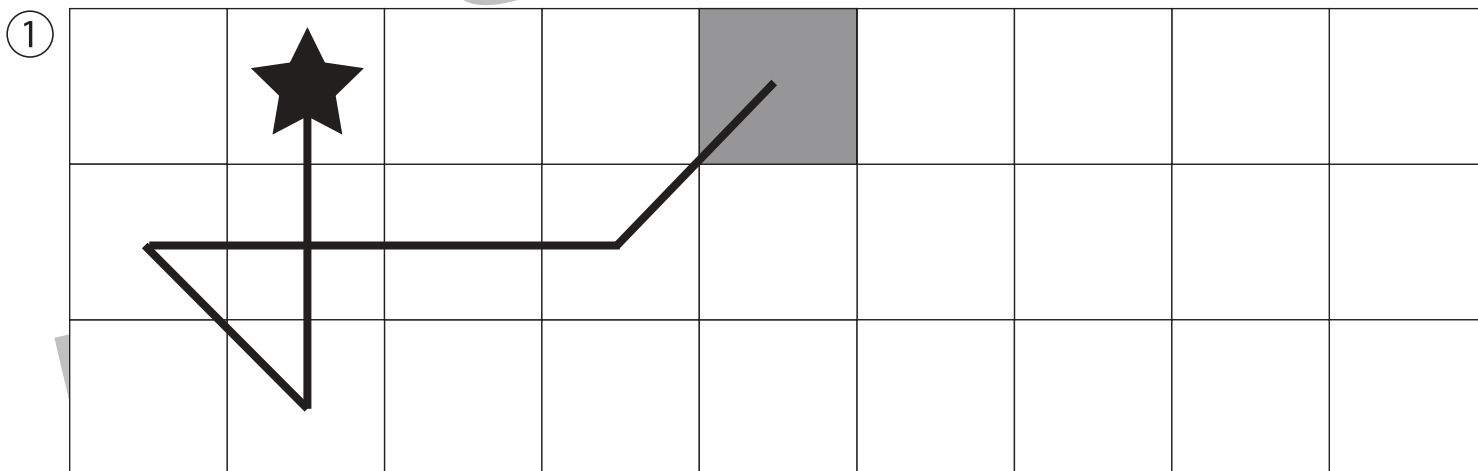
図形：移動 54

上の四角が約束です。★から動物たちがリンゴを食べた数だけそれぞれの矢印の方向へ進み、最後に着いたマス塗ります。

①パンダがリンゴを2個、キリンが1個、ネズミが3個、ライオンが1個食べました。

②ゾウがリンゴを2個、クマが3個、ウサギが3個、サルが2個、ライオンが2個食べました。

 ↓	 ↑	 ←	 →
 ↘	 ↙	 ↘	 ↗



※1. このプリントは、しながわ・目黒こどもスクールのウェブサイトでダウンロードができます。無断複写・引用はご遠慮ください。

※2. このプリントを活用したオンライン授業のスケジュールは、しながわ・目黒こどもスクールのウェブサイトでご確認ください。

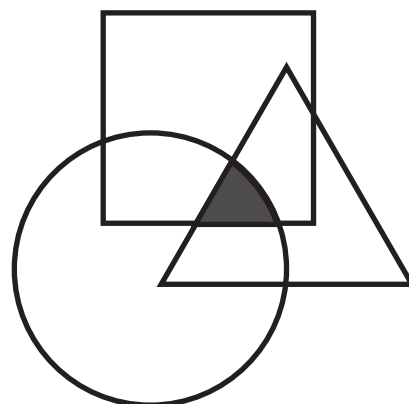
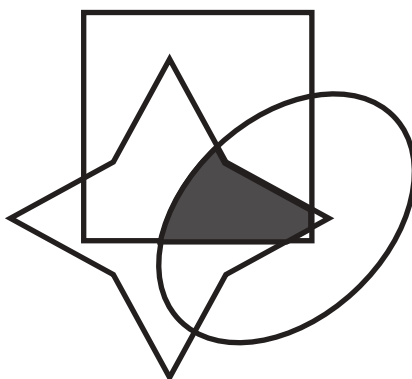

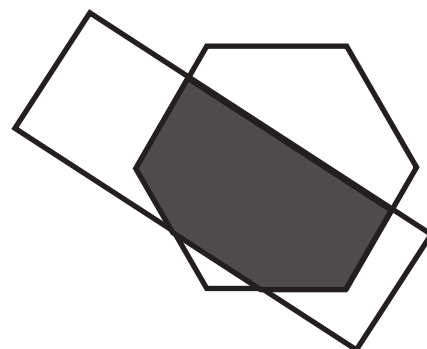
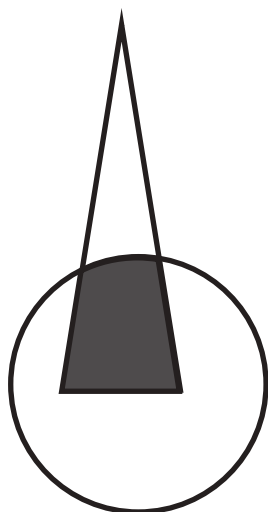
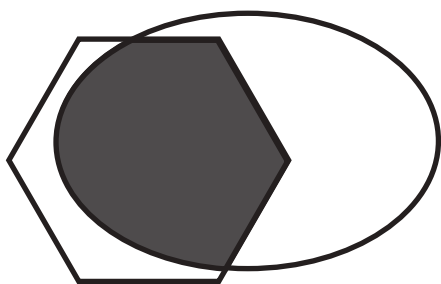
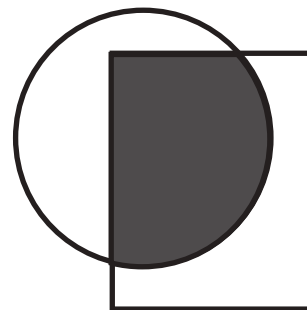
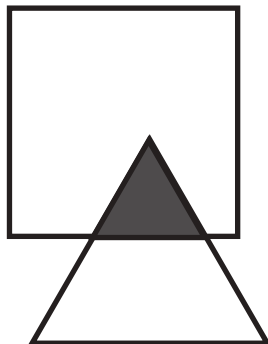
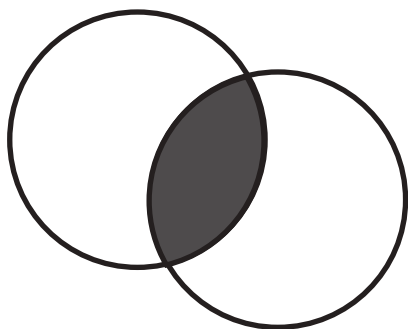


おうちで、やろう。

Study at home. 小学校受験の家庭学習教材

図形：重なり 26

2つ、もしくは3つの形がすべて重なっている場所を塗ります。



※1. このプリントは、しながわ・目黒こどもスクールのウェブサイトでダウンロードができます。無断複写・引用はご遠慮ください。
※2. このプリントを活用したオンライン授業のスケジュールは、しながわ・目黒こどもスクールのウェブサイトでご確認ください。

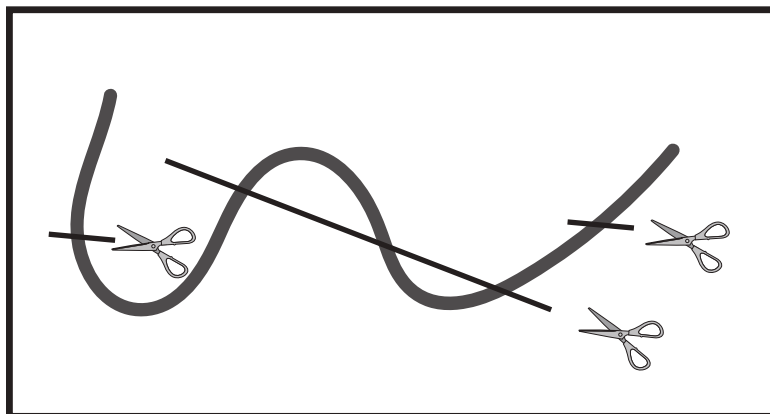


おうちで、やろう。

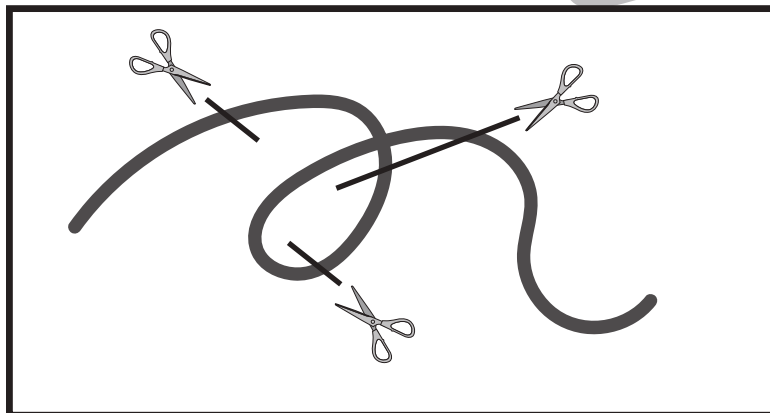
Study at home. 小学校受験の家庭学習教材

推理：紐の数3

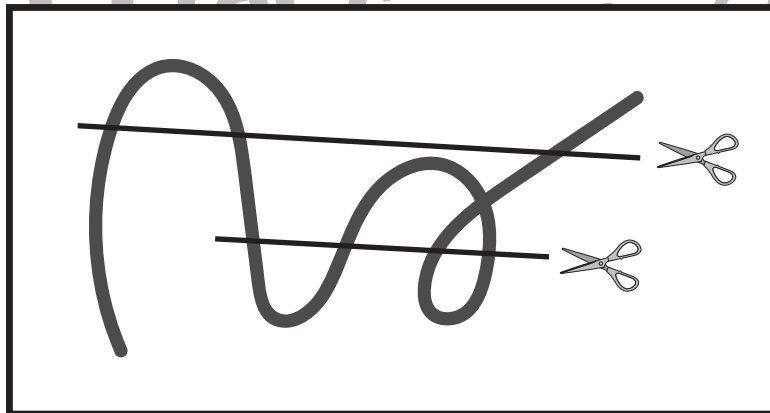
左の四角の中のひもをはさみのところで切るとひもは何本になるかを考えます。その本数だけ右の四角に○をかきます。



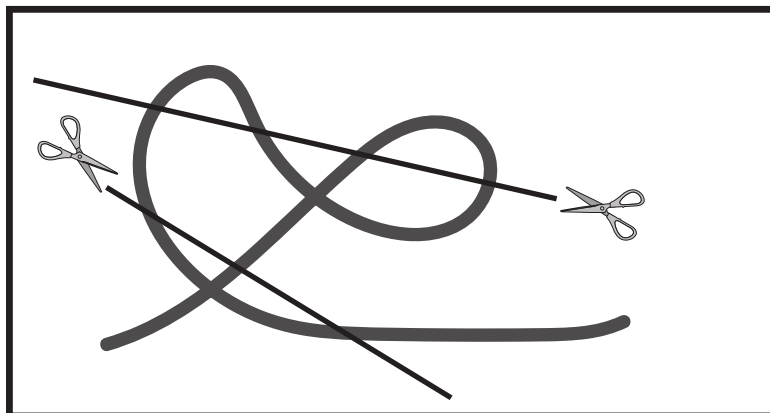
○ × 6



○ × 5



○ × 8



○ × 8

※1. このプリントは、しながわ・目黒こどもスクールのウェブサイトでダウンロードができます。無断複写・引用はご遠慮ください。

※2. このプリントを活用したオンライン授業のスケジュールは、しながわ・目黒こどもスクールのウェブサイトでご確認ください。




おうちで、やろう。

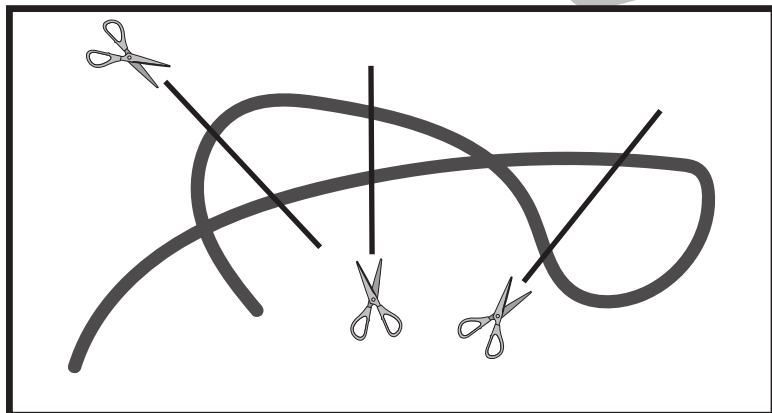
Study at home. 小学校受験の家庭学習教材

推理：紐の数4

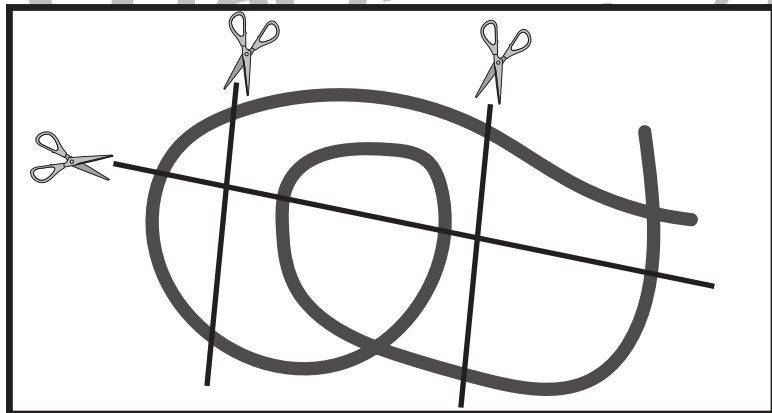
左の四角の中のひもをはさみのところで切るとひもは何本になるかを考えます。その本数だけ右の四角に○をかきます。



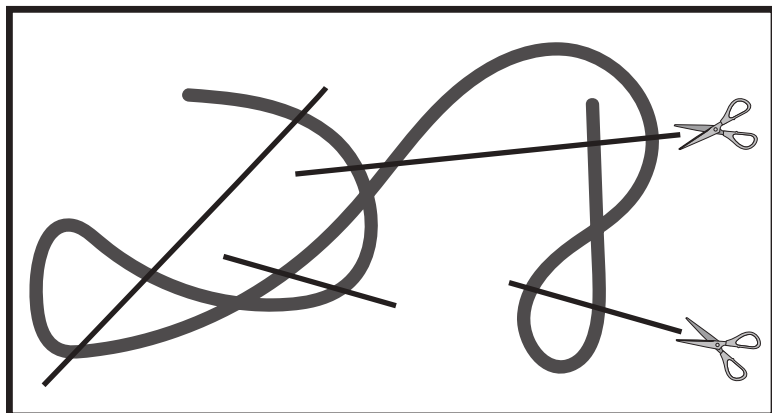
○×10



○×7



○×9



○×12

※1. このプリントは、しながわ・目黒こどもスクールのウェブサイトからダウンロードできます。無断複写・引用はご遠慮ください。
※2. このプリントを活用したオンライン授業のスケジュールは、しながわ・目黒こどもスクールのウェブサイトでご確認ください。





おうちで、やろう。

Study at home. 小学校受験の家庭学習教材

数量：分割 27


左のお手本の袋が右の四角の中のクッキーでいくつできるか考えてその数だけ〇をかきます。




〇 × 3



〇 × 4



〇 × 4



〇 × 5



〇 × 6

※1. このプリントは、しながわ・目黒こどもスクールのウェブサイトからダウンロードができます。無断複写・引用はご遠慮ください。
※2. このプリントを活用したオンライン授業のスケジュールは、しながわ・目黒こどもスクールのウェブサイトでご確認ください。

