



# おうちで、やろう。

Study at home. 小学校受験の家庭学習教材

## 指示の聞き取り 37

それぞれのお話通りになるように記号をかきます。問題は1度しか読みませんのでしっかり聞きましょう。

①丸の中に三角がぴったり入っています。そして、三角の中には四角がぴったり入っています。今のお話に合う形に○をつけましょう。

②木の左側に家があります。家の上に月が出ています。月は満月です。今のお話に合う絵の下の四角に○をかきます。

③キュウリとトマトとナスで重さ比べをします。キュウリはナスより軽く、ナスはトマトより軽いです。この中で一番軽いものは○、一番重いには△を下の四角に書きます。

①

②


③


※1. このプリントは、しながわ・目黒こどもスクールのウェブサイトダウンロードができます。無断複写・引用はご遠慮ください。

※2. このプリントを活用したオンライン授業のスケジュールは、しながわ・目黒こどもスクールのウェブサイトでご確認ください。



# おうちで、やろう。

Study at home. 小学校受験の家庭学習教材

## 記憶：絵の記憶 17

別紙『記憶 - 絵の記憶 17 記憶用紙』を使用します。記憶用紙の形を見た後に①、②、③の問題に取り組みましょう。

①②③お手本と同じになるようにマスの中を塗ったり、記号をかいたりします。(この問題に解答はありません。)

①

			■
■		■	
		■	

②

■		■	
	●		■
■		▲	

③

■		●		
		■		■
■	×			
				■

※1. このプリントは、しながわ・目黒こどもスクールのウェブサイトダウンロードができます。無断複写・引用はご遠慮ください。

※2. このプリントを活用したオンライン授業のスケジュールは、しながわ・目黒こどもスクールのウェブサイトでご確認ください。



# おうちで、やろう。

Study at home. 小学校受験の家庭学習教材

## 記憶：絵の記憶 17

別紙『記憶 - 絵の記憶 17 記憶用紙』を使用します。記憶用紙の形を見た後に①、②、③の問題に取り組みましょう。

①②③お手本と同じになるようにマスの中を塗ったり、記号をかいたりします。(この問題に解答はありません。)

①


②


③


※1. このプリントは、しながわ・目黒こどもスクールのウェブサイトでダウンロードができます。無断複写・引用はご遠慮ください。

※2. このプリントを活用したオンライン授業のスケジュールは、しながわ・目黒こどもスクールのウェブサイトでご確認ください。



# おうちで、やろう。

Study at home. 小学校受験の家庭学習教材

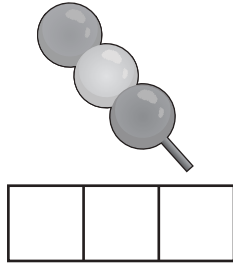
## 言語：音の理解 48

もの名前の音の数だけ、その絵の下にマス目があります。それぞれの左の四角がお手本です。  
お手本の印があるマスの音を考えて、右の四角の絵の同じ音のマスに同じ印をかきます。

①




		○	
--	--	---	--



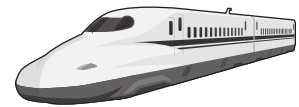
--	--	--



--	--	--	--




--	--	--




--	--	--	--	--	--

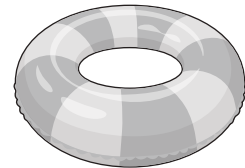
②



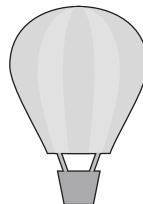
			○	△
--	--	--	---	---




--	--	--



--	--	--



--	--	--



--	--	--	--

※1. このプリントは、しながわ・目黒こどもスクールのウェブサイトでダウンロードができます。無断複写・引用はご遠慮ください。  
※2. このプリントを活用したオンライン授業のスケジュールは、しながわ・目黒こどもスクールのウェブサイトでご確認ください。



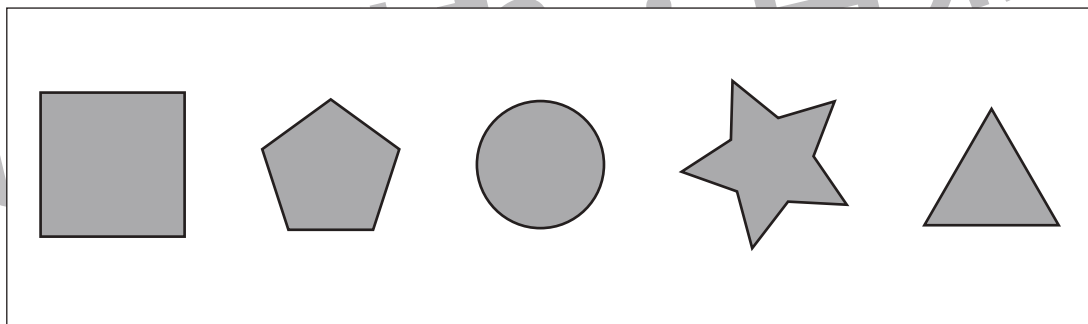
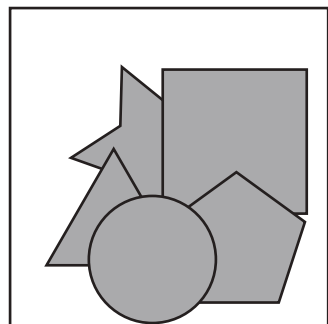
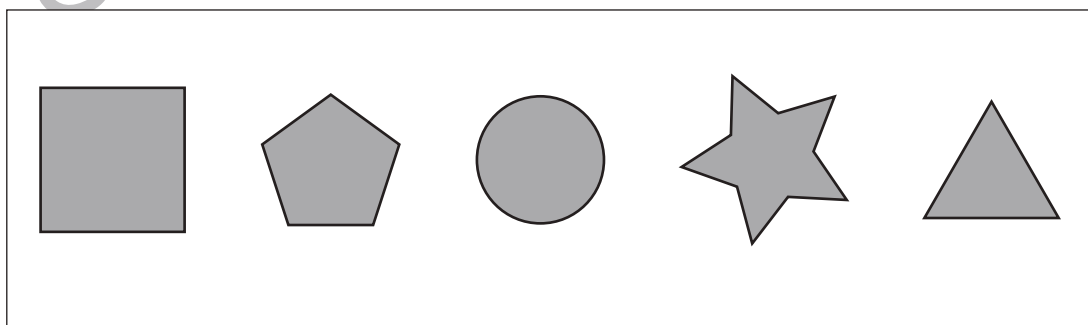
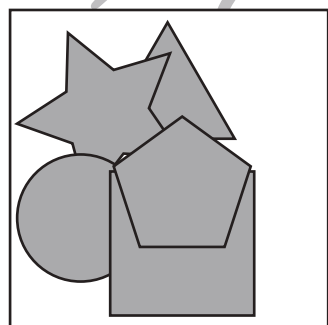
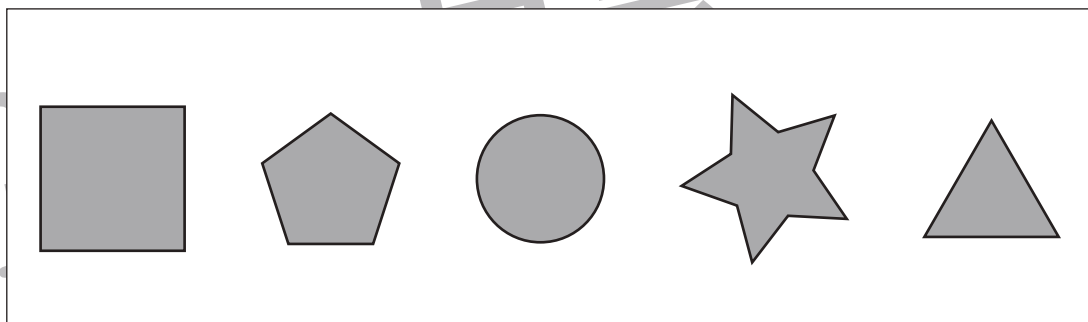

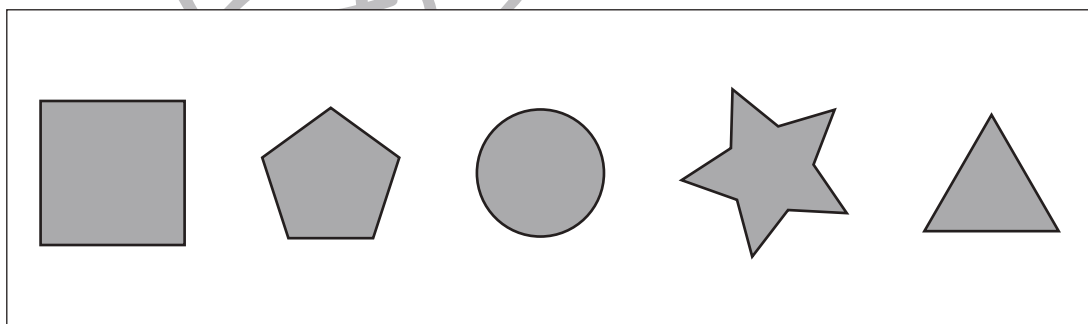
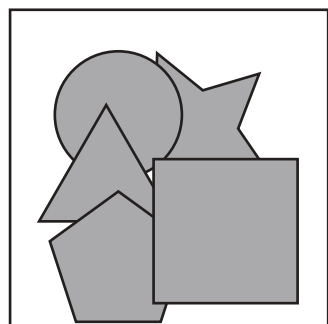
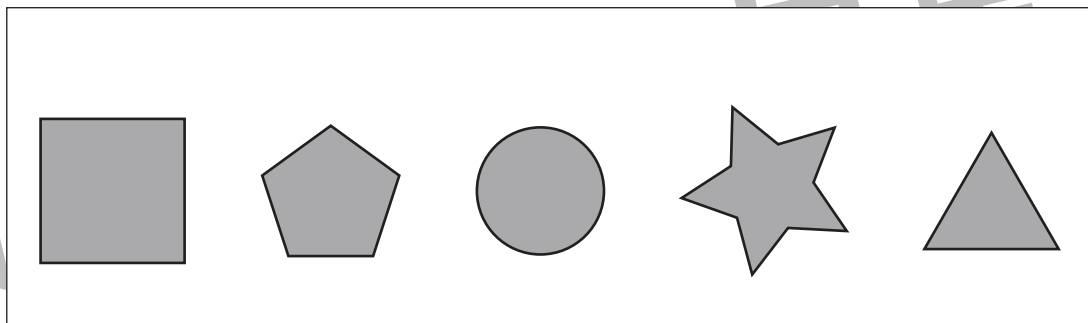
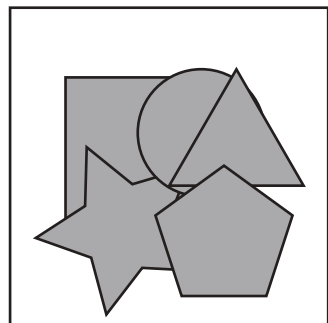


# おうちで、よろう。

Study at home. 小学校受験の家庭学習教材

## 図形：重なり 24

左の太い四角の中には色々な形が重なっています。1番下にある形を右の中から見つけて○をつけます。



※1. このプリントは、しながわ・目黒こどもスクールのウェブサイトでダウンロードができます。無断複写・引用はご遠慮ください。  
※2. このプリントを活用したオンライン授業のスケジュールは、しながわ・目黒こどもスクールのウェブサイトでご確認ください。



# おうちで、よろう。

Study at home. 小学校受験の家庭学習教材

## 図形：重なり 25

左の太い四角の中には色々な形が重なっています。下から2番目にある形を右の中から見つけて○をつけます。


※1. このプリントは、しながわ・目黒こどもスクールのウェブサイトからダウンロードできます。無断複写・引用はご遠慮ください。

※2. このプリントを活用したオンライン授業のスケジュールは、しながわ・目黒こどもスクールのウェブサイトでご確認ください。


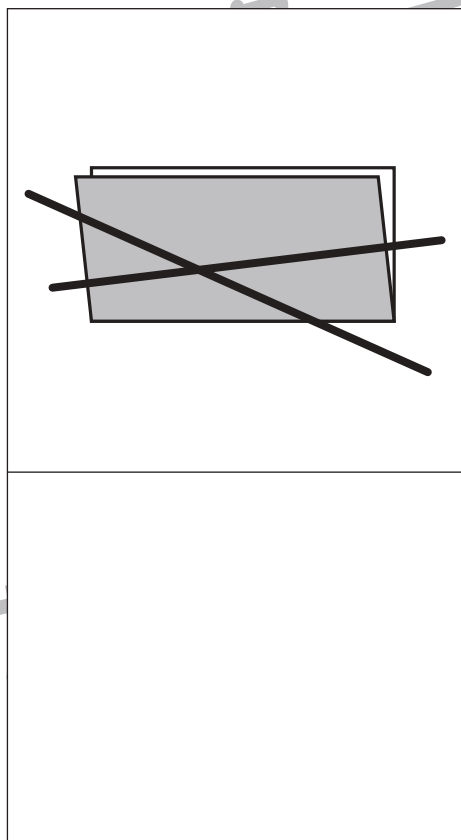
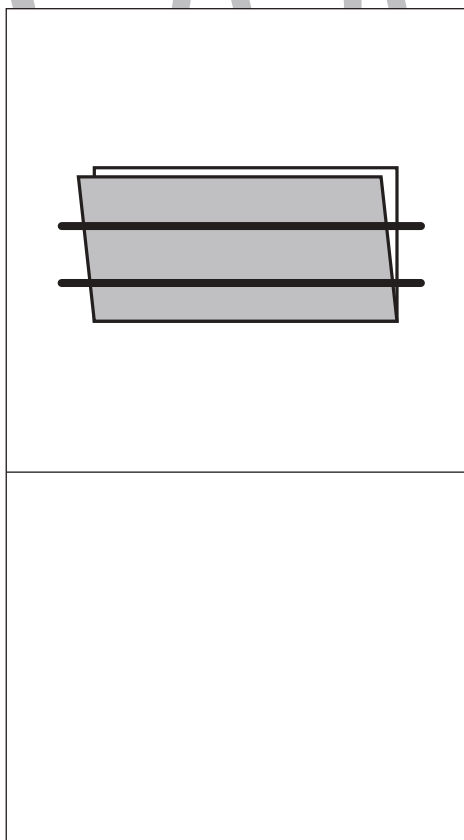
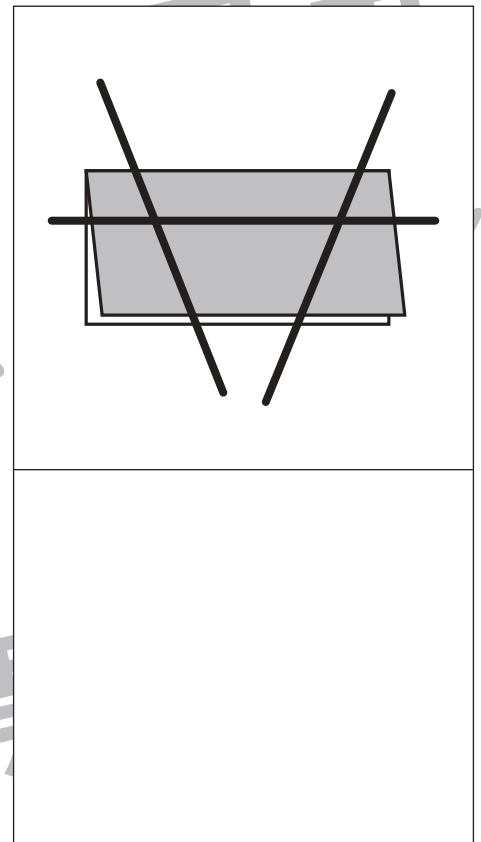
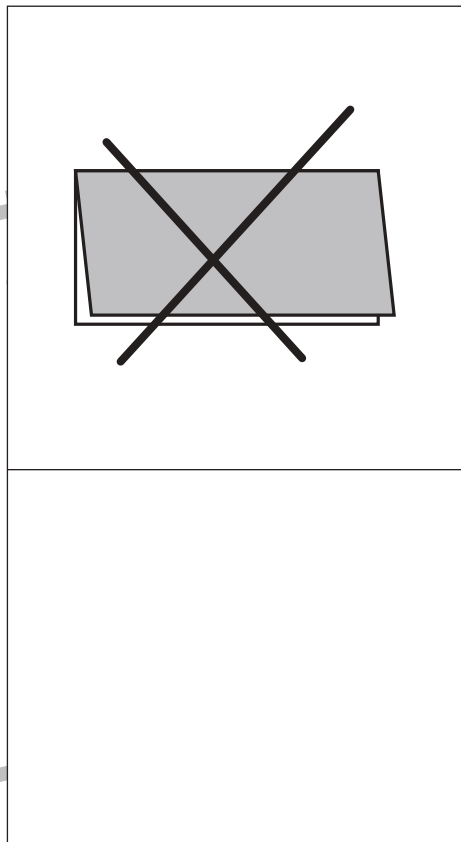
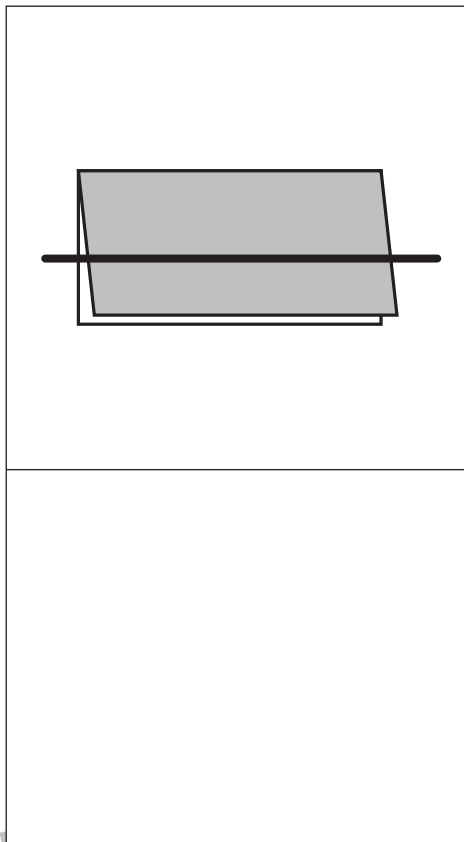


# おうちで、やろう。

Study at home. 小学校受験の家庭学習教材

## 図形：折り紙 12

半分に折った折り紙を太線ではさみで切ります。切った後、折り紙は何枚になりますか。その数だけ、下の四角に○をかきます。



※1. このプリントは、しながわ・目黒こどもスクールのウェブサイトでダウンロードができます。無断複写・引用はご遠慮ください。  
※2. このプリントを活用したオンライン授業のスケジュールは、しながわ・目黒こどもスクールのウェブサイトでご確認ください。

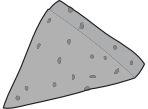




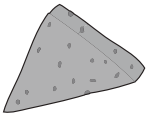


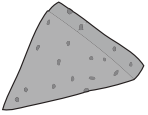




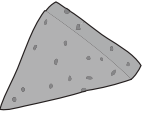





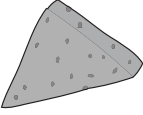
# おうちで、やろう。

Study at home. 小学校受験の家庭学習教材

数量：対応 11

上の四角が約束です。それぞれのおでんは、矢印の右にある○の数のコインで買うことができます。この約束のとき、左の四角のおでんを買うには何枚のコインが必要ですか。その数だけ右の四角に○をかきます。

 → ○	 → ○○	 → ○○○
---------------------------------------------------------------------------------------	----------------------------------------------------------------------------------------	-------------------------------------------------------------------------------------------

※1. このプリントは、しながわ・目黒こどもスクールのウェブサイトでダウンロードができます。無断複写・引用はご遠慮ください。

※2. このプリントを活用したオンライン授業のスケジュールは、しながわ・目黒こどもスクールのウェブサイトでご確認ください。



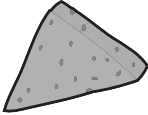




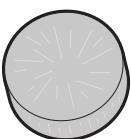


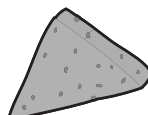





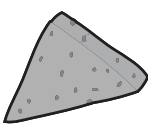







# おうちで、やろう。

Study at home. 小学校受験の家庭学習教材

数量：対応 12

上の四角が約束です。それぞれのおでんは、矢印の右にある○の数のコインで買うことができます。この約束のとき、左の四角のおでんを買うには何枚のコインが必要ですか。その数だけ右の四角に○をかきます。

 → ○○	 → ○○○	 → ○
 → ○○	 → ○	 → ○○○

※1. このプリントは、しながわ・目黒こどもスクールのウェブサイトでダウンロードができます。無断複写・引用はご遠慮ください。

※2. このプリントを活用したオンライン授業のスケジュールは、しながわ・目黒こどもスクールのウェブサイトでご確認ください。

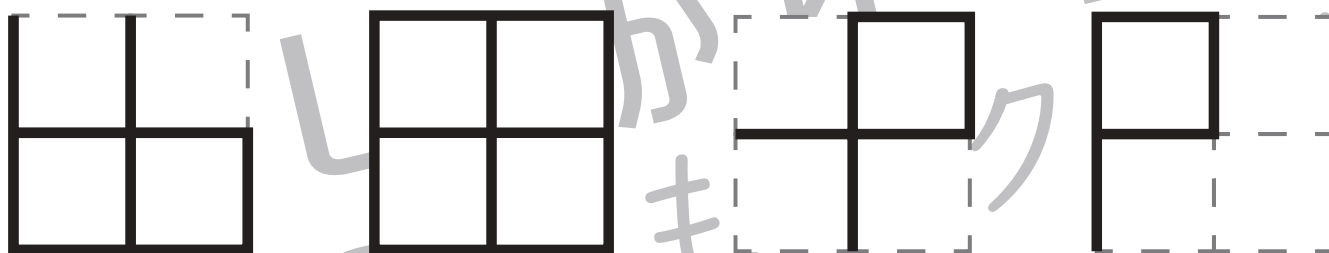
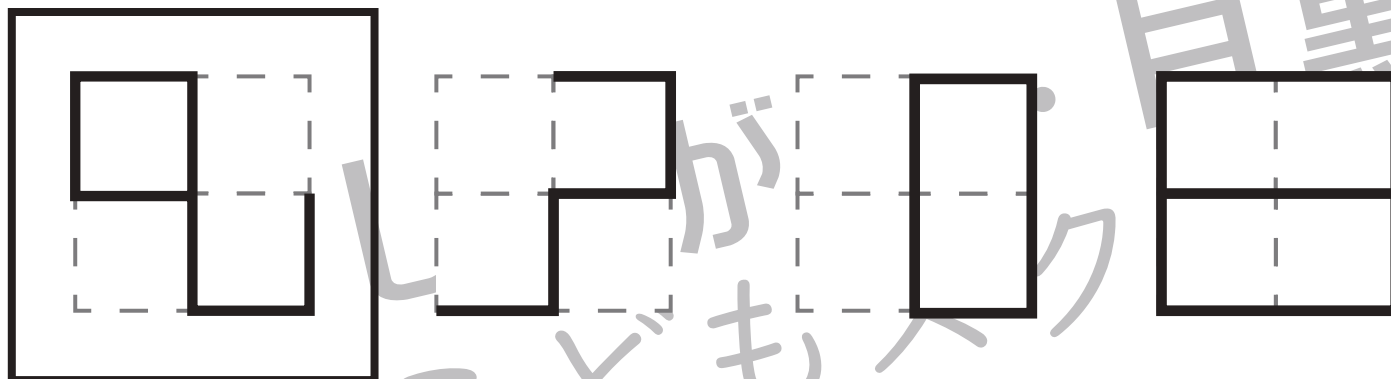


# おうちで、やろう。

Study at home. 小学校受験の家庭学習教材

数量：長さ7

左上の太い四角の中の線の長さを考えます。このお手本の長さよりも長い線を見つけて○をつけます。



※1. このプリントは、しながわ・目黒こどもスクールのウェブサイトでダウンロードができます。無断複写・引用はご遠慮ください。  
※2. このプリントを活用したオンライン授業のスケジュールは、しながわ・目黒こどもスクールのウェブサイトでご確認ください。




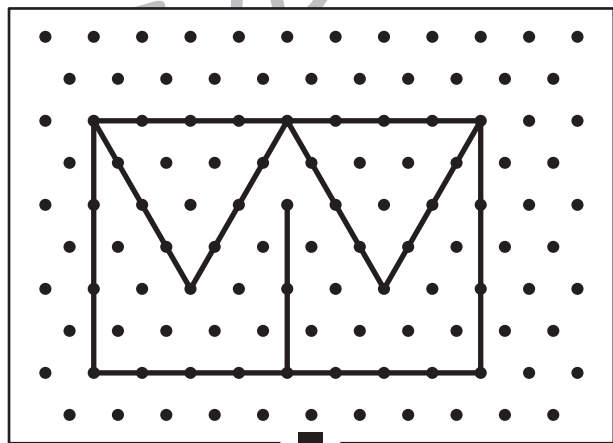

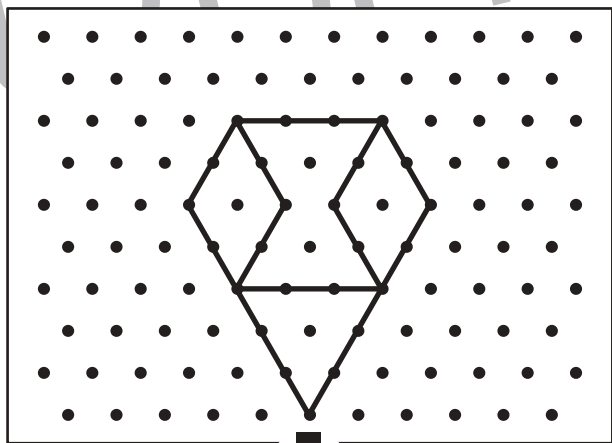

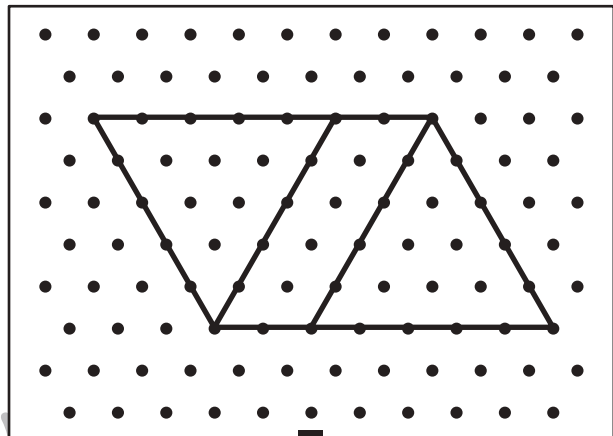

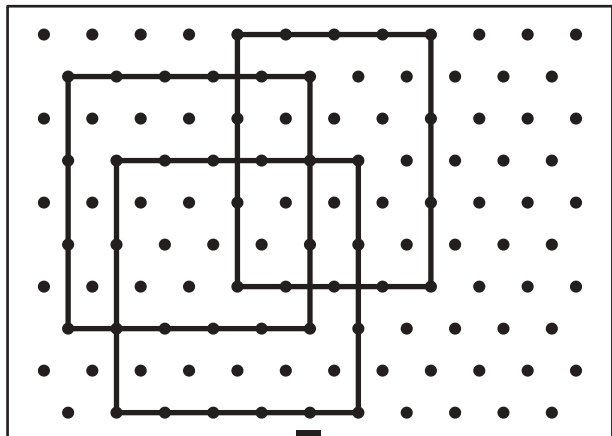


# おうちで、よろう。

Study at home. 小学校受験の家庭学習教材

## 図形：点図形 58

上のお手本と同じになるように下の四角の点と点を結びます。※このプリントに解答はありません。



※1. このプリントは、しながわ・目黒こどもスクールのウェブサイトでダウンロードができます。無断複写・引用はご遠慮ください。

※2. このプリントを活用したオンライン授業のスケジュールは、しながわ・目黒こどもスクールのウェブサイトでご確認ください。

