



おうちで、やろう。

Study at home. 小学校受験の家庭学習教材

指示の聞き取り 37

それぞれのお話通りになるように記号をかきます。問題は1度しか読みませんのでしっかり聞きましょう。

①丸の中に三角がぴったり入っています。そして、三角の中には四角がぴったり入っています。今のお話に合う形に○をつけましょう。

②木の左側に家があります。家の上に月が出ています。月は満月です。今のお話に合う絵の下の四角に○をかきます。

③キュウリとトマトとナスで重さ比べをします。キュウリはナスより軽く、ナスはトマトより軽いです。この中で一番軽いものは○、一番重いには△を下の四角に書きます。

①

②

③

※1. このプリントは、しながわ・目黒こどもスクールのウェブサイトダウンロードができます。無断複写・引用はご遠慮ください。

※2. このプリントを活用したオンライン授業のスケジュールは、しながわ・目黒こどもスクールのウェブサイトでご確認ください。





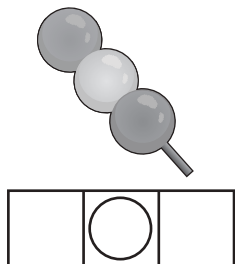
おうちで、やろう。

Study at home. 小学校受験の家庭学習教材


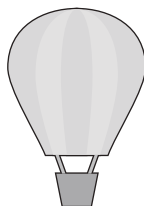
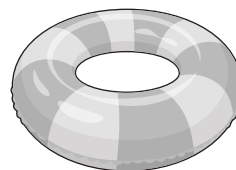


言語：音の理解 48

もの名前の音の数だけ、その絵の下にマス目があります。それぞれの左の四角がお手本です。お手本の印があるマスの音を考えて、右の四角の絵の同じ音のマスに同じ印をかきます。

①



②



※1. このプリントは、しながわ・目黒こどもスクールのウェブサイトからダウンロードできます。無断複写・引用はご遠慮ください。

※2. このプリントを活用したオンライン授業のスケジュールは、しながわ・目黒こどもスクールのウェブサイトでご確認ください。



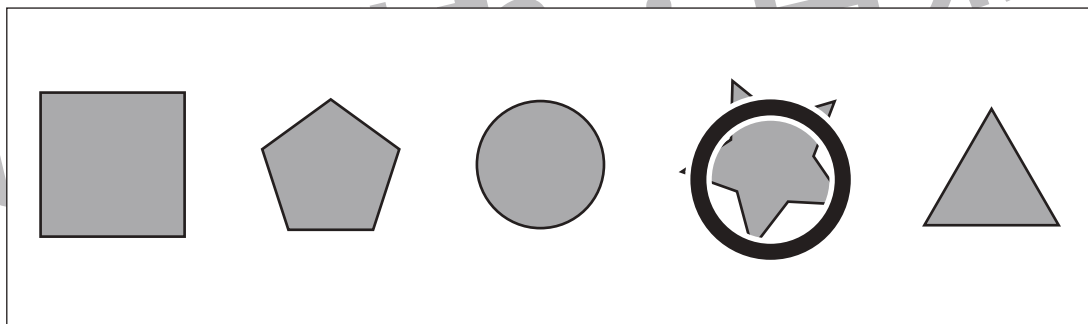
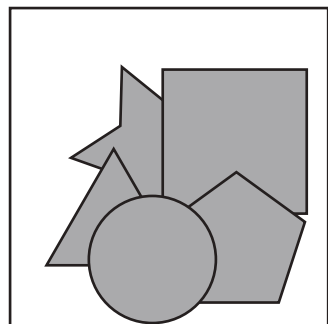
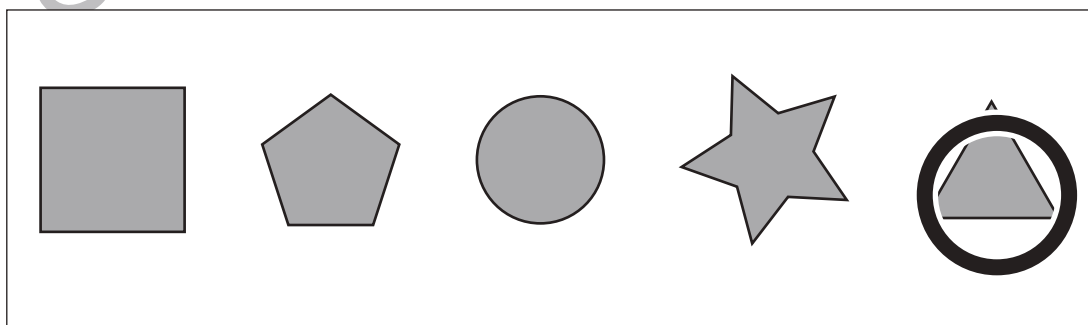
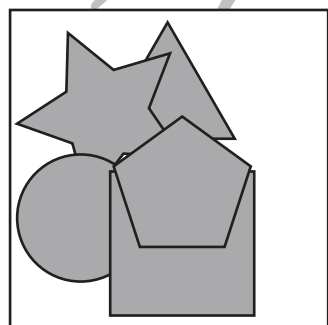
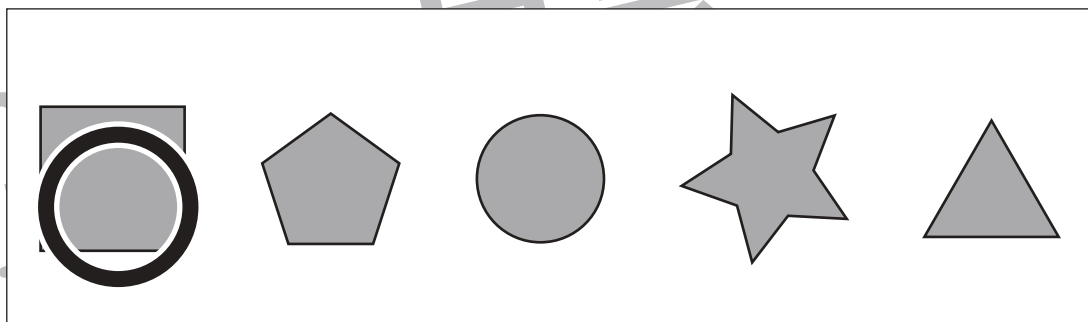

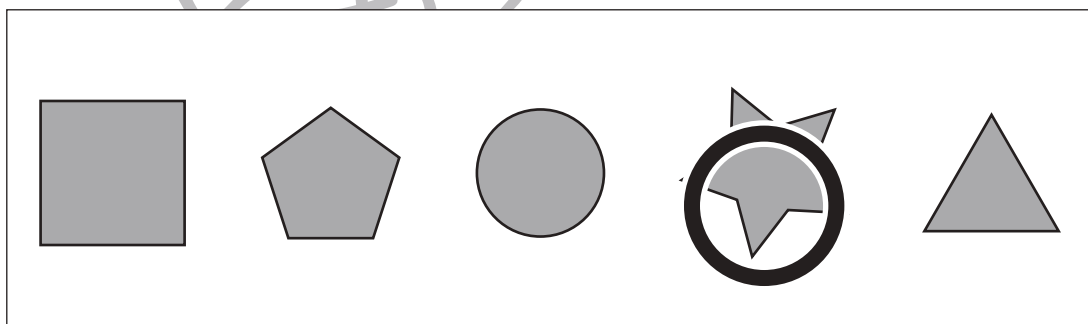
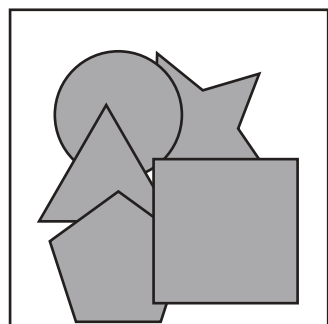
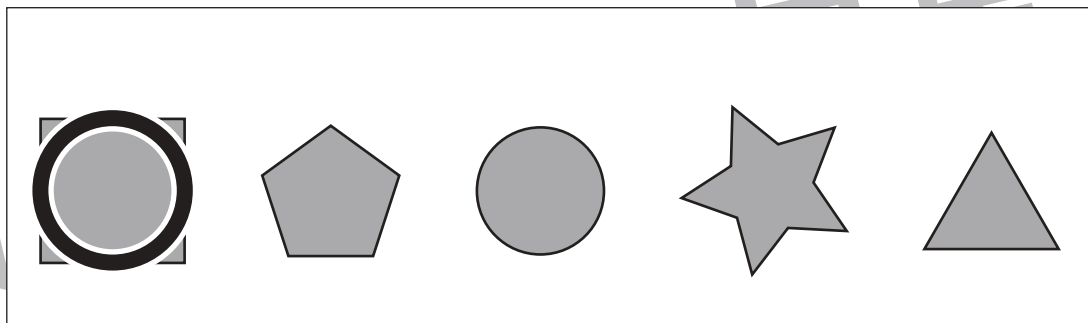
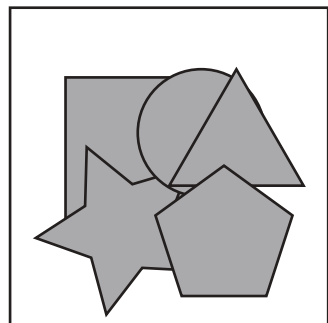


おうちで、やろう。

Study at home. 小学校受験の家庭学習教材

図形：重なり 24

左の太い四角の中には色々な形が重なっています。1番下にある形を右の中から見つけて○をつけます。



※1. このプリントは、しながわ・目黒こどもスクールのウェブサイトでダウンロードができます。無断複写・引用はご遠慮ください。
※2. このプリントを活用したオンライン授業のスケジュールは、しながわ・目黒こどもスクールのウェブサイトでご確認ください。



おうちで、よろう。

Study at home. 小学校受験の家庭学習教材

図形：重なり 25

左の太い四角の中には色々な形が重なっています。下から2番目にある形を右の中から見つけて○をつけます。

※1. このプリントは、しながわ・目黒こどもスクールのウェブサイトでダウンロードができます。無断複写・引用はご遠慮ください。

※2. このプリントを活用したオンライン授業のスケジュールは、しながわ・目黒こどもスクールのウェブサイトでご確認ください。


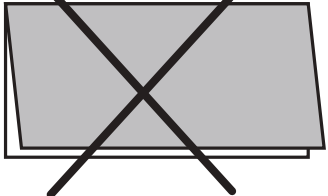
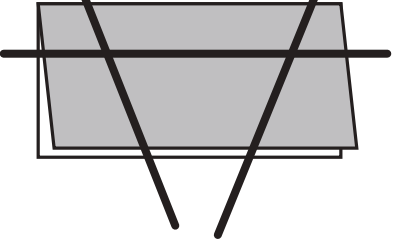

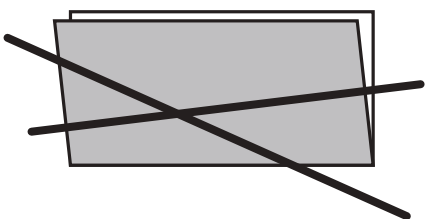
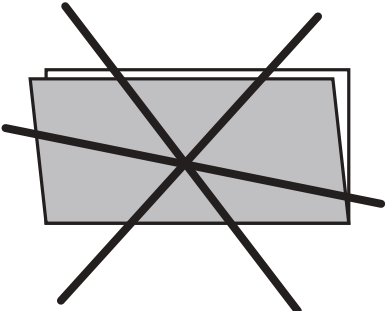


おうちで、やろう。

Study at home. 小学校受験の家庭学習教材

図形：折り紙 12

半分に折った折り紙を太線ではさみで切ります。切った後、折り紙は何枚になりますか。その数だけ、下の四角に○をかきます。

		
○ × 3	○ × 5	○ × 9
		
○ × 5	○ × 6	○ × 9

※1. このプリントは、しながわ・目黒こどもスクールのウェブサイトでダウンロードができます。無断複写・引用はご遠慮ください。

※2. このプリントを活用したオンライン授業のスケジュールは、しながわ・目黒こどもスクールのウェブサイトでご確認ください。

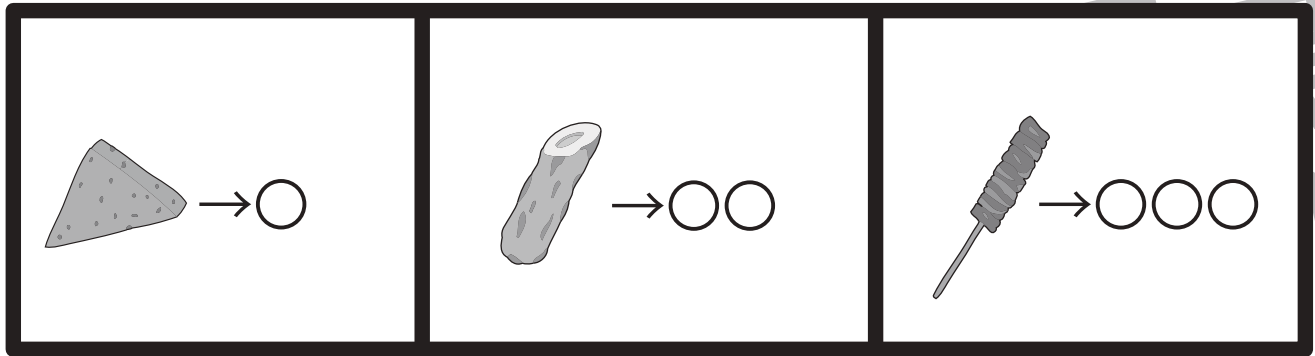


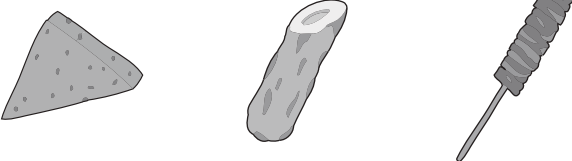
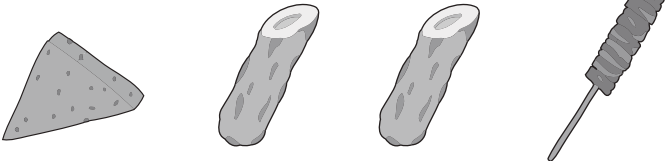
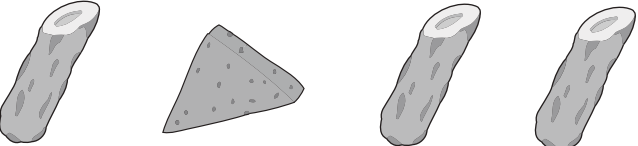
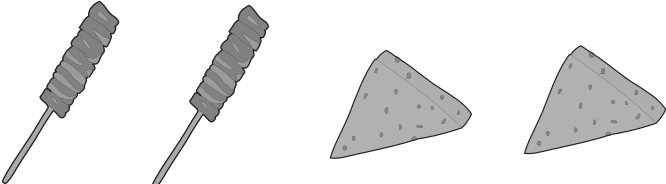
おうちで、やろう。

Study at home. 小学校受験の家庭学習教材

数量：対応 11

上の四角が約束です。それぞれのおでんは、矢印の右にある○の数のコインで買うことができます。この約束のとき、左の四角のおでんを買うには何枚のコインが必要ですか。その数だけ右の四角に○をかきます。



	$○ \times 6$
	$○ \times 8$
	$○ \times 7$
	$○ \times 8$

※1. このプリントは、しながわ・目黒こどもスクールのウェブサイトでダウンロードができます。無断複写・引用はご遠慮ください。

※2. このプリントを活用したオンライン授業のスケジュールは、しながわ・目黒こどもスクールのウェブサイトでご確認ください。

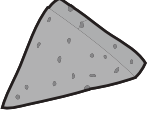


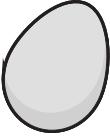

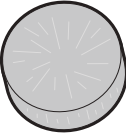


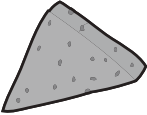





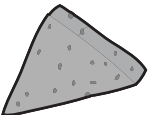


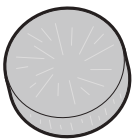


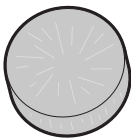

おうちで、やろう。

Study at home. 小学校受験の家庭学習教材

数量：対応 12

上の四角が約束です。それぞれのおでんは、矢印の右にある○の数のコインで買うことができます。この約束のとき、左の四角のおでんを買うには何枚のコインが必要ですか。その数だけ右の四角に○をかきます。

 → ○○	 → ○○○	 → ○
 → ○○	 → ○	 → ○○○

  	○ × 6
  	○ × 6
   	○ × 8
   	○ × 9

※1. このプリントは、しながわ・目黒こどもスクールのウェブサイトでダウンロードができます。無断複写・引用はご遠慮ください。

※2. このプリントを活用したオンライン授業のスケジュールは、しながわ・目黒こどもスクールのウェブサイトでご確認ください。

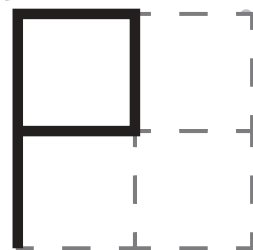
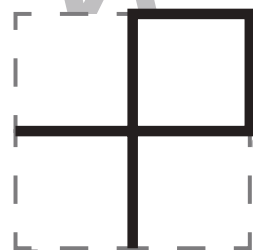
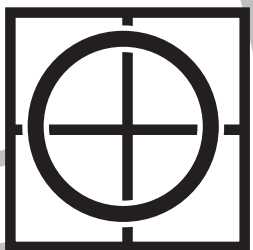

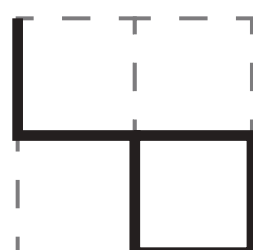
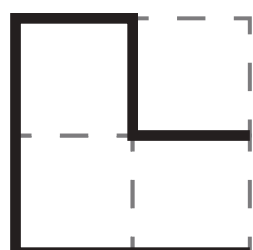
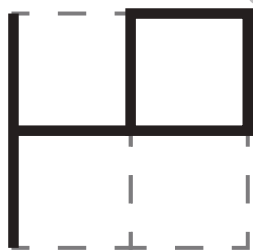
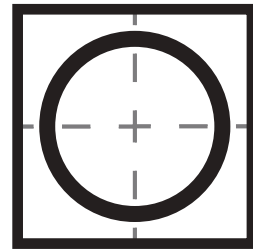
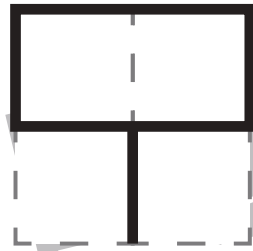





おうちで、やろう。

Study at home. 小学校受験の家庭学習教材

数量：長さ7

左上の太い四角の中の線の長さを考えます。このお手本の長さよりも長い線を見つけて○をつけます。



※1. このプリントは、しながわ・目黒こどもスクールのウェブサイトでダウンロードができます。無断複写・引用はご遠慮ください。
※2. このプリントを活用したオンライン授業のスケジュールは、しながわ・目黒こどもスクールのウェブサイトでご確認ください。