








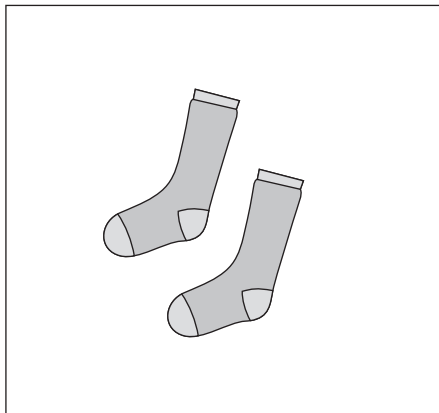


# おうちで、やろう。

Study at home. 小学校受験の家庭学習教材

常識：仲間はずれ1

左の四角の中の絵と仲間でないものを、右の四角の中から見つけて○をつけます。  
※理由も話してみましょう。



※1. このプリントは、しながわ・目黒こどもスクールのウェブサイトからダウンロードができます。無断複写・引用はご遠慮ください。

※2. このプリントを活用したオンライン授業のスケジュールは、しながわ・目黒こどもスクールのウェブサイトでご確認ください。



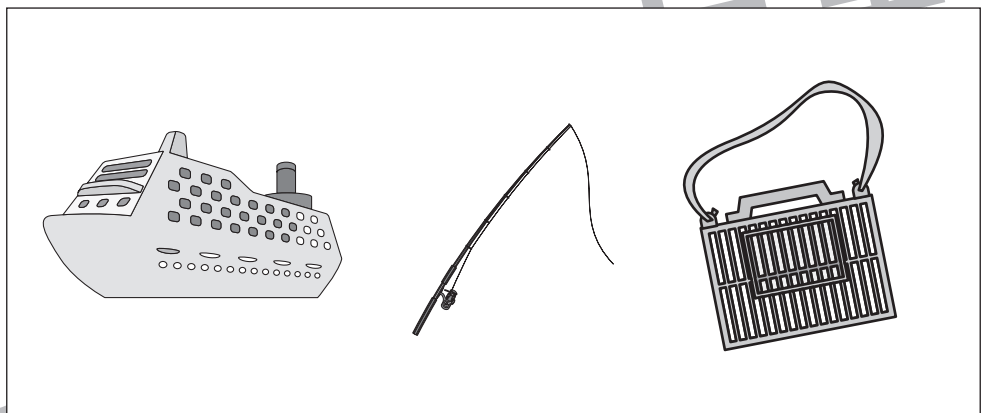






# おうちで、やろう。

Study at home. 小学校受験の家庭学習教材

## 常識：仲間はずれ2

左の四角の中の絵と仲間でないものを、右の四角の中から見つけて○をつけます。  
※理由も話してみましょう。



※1. このプリントは、しながわ・目黒こどもスクールのウェブサイトからダウンロードができます。無断複写・引用はご遠慮ください。

※2. このプリントを活用したオンライン授業のスケジュールは、しながわ・目黒こどもスクールのウェブサイトでご確認ください。






# おうちで、やろう。

Study at home. 小学校受験の家庭学習教材

推理：左右1

下の絵で右手を見つけて○をつけます。



※1. このプリントは、しながわ・目黒こどもスクールのウェブサイトからダウンロードできます。無断複写・引用はご遠慮ください。

※2. このプリントを活用したオンライン授業のスケジュールは、しながわ・目黒こどもスクールのウェブサイトでご確認ください。




おうちで、やろう。

Study at home. 小学校受験の家庭学習教材

推理：左右2

下の絵で左手を見つけて○をつけます。



※1. このプリントは、しながわ・目黒こどもスクールのウェブサイトからダウンロードできます。無断複写・引用はご遠慮ください。

※2. このプリントを活用したオンライン授業のスケジュールは、しながわ・目黒こどもスクールのウェブサイトでご確認ください。





# おうちで、よろう。

Study at home. 小学校受験の家庭学習教材

数量：計数4

四角の中の絵の数が8ではないものに○をつけます。


※1. このプリントは、しながわ・目黒こどもスクールのウェブサイトでダウンロードができます。無断複写・引用はご遠慮ください。

※2. このプリントを活用したオンライン授業のスケジュールは、しながわ・目黒こどもスクールのウェブサイトでご確認ください。

























































# おうちで、やろう。

Study at home. 小学校受験の家庭学習教材

数量：置き換え 1

上の太い四角が約束で、★のコインはどんぐり2つ、♥のコインはどんぐり3つと交換できます。このとき、リスはどんぐりをいくつかもらうことができますか。その数だけ、右の四角の中のどんぐりに○をつけます。



※1. このプリントは、しながわ・目黒こどもスクールのウェブサイトでダウンロードができます。無断複写・引用はご遠慮ください。

※2. このプリントを活用したオンライン授業のスケジュールは、しながわ・目黒こどもスクールのウェブサイトでご確認ください。







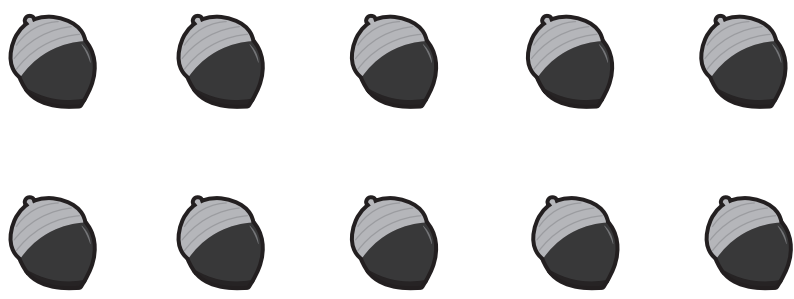



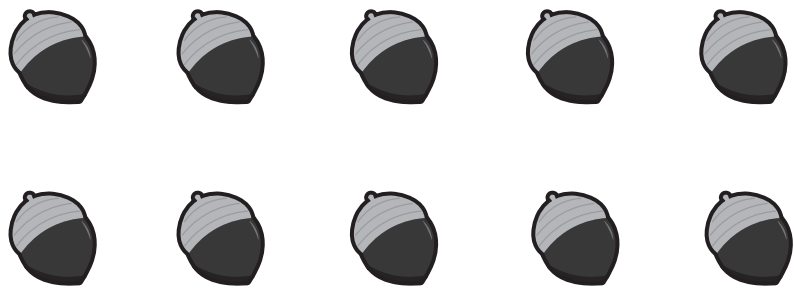








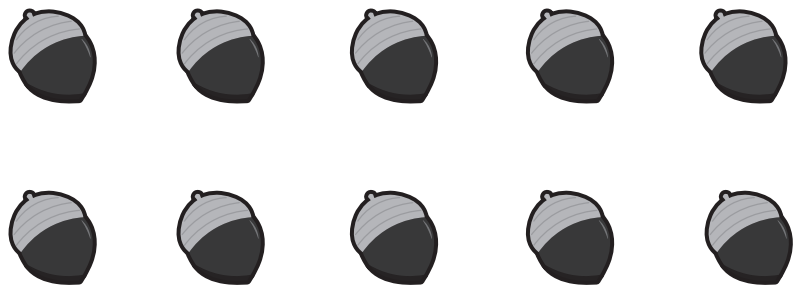
# おうちで、やろう。

Study at home. 小学校受験の家庭学習教材

## 数量：置き換え2

上の太い四角が約束で、★のコインはどんぐり3つ、♥のコインはどんぐりつ4と交換できます。このとき、リスはどんぐりをいくつもらうことができますか。その数だけ、右の四角の中のどんぐりに○をつけます。



※1. このプリントは、しながわ・目黒こどもスクールのウェブサイトでダウンロードができます。無断複写・引用はご遠慮ください。

※2. このプリントを活用したオンライン授業のスケジュールは、しながわ・目黒こどもスクールのウェブサイトでご確認ください。



# おうちで、やろう。

Study at home. 小学校受験の家庭学習教材

数量：同数1

四角の中の絵の数が同じものに○をつけます。


※1. このプリントは、しながわ・目黒こどもスクールのウェブサイトからダウンロードできます。無断複写・引用はご遠慮ください。

※2. このプリントを活用したオンライン授業のスケジュールは、しながわ・目黒こどもスクールのウェブサイトでご確認ください。










# おうちで、やろう。

Study at home. 小学校受験の家庭学習教材

運筆：模写2

左の四角の中の絵がお手本です。お手本と同じ大きさ、形になるように左の四角にかきます。  
※この問題に解答はありません。



※1. このプリントは、しながわ・目黒こどもスクールのウェブサイトからダウンロードできます。無断複写・引用はご遠慮ください。

※2. このプリントを活用したオンライン授業のスケジュールは、しながわ・目黒こどもスクールのウェブサイトでご確認ください。











# おうちで、やろう。

Study at home. 小学校受験の家庭学習教材

運筆：模写3

左の四角の中の絵がお手本です。お手本と同じ大きさ、形になるように左の四角にかきます。  
※この問題に解答はありません。



※1. このプリントは、しながわ・目黒こどもスクールのウェブサイトでダウンロードができます。無断複写・引用はご遠慮ください。  
※2. このプリントを活用したオンライン授業のスケジュールは、しながわ・目黒こどもスクールのウェブサイトでご確認ください。

